



↓ تم تحميل ملف المادة من مكتبة طلابنا
زورونا على الموقع

www.tlabna.net

مكتبه طلابنا تقدم لكم كل ما يحتاج المعلم والمعلمه والطلبة , الطبعات الجديده للكتب والحلول ونماذج الاختبارات والتحاثير وشروحات الدروس بصيغة الورد والبي دي اف وكذلك عروض البوربوينت.

- قررت وزارة التعليم تدريس
- هذا الكتاب وطبعه على نفقتها

العلوم

الصف الثاني المتوسط - الفصل الدراسي الأول



قام بالتأليف والمراجعة
فريق من المتخصصين

يُوزع مجاناً للإتباع

طبعة ١٤٤٢ - ٢٠٢٠



ح) وزارة التعليم ، ١٤٣٧هـ

فهرسة مكتبة الملك فهد الوطنية أثناء النشر
وزارة التعليم

العلوم للصف الثاني المتوسط (الفصل الدراسي الأول) / وزارة التعليم.
الرياض ، ١٤٣٧هـ .

٢١٦ ص ٢٧,٥ X ٢١١ سم

ردمك : ٩٧٨-٦٠٣-٥٠٨-١٨٧-٠٠

١- العلوم - كتب دراسية ٢- التعليم المتوسط - السعودية -

كتب دراسية. أ - العنوان

١٤٣٧/٣٣٨٢

ديوي ١٣, ٥٠٧

رقم الإيداع : ١٤٣٧/٣٣٨٢

ردمك : ٩٧٨-٦٠٣-٥٠٨-١٨٧-٠٠

حقوق الطبع والنشر محفوظة لوزارة التعليم
www.moe.gov.sa

مواد إلكترونية وداعمة على "منصة عين"



IEN.EDU.SA

تواصل بمقترحاتك لتطوير الكتاب المدرسي



FB.T4EDU.COM



بِسْمِ اللَّهِ الرَّحْمَنِ الرَّحِيمِ

الحمد لله رب العالمين والصلاة والسلام على أشرف الأنبياء والمرسلين وعلى آله وصحبه أجمعين وبعد: تهتم العلوم الطبيعية بدراسة الظواهر المادية على الأرض، وفي الكون المحيط بنا، وتشكل أساساً للعلوم التطبيقية، وتسهم معها في تقدم الأمم ورفي الشعوب، وتحقيق الرفاهية للإنسان؛ فالعلم هو مفتاح النجاح والتنمية. ولهذا يحظى تعليم العلوم الطبيعية بمكانة خاصة في الأنظمة التربوية؛ حيث تُكرّس الإمكانيات لتحسين طرق تدريسها، وتطوير مضمونها وتنظيمها وفق أحدث التوجهات التربوية، وتطوير وتوفير المواد التعليمية التي تساعد المعلمين والطلاب على تحقيق أهداف تدريس هذه المادة على الوجه الأكمل والأمثل.

ويأتي اهتمام المملكة العربية السعودية بتطوير المناهج وتحديثها من منطلق أحد التزامات رؤية المملكة العربية السعودية (٢٠٣٠) وهو: «إعداد مناهج تعليمية متطورة تركز على المهارات الأساسية بالإضافة إلى تطوير المواهب وبناء الشخصية»؛ وذلك من منطلق تطوير التعليم وتحسين مخرجاته ومواكبة التطورات العالمية على مختلف الصعد.

وقد جاء كتاب العلوم للصف الثاني المتوسط بجزأيه الأول والثاني لدعم رؤية المملكة العربية السعودية (٢٠٣٠) نحو الاستثمار في التعليم عبر «ضمان حصول كل طالب على فرص التعليم الجيد وفق خيارات متنوعة»، فبنية وتنظيم المحتوى يستند إلى معايير المحتوى الخاصة بهذا الصف، ويستند كذلك إلى أحدث نظريات التعلم والممارسات التدريسية الفاعلة على المستوى العالمي. كما تجعل الطالب محور العملية التعليمية التعلمية، فيتعلم الطالب في هذا الكتاب من خلال ممارساته النشاطات العملية والبحث والاستقصاء بمستوياته المختلفة. والأمر نفسه للمعلم، فقد تغير دوره من مصدر يدور حوله التعليم إلى موجه وميسر لتعلم الطلاب. ولهذا جاءت أهداف هذا الكتاب لتؤكد على تشجيع الطلاب على طرح التساؤلات لفهم الظواهر الطبيعية المحيطة بهم وتفسيرها، وتزويدهم بالمعارف والمهارات والاتجاهات الإيجابية للمشاركة الفاعلة، وتزويد الطلاب بالمعارف والمهارات اللازمة لوظائف المستقبل. وقد جاء هذا الكتاب في ست وحدات، هي: دراسة المادة، والمادة والطاقة، وأجهزة جسم الإنسان-١، وأجهزة جسم الإنسان-٢، والنباتات وموارد البيئة، والطاقة الحرارية والموجات.

وقد جاء تنظيم وبناء محتوى كتاب الطالب بأسلوب مشوق، وبطريقة تشجع الطالب على القراءة الواعية والنشطة، وتسهّل عليه بناء أفكاره وتنظيمها، وممارسة العلم كما يُمارسه العلماء، وبما يُعزز أيضاً مبدأ رؤية (٢٠٣٠) «نتعلم لنعمل». تبدأ كل وحدة دراسية بسؤال استهلاكي مفتوح، وخلفية نظرية، ومشاريع الوحدة التي تدور حول تاريخ العلم، والتقنية، وبناء النماذج، وتوظيف الشبكة الإلكترونية في البحث، وتتضمن كل وحدة عددًا من الفصول، يبدأ كل منها بصورة افتتاحية تساعد المعلم على التمهيد

لموضوع الفصل من خلال مناقشة مضمون الصورة، وتسهم في تكوين فكرة عامة لدى الطلاب حول موضوعات الفصل، ثم نشاطات تمهيدية تشمل: التجربة الاستهلاكية، المطويات، والتهيئة للقراءة، ثم ينتهي بمراجعة الفصل. ويتضمن الفصل عددًا من الدروس، يشتمل كل منها على افتتاحية تحتوي على أهداف الدرس، وأهميته، ومراجعة المفردات السابقة، والمفردات الجديدة. وفي متن الدرس يجد الطالب شرحًا وتفسيرًا للمحتوى الذي تم تنظيمه على شكل عناوين رئيسة وفرعية بألوان معبرة، وهوامش تساعد على استكشاف المحتوى، وارتباطه بمحاور رؤية (٢٠٣٠) وأهدافها الاستراتيجية. تُعنى الدروس ببناء المهارات العملية والعلمية من خلال التجارب العملية، والتطبيقات الخاصة ببناء المهارات في الرياضيات والعلوم. ويختتم كل درس بمراجعة تتضمن ملخصًا لأبرز الأفكار الواردة في الدرس، واختبر نفسك. ويدعم عرض المحتوى في الكتاب الكثير من الصور والأشكال والرسوم التوضيحية المختارة والمعدة بعناية لتوضيح المادة العلمية وتعزيز فهم مضامينها. كما يتضمن كتاب الطالب ملحقات خاصة بمصادر تعلم الطالب، ومسردًا بالمصطلحات.

وقد وُظف التقييم على اختلاف مراحلها بكفاءة وفاعلية، فقد راعى تنوع أدواته وأغراضه، ومن ذلك: القبلي (التشخيصي)، التكويني (البنائي)، والختامي (التجميعي)؛ إذ يمكن توظيف الصور الافتتاحية في كل وحدة وفصل، والأسئلة المطروحة في التجربة الاستهلاكية بوصفها تقويةً قبليًا تشخيصيًا لاستكشاف ما يعرفه الطلاب عن موضوع الفصل. ومع التقدم في دراسة كل جزء من المحتوى يُطرح سؤال تحت عنوان «ماذا قرأت؟»، وتجد تقويةً خاصًا بكل درس من دروس الفصل يتضمن أفكار المحتوى وأسئلة تساعد على تلمس جوانب التعلم وتعزيزه، وما قد يرغب الطالب في تعلمه في الأقسام اللاحقة. وفي نهاية الفصل يأتي دليل مراجعة الفصل متضمنًا تلخيصًا لأهم الأفكار الخاصة بدروس الفصل، وخريطة للمفاهيم تربط أبرز المفاهيم الرئيسية التي وردت في الدرس. يلي ذلك تقويم الفصل والذي يشمل أسئلة وفقرات متنوعة تستهدف تقويم تعلم الطالب في مجالات عدة، هي: استعمال المفردات، وتثبيت المفاهيم، والتفكير الناقد، وأنشطة لتقويم الأداء. كما يتضمن الكتاب في نهاية كل وحدة دراسية اختبارًا مقتنًا يتضمن أسئلة وفقرات اختبارية تسهم في إعداد الطلاب للاختبارات الوطنية والدولية، بالإضافة إلى تقويم تحصيلهم للموضوعات التي سبق دراستها في الوحدة.

والله نسأل أن يحقق الكتاب الأهداف المرجوة منه، وأن يوفق الجميع لما فيه خير الوطن وتقدمه وازدهاره.

قائمة المحتويات

كيف تستخدم كتاب العلوم؟ ٨

المادة والطاقة

الوحدة ٢

٦٦..... حالات المادة

الفصل



٦٨..... أتهياً للقراءة - مراقبة التعلم

٧٠..... الدرس ١: المادة

٧٥..... الدرس ٢: الحرارة وتحولات المادة

٨٣..... الدرس ٣: سلوك المواع *

٩٢..... استقصاء من واقع الحياة

٩٥..... دليل مراجعة الفصل

٩٦..... مراجعة الفصل

دراسة المادة

الوحدة ١

١٤..... طبيعة العلم

الفصل



١٦..... أتهياً للقراءة - نظرة عامة *

١٨..... الدرس ١: أسلوب العلم *

٢٢..... الدرس ٢: حل المشكلات بطريقة علمية *

٢٨..... استقصاء من واقع الحياة *

٣١..... دليل مراجعة الفصل *

٣٢..... مراجعة الفصل *

٩٨..... الطاقة وتحولاتها

الفصل



١٠٠..... أتهياً للقراءة - تسجيل الملاحظات

١٠٢..... الدرس ١: ما الطاقة؟

١٠٧..... الدرس ٢: تحولات الطاقة

١١٦..... استقصاء من واقع الحياة

١١٩..... دليل مراجعة الفصل

١٢٠..... مراجعة الفصل

١٢٢..... اختبار مقنن

٣٤..... المخاليط والمحاليل

الفصل



٣٦..... أتهياً للقراءة - السبب والنتيجة

٣٨..... الدرس ١: المحاليل والذائبية

٤٨..... الدرس ٢: المحاليل الحمضية والمحاليل القاعدية

٥٦..... استقصاء من واقع الحياة

٥٩..... دليل مراجعة الفصل

٦٠..... مراجعة الفصل

٦٢..... اختبار مقنن

قائمة المحتويات

أجهزة جسم الإنسان - ١

الوحدة ٣

جهاز الدوران والمناعة ١٢٨



أتهياً للقراءة - التلخيص ١٣٠

الدرس ١ : جهاز الدوران ١٣٢

الدرس ٢ : المناعة والمرض * ١٤١

استقصاء من واقع الحياة ١٥٢

دليل مراجعة الفصل ١٥٥

مراجعة الفصل ١٥٦

الهضم والتنفس والإخراج ١٥٨



أتهياً للقراءة - المقارنة ١٦٠

الدرس ١ : الجهاز الهضمي والمواد الغذائية ١٦٢

الدرس ٢ : جهازا التنفس والإخراج * ١٧٣

استقصاء من واقع الحياة ١٨٦

دليل مراجعة الفصل ١٨٩

مراجعة الفصل ١٩٠

اختبار مقنن ١٩٣

مصادر تعليمية للطلاب ١٩٦

(*) موضوعات غير مقررة على مدارس تحفيظ القرآن الكريم.



كيف تستخدم ...

كتاب العلوم؟

لماذا تحتاج إلى كتاب العلوم؟

قبل أن تقرأ

• **افتتاحية الفصل،** يبدأ كل فصل بصورة تشير إلى الموضوعات التي يتناولها، ويليه أنشطة تمهيدية، منها التجربة الاستهلالية التي تهيك لمعرفة محتويات الفصل، والمطويات، وهي منظم أفكار يساعد على تنظيم التعلم.

• **افتتاحية الدرس،** قُسمت الفصول إلى دروس، كلٌّ منها موضوع متكامل يستغرق أكثر من حصة دراسية. في بداية كل درس تحت عنوان «في هذا الدرس» تحدّد قيمة الدرس من خلال أربعة أقسام: الأهداف التي يتم من خلالها تعرّف على أهداف التعلم التي يجب أن تحققها عند الانتهاء من هذا الدرس. الأهمية تدلنا على الفائدة التي يمكن تحقيقها من دراسة محتوى الدرس. مراجعة المفردات ومصطلحات تم تعرّفها في مراحل سابقة من التعلم؛ أو من خبراتك ومهاراتك السابقة. المفردات الجديدة ومصطلحات تحتاج إليها في تعلم الدرس لفهم المحتوى. وإذا تصفحت الكتاب ستلاحظ أنه بالإضافة إلى اشتماله على النصوص والصور فإنه يتضمن أيضًا: العلوم عبر المواقع الإلكترونية، وماذا قرأت؟

وتجارب بسيطة، بالإضافة إلى بعض التطبيقات في مختلف أنواع العلوم. وقد تضمنت الدروس صفحات مستقلة للعلوم الإثرائية. وينبغي التركيز على المفردات التي ظللت واستيعاب معانيها.

هل سبق أن حضرت درس العلوم فلم تستوصبه، أو استوصيته كله لكنك عندما ذهبت إلى البيت وجدت مشكلة في الإجابة عن الأسئلة؟ وربما تساءلت عن أهمية ما تدرسه وجدواها!
لقد صُممت الصفحات التالية لتساعدك على أن تفهم كيف يستعمل هذا الكتاب.



المطويات

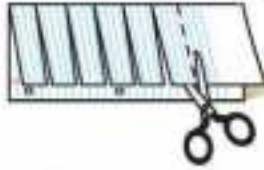
منظمات الأهلكار

مفردات العلوم اعمل المطوية التالية لتساعدك على فهم مفردات الفصل ومصطلحاته.



خطوة ١
اطو الورقة طويًا من جانب إلى آخر.

خطوة ٢
قص الجهة العلوية من الورقة لعمل أشرطة، كما في الشكل.



خطوة ٣
اكتب على كل شريط مصطلحًا، أو مفردة علمية من مفردات الفصل.



بناء المفردات: في أثناء قراءتك للفصل، اكتب تعريف كل مفردة أو مصطلح في الجهة المقابلة من الورقة.

عندما تقرأ

- **العناوين الرئيسية:** كُتب عنوان كل درس بأحرف حمراء كبيرة، ثم فُرع إلى عناوين كتبت باللون الأزرق، ثم عناوين أصغر باللون الأحمر في بداية بعض الفقرات؛ لكي تساعد على المذاكرة، وتلخيص النقاط الأساسية المتضمنة في العناوين الرئيسة والفرعية.
- **الهوامش:** سوف تجد في هوامش المحتوى مصادر مساعدة كثيرة، منها العلوم عبر المواقع الإلكترونية، ونشاطات الربط والتكامل؛ مما يساعد على استكشاف الموضوعات التي تدرسها. كما أن التجارب البسيطة تعمل على ترسيخ المفاهيم العلمية التي يتم تعلمها.
- **بناء المهارات:** سوف تجد تطبيقات خاصة بالرياضيات والعلوم في كل فصل، مما يتيح لك ممارسة إضافية للمعرفة، وتطوير مهاراتك.
- **مصادر تعلم الطالب:** تجد في نهاية هذا الكتاب مصادر تعلم تساعد على الدراسة، وتتضمن مهارات علمية، وجداول مرجعية مختلفة، ومسردًا للمصطلحات. كما يمكن استعمال المطويات بوصفها مصدرًا من المصادر المساعدة على تنظيم المعلومات ومراجعة المادة قبل الاختبار.
- **في غرفة الصف:** تذكر أنه يمكن أن تسأل المعلم توضيح أي شيء غير مفهوم.



فهي المختبر

يعد العمل في المختبر من أفضل طرائق استيعاب المفاهيم وتطوير المهارات؛ فهو لا يمكنك فقط من اتباع الخطوات الضرورية للاستمرار في عملية البحث، بل يساعدك أيضًا على الاستكشاف واستثمار وقتك على أكمل وجه. وفيما يلي بعض الإرشادات الخاصة بذلك:

- اتبع قواعد السلامة في المختبر دائمًا.
- تربط كل تجربة وأسئلتها بالحياة؛ لتذكرك أن العلم يستعمل يوميًا في كل مكان، لا في غرفة الصف وحدها. وهذا يقود إلى أسئلة تدور حول كيفية حدوث الأشياء في الحياة.
- تذكر أن التجارب لا تعطي دائمًا النتائج التي تتوقعها. وقد كانت بعض اكتشافات العلماء مبنية على البحث دون توقع نتائج مسبقة. وتستطيع تكرار التجربة للتحقق من أن نتائجك صحيحة، أو لتضع فرضية جديدة يمكن اختبارها.
- يمكنك كتابة أي أسئلة في دليل دفتر العلوم قد تبرز في أثناء بحثك. وهذه أفضل طريقة لتذكرك بالحصول على إجابات لهذه الأسئلة لاحقًا.

ابحث عن:

- التجربة الاستهلاكية في بداية كل فصل.
- التجربة في هامش كل فصل.
- استقصاء من واقع الحياة في نهاية كل فصل.

إيمانان أختنا العربي

- 1- برزاد القنصل
- 2- يعلى القنصل
- 3- حنت الأتومر
- 4- إلت قوة
- 5- يمس
- 6- إلت قوة



قبل الاختبار

تضمن الكتاب مجموعة من الطرق لجعل الاختبارات محببة إليك. وسوف يساعدك كتابك أن تكون أكثر نجاحاً في الاختبار عند استعمالك المصادر المعطاة لك.

- راجع جميع المفردات الجديدة، وتأكد أنك فهمت تعريف كل منها.
- راجع الملاحظات التي دونتها ضمن المخطوطات أو سجلتها مع زملائك داخل الصف أو في المختبر، واكتب أي سؤال أنت في حاجة إلى الإجابة عنه.
- أجب عن أسئلة المراجعة في نهاية كل درس.
- ادرس المفاهيم الواردة في دليل مراجعة الفصل، وأجب عن أسئلة مراجعة الفصل وأسئلة الاختبار المقنن الواردة في نهاية كل وحدة.

ابحث عن:

- الأسئلة السوارة ضمن المحتوى.
- أسئلة المراجعة في نهاية كل درس.
- دليل مراجعة الفصل في نهاية كل فصل.
- أسئلة مراجعة الفصل في نهاية كل فصل.
- الاختبار المقنن في نهاية كل وحدة.

أأم د؟

؟

صح أم خطأ؟

ما العلاقة بين الكيمياء والآثار المزورة؟

آثار الدرعية القديمة



يحاول الكثير من ضعاف النفوس تزوير (تزييف) العديد من الآثار لبيعها على أنها أصلية، حيث يستخدم هؤلاء مواد شبيهة بالمواد الأصلية، ويتم تقليد شكلها بأسلوب دقيق بحيث لا يميزها عن القطع الأصلية إلا الخبراء الأكفاء. ويستخدم الخبراء وعلماء الآثار طرقاً عدة لتمييز القطع الأثرية الحقيقية من المزيفة. ومن ذلك استخدام طرق التأريخ الإشعاعي وخصوصاً استخدام عنصر الكربون 14 لتحديد عمر القطعة الأثرية. كما يستعان بمجاهر حديثة لدراسة نمط التركيب الكيميائي والتركيب الجزيئي للمادة المكونة للقطع الأثرية، حيث يتغيران مع مرور الزمن، ويختلف التركيب الكيميائي من مادة إلى أخرى. ومع أن العديد من المزورين يستخدمون المواد الخام نفسها ويحاولون تغيير خصائصها الكيميائية الناتجة عن التقادم في الزمن، فإن العلماء يمكنهم تمييز القطع الأصلية باستخدام الفحص المجهرى.

مشاريع الوحدة

ارجع إلى المواقع الإلكترونية للبحث عن فكرة أو موضوع يمكن أن يكون مشروعاً تنفذ.

من المشاريع المقترحة:

- **التاريخ:** ابحث في إسهامات الكيميائيين في تعرف خصائص الأحماض والقواعد.
- **التقنية:** صمم لوحة جدارية تمثل الذاتية، واستمد من معلومات اللوحة في التعليم والمراجعة.
- **النماذج:** جهز سلطة من أربعة عناصر أو أكثر، توضح من خلالها ما تعلمته في الوحدة حول مفاهيم المادة، والمخاليط والذاتية.

البحث عبر

الشبكة الإلكترونية

طبيعة العلم: ابحث في الشبكة الإلكترونية عن مواقع توضح دور التقنيات الحديثة - ومنها الكمبيوتر والرادار - في الاكتشافات الأثرية.



طبيعة العلم

الفكرة العامة

العلم طريقة لفهم العالم من حولنا.

الدرس الأول

أسلوب العلم

الفكرة الرئيسية، بالعلم نتعرف الحضارات القديمة.

الدرس الثاني

حل المشكلات بطريقة علمية

الفكرة الرئيسية، لا بد من إجراء خطوات محددة لحل أي مشكلة بطريقة علمية.

كيف يعيشون؟

عثر الباحثون في أثناء التنقيب في أحد الكهوف على بقايا بشرية، وقدرُوا أنها ترجع إلى ما قبل ٢٠٠٠٠٠ سنة.

دفتر العلوم اختر أياً من المصنوعات اليدوية البشرية التي تم اكتشافها في بلادك أو في بلاد أخرى، واكتب عنها.

نشاطات تمهيدية

المطويات

العلم والتقنية اعمل المطوية التالية لتساعدك على معرفة الفرق بين العلم والتقنية.

منظمات الأفكار



الخطوة ١ اطو ورقة طولياً.



الخطوة ٢ اطوها لتعمل ثلاثة أقسام.

الخطوة ٣ افتح الورقة على استقامتها، وارسم شكلين بيضيين متداخلين، ثم قص عند طولي الطيتين في نصف الورقة العلوي.



الخطوة ٤ اكتب كما هو مبين أدناه.



اقرأ واكتب دوّن ما لاحظته في أثناء قراءتك هذا الفصل ما يخص العلم وما يخص التقنية وما يشتركان فيه معاً، كلاً في مكانه المناسب.

تجربة

استدلالية

نموذج تنقيب عن الآثار

تحتاج عمليات استكشاف آثار الإنسان منذ القدم، ومنها الأدوات التي كان يستعملها، إلى الكثير من الوقت والجهد، وإلى العناية الفائقة من أجل الحفاظ عليها من الكسر أو التدمير.

١. أحضر كعكة مصنوعة من الشوفان، وفيها قطع من الجوز، وحبّات الزبيب، أو أي فواكه أو مكسرات أخرى.

٢. ضع الكعكة على صينية كبيرة مفروشة بمنشفة ورقية.

٣. حاول استخراج حبّات الزبيب وقطع الجوز أو المكسرات بعناية دون أن تتلف الكعكة، مستعيناً بأدوات دقيقة من مختبر العلوم.

٤. ثم اغسل يديك بالماء والصابون.

٥. التذكير الناقد اكتب في دفتر العلوم عبارات تقارن فيها بين استخراج حبّات الزبيب من الكعكة، واستخراج العظام والبقايا الفخارية من تربة الأرض.

أتهياً للقراءة

نظرة عامة

أتعلم ١ لكي يسهل عليك استيعاب الأفكار والعلاقات التي ترد في النص، اتبع الخطوات التالية:

١. انظر إلى عنوان النص والرسوم التوضيحية الواردة.
٢. اقرأ العناوين الرئيسية والفرعية والكلمات المكتوبة بالخط الداكن.
٣. ألقِ نظرة سريعة على النص لتعرف كيفية تنظيمه، وتقسيمه إلى أجزاء.
٤. انظر إلى الصور والرسوم والأشكال والخرائط، وقرأ العناوين والتفاصيل المرافقة لها.
٥. حدد الهدف من دراستك، هل تقرأ لتتعلم مادة علمية جديدة أم للبحث عن معلومات محددة؟

أدرب ٢ بعد قراءة سريعة للفصل، ناقش زميلك في جزء منه جَدِّب انتباهك. تصفَّح مع زميلك العناوين الرئيسية والفرعية جميعها، وأجب عن الأسئلة التالية:

- أي أجزاء الفصل كان أكثر إمتاعاً لك؟
- هل هناك أي كلمة في العناوين غير مألوفة لديك؟
- اختر أحد أسئلة المراجعة، وناقشه مع زميلك.

أطبق ٣ بعد تصفحك الفصل اكتب فقرة قصيرة تصف فيها شيئاً توَدَّ تعلمه.

إرشاد

عند القارئ نظرة عامة على الفصل تأكد من اطلاعك على كافة الرسوم والجداول.

توجيه القراءة وتركيزها

ركز على الأفكار الرئيسة عند قراءتك الفصل باتباعك ما يلي:

١ قبل قراءة الفصل أجب عن العبارات في ورقة العمل أدناه:

• اكتب (م) إذا كنت موافقاً على العبارة.

• اكتب (غ) إذا كنت غير موافق على العبارة.

٢ بعد قراءة الفصل ارجع إلى هذه الصفحة لترى ما إذا كنت قد غيرت رأيك حول أي من هذه العبارات.

• إذا غيرت إحدى الإجابات فبين السبب.

• صحح العبارات غير الصحيحة.

• استرشد بالعبارات الصحيحة في أثناء دراستك.

بعد القراءة م أوغ	العبارة	قبل القراءة م أوغ
	١. يدرس علم الآثار عمليات الأرض.	
	٢. الجيولوجيا: علم يدرس الأدوات والتراث الثقافي للإنسان.	
	٣. كثير من الأماكن الأثرية تم العثور عليها دون قصد أو تخطيط.	
	٤. التقنية: استعمال المعرفة العلمية للحصول على منتجات وأدوات جديدة.	
	٥. القوانين العلمية هي الخطوات المتتابعة المستعملة في حل المشكلات العلمية.	
	٦. قد تتغير خطوات الطريقة العلمية، من حالة إلى حالة، وقد يتغير تسلسلها.	
	٧. نادراً ما يكون إدراك المشكلة وتحديدها ضرورياً عند اتباع الطريقة العلمية.	
	٨. الفرضية عبارة يمكن اختبارها.	
	٩. المتغيرات: عوامل تظل ثابتة في التجربة.	
	١٠. من المهم تثبيت كل العوامل في التجربة إلا العامل الذي تود اختبارها.	



أسلوب العلم

الكنز المدفون

صحب المعلم الطلاب في رحلة لمشاهدة عملية تنقيب عن الآثار في مكان صحراوي خارج المدينة، وقد شاهدوا عملية استخراج قطع فخار لوعاء قديم محطم، الشكل ١.



الشكل ١ يمكن معرفة الكثير عن الحضارات القديمة من الآثار التي خلفوها.



ويعد أن شاهد الطلاب الحفريات جرى نقاش بينهم وبين الأثرين؛ حيث توقع أحدهم العثور على المزيد من قطع الفخار المطمورة في هذا المكان. ورجح آخر أن ما عثروا عليه ليس مجرد قطع من إناء فخاري مطمور منذ عهد قريب، بل هو بقايا قطع فنية أثرية قديمة جداً.

وعند عودة الطلاب إلى المدرسة جرى نقاش وحوار بينهم، خلصوا منه إلى أن العلم هو وسيلتهم لفهم كل ذلك. العلم Science أسلوب دقيق لفهم العالم من حولنا.

علم الآثار

ولمعرفة المزيد عن هذه القطع الفخارية وما إذا كانت قد طمرت من سنوات قليلة أم أنها آثار قديمة لها أهمية تاريخية أو ثقافية تستحق الاهتمام، دعت المدرسة أحد علماء الآثار المعروفين لكي يلتقي الطلاب، ويحييهم عن التساؤلات التالية: ما نوع قطعة الفخار؟ ومتى وجدت؟ وكيف استعملت؟

ولم يكتف الطلاب بذلك، بل واصلوا بحثهم عبر مطالعتهم كتب علم الآثار القديمة وغيرها من المراجع والموسوعات العلمية.

فيم هذا الدرس

الأهداف

- توضيح مفهوم علم الآثار.
- تقارن بين العلم والتقنية.

الأهمية

للعلم والتقنية أهمية كبيرة في عالمنا، ولكل منها دور في حياتنا اليومية.

مراجعة المفردات

القطع الأثرية: أشياء صنعها الإنسان قديماً ولها أهمية تاريخية وثقافية، ومنها الأدوات والأسلحة.

المفردات الجديدة

- العلم
- التقنية



الشكل ٢ فرعا علم الآثار؛ أحدهما يبحث في الناس الذين عاشوا قديماً، ويبحث الثاني في الحضارات الإنسانية مثل الحضارة الفرعونية.

استمع ماذا تعرف من التاريخ المدون باللغة الهيروغليفية في الرسومات الصخرية.

توصل الطلاب من خلال بحثهم إلى أن علم الآثار هو العلم الذي يدرس الأدوات وما خلفته حضارات الإنسان. وينقسم علم الآثار إلى قسمين رئيسيين، كما يوضح الشكل ٢، أحدهما يهتم بدراسة الإنسان الذي عاش قديماً في فترة ما قبل تدوين التاريخ. أما الفرع الآخر فيركز على دراسة الحضارات التي ظهرت ونمت من بداية تدوين التاريخ. اكتشف الطلاب من خلال البحث أيضاً أن الفترة الزمنية التي يدرسها علم الآثار تقدر بثلاثة ملايين سنة.

ماذا قرأت؟ ما الفرعان الأساسيان لعلم الآثار؟

التقنية عرف الطلاب أن للتقنية **Technology** - وهي استعمال المعرفة العلمية للحصول على منتجات وأدوات جديدة - أهمية كبيرة في دراسة الآثار، وأن جهاز الحاسوب وآلات التصوير والرادار وغيرها أدوات مهمة في دراسة المناطق الأثرية. الشكل ٣.

قبل البدء في عمليات الحفر والتنقيب، ولمعرفة ما إذا كانت منطقة ما ذات أهمية أثرية يستفيد الباحثون من تقنية الرادار لإجراء بحث في المنطقة للكشف عما في باطنها، كما قد يتطلب الأمر دراسة جيولوجية للمنطقة. ويختص علم الجيولوجيا بدراسة الأرض؛ من حيث تركيبها، والعمليات الطبيعية التي تحدث فيها، وكيفية تكونها، ولهذا لا بد من استشارة جيولوجي عند دراسة المنطقة.

الشكل ٣ الحاسوب والرادار من التقنيات المستعملة في التنقيب عن الآثار وأبحاثها العلمية. اذكر ثلاث تقنيات أخرى.



العمل في فريق بعد كل هذه المشاهدات والمناقشات والقراءات، عاد الطلاب مع معلمهم إلى مكان الحفريات ومعهم عالم الآثار.

فحص عالم الآثار قطعة الفخار، ثم قرّر أنها قديمة جدًا، وذات أهمية تاريخية. وبناءً على ذلك، تم اعتبار المكان موقعًا أثريًا، واستمرت فيه عمليات البحث والتنقيب عن المزيد من الآثار.

عمليات الحفر والتنقيب بدأت عمليات الاستكشاف والبحث والتنقيب، وجرت عمليات مسح باستعمال الرادار. شارك بعض الطلاب في عمليات الحفر تحت إشراف علماء الآثار ليتعرفوا جانبًا من تاريخ بلادهم، الشكل ٤. قبل نقل القطع الأثرية التي تم العثور عليها في الموقع، قام الفريق بتصويرها، أو عمل رسوم لها. تستعمل الصور والرسوم في عمل خرائط توضح الموقع الدقيق لكل قطعة أثرية قبل نقلها، كما تستعمل الخرائط في تحديد الانتشار الأفقي والعمودي للقطع الأثرية في موقع التنقيب.

العمل المختبري تم ترقيم القطع وكتابة مواقعها الأصلية واتجاهها ثم نقلت بكل حرص وعناية إلى المختبر، حيث تم تنظيفها، والشروع في إجراء الدراسات والتحليل الكيميائية للتوصل إلى العمر التقريبي لها.

ويعد موقع الريزة الأثري بمنطقة المدينة المنورة من أهم وأقدم المواقع التي عثر فيها على آثار للإنسان؛ حيث أثبتت الدراسات والتنقيبات التي قامت بها إحدى فرق البحث والتنقيب في المملكة العربية السعودية أن الآثار التي عثر عليها في هذا الموقع تعود إلى حوالي مليون ومنتى ألف سنة!

آثار الدرعية القديمة



الشكل ٤ استكشاف المواقع القديمة باستعمال أدوات مختلفة. وضح أهمية التنقيب في المواقع الأثرية بعناية.

يبحث، اكتسب تقريرًا عن أقدم المواقع الأثرية في المملكة العربية السعودية، وأهميتها التاريخية، وكيف تم اكتشافها، واعررض ذلك على زملائك في الصف.

العلوم
ببر الواجه الإلكترونية
ارجع إلى المواقع الإلكترونية عبر شبكة الإنترنت



اختبر نفسك

١. وضح المقصود بعلم الآثار.
٢. صف الأشكال الشائعة من التقنية العلمية الحديثة المستخدمة في اكتشاف الآثار.
٣. فسر لماذا يقوم العلماء بعمل مسح بالرادار لباطن الأرض في المواقع الأثرية قبل مباشرة الحفريات؟
٤. اذكر أمثلة على آثار لحضارات قديمة يدرسها علماء الآثار.
٥. التفكير الناقد لماذا تُرسم خرائط المواقع الأثرية القديمة قبل نقل الآثار منها؟

تطبيق المهارات

٦. قارن بين العلم والتقنية، موضحًا كيف يؤدي التقدم في أحدهما إلى تقدم الآخر؟

الخلاصة

الكنز المدفون

- العلم طريقة تساعدنا على فهم العالم من حولنا.
- يمكن معرفة الكثير عن الحضارات القديمة من الآثار التي خلفوها.
- يخضع كل اكتشاف للاختبار العلمي للتحقق من صدقه أو صحته.

علم الآثار

- علم الآثار جزء من الدراسات العلمية.
- التقنية تطبيق للمعرفة التي يتوصل إليها العلم.
- العمل الميداني والعمل المختبري كلاهما مهم في الدراسات العلمية.



حل المشكلات بطريقة علمية

الطرائق العلمية

اتبعنا في الدرس السابق عدة خطوات لكي نتعرف قطعة الفخار التي عثر عليها في الحفريات. هل يمكنك ترتيب تلك الخطوات؟ وماذا كانت النتيجة؟ مثل تلك الخطوات التي تتبع في حل المشكلات هي ما يُسمى **الطرائق العلمية** Scientific Methods.

ويوضح الشكل ٥ الخطوات الأساسية المتبعة عادة في الطرائق العلمية، وإن كان ترتيب هذه الخطوات قد يختلف من حالة إلى أخرى.

✓ **ماذا قرأت؟** ما أهمية الطرائق العلمية؟



الشكل ٥ يوضح الشكل إحدى طرائق حل المشكلة العلمية، أو الإجابة عن سؤال ما.

في هذا الدرس

الأهداف

- توضح خطوات الطرائق العلمية.
- تقارن بين المتغيرات والثابت في التجارب العلمية.
- توضح كيفية ضبط المتغيرات في أثناء التجربة العلمية.

الأهمية

تساعدنا الطرائق العلمية على حل أنواع مختلفة من المشكلات.

مراجعة المفردات

التحليل: تجزئة الشيء ودراسة محتوياته من أجل التوصل إلى فهم شامل.

المفردات الجديدة

- الطرائق العلمية
- الملاحظة
- الاستنتاج
- الفرضية
- المتغير المستقل
- المتغير التابع
- الثابت
- الضابط



الشكل ٦ جمع المعلومات من المكتبة أو الإنترنت يسهم في حل المشكلة. اذكر مصادر معلومات أخرى بالإضافة إلى المكتبة والإنترنت.

تعرف المشكلة

رغم كل ما درسنه في مادة العلوم في السنوات السابقة فإننا لا نزال في حاجة إلى دراسة المزيد لتعرف العالم من حولنا.

لقد شاهد أحد الطلاب نباتاً يذبل على شرفة غرفته، فسقاه بالماء، وفي نهاية اليوم لاحظ انتعاش أوراقه، فتوصل إلى أهمية الماء لنمو النبات، فأخذ يسقيه بالماء كل يوم. وبعد عدة أسابيع لاحظ اصفرار الأوراق وتحولها إلى اللون البني، فتساءل: لماذا يحدث ذلك للنبات مع أنه يوفر له الماء الذي يحتاج إليه؟ لقد حدد الطالب المشكلة، ولكي يحلها وضع خطة يرجع فيها إلى مصادر تزوده بالمعلومات، كما يوضح الشكل ٦

ماذا فعلنا؟ ما الخطوة الأولى في الطريقة العلمية لحل مشكلة ما؟

الملاحظة تتضمن **الملاحظة Observation** الحصول على المعلومات باستخدام الحواس، وخصوصاً حواس السمع والبصر واللمس، وتدوينها. لقد لاحظ الطالب سقوط بعض أوراق النبات، وكذلك تغير لون الساق. وبمرور الوقت لاحظ تجمع مادة بيضاء ذات رائحة على التربة بجانب النبات. وعند إدخال إصبعه في التربة وجدها رطبة.

الاستنتاج كثيراً ما تؤدي الملاحظات إلى **استنتاجات Inferences**. قد يستنتج الطالب مما لاحظته مثلاً أن المبالغة في ريّ النبات هي السبب في ذبوله واصفرار أوراقه.

حل المشكلة. بطريقة علمية
أداة إلى دراسة الطالب العلمية
تجربة عملية

تكوين الفرضيات

بعد تحديد المشكلة، قد يكون العالمُ فرضية، وقد يطرح سؤالاً محدداً حول هذه المشكلة. **الفرضية Hypothesis** تخمين علمي عن كيفية ارتباط المتغيرات بعضها مع بعض. ويوضح الشكل ٨ كيف تبنى الفرضية في ضوء الملاحظات والبحوث والمعرفة السابقة حول المشكلة. ويمكن تكوين أكثر من فرضية للمشكلة الواحدة؛ فقد يضع الطالب - بعد ما لاحظته - الفرضية التالية: تنمو النبتة أفضل عند ريها بالماء مرة واحدة كل أسبوع.

لا بد من إجراء تجربة لكي تختبر الفرضية؛ ففي حالة ذبول النبات قد نجري التجربة الموضحة في الشكل ٧. في مثل هذه التجربة، هناك عامل يتغير باستمرار، وهو عدد مرات ري النبات أسبوعياً. ويُسمى هذا العامل **المتغير المستقل Independent Variable**. أما نمو النبات فهو **المتغير التابع Dependent Variable**، وهو المتغير أو الناتج الذي نريد أن نقيسه في التجربة.

✓ **ماذا قرأت؟** ما المتغير التابع في التجربة؟

اختبار الفرضيات

عند اختبار الفرضيات يُراعى ما يلي:

التخطيط للتجربة عند اختبار الفرضيات يتم اختبار متغير واحد وتثبيت العوامل الأخرى دون تغيير. وتسمى هذه العوامل **الثوابت Constants**. وفي تجربة النبات فإن: نوع النبات، وحجمه، ونوع التربة، وكميتها في الأوعية المستخدمة، ومقدار الإضاءة المتوافرة تُعد جميعها ثوابت. وفي بعض التجارب قد يُستعمل أحد العوامل معياراً للمقارنة ويسمى العامل **الضابط Control**. فإذا أراد الطالب مثلاً أن يدرس مكونات التربة فسوف يحلل عينة منها، ثم يقارن البيانات التي يحصل عليها ببيانات تحليل تربة أخرى معروفة مسبقاً.

إجراء التجربة جمع الطالب المواد التي يحتاج إليها لاختبار فرضيته، ووضع خطة لاتباعها، واستخدم ثلاثة أصص متماثلة مزروع فيها النوع نفسه من النبات. النبات (أ) تم ريّه مرة واحدة عند بدء التجربة. والنبات (ب) تم ريّه بالماء يومياً،



الملاحظة والاستنتاج الخطوات



١. تأمل الشكل أعلاه، وهو جزء من صورة أكبر.

٢. سجّل في دفتر العلوم كل ما تلاحظه في هذا الشكل.

التحليل

١. ما الذي تستنتجه حين تنظر إلى هذا الشكل؟

٢. قارن استنتاجاتك بالشكل الموجود في "مراجعة الفصل". إلى أي مدى كانت استنتاجاتك صحيحة؟



الشكل ٧ تأثير الري في نمو النباتات بعد مضي شهر على التجربة - وقد تم تثبيت كل العوامل ماعدا عدد مرات ريّ النبات - أوضحت التجربة تأثير عدد مرات الريّ في نموّ النبات.

الفرضية

الشكل ٨



كثيرًا ما يكون تكوين الفرضيات مبنياً على ما تلاحظه من أشياء تشير اهتمامنا أو تلفت انتباهنا. ومن ذلك ما حدث لإحدى الباحثات في أثناء ملاحظتها سلوك الفيلة في حديقة الحيوان. لقد شعرت هذه الباحثة بذبذبات مزعجة في الهواء، مما جعلها تفترض أن الفيلة تصدر أصواتاً تحت سمعية (ذات ذبذبات منخفضة لا تلتقطها الأذن البشرية) لكي تتواصل فيما بينها عبر المسافات الطويلة.

٢ لاختبار الفرضية بشكل أدق سافرت الباحثة برفقة فريق بحثي إلى إفريقيا، وقامت بتسجيل الذبذبات تحت السمعية التي تصدرها الفيلة في بيئاتها الطبيعية.

٣ عندما قامت الباحثة بتشغيل الجهاز على بعد سلبن من قطع أميال لإحداث الذبذبات التي سجلتها سابقاً، لاحظت أن الفيلة نصت آذانها وسكنت في أماكنها. اختارت الباحثة قطعاً آخر من الفيلة لتكون مجموعة ضابطة؛ هذه المجموعة لم يتم تعريضها للصوت، وقد لوحظ أنها سلكت سلوكاً عادياً، ولم تظهر أي استجابة أو سلوكاً مختلفاً.

هذه النتائج دعمت فرضية الباحثة. وأكدت صحة أن الفيلة تصدر أصواتاً تحت سمعية للتواصل فيما بينها.



١ ولكي تختبر الباحثة فرضيتها استعملت جهازاً إذا مواصفات خاصة لتسجيل وقياس ما قد تصدره الفيلة في حديقة الحيوان من أصوات. وقد أوضحت الذبذبات الإلكترونية التي سجلها الجهاز أن الفيلة تصدر بالفعل أصواتاً ذات ترددات منخفضة جداً.



أما النبات (ج) فقد رُوي بالماء مرة واحدة أسبوعياً.

وصمّم الطالب جدولاً لتسجيل بياناته شمل: رمز كل نبات، وعدد مرات ريّه. ثم بدأ يسجل فيه: طول كل نبتة، ومدى تغير لونها، وعدد الأوراق الساقطة إن وجدت، وذلك طوال فترة التجربة التي استمرت شهراً كاملاً.

تحليل البيانات

في أي تجربة علمية يتم جمع البيانات، ثم تحليلها. ويختلف نوع البيانات من تجربة إلى أخرى؛ فقد تكون بعض هذه البيانات مقادير كمية، ومنها طول جسم معين، ودرجة حرارة سائل. وبعضها يتم التعبير عنه بمصطلحات، منها: أسرع من، أصغر من، أكثر بياضاً، أشد قساوة.... وهكذا. وعلى من ينفذ التجربة أن يسجل هذه البيانات، ويدرسها بدقة قبل أن يستخلص النتائج.

وقد لوحظ في التجربة السابقة أن النبات الذي رُوي مرة واحدة أصاب الذبول الشديد جميع أوراقه، والنبات الذي رُوي يومياً أصاب الذبول معظم أوراقه. أما النبات الذي كان يُروى أسبوعياً فقد نما بصورة جيدة، وكانت أوراقه نظرة خضراء.

استخلاص النتائج ثم التواصل

يتم - بعد تنفيذ التجربة وجمع البيانات وتحليلها - استخلاص النتائج. ففي التجربة السابقة كان ذبول النبات عائداً إلى عدم ريّه أو إلى المبالغة في ريّه. وهكذا فقد استخلص الطالب من هذه التجربة أن المناسب لنمو هذا النبات بشكل جيد - في ظل هذه الظروف والمعطيات - هو أن يروى مرة واحدة كل أسبوع.

وعندما عرض الطالب نتائج تجربته طلب إليه المعلم أن يعيدها مرة أخرى للتأكد من صحة استنتاجاته. وقد أعاد الطالب التجربة بكل خطواتها، وخرج بالنتائج نفسها، ممّا عزّز ثقته فيها وفي صحتها، وأتاح له أن يقدمها بثقة إلى زملائه في اليوم العلمي؛ لكي يطلعوا عليها، ويعيدوا إجرائها للتأكد من مدى صحتها ودقة نتائجها. وهذه هي مهارة التواصل مع الآخرين التي يمارسها العلماء أيضاً عندما ينشرون نتائج أبحاثهم وتجاربهم

على الآخرين في المجالات العلمية المتخصصة؛ للاستفادة منها والبناء عليها. ويوضح الجدول (١) النتائج التي توصل إليها أحد الطلاب عندما أجرى تجربة مشابهة، ويبين توافقها مع نتائج التجربة الأولى.

الجدول ١، طول النباتات (سم)

النبات ج	النبات ب	النبات أ	الأسبوع
١٠,٨	١٠,٣	١٠,٥	١
١٢,٦	١١,٢	١٠,٧	٢
١٤,٦	١٢,٠	٩,٢	٣
١٥,٥	١٢,٤	٥,١	٤

اختبر نفسك

١. ما الخطوات المتبعة في أي طريقة علمية؟
٢. وضع كيف تختلف الملاحظات عن الاستنتاجات؟
٣. قارن بين العامل الثابت والعامل المتغير في التجربة.
٤. قوّم. ما أهمية تكرار إجراء التجربة العلمية؟
٥. التفكير الناقد قال إسحق نيوتن: "لقد رأيت أبعد من غيري لأنني أقف على أكتاف العمالقة من العلماء الذين سبقوني". ترى، ما الذي كان يعنيه نيوتن بقوله هذا؟

تطبيق المهارات

٦. استخدام المتغيرات والضوابط فكر في متغير مستقل آخر يمكن أن يؤثر في نمو النبات الذي خضع للتجربة السابقة في هذا الدرس، وصمّم تجربة لاختبار تأثير هذا المتغير.

الخلاصة

الطرائق العلمية

- تتضمن الطرائق العلمية خطوات منظمة تُتبع في أثناء الاستقصاء العلمي.

تعريف المشكلة وتحديدها

- تحديد المشكلة هو الخطوة الأولى في الاستقصاء العلمي.

تكوين الفرضية

- الفرضية عبارة يمكن اختبارها.
- يتم اختبار الفرضيات بإجراء تجارب يتم تثبيت بعض عواملها، وقياس عوامل أخرى متغيرة.

تحليل البيانات، واستخلاص النتائج، والتواصل

- يتضمن تحليل البيانات إجراء حسابات وإنشاء رسوم بيانية.
- في ضوء تحليل البيانات يتم استخلاص النتائج، ومن ثم التواصل بها مع الآخرين.

نمذجة موقع للتنقيب عن الآثار

سؤال من واقع الحياة

يستخدم العلماء غالبًا نماذج لدراسة الأجسام الكبيرة جدًا أو الصغيرة جدًا التي يصعب ملاحظتها بصورة مباشرة. في هذه التجربة سوف تصمم مجموعتك نموذجًا لموقع أثري. بعد تغطية الموقع بالرمل ستبدله مع مجموعة أخرى لكي تنقب عنه. ستصمم نموذجًا مصغرًا للموقع التنقيب عن الآثار مستخدمًا مواد يملك بها معلمك. ما الذي يمكن أن تتعلمه من عمليات التنقيب عن الآثار؟ كيف تساعدنا النماذج على تعلم العلوم؟

الخطوات

1. احصل على صندوق بلاستيكي شفاف لبناء موقعك فيه.
2. استخدم مواد يزودك بها معلمك، وابدأ التخطيط لما سيحويه النموذج من بقايا أثرية، وتحديد مواقعها.
3. في أثناء تصميم الموقع ضع في الاعتبار أنها منطقة عاش فيها ناس يومًا ما. قد ترغب في تضمينها مواد من صنع الإنسان مثل مواقد استخدمت للطبخ، حفرة لوضع النفايات، جدار واق، مصدر مياه، وأدوات أخرى.
4. ضع المواد الأثرية المختارة في مواقعها، ثم صمم خريطة لموقعك. ارسم خريطة بمقياس رسم محدد يظهر النسبة بين المسافات في الموقع والمسافات في الخريطة.
5. غطِّ موقعك بالرمل؛ بحيث يمكن لمجموعة أخرى من صفك أن تقوم بالتنقيب عن القطع الأثرية.



الأهداف

■ تستخدم المهارات وأدوات العالم في أثناء عمل نموذج لموقع أثري والتنقيب عنه مع الاستعانة بالصبر.

المواد والأدوات

- عيدان خشبية
- نكاشات أسنان
- مجارف بلاستيكية
- فراشي ألوان صغيرة
- أحجار صغيرة
- قطع صغيرة من مناديل ورقية سوداء
- قوالب البناء (ليجو)
- صندوق بلاستيكي شفاف
- مسطرة، قلم رصاص، ورقة رمل

إجراءات السلامة



استخدام الطرائق العلمية

6. استبدل بنموذجك نموذجًا آخر معدًا من قبل مجموعة أخرى. احتفظ بخريطة موقعك مؤقتًا.
7. استخدم فراشي الألوان والمجارف، وابدأ عملية الكشف البطيء للموقع الذي تسلّمته مجموعتك.
8. في أثناء التنقيب تأكد من دقة تحديد مواقع الأدوات التي تم اكتشافها. ارسم خريطة في أثناء عملية التنقيب بمقياس الرسم نفسه الذي استخدمته المجموعة التي صممت الموقع.

الاستنتاج والتطبيق

1. **قارن** ما مدى تشابه هذه التجربة مع عمليات التنقيب الفعلية عن الآثار؟ هل أثرت إحدى الأدوات المستخدمة تأثيرًا سلبيًا في عملية التنقيب في الموقع؟ كيف يتجنب علماء الآثار الإضرار بالموقع الأثري أو تدميره؟
2. **استنتج** ترى، كيف يستطيع علماء الآثار تعرف المكنشفات غير المألوفة لهم؟ ما الأدلة التي يستخدمونها؟
3. **فسر** لماذا أعددت خريطة لموقعك وللموقع الذي نقتب عنه؟ كيف تساعد الخرائط العلماء بعد التنقيب عن المواقع؟
4. **قارن** بين الخريطة التي أعددتها للموقع الذي قمت بالتنقيب فيه وبين الخريطة التي أعدتها مجموعة الطلبة للموقع نفسه قبل التنقيب؟ فيم يتشابهان، وفيم يختلفان؟ اعمل الشيء نفسه في الخريطة التي قمت بإعدادها لموقعك الأثري الذي قمت بنمذجته.
5. **حدد** أشياء أخرى يدرسها العلماء باستخدام النماذج. فكّر في مفهوم علمي تعلمته، يدرسه العلماء باستخدام النماذج.

تواصل

بياناتك

اعمل نسخة مكبرة للخريطة التي قمت بإعدادها في أثناء التنقيب عن نتائج بحثك. اعرض خريطةك على ملصق كما يفعل العلماء.

ابن الهيثم



ارجع إلى بوابة مسارات العلماء المسلمين
لاعرف أكثر عن العالم لوينكر الرازي.

أحد رواد

الطريقة العلمية

ولد الحسن بن الهيثم عام ٣٥٤هـ، وهو أحد العلماء المسلمين الذين قدموا إسهامات كبيرة في علوم الرياضيات والبصريات والفيزياء والتشريح والفلك والهندسة والطب والفلسفة وعلم النفس وغيرها، معتمداً على إجراء التجارب المبنية على الطريقة العلمية، وقد قدم للحضارة الإنسانية عدداً من المؤلفات والاكتشافات العلمية التي أكدها العلم الحديث.

تجريبية صارمة لمراقبة التجارب العلمية لاختبار الفرضيات واستقراء النتائج. وقد تميزت أبحاث ابن الهيثم في علم البصريات بالمنهجية العلمية المبنية على استخدام الطريقة العلمية. وقد استندت تجاربه كذلك على الجمع بين الفيزياء الكلاسيكية والرياضيات، واستخدام منهج الاستدلال بتوحيده؛ الاستقرائي والاستنباطي، في مجال البحث العلمي.

فقد وضع في كتابه (المناظر) أن الإبصار يحدث نتيجة سقوط أشعة صادرة من الجسم المرئي على العين لتؤثر فيها، وليس العكس، كما كان سائداً قبله. كذلك اقترح نموذج الانكسار الضوئي بشكل يصف العلاقة بين زاوية السقوط وزاوية الانكسار، كما يصفها قانون سنل. ويرى الكثير من المؤرخين أن ابن الهيثم يعد رائد المنهجية العلمية الحديثة؛ فقد اعتمد في بحوثه على التجربة والملاحظة بهدف الوصول إلى الحقيقة، وقد وضع طرائق

بحث، اكتب تقريراً عن رائد في حقل العلوم أو الدواء كان له دور في جعل حياتنا أفضل، واذكر اسمه، وكيف توصل إلى اكتشافاته المهمة، واعرض ذلك على زملائك في الصف.

العلوم
تبرع المواقع الإلكترونية

ارجع إلى المواقع الإلكترونية عبر شبكة الإنترنت.



دليل مراجعة الفصل

مراجعة الأفكار الرئيسية

الدرس الأول أسلوب العلم

1. العلم هو أسلوب دقيق لفهم العالم من حولنا. أما التقنية فهي استعمال للمعرفة التي نتوصل إليها عن طريق التفكير العلمي وحل المشكلات للحصول على منتجات وأدوات جديدة. ويستفيد علماء الآثار من العلم والتقنية معاً لدراسة آثار الإنسان الذي عاش قديماً.
2. كثيراً ما يقع الكشف عن المواقع الأثرية دون قصد أو تدمير، وعادة يتم التنقيب ببطء وعناية شديدين؛ حرصاً على الموقع وما فيه من آثار مهمة.
3. يمكن تقدير أعمار بعض الآثار - ومنها العظام - باستخدام التحليل الكيميائي.

الدرس الثاني حل المشكلات بطريقة علمية

1. تتضمن التجارب العلمية بعض العوامل (أو المتغيرات) التي يتم التعامل معها. المتغير المستقل متغير يقوم الباحث بتغييره. أما المتغير التابع فهو عامل يتغير تبعاً لتغير المتغير المستقل. يغير الباحث المتغير المستقل، ويلاحظ مدى تأثيره في المتغير التابع.
2. الثوابت عوامل لا تتغير في التجربة.
3. الطريقة العلمية خطوات منظمة تتبعها في حل المشكلات، وتتضمن تحديد المشكلة، وتكوين الفرضيات واختبارها، ثم تحليل النتائج، والتوصل إلى الاستنتاجات.

تصور الأفكار الرئيسية

أعد رسم الخريطة المفاهيمية التالية، ثم أكملها مستعيناً بالفردات الآتية: المكتبة، الدراسات الميدانية، الحفظ والتنظيف، البحث، الإنترنت، الرادار، التحليل الكيميائي.



استخدام المضردات

ما المصطلح الذي تصفه كل عبارة مما يلي؟

١. عامل يقوم الباحث بتغييره في التجربة.
٢. عبارة يمكن فحصها واختبارها.
٣. أسلوب منظم يتكوّن من عدة خطوات لحل المشكلات.
٤. أسلوب لفهم العالم من حولنا.
٥. عامل لا يتغير في أثناء التجربة.
٦. متغير يُقاس في أثناء التجربة.

تثبيت المفاهيم

اختر الإجابة الصحيحة فيما يلي:

٧. ما الذي يفعله مُنفذ التجربة بعد تحليله البيانات؟
 - أ. يجري التجربة
 - ب. يصوغ فرضية
 - ج. يستخلص النتائج
 - د. يحدد المشكلة
٨. يضع العلماء خرائط للمواقع الأثرية من أجل:
 - أ. تصوير قطع الآثار
 - ب. حساب العمر الصحيح للقطع الأثرية
 - ج. تسجيل مكان وجود القطع الأثرية
 - د. اكتشاف القطع الأثرية
٩. ينشر العالمُ نتائج تجاربه. ما اسم هذه المهارة العلمية؟
 - أ. الملاحظة
 - ب. التواصل
 - ج. الاستنتاج
 - د. تكوين الفرضية

١٠. أي مما يأتي لا يُعد من خطوات الطريقة العلمية؟

- أ. اختبار الفرضية
 - ب. الملاحظة
 - ج. تغيير النتائج
 - د. الاستنتاج
١١. يجب إعادة التجربة من أجل:
- أ. تكوين فرضية
 - ب. تقليل احتمال حدوث خطأ
 - ج. تغيير الضوابط
 - د. تحديد المشكلة
١٢. ما التقنية التي تساعد عالم الآثار على رؤية مكان مطمور قبل استكشافه؟
- أ. الحاسوب
 - ب. رسم الخرائط
 - ج. الرادار
 - د. الكاميرا
١٣. ما الخطوة الأولى في الطريقة العلمية؟
- أ. جمع العينات
 - ب. الوصول إلى الاستنتاجات
 - ج. ضبط المتغيرات
 - د. تحديد المشكلة

التفكير الناقد

١٤. استخلص النتائج عشر عالم آثار في موقع أثري على قطع أثرية مختلفة، وجدها موزعة في عدة طبقات. ما الذي يمكن أن يستنتجه من ذلك عمّن كانوا يعيشون قديمًا في هذا المكان؟
١٥. فسر لماذا تعد العبارة التالية غير صحيحة؟ "ينحصر عمل العلماء داخل المختبرات".
١٦. وضح هل تُحل كل المشكلات العلمية باتباع الخطوات نفسها؟

أنشطة تقويم الأداء

٢١. تصميم تجربة وضح كيف يمكنك اختبار نوع الصابون الذي ينظف أفضل؟ تأكد من استعمالك المتغيرات والثوابت في إجرائك التجربة.
٢٢. عرض شفهي ابحث كيف تُستعمل التقنيات الحديثة في دراسة الأثار الإنسانية القديمة؟ واعررض ما توصلت إليه على زملائك.

تطبيق الرياضيات

٢٣. عينة تربة جمع جيولوجي ٢,٥ كجم من تربة معينة لتحليلها. إذا تطلب إجراء التحليل ٢٠ جراماً فقط من تراب هذه العينة، فما النسبة المئوية لعينة التربة التي سيتم تحليلها؟

١٧. قوم ما أهمية التدوين الدقيق في أثناء الاستقصاء العلمي؟

١٨. خريطة مفاهيمية أعد رسم الخريطة المفاهيمية في دفتر العلوم حول الخطوات المتبعة عادة في الطريقة العلمية، ثم أكملها، مستعيناً بالمصطلحات التالية: إجراء التجربة، تحليل البيانات، تكوين الفرضيات، الملاحظة.

تحديد المشكلة
تصميم التجربة
الاستنتاج

استعن بالشكل التالي على الإجابة عن السؤالين ١٩ و ٢٠.



١٩. وضح أهم ما تستنتجه من الشكل.

٢٠. اذكر بعض التقنيات التي تراها في الشكل.

المخاليط والمحاليل

الفكرة العامة

تصنف المواد إلى مواد نقية (عناصر أو مركبات)، أو مخاليط (متجانسة أو غير متجانسة).

الدرس الأول

المحاليل والذائبية

الفكرة الرئيسية، المخاليل مخاليط متجانسة، صلبة أو سائلة أو غازية. ويعبر عن الذائبية بكمية المذاب في كمية معينة من المذيب عند درجة حرارة وضغط معينين.

الدرس الثاني

المحاليل الحمضية

والمحاليل القاعدية

الفكرة الرئيسية، عند ذوبان الأحماض في الماء تنتج أيونات الهيدرونيوم (H_3O^+)، بينما تُنتج القواعد أيونات الهيدروكسيد (OH^-) عند ذوبانها في الماء.

المخاليط

في الرحلة الاستكشافية التي قام بها باحث الجيولوجيا الدكتور روبرت بولارد وفريقه من الباحثين في مجالات رسم قاع المحيطات وكيمياء الأرض عام ١٩٧٧؛ اكتشفوا أن أعماق البحار تمتلئ بصور الحياة عكس ما اعتقد الناس عن أنها بيئة باردة وتخلو من كل صور الحياة.

فالعديد من الأشياء حولك ناتجة عن خليط من المواد؛ وسنجد كل أنواع المحاليل (المخاليط المتجانسة) موجودة في قاع المحيط. وستتعلم في هذا الفصل لماذا تكون بعض المواد مخاليط في حين لا يكون بعضها الآخر.

دفتر العلوم اكتب أربعة أمثلة على المحاليل الموجودة في الصورة.

نشاطات تمهيدية

المحاليل اعمل مطوية تساعدك على تصنيف المحاليل.

المطويات

منظومات الأفكار

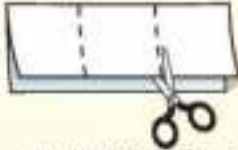
الخطوة ١ اطو ورقة طولياً بحيث يكون أحد جزأيها أقصر من الآخر ٢٥، ١ سم تقريباً.



الخطوة ٢ لف الورقة عرضياً واطوها إلى ثلاثة أجزاء.



الخطوة ٣ افتح الورقة، ثم قص الجزء العلوي منها على طول الطيّن لتحصل على ثلاثة أجزاء.



الخطوة ٤ عنون كل جزء كما في الشكل التالي:



تحديد الأفكار الرئيسة صنف المحاليل في أثناء قراءة الفصل اعتماداً على حالاتها، ودونها تحت الجزء المناسب في المطوية. ارسم دائرة حول المحاليل الحمضية، وخطاً أسفل المحاليل القاعدية.

تجربة

استدلالية

حجم الجسيمات ومعدل الذوبان

لماذا تصنع بعض المواد الغذائية على هيئة مسحوق قابل للذوبان في الماء، وأيهما يذوب أسرع: ملعقة من حساء الدجاج، أم مكعب من حساء الدجاج له نفس كتلة المسحوق؟ ولماذا؟

يذوب حساء الدجاج في الماء بسرعة أكبر مما لو كان في صورة مكعب.

لأن المسحوق مقسم إلى جسيمات أصغر، لذا تتعرض جسيمات المسحوق لكمية أكبر من الماء. سنكتشف في هذه التجربة أثر حجم جسيمات المادة في معدل ذوبانها.



١. اسكب ٤٠٠ مل من الماء في كل من كأسين زجاجيين سعة كل منهما ٦٠٠ مل.
٢. أحضر مكعبين من حساء الدجاج، واطحن أحدهما باستعمال الهاون حتى يصير مسحوقاً.
٣. ضع حساء الدجاج في إحدى الكأسين، ومكعب حساء الدجاج في الكأس الثانية.
٤. حرك الماء في كلتا الكأسين مدة ١٠ ثوان، ولاحظ ما يحدث.
٥. التفكير الناقد اكتب فقرة في دفتر العلوم تقارن فيها بين لوني السائلين وكمية الحساء غير الذائب في قعر كل من الكأسين، وكيف يؤثر حجم الحبيبات في معدل ذوبان المادة؟

أتهياً للقراءة

السبب والنتيجة

١ **أتعلم** السبب هو تفسير حدوث الأشياء، والنتيجة هي أثر ما يحدث. وتعلم تحديد السبب والنتيجة يساعداك على معرفة لماذا تحدث الأشياء. وباستخدام المنظومات التخطيطية يمكنك ترتيب الأسباب والنتائج وتحليلها في أثناء قراءةك.

٢ **أدرب** اقرأ الفقرة التالية، ثم استخدم المنظم التخطيطي أدناه لتبين ما قد يحدث عند تبريد المحلول:

تحت ظروف محددة، يمكن أن تبلور (ترسب) كمية من المذاب على أي سطح خارج المحلول وذلك في صورة مادة صلبة بعملية فيزيائية تسمى التبلور، وتحدث هذه العملية أحياناً عند تبريد المحلول أو بعد تبخير جزء من المذيب.



٣ **أطبق** انتبه جيداً في أثناء قراءة الفصل لأسباب الذوبان ونواتجه، وحدد سبباً واحداً على الأقل، ونتيجته.

إرشاد

تساعدك المنظمات التخطيطية
- ومنها منظم السبب والنتيجة -
على تنظيم ما تقرأ؛ ليسهل فهمه
وتذكره لاحقاً.

توجيه القراءة وتركيزها

ركز على الأفكار الرئيسة عند قراءتك الفصل باتباعك ما يأتي:

١ قبل قراءة الفصل أجب عن العبارات في ورقة العمل أدناه:

• اكتب (م) إذا كنت موافقاً على العبارة.

• اكتب (غ) إذا كنت غير موافق على العبارة.

٢ بعد قراءة الفصل ارجع إلى هذه الصفحة لترى ما إذا كنت قد غيرت رأيك حول أي من هذه العبارات.

• إذا غيرت إحدى الإجابات فبين السبب.

• صحح العبارات غير الصحيحة.

• استرشد بالعبارات الصحيحة في أثناء دراستك.

قبل القراءة م أوغ	العبارة	بعد القراءة م أوغ
	١- يمكن تغيير المادة النقية إلى مادة أخرى أو أكثر بالعمليات الكيميائية فقط.	
	٢- يُعدّ شرب عصير الفاكهة مثلاً على المواد النقية.	
	٣- النحاس الأصفر نوع من الفلزات، وهو مثال على المحلول.	
	٤- تختلف ذائبية المذاب في المذيب باختلاف درجة الحرارة.	
	٥- المذاب الذي يذوب سريعاً يكون أكثر ذائبية من الذي يذوب ببطء.	
	٦- يمكنك زيادة ذائبية مذاب بتحريكه في المذيب.	
	٧- التركيز قياس لكمية المذاب التي ذابت في المحلول.	
	٨- الحمض القوي هو الحمض المركّز.	
	٩- كلما زاد عدد ذرات الهيدروجين التي يحويها الحمض كان الحمض أقوى.	



المحاليل والذائبية

المواد

يختلف الماء النقي عن الماء المالح وعصير البرتقال غير المصفى، ويمكن لعلم الكيمياء أن يفسر هذه الاختلافات. لنفكر مثلاً في الماء النقي؛ فبغض النظر عما يتعرض له من عمليات فيزيائية - ومنها التجمد والغليان والرج والضغط - إلا أنه يبقى محافظاً على صفاته ويظل ماءً. ولكن عند غلي الماء المالح يتبخر الماء تاركاً الملح. وعند تصفية عصير البرتقال يفصل عنه اللب. كيف يفسر علم الكيمياء هذه الاختلافات؟ يعتمد الجواب عن هذا السؤال على التراكيب الكيميائية للمواد.

المادة النقية تسمى المادة التي لها تركيب كيميائي محدد وثابت؛ ولا يمكن تجزئتها إلى مواد أبسط بواسطة العمليات الفيزيائية كالغلي، أو الطحن، أو الترشيح **المادة النقية** Substance. قد تكون المواد النقية في صورة عناصر؛ فكل الذرات التي لها ثمانية بروتونات مثلاً هي ذرات عنصر الأكسجين. وكل عنصر يحتوي على نوع من الذرات، لذا تعد العناصر مواد نقية. كما يمكن أن تكون في صورة مركب يتكون من اتحاد عنصرين أو أكثر، وله تركيب ثابت، أي أن النسبة بين ذرات العناصر المكوّنة للمركب ثابتة، فالماء مركب مكون من عنصري الهيدروجين والأكسجين؛ فهو يتكون من اتحاد ذرتي هيدروجين مع ذرة أكسجين واحدة، سواء أكان في صورة ثلج أو سائل أو بخار.

المخاليط

عرفت أن الماء المالح ليس مادة نقية؛ لأنه مخلوط من الملح والماء. والمخلوط مكوّن من مواد غير مترابطة، ينسب غير محددة، ويمكن فصل بعضها عن بعض بالعمليات الفيزيائية؛ فبغلي الماء المالح مثلاً يتفصل الملح عن الماء، وبالمغناطيس تنفصل برادة الحديد عن الرمل، والمصفاة تفصل لب الليمون عن عصير الليمون كما في الشكل ١.



فهم هذا الدرس

الأهداف

- تمييز المادة النقية والمخلوط.
- تصف نوعين مختلفين من المخاليط.
- تصف أنواعاً مختلفة من المحاليل.
- تفسر لماذا يعد الماء مذيّباً عاماً جيّداً.
- تحدد العوامل المؤثرة في كمية المذاب التي تذوب في مذيب ما.
- تصف تأثير درجة الحرارة في سرعة الذوبان.
- تصف تأثير تركيب المركب في نوع المواد المذابة فيه.

الأهمية

الهواء الذي نتنفسه، والماء الذي نشربه، وحتى بعض مكونات أجسامنا محاليل.

مراجعة المفردات

البروتون: جسيم موجب الشحنة يوجد في نواة الذرة.

المفردات الجديدة

- المادة النقية
- المذيب
- المخلوط غير المتجانس
- الراسب
- المخلوط المتجانس
- المحلول المائي
- المخلوط المتجانس
- الذائبية
- المحلول
- المحلول المشبع
- المذاب
- التركيز

الشكل ١ يمكن فصل المخاليط بالعمليات الفيزيائية.

فسر لماذا لا يُعد مخلوط برادة الحديد مع الرمل، أو عصير الليمون الطازج من المواد النقية؟



المخاليط غير المتجانسة من السهل تعرّف معظم المخاليط غير المتجانسة Heterogeneous Mixtures بمجرد النظر إليها؛ إذ تكون المواد فيها غير موزعة بانتظام، وتختلف نسبتها من موضع إلى آخر، وغالبًا ما يسهل فصل مكوناتها. فمثلًا صحن سلطة الخضار قد يحتوي على كمية من الطماطم أكثر أو أقل من كمية الأصناف الأخرى، كالخيار والملفوف. كما أنّ المكونات وكمية كل منها تختلف عند أخذ عينات مختلفة من السلطة نفسها.

الشكل ٢ جزيئات الماء والسكر مخلوطة بانتظام في العصائر المجمدة.

المخاليط المتجانسة عند النظر إلى الشامبو الذي تستخدمه مثلًا سيبدو أن له نفس اللون والتركيب، مع أنه يحوي على العديد من المواد المخلوطة معًا؛ فالشامبو محلول متجانس يحوي مادتين أو أكثر خلطت بانتظام على المستوى الجزيئي دون أن يرتبط بعضها ببعض. ويطلق على المخلوط المتجانس Homogeneous Mixture أيضًا اسم **المحلول Solution**. فالسكر المذاب في الماء محلول؛ حيث تتوزع جزيئات السكر في الماء بانتظام، كما في الشكل ٢، حتى أنك لا تستطيع رؤية السكر. وغالبًا ما يصعب فصل مكونات المخلوط المتجانس مقارنةً بالمخلوط غير المتجانس.

ماذا فرأت؟ ما الاسم الآخر للمخلوط المتجانس؟

كيف تتكون المحاليل؟

عندما تحضر محلول الماء والسكر تضيف السكر إلى الماء، وتسخن المخلوط حتى يختفي السكر. عند ذوبان السكر في الماء تتوزع جزيئاته بانتظام في الماء مشكلةً محلولاً. وتُسمى المادة التي تذوب وكأنها اختفت **المذاب Solute**. أما المادة التي تُذيب المذاب فتُسمى **المذيب Solvent**. فما المذيب، وما المذاب في محلول السكر والماء؟ وأيهما تكون كميته أكبر؟ في محلول السكر: الماء هو المذيب، ونسبته أكبر في المحلول، والسكر هو المذاب.

تكون المواد الصلبة من المحاليل تحت ظروف محددة يمكن أن تتبلور (ترسب) كمية من المذاب على أي سطح متوفر في المحلول في صورة مادة صلبة بعملية فيزيائية تُسمى التبلور. وتحدث هذه العملية أحيانًا عند تبريد المحلول أو بعد تبخر جزء من المذيب. وقد ينتج عن خلط بعض المحاليل وحدث تفاعل كيميائي بينها مادة صلبة أيضًا، ويحدث هذا بعملية كيميائية تُسمى الترسيب؛ حيث يطلق على المادة الصلبة اسم **راسب**

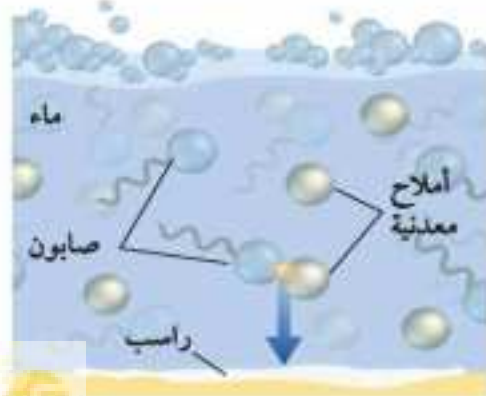
Precipitate. ومنها الرواسب التي نراها في حوض الاستحمام والمغسلة؛ فالأملاح المعدنية المذابة في ماء الصنبور تتفاعل كيميائيًا مع الصابون، وترسب ناتج التفاعل، كما في الشكل ٣.



العلوم
عبر المواقع الإلكترونية

تحلية مياه البحر
ارجع إلى المواقع الإلكترونية عبر شبكة الإنترنت
لتعرف كيف يُفصل الملح عن المياه المالحة لإنتاج ماء صالح للشرب.
نشاط قارن بين الطريقتين الشائعتين لتحلية مياه البحر.

الشكل ٣ تتفاعل الأملاح مع الصابون فتشكل راسبًا.



أنواع المحاليل

لقد مر عليك بعض المحاليل التي يكون فيها المذاب صلبًا والمذيب سائلًا، إلا أن المحاليل قد تكون بتركيبات مختلفة من المواد الصلبة والسائلة والغازية، كما في الجدول ١.

الجدول ١. أمثلة على المحاليل الشائعة			
حالة المحلول	المذاب / حالته	المذيب / حالته	
غاز	الأكسجين/ غاز ثاني أكسيد الكربون/ غاز، الأرجون/ غاز	النيتروجين/ غاز	الهواء الجوي
سائل	الملح/ صلب الأكسجين/ غاز، ثاني أكسيد الكربون/ غاز	الماء/ سائل	ماء المحيط
سائل	ثاني أكسيد الكربون/ غاز	الماء/ سائل	المشروبات الغازية
صلب	الحلزون/ صلب	النحاس/ صلب	النحاس الأصفر

المحاليل السائلة

ربما كانت المحاليل السائلة أكثر شيوعًا، كما في الشكل ٤، والتي يكون فيها المذيب سائلًا، والمذاب سائلًا أو مادة صلبة أو غازًا. هذه المحاليل جميعها محاليل سائلة؛ لأن حالة المحلول تحددها حالة المذيب، وقد سبق لك أن تعرفت محاليل (سائل- صلب)؛ ومنها محلول السكر والماء، ومحلول الملح والماء.

محاليل (غاز- سائل) تُعد المشروبات الغازية مثالاً على هذا النوع من المحاليل؛ إذ يكون الماء هو المذيب السائل، وغاز ثاني أكسيد الكربون هو المذاب الغازي. ويزود ثاني أكسيد الكربون الشراب بالفقايع الفوّارة والطعم اللاذع. ويمكن للمشروب الغازي أن يحتوي مواد أخرى مذابة، ومنها تلك التي تكسبه لونه وطعمه.

✓ **ماذا قرأت؟** ما المواد المذابة في المشروبات الغازية؟

محاليل (سائل- سائل) في هذا النوع من المحاليل يكون كلٌّ من المذيب والمذاب سائلًا؛ فالخلل مثلاً مصنوع من الماء بنسبة ٩٥٪ (المذيب)، ومن حمض الأسيتيك (الخليل) والمعروف بالإيثانويك بنسبة ٥٪ (المذاب).

الشكل ٤ حمض الخل السائل، وغاز ثاني أكسيد الكربون، وحييات الشراب الصلبة يمكن أن تذوب جميعها في الماء السائل.

حدد هل يمكن لمحلول سائل أن يحتوي على الأنواع الثلاثة من المواد المذابة؟



المحاليل الغازية

في المحاليل الغازية تذوب كمية قليلة من أحد الغازات في كمية أكبر من غاز آخر، وتُسمى كذلك محاليل غاز-غاز؛ لأن كلاً من المذيب والمذاب غاز. ومن المحاليل الغازية الهواء الذي نتنفسه؛ إذ يشكّل النيتروجين ٧٨٪ تقريباً من الهواء الجاف ويعدّ مذيباً، أما الغازات الأخرى في الهواء فتعد غازات مذابة.

المحاليل الصلبة

يكون المذيب صلباً فيها، أما المذاب فقد يكون صلباً أو سائلاً أو غازياً. والمحاليل الصلبة الأكثر شيوعاً هي التي يكون فيها كل من المذيب والمذاب مادة صلبة. والسيبكة الفلزية محلولة مكونة من فلزين أو أكثر. ويمكن أن تحتوي السبكة الفلزية على مادة غير فلزية، ومن ذلك سبكة الفولاذ التي تحوي الكربون الذي يجعل الفولاذ أكثر قوة ومرونة من الحديد. ويوضح الشكل ٥ نوعين من السبائك.

الماء مذيب عام

يوصف الماء بأنه مذيب عام؛ وذلك لقدرته على إذابة العديد من المواد. وتسمى المحاليل التي يكون الماء فيها مذيباً **المحاليل المائية** Aqueous solutions ومنها عصير الفواكه والخل. ولكي تعرف سبب قدرة الماء هذه فإن عليك معرفة بعض المعلومات عن الذرات والروابط بينها.

الروابط التساهمية تتكون بعض المركبات والجزيئات عندما تشارك ذراتها في الإلكترونات، ويتج عن هذا التشارك روابط تساهمية. وتُسمى المركبات التي فيها هذا النوع من الروابط المركبات الجزيئية، أو الجزيئات.

وإذا احتوى الجزيء على توزيع منتظم للإلكترونات وُصف بأنه غير قطبي، انظر جزيء الهيدروجين في الشكل ٦. أما الجزيئات التي لا تتوزع فيها الإلكترونات بصورة منتظمة فيقال إن جزيئاتها قطبية؛ ومنها جزيء الماء؛ حيث ترتبط فيه ذرتا هيدروجين بذرة أكسجين، انظر الشكل ٦؛ إذ تستغرق الإلكترونات الرابطة بين ذرة أكسجين وذرتي الهيدروجين في الدوران حول ذرة الأكسجين وقتاً أطول مما تستغرقه

الشكل ٥ السبائك الفلزية تحوي مواد فلزية أو لافلزية مذابة في مادة فلزية.

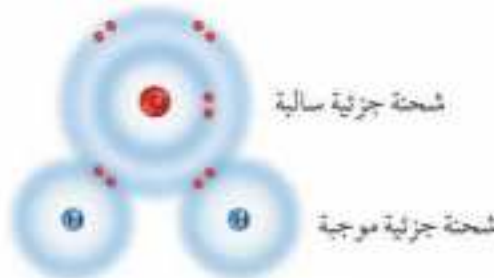


النحاس الأصفر محلول محلول صلب مصنوع من النحاس والقصدير.



الصلب محلول محلول صلب من فلز الحديد والكربون.

الشكل ٦ بعض الذرات تشارك في الإلكترونات لتكوين روابط تساهمية كما في جزيء الهيدروجين وجزيء الماء.



تستغرق الإلكترونات في الدوران حول ذرة الأكسجين وقتاً أطول مما تستغرقه في دورانها حول ذرتي الهيدروجين. وهذا الجزيء قطبي.



تتشارك ذرتا الهيدروجين في الإلكترونات بالتساوي. لذا هذا الجزيء غير قطبي.

المحليل إن ماء البحر محلول يحوي كل العناصر المعروفة على الأرض تقريباً، ويوجد معظمها بكميات ضئيلة. وأكثر الأيونات شيوعاً فيه هي أيونات الصوديوم والكلور، وهناك غازات ذائبة فيه، أهمها الأكسجين والنتروجين وثاني أكسيد الكربون.

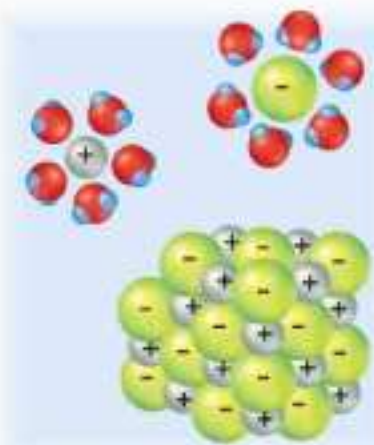
في دورانها حول ذرتي الهيدروجين، فتتج شحنة جزئية سالبة على ذرة الأكسجين، في حين تتج شحنة جزئية موجبة عند كل من ذرتي الهيدروجين، لتبقى بذلك شحنة جزيء الماء متعادلة. ويسمى مثل هذا الجزيء قطيئاً، ويطلق على الروابط بين ذراته روابط تساهمية أو تشاركية قطبية.

الروابط الأيونية أحياناً لا تشارك الذرات في الإلكترونات لتكوين بعض المركبات، وبدلاً من ذلك تفقد الذرات بعض إلكتروناتها أو تكتسب إلكترونات أخرى، وعندئذ لا يتساوى عدد البروتونات الموجبة مع عدد الإلكترونات السالبة في الذرة، فتصبح الذرة سالبة الشحنة أو موجبة. ويطلق على الذرات المشحونة اسم الأيونات (أيونات موجبة، أيونات سالبة)، وتسمى الروابط بين الأيونات الروابط الأيونية. وتسمى المركبات المتكوّنة من الأيونات مركبات أيونية. فملح الطعام مركب أيوني يتكون من أيونات الصوديوم الموجبة وأيونات الكلوريد السالبة. وفي هذا المركب فقدت ذرة الصوديوم إلكترونات لتصبح أيون صوديوم موجباً، واكتسبت ذرة الكلور الإلكترون المفقود من ذرة الصوديوم لتصبح أيون كلور سالباً.

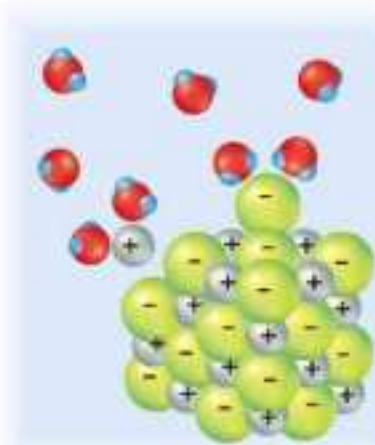
✓ **ماذا قرأت؟** كيف يختلف المركب الأيوني عن المركب الجزيئي (التساهمي)؟

كيف يذيب الماء المركبات الأيونية؟ فكّر في خصائص الماء وخصائص المركبات الأيونية. ترى، كيف تذوب المركبات الأيونية في الماء؟ لأن جزيئات الماء قطبية فإنها تتجاذب مع كل من الأيونات الموجبة والأيونات السالبة. فحيث توجد ذرات الهيدروجين يكون الطرف الموجب من جزيء الماء، فيتجاذب مع الأيونات السالبة، في حين يكون الطرف السالب من جزيء الماء حيث توجد ذرة الأكسجين، فيتجاذب مع الأيونات الموجبة. وهكذا تنفصل الأيونات المختلفة للمركب الأيوني بعضها عن بعض بفعل جزيئات الماء. ويوضح الشكل ٧ كيفية ذوبان كلوريد الصوديوم في الماء.

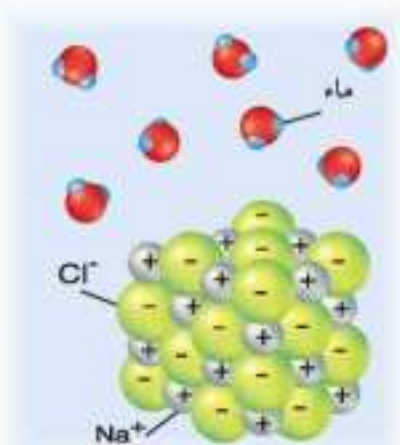
الشكل ٧ الماء يذيب ملح الطعام؛ لأن شحنته الجزئية تتجذب نحو الأيونات المشحونة في الملح.



ابتعدت أيونات الصوديوم وأيونات الكلور بعضها عن بعض لينجذب إلى كل منها جزيئات ماء أخرى.

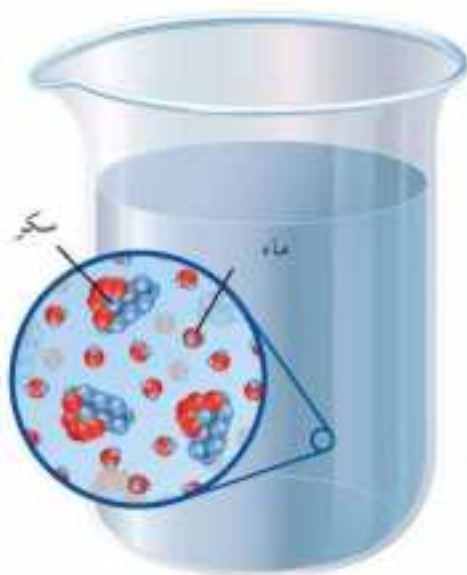


في جزيء ماء آخر يتجذب الهيدروجين المشحون جزئياً بشحنة موجبة نحو أيون الكلور السالب.

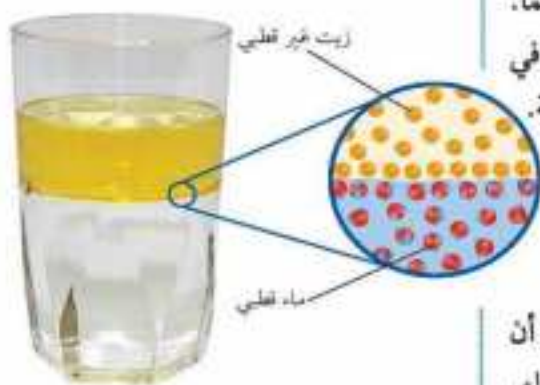


في جزيء الماء يتجذب الأكسجين المشحون جزئياً بشحنة سالبة نحو أيون الصوديوم الموجب الشحنة.

الشكل ٨ انتشرت جزيئات السكر في الماء وتباعدت بانتظام.



الشكل ٩ الماء والزيت لا يختلطان؛ لأن جزيئات الماء قطبية، وجزيئات الزيت غير قطبية.



تحديد الذائبة

تجربة عملية

أحد أساليب دراسة الذائبية العملية

كيف يُذيب الماء المركبات الجزيئية (التساهمية)؟ هل يمكن للماء كذلك أن يذيب المركبات الجزيئية التي لا تتكون من أيونات؟ يذيب الماء أيضاً المركبات الجزيئية ومنها السكر دون أن تتأين أو تتفكك جزيئاتها؛ حيث يتخلل الماء بين جزيئات السكر، فيعمل على إحاطة جزيء السكر بواسطة جزيئات الماء. والسكر مركب قطبي مثل الماء. وجزيئات الماء القطبية تنجذب إلى المناطق السالبة والمناطق الموجبة لجزيء السكر القطبي، وعندئذ يتم فصل جزيئات السكر بعضها عن بعض، وتنتشر في الماء بانتظام فتتشتت قوى تجاذب بينهما تسمى الروابط الهيدروجينية، كما يوضح الشكل ٨.

ما الذي يذوب؟

عندما تحرك ملعقة سكر في كوب ماء يذوب جميع السكر، أما فلز الملعقة نفسها فلا يذوب منه شيء. لماذا يُذيب الماء السكر ولا يُذيب الفلز؟ تسمى المادة التي تذوب في أخرى مادة قابلة للذوبان؛ فالسكر قابل للذوبان في الماء، أما فلز الملعقة فغير قابل للذوبان فيه، تسمى عملية إحاطة جسيمات المذاب بجسيمات المذيب (الذوبان).

المثل يُذيب المثل يستخدم الكيميائيون هذا المبدأ، ويعني أن المذيبات القطبية تذيب المواد القطبية، والمذيبات غير القطبية تذيب المواد غير القطبية. فكل من السكر والماء مادة قطبية، لذا يذوب السكر في الماء. وكذلك يذوب الملح في الماء؛ فلكل منهما شحنات موجبة وسالبة؛ فالمحلول مركب أيوني والماء جزيئي قطبي.

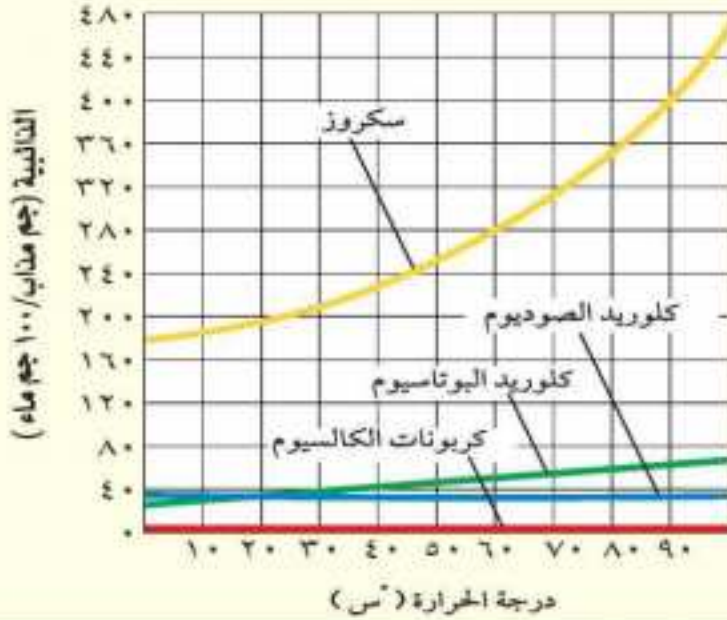
أما إذا كان المذاب والمذيب مختلفين فلا يحدث ذوبان. فمثلاً لا يختلط الزيت بالماء؛ لأن جزيئات الماء قطبية، وجزيئات الزيت غير قطبية، فلا يتم التجاذب بينهما. ولو صببت الزيت في كأس ماء لبقى كل من الزيت والماء منفصلاً عن الآخر في صورة طبقات، كما في الشكل ٩. ويذوب الزيت عموماً في المذيبات غير القطبية.

ماذا قرأت؟ ماذا تعني عبارة "المثل يذيب المثل"؟

ما مقدار الذائبة؟

على الرغم من أن السكر قابل للذوبان في الماء، إلا أنك إذا حاولت أن تذيب ١ كجم من السكر في كوب صغير من الماء فلن يذوب السكر كله. وتعرف **الذائبة Solubility** بأنها كمية المادة التي يمكن إذابتها في ١٠٠ جرام من المذيب عند درجة حرارة معينة. وبعض المواد عالية الذائبة، أي تذوب كمية كبيرة منها في ١٠٠ جرام من المذيب. فكرومات البوتاسيوم مثلاً يذوب ٦٣ جراماً منها في ١٠٠ جرام ماء عند ٢٥°س. وهناك مواد أخرى قليلة الذائبة ومنها كبريتات الباريوم التي يذوب ٠,٠٠٠٢٥ جرام منها في ١٠٠ جرام ماء عند ٢٥°س. وتعد المادة غير قابلة للذوبان عندما تكون ذائبيتها قليلة جداً؛ مثل

الذائبية



الشكل ١٠ تتغير ذائبية بعض المواد بزيادة درجة حرارة المذيب.

استخدم الرسم أيهما يحتوي كمية أكبر من كلوريد الصوديوم: ماء المحيط الساخن أم البارد؟

كبريتات الباريوم في الماء.

ماذا فرأت؟ اذكر مثلاً على مادة غير قابلة للذوبان في الماء.

الذائبية في محاليل (صلب - سائل) تتغير ذائبية العديد من المواد بتغير درجة حرارة المذيب؛ فالسكر لا تزداد سرعة ذوبانه في الماء فقط إذا تم تسخين المحلول، بل يمكن إذابة كمية أكبر منه أيضاً. أما بعض المواد - ومنها كلوريد الصوديوم وكربونات الكالسيوم - فلا تزداد ذائبيتها بازدياد درجة حرارة الماء. ويبين الشكل ١٠ تأثير درجة الحرارة في ذائبية بعض المواد.

الذائبية في المحاليل (غاز - سائل) إن زيادة درجة الحرارة تقلل من ذائبية الغازات فيه على عكس محاليل صلب-سائل؛ فعند فتح علبة شراب غازي ساخنة تخرج الفقاعات منها بصورة يصعب السيطرة عليها، في حين أن العلبة الباردة لا تكاد تفور. عندما تُعبأ العلبة يُضغَط فيها كمية إضافية من غاز ثاني أكسيد الكربون في الفراغ فوق السائل، وتؤدي زيادة الضغط إلى إذابة كمية أكبر من الغاز، وعند فتح غطاء العلبة يقل الضغط، فتقل ذائبية غاز ثاني أكسيد الكربون.

ماذا فرأت؟ لماذا يقل مذاق المشروب الغازي بصورة ملحوظة إذا تركت

العلبة مفتوحة عدة أيام؟

المحاليل المشبعة عند إضافة كمية من كربونات الكالسيوم إلى ١٠٠ جرام

تجربة

ملاحظة التغيرات الكيميائية

الخطوات

- خذ كأسين صغيرين من الحليب.
- ضع إحدى الكأسين في الثلاجة، والأخرى على طاولة المطبخ.
- اترك الكأسين على هذه الحالة ليلة كاملة.
- تحذير: لا تشرب الحليب الذي يبقى خارج الثلاجة.
- في اليوم التالي، شَمِّم كلتاه الكأسين، وسجل ملاحظاتك.

التحليل

- قارن رائحة الحليب المبرد بالحليب غير المبرد.
- فسِّر الحاجة إلى وضع الحليب في الثلاجة.

في المنزل



الشكل ١١ يحتوي البحر الميت على تراكيز عالية من المعادن الذائبة. فعندما يتبخر الماء تشكل المعادن على هيئة مختلفة.

معدلات الذوبان
لذرة عملية
لذرة إلى دراسة التغيرات العملية

من الماء عند درجة حرارة 25°C يذوب 0.014 جرام من الكربونات فقط، ولا تذوب أي كمية إضافية منها. ويسمى مثل هذا المحلول **المحلول المشبع** Saturated Solution، أي أنه يحتوي على كل ما يمكن إذابته من المذاب في الظروف المتاحة ويوضح الشكل ١١ محلولاً مشبعاً. وإذا كان المحلول من نوع صلب - سائل فسوف تستقر الكمية الإضافية من المذاب في قعر الإناء.

يمكن تحضير محلول بإذابة كمية من المذاب أقل من الكمية الضرورية لإشباعه، وعندئذ نقول إن المحلول غير مشبع، مثل إذابة 50 جراماً من السكر في 100 جرام ماء عند درجة حرارة 25°C ، فتكون كمية السكر أقل من 204 جرامات، وهي اللازمة لإشباع المحلول عند درجة الحرارة هذه. وغالباً ما يستطيع المذيب الساخن إذابة كمية أكبر من المذاب فيه، وعندما يبرد المحلول المشبع فإن بعض المذاب يترسب من المحلول. وإذا تم التبريد ببطء تبقى كمية إضافية من المذاب مذابة لبعض الوقت تزيد على حدّ الإشباع، وعندئذ يوصف المحلول بأنه فوق الإشباع.

معدل الذوبان

تذوب بعض المواد سريعاً في محاليلها، بينما يحتاج بعضها الآخر إلى وقت طويل ليذوب. ولا تدل ذائبية المحلول على سرعة ذوبانه، وإنما تدل على كمية المذاب التي تذوب عند درجة حرارة معينة. ويمكن تسريع الذوبان بتحريك المحلول، أو بزيادة درجة حرارته، أو بسحق المذاب وتفتيته إلى قطع صغيرة فتزداد مساحة سطح المذاب المعرضة للمحلول، ويزداد معدل الذوبان.

الربط مع
الكيمياء

جزيئات المواد في حركة وتصادم دائمين، وعندما يصطدم بعضها ببعض ينتج عن ذلك تغير كيميائي. ومع زيادة درجة الحرارة تزداد حركة الجزيئات فتزيد التصادمات، مما يُسرّع حدوث التغير الكيميائي. ويحدث العكس عند خفض درجة الحرارة؛ إذ تقل حركة الجزيئات، فتقل التصادمات، مما يبطئ من حدوث التغير الكيميائي. ويُوظف ذلك في عمل الثلاثجات؛ حيث تعمل على خفض درجة حرارة الأطعمة، ومن ثم إبطاء التغير الكيميائي، مما يحفظ الأطعمة فترة أطول.

التركيز

ما الذي يجعل طعم شراب الليمون قوياً أو ضعيفاً؟ إن المسؤول عن هذا هو نسبة كمية الليمون إلى كمية الماء، ويتغير هذه النسبة يمكن الحصول على شراب الليمون بتراكيز مختلفة. و**تركيز** Concentration المحلول يشير إلى كمية المذاب بالنسبة إلى كمية المذيب في المحلول. وكثيراً ما يتم التعبير عن تركيز

الربط مع



الصيدالة يعتمد الأطباء على الصيدالة في تحضير محاليل السوائل الوريدية Intravenous (IV)؛ حيث يبدأ الصيدالة عملهم بالدواء المركز الذي تزودهم به شركات الأدوية ليكون مذاباً في المحاليل التي يقوم الصيدالة بإعدادها. وبإضافة الكمية المناسبة منها إلى كمية من المذيب يتم الحصول على التركيز الذي يطلبه الطبيب. كما يمكن تحضير أكثر من تركيز للدواء نفسه.

المحلول بأنه مركّز أو مخفّف؛ عند مقارنة تراكيز المحاليل التي يتشابه فيها نوع المذاب والمذيب تكون كمية المذاب في المحلول المركز أكبر مما في المحلول المخفّف في الكمية نفسها من المذيب.

من الأساليب الشائعة التي يحدّد بها تركيز المحلول بدقة تحديدُ النسبة المئوية لحجم المذاب إلى حجم المحلول، فعندما يحتوي شراب على ٣٠٪ من عصير فاكهة يكون ٧٠٪ من الشراب ماءً ومواد أخرى، منها المُحلّيات ومُكسّبات الطعم والرائحة. ومن المؤكّد أن هذا الشراب مركز أكثر من شراب آخر يحوي ١٠٪ من عصير فاكهة مثلاً، ولكنه مخفّف كثيراً مقارنة بشراب تكون نسبة العصير فيه ١٠٠٪ انظر الشكل ١٢.

المكونات:	
ماء، مركز عصير الخوخ مع قطع الفاكهة، سكر، حامض الليمون، نكهة الخوخ المماثلة للطبيعة، فيتامين ج، لون طبيعي (إي ١٦٠)، نسبة المواد الصلبة الذائبة ٢١٣، نسبة العصير ٤٣٠	
القيم الغذائية لكل ١٠٠ مل	
طاقة	٥٠٠ كالوري
دهون كلية	> ١ جم
بروتين	> ١ جم
كربوهيدرات كلية	١٢ جم
سكر	١٢ جم
النسبة المئوية للاحتياجات اليومية مبنية على أساس وجبة تحتوي على ٢٠٠٠ سعرة حرارية	

الشكل ١٢ يمكن التعبير عن التراكيز بالنسبة المئوية.

حدد نسبة الماء في هذا العصير على افتراض عدم وجود مواد مذابة أخرى.

تطبيق العلوم

كيف تقارن التراكيز؟

تختلف المحاليل بعضها عن بعض في التركيز أو القوة؛ اعتماداً على كمية المذيب والمذاب المستخدمة. فشراب البرتقال مثلاً يكون لونه أغمق كلما زاد تركيزه؛ حيث تكون فيه كمية أكبر من مسحوق العصير مذابة في كمية الماء نفسها. ماذا يحدث إذا تمّت إضافة المزيد من الماء إلى المحلول؟

تحديد المشكلة

يوضح الجدول السفلي مستويات تركيز مختلفة لمحاليل الجلوكوز، وهو نوع من الكربوهيدرات يتخذُه

الجسم مصدرًا للطاقة. لاحظ أنّ الكمية التي يحددها الجدول بالنسبة للجلوكوز هي كتلته (بالجرام)، أما للماء فهي حجمه (بالمليتر).

حل المشكلة

يصف طبيب وصفة لمريض، وهي ١٠٠٠ مل من محلول الجلوكوز بتركيز ٢٠٪. كم جراماً من الجلوكوز يجب أن تضاف إلى ١٠٠٠ مل ماء لتحضير هذا المحلول؟

محاليل الجلوكوز (جم / ١٠٠ مل)		
تركيز محلول الجلوكوز (%)	المذيب الماء (مل)	المذاب جلوكوز (جم)
٢	١٠٠	٢
٤	١٠٠	٤
١٠	١٠٠	١٠
٢٠	١٠٠	٢٠

اختبر نفسك

١. قارن بين المادة النقية والمخلوط. أعط مثالين على كل منهما.
٢. صف كيف تختلف المخاليط المتجانسة عن المخاليط غير المتجانسة؟
٣. وضح كيف يتكون المحلول؟
٤. حدّد اسم المحلول الفلزّي من نوع صلب-صلب.
٥. حدّد خاصية الماء التي تجعله مذيبًا عامًّا.
٦. صف طريقتين لزيادة سرعة ذوبان المادة.
٧. استنتج لماذا يُعد من الضروري إضافة كلوريد الصوديوم إلى الماء عند صنع مثلجات منزلية؟
٨. التفكير الناقد

- للسوائل المستخدمة في محلات غسل الملابس القدرة على إزالة الشحوم والدهنيات التي لا يستطيع الماء إزالتها. لماذا؟
- فسر لماذا تُصنّع حلقة فتح علب المشروبات الغازية من سبيكة ألومنيوم تختلف عما تصنع منها الأغطية نفسها؟

تطبيق المهارات

٩. المقارنة قارن بين المحاليل التالية: مخلوط الهيليوم والنيون، والبرونز (سبيكة نحاس، قصدير)، وعصير الزنجبيل.
١٠. تعرف السبب والنتيجة عندما تشتري بعض المواد الغذائية من أحد المتاجر فعليك أن تحملها إلى البيت إذا كانت درجة حرارة الجو ٢٥ س، أسرع مما لو كانت درجة حرارة الجو ٢ س. فسر ذلك في ضوء ما درست عن التفاعلات الكيميائية.

الخلاصة

المواد

- العناصر مواد نقية لا يمكن تجزئتها إلى مواد أبسط بعمليات فيزيائية.
- يتكون المركب من عنصرين أو أكثر بينهما روابط كيميائية.

المخاليط والمحاليل

- تكون المخاليط متجانسة أو غير متجانسة.
- يتكون المحلول من مذاب ومذيب.
- التبلور والترسيب من الطرائق المتبعة للحصول على المواد الصلبة من المحاليل.

أنواع المحاليل

- يمكن أن تكون المذيبات والمواد الذائبة مواد صلبة أو سائلة أو غازية.

المذيب العام

- يوصف الماء بأنه مذيب عام.
- الجزيء الذي تتوزع الإلكترونات فيه بصورة غير منتظمة يكون جزيئًا قطبيًا.
- الجزيء الذي تتوزع الإلكترونات فيه بصورة منتظمة يكون جزيئًا غير قطبي.
- المركب الذي تفقد فيه الذرات الإلكترونات أو تكسبها يُسمى مركبًا أيونيًا.

ذوبان المواد

- يستخدم الكيميائيون مبدأ «المثل يذيب المثل».

التركيز

- التركيز هو نسبة كمية المذاب إلى كمية المذيب.



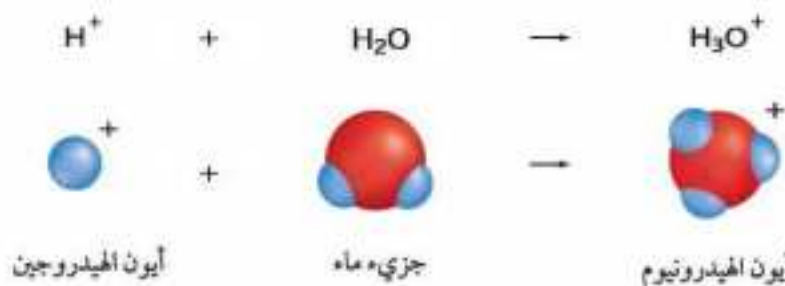
المحاليل الحمضية والمحاليل القاعدية

الأحماض

ما الذي يجعل طعم كل من عصير البرتقال والمخللات والحمضيات لاذعًا؟ إن الأحماض الموجودة في هذه الأغذية وغيرها هي المسؤولة عن هذا الطعم. **والأحماض Acids** مواد تطلق أيونات الهيدروجين الموجبة H^+ في الماء، ويتحد أيون الهيدروجين مع جزيء ماء لتكوين أيون الهيدرونيوم، كما في الشكل ١٣. **وأيون الهيدرونيوم Hydronium Ion** له شحنة موجبة، وصيغته H_3O^+ .

خصائص المحاليل الحمضية من خصائص المحاليل الحمضية الطعم اللاذع. وبه يتميز وجود الأحماض في الطعام. عليك أن تحذر تذوق أي شيء في المختبر؛ فالعديد من الأحماض تسبب حروقًا لأنسجة الجسم، وهي كاوية يمكنها إلحاق الضرر بالعديد من المواد، وتسبب تآكل الأقمشة والجلد والورق وغيرها.

والأحماض موصلة للكهرباء؛ إذ تستطيع أيونات الهيدرونيوم نقل الشحنات الكهربائية، ولهذا تستخدم الأحماض في بعض البطاريات. وتتفاعل محاليل بعض الأحماض بشدة مع أنواع من الفلزات، ويتج غاز الهيدروجين.



الشكل ١٣ يتحد أيون هيدروجين مع جزيء ماء لتكوين أيون الهيدرونيوم الموجب الشحنة.

حدد ما أنواع المواد التي تمثل مصدرًا لأيونات الهيدروجين؟

ففي هذا الدرس

الأهداف

- تقارن بين خصائص الأحماض والقواعد.
- تصف الاستخدامات التطبيقية للأحماض والقواعد.
- توضح استخدامات مقياس الرقم الهيدروجيني pH لوصف قوة الحمض أو القاعدة.
- تصف تفاعل الحمض مع القاعدة.

الأهمية

تعمل العديد من المنتجات - ومنها البطاريات والمواد القاسرة للألوان (المزيل للألوان) بسبب وجود الأحماض والقواعد فيها.

مراجعة المفردات

الخاصية الفيزيائية: أي صفة للمادة يمكن مشاهدتها أو قياسها دون تغيير للمادة.

المفردات الجديدة

- الحمض
- الكاشف
- أيون الهيدرونيوم
- التعادل
- القاعدة
- الرقم الهيدروجيني pH

الشكل ١٤ يحتوي كل من هذه المنتجات على حمض، أو صنع باستعمال حمض. صف كيف تكون الحياة مختلفة لو لم تتوفر الأحماض لصناعة هذه المواد؟



تجربة

ملاحظة التغيرات على مسمار حديدي في مشروب غازي.

الخطوات

١. لاحظ كيف يبدو المسمار في بداية التجربة.
٢. صب كمية كافية من المشروب الغازي في كأس زجاجية.
٣. أسقط المسمار في الكأس ولاحظ ما يحدث.
٤. دَع المسمار في الشراب طوال الليل، وشاهده في اليوم التالي.

التحليل

١. صف ما حدث عندما أسقط المسمار في المشروب الغازي، وصف مظهر المسمار في اليوم التالي.
٢. فسّر تفاعل المسمار مع المشروب الغازي.

استخدامات الأحماض لعلك تعرف بعض الأحماض؛ فالخل المستخدم في الطعام يحتوي على حمض الإيثانويك والذي يعرف أيضاً بـحمض الخليك أو الأسيتيك، وتحتوي الحمضيات - ومنها البرتقال والليمون - على حمض الستريك، ويحتاج جسمك إلى حمض الأسكوربيك (فيتامين C)، بينما يحقن النمل ضحيته عند لسعها بـحمض الفورميك (حمض النمل).

يظهر الشكل ١٤ منتجات صنعت باستخدام الأحماض؛ حيث يستخدم حمض الكبريتيك في صناعة الأسمدة والفولاذ والطلاء والبلاستيك، كما تستخدم الأحماض في البطاريات، ويطلق عليها أحياناً بطاريات الأحماض. ويستخدم حمض الهيدروكلوريك في تنظيف الشوائب عن سطوح الأدوات الفلزية، ويستخدم حمض النيتريك في صناعة الأسمدة والبلاستيك والأصباغ.

الحمض في البيئة يلعب حمض الكربونيك دوراً أساسياً في تكوين الكهوف وتشكيل الهوابط والصواعد. يتكون حمض الكربونيك عندما يذوب ثاني أكسيد الكربون في الماء. ويذيب هذا المحلول الحمضي كربونات الكالسيوم التي تكوّن صخور الكهوف الجيرية. ويشبه هذا ما يحدث عندما يسقط المطر الحمضي على المواقع الأثرية، ويسبب تآكل صخورها، كما يوضح الشكل ١٥.

عندما تتساقط قطرات المحلول الحمضي من سقف كهف على أرضيته يتبخر الماء فتقل ذائبية ثاني أكسيد الكربون، ويتصاعد من المحلول، فتقل حموضة المحلول، ومن ثم تقل ذائبية الحجر الجيري، فيترسب الحجر الجيري، وتشكل الصواعد والهوابط.

المطر الحمضي



الشكل ١٥

ينتج عن احتراق الوقود الأحفوري مركبات كيميائية متنوعة، تنطلق إلى الهواء الجوي. بعض هذه المركبات يكون أحماضًا تختلط ببخار الماء، ثم تهطل على سطح الأرض على هيئة مطر أو ثلج، أو ضباب، وتعمل على تدمير البيئة؛ حيث تقوم الرياح بحملها مئات الأميال، فتدمر الغابات، وتسبب تآكل الصخور، وتشكل خطرًا على صحة الإنسان.



يتفاعل ثاني أكسيد الكبريت وأكاسيد النيتروجين مع بخار الماء، فتكون محاليل قوية الحمضية منها حمض النيتريك و HNO_3 وحمض الكبريتيك H_2SO_4 .

ب يصل الرقم الهيدروجيني (pH) للمطر الحمضي في بعض المناطق إلى ما دون ٣، ٢ وهذا الرقم يقارب درجة حموضة المعدة.

يُحرق الوقود الأحفوري في محطات الطاقة والسيارات للحصول على الطاقة الضرورية لممارسات الإنسان، وتسبب عملية الاحتراق هذه في إطلاق ثاني أكسيد الكبريت SO_2 وأكاسيد النيتروجين إلى الغلاف الجوي.



القواعد

يستخدم الناس عادةً محاليل الأمونيا لتنظيف النوافذ والأرضيات، وتختلف هذه المحاليل في خصائصها عن المحاليل الحمضية؛ فالأمونيا قاعدة. **القواعد Bases** مواد تستقبل أيونات الهيدروجين H^+ ، وتكون أيونات الهيدروكسيد عند ذوبانها في الماء. فعند ذوبان قاعدة في الماء تنجذب إليها ذرات هيدروجين من بعض جزيئات الماء، وتتكون أيونات الهيدروكسيد OH^- . ولمعظم القواعد أيونات هيدروكسيد تطلقها عند ذوبانها في الماء؛ فهيدروكسيد الصوديوم مثلاً قاعدة وصيغته $NaOH$ ، وعندما يذوب في الماء تنفصل أيونات الصوديوم عن أيونات الهيدروكسيد.

خصائص المحاليل القاعدية إن ملمس المحاليل القاعدية زلق كملمس الصابون، وطعمها مر. والقواعد أيضاً كاوية مثل الأحماض؛ وتسبب الحروق والضرر للأنسجة. لذا فإياك أن تلمس أو تتذوق مادة لتعرف ما إذا كانت قاعدة أم لا. وتحتوي المحاليل القاعدية على أيونات، لذا فهي موصلة للكهرباء، ولكن القواعد بشكل عام أقل نشاطاً من الأحماض عند التفاعل مع الفلزات.

استخدامات القواعد يظهر الشكل ١٦ بعض استخدامات القواعد، وهي تدخل في صناعة الصابون والأمونيا والعديد من مستحضرات التنظيف؛ حيث تنتج القواعد أيونات الهيدروكسيد التي تتفاعل بشدة مع الدهون، وتزيل الأوساخ.

وتُعد منظفات الأفران والطباشير من الأمثلة الشائعة على المنتجات التي تحتوي على قواعد. والدم أيضاً محلول قاعدي. ويستخدم هيدروكسيد الكالسيوم لتحديد خطوط الملاعب الرياضية، كما يستخدم لمعالجة حموضة التربة في الحقول والبساتين. وهيدروكسيد الصوديوم قاعدة قوية تسبب حروقاً ومشكلات أخرى للصحة، وتستخدم في صناعة الصابون، وفي تنظيف الأفران، وتسليك المجاري والمصارف.

العلوم

عبر المواقع الإلكترونية

هيدروكسيد الكالسيوم

ارجع إلى المواقع الإلكترونية عبر شبكة الإنترنت لتتعرف استخدامات هيدروكسيد الكالسيوم.

نشاط صف التفاعل الكيميائي الذي يتحول فيه الجير (كربونات الكالسيوم) إلى هيدروكسيد الكالسيوم.

الشكل ١٦ يحثوي العديد من المنتجات - ومنها الصابون والمنظفات والطباشير - على قواعد، أو تم تصنيعها باستعمال قواعد.



الرقم الهيدروجيني pH

لعلك شاهدت أحد المختصين يقيس الرقم الهيدروجيني لماء الشرب في محطة تحلية المياه. **الرقم الهيدروجيني pH** مقياس لحمضية أو قاعدية المحلول، وتدرج قيمته بين صفر و ١٤. وتدرج قيم pH للمحاليل الحمضية بين صفر و ٧؛ فالمحاليل ذات الرقم الهيدروجيني الأقرب إلى صفر هي الأعلى حموضة، ومنها حمض الهيدروكلوريك. أما الرقم ٧ فيعني التعادل؛ أي لا يكون المحلول حمضياً ولا قاعدياً، ومن ذلك الماء النقي. أما المحاليل ذات الرقم الهيدروجيني الأعلى من ٧ فتكون محاليل قاعدية. وتكون المحاليل ذات الرقم ١٤ هي الأعلى قاعدية، ومنها محلول هيدروكسيد الصوديوم. ويظهر الشكل ١٧ الرقم الهيدروجيني لعدد من المواد الشائعة.

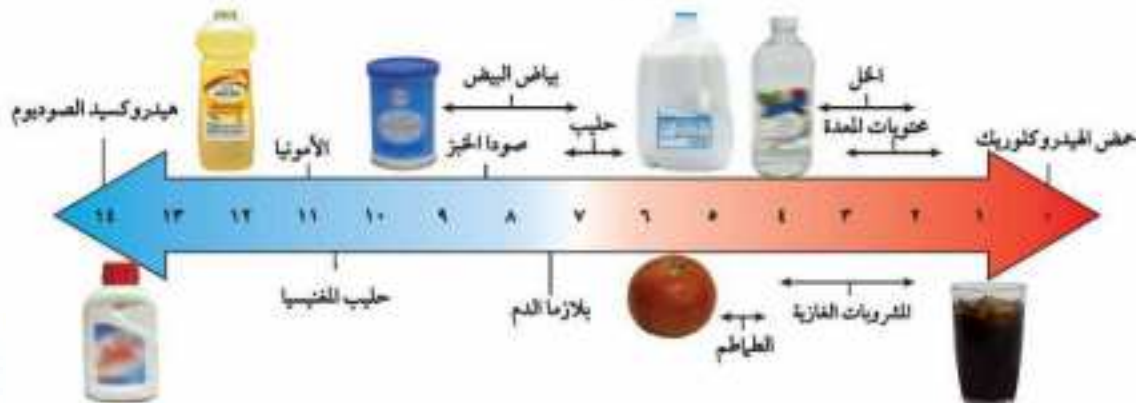
ويرتبط الرقم الهيدروجيني pH مباشرة بتركيز أيونات الهيدرونيوم (H_3O^+) وأيونات الهيدروكسيد (OH^-). وتحوي المحاليل الحمضية أيونات هيدرونيوم أكثر من أيونات الهيدروكسيد. أما المحاليل القاعدية فتحوي أيونات الهيدروكسيد أكثر من أيونات الهيدرونيوم. وأما المحاليل المتعادلة فتحوي أعداداً متساوية من كلا النوعين.

قارن عدد أيونات الهيدرونيوم بعدد أيونات الهيدروكسيد في المحلول المتعادل؟

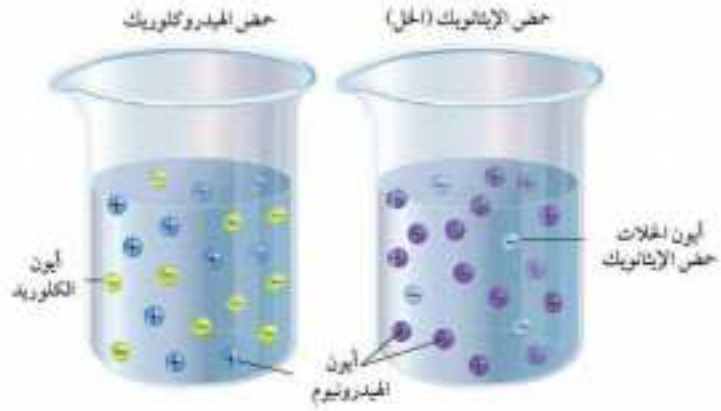
تدرج الرقم الهيدروجيني pH إن تدرج الرقم الهيدروجيني ليس تدرجاً خطياً للمقياس مثل الكتلة والحجم؛ حيث تكون كتلة جسم مثلاً ضعف كتلة جسم آخر إذا كانت كتلة أحد الجسمين ٢ كجم وكتلة الآخر ١ كجم. أما في تدرج الرقم الهيدروجيني فنقصان pH للحمض بمقدار درجة يعني أن الحمضية تزيد عشرة أضعاف. فإذا كان الرقم الهيدروجيني لحمض ٢ ولحمض ثان ١ فلا يكون الحمض الثاني أكثر حمضية من الأول بمقدار الضعف، بل تكون حمضيته عشرة أمثال حمضية الأول. ولتحديد فرق قوة الحمضية استخدم العلاقة: $10^{\Delta pH}$ ؛ حيث (ن) الفرق بين قيم pH. فالفرق بين قيمتي pH ١ و pH ٣ هو ٢، إذن فرق الحمضية $10^2 = 100$ مرة.

الرقم الهيدروجيني pH لا تستطيع أغلب المخلوقات الحية العيش في الأوساط الحمضية القوية. ومع ذلك تحتاج بعض أنواع البكتيريا إلى بيئة حمضية لتعيش وتكاثر. وقد وجد في بعض ينابيع المياه الحارة أنواع من البكتيريا تعيش في أوساط حمضية يتراوح رقمها الهيدروجيني بين ١ و ٣.

الشكل ١٧ يصف مقياس الرقم الهيدروجيني pH للمواد إلى حمضية أو قاعدية أو متعادلة.



الشكل ١٨ حمض الهيدروكلوريك يذوب في الماء متفصلاً بسهولة إلى أيونات، وذلك بخلاف حمض الإيثانويك الذي لا يتفصل بسهولة، ويوجد معظمه في الماء على هيئة جزيئات.



قوة الأحماض والقواعد هناك فرق في قوة الحموضة بين أحماض المواد الغذائية والأحماض الكاوية التي يمكن أن تحرق الجلد؛ فأحماض الأغذية أحماض ضعيفة، أما الأحماض الكاوية التي يمكن أن تحرق أنسجة الجسم وتلفها فهي أحماض قوية. وترجع قوة الحمض إلى سهولة انفصاله إلى أيونات، أو إطلاقه أيونات الهيدروجين عند ذوبانه في الماء. ففي الشكل ١٨، لكل من حمض الهيدروكلوريك وحمض الإيثانويك (المخل) التركيز نفسه، ولكن حمض الهيدروكلوريك القوي أطلق أيونات هيدروجين أكثر كثيراً من حمض الإيثانويك الضعيف. وبزيادة أيونات الهيدروجين في المحلول يقل الرقم الهيدروجيني pH؛ وكلما قل pH للمحلول كان أشد حموضة. وقوة القواعد مرتبطة أيضاً بسهولة انفصالها إلى أيونات، أو إطلاقها لأيونات الهيدروكسيد عند ذوبانها في الماء. ويظهر الجدول ٢ القوة النسبية لبعض الأحماض والقواعد الشائعة.

ماذا قرأت؟ ما الذي يحدد قوة الحمض أو القاعدة؟

لا يشترط في الحمض المحتوي على ذرات هيدروجين أكثر - مثل حمض الكربونيك H_2CO_3 - أن يكون أقوى من الحمض المحتوي على ذرات هيدروجين أقل مثل حمض النيتريك HNO_3 ؛ فقوة الحمض مرتبطة بسهولة إطلاقه أيونات الهيدروجين، وليس بعدد ذرات الهيدروجين فيه، لذا فحمض النيتريك أقوى من حمض الكربونيك.

الجدول ٢ . قوة بعض الأحماض والقواعد		
قاعدة	حمض	
هيدروكسيد الصوديوم $NaOH$ هيدروكسيد البوتاسيوم KOH	الهيدروكلوريك HCl الكبريتيك H_2SO_4 النيتريك HNO_3	قوي
الأمونيا NH_3 هيدروكسيد الألمنيوم $Al(OH)_3$ هيدروكسيد الحديد (III) $Fe(OH)_3$	الإيثانويك (المخل) CH_3COOH الكربونيك H_2CO_3 الأسكوربيك $H_2C_6H_4O_6$	ضعيف

الكواشف

ما الطريقة الآمنة لمعرفة حمضية محلول أو قاعديته؟ الكواشف Indicators
مركبات تتفاعل مع كل من المحاليل الحمضية والقاعدية وتعطي ألواناً مختلفة
بحسب قيمة الرقم الهيدروجيني pH للمحلول. وبعض الكواشف - ومنها ورق
تباع الشمس - تكون على هيئة أوراق.

عند وضع ورقة تباع الشمس الزرقاء في محلول حمضي يتحول لونها إلى اللون
الأحمر. أما إذا وضعت ورقة تباع الشمس الحمراء في محلول قاعدي فيصبح
لونها أزرق. وتغير بعض الكواشف ألوانها ضمن مدى من قيم pH، فيظهر لون
مختلف لكل قيمة من قيم الرقم الهيدروجيني.

التعادل

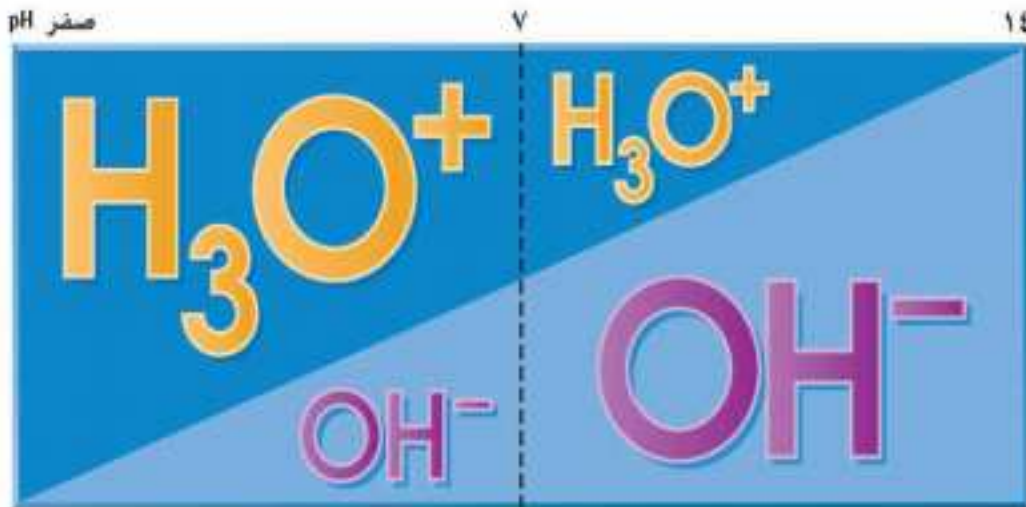
تسبب بعض الأطعمة - وبخاصة الكثيرة التوابل - حموضة للمعدة (الحرقة). وعندما
تتناول أقرصاً مضادة للحموضة تشعر بتحسن. ما مضاد الحموضة؟ وكيف يعمل؟
تنتج आम المعدة والجهاز الهضمي عن زيادة حمض الهيدروكلوريك في المعدة.
ومع أن هذا الحمض يعمل على هضم الطعام إلا أن زيادته تؤدي إلى تهيج المعدة
والقناة الهضمية، وحيث يلزم الشخص تناول أقراص مضادة للحموضة، وهي
تُصنع عادة من هيدروكسيد الماغنسيوم $Mg(OH)_2$ ؛ حيث تعمل على معادلة
الحمض الزائد. **والتعادل Neutralization** هو تفاعل حمض مع قاعدة، ينتج
عنه ملح وماء. وقد سُمي بذلك لأن الحمض والقاعدة يختفيان أو يتعادلان.
ويوضح الشكل ١٩ الكميات النسبية لكل من أيونات الهيدرونيوم وأيونات
الهيدروكسيد بين قيم صفر pH و ١٤ pH.

ماذا قرأت؟ ما نواتج تفاعل التعادل؟

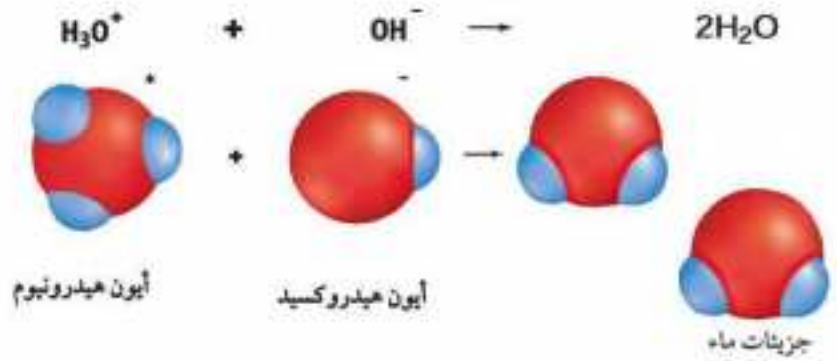
العلوم
عبر المواقع الإلكترونية

الكواشف
ارجع إلى المواقع الإلكترونية عبر
شبكة الإنترنت
لتتعرف أنواع الكواشف.
نشاط صف كيف تعمل
النباتات كالكواشف في
المحاليل الحمضية والمحاليل
القاعدية؟

الشكل ١٩ يكون pH للمحلول
أقل - يعني أكثر حمضية -
عندما تكثر فيه كمية
أيونات الهيدرونيوم.
حدد ما الذي يجعل محلولاً
رقمه الهيدروجيني ٧
متعادلاً؟



الشكل ٢٠ عند تفاعل محلول حمضي مع آخر قاعدي تتفاعل أيونات الهيدروجين وأيونات الهيدروكسيد لتكوين الماء. حدد لماذا يتغير الرقم الهيدروجيني pH للمحلول؟



كيف يحدث التعادل؟ من المعلوم أن جزيء الماء يتكون من ذرتي هيدروجين وذرة أكسجين. ويظهر في الشكل ٢٠ أيون هيدروجينوم يتفاعل مع أيون هيدروكسيد ليتسج جزيئان من الماء. ويحدث مثل هذا التفاعل عند تعادل حمض مع قاعدة؛ إذ تتفاعل أعداد متساوية من أيونات الهيدروجينوم وأيونات الهيدروكسيد لتكوين الماء. والرقم الهيدروجيني pH للماء النقي هو ٧؛ أي أن الماء النقي متعادل.

ماذا نلاحظ؟ ماذا يحدث لكل من الأحماض والقواعد خلال التعادل؟

مراجعة الدرس

اختبر نفسك

- حدد الأيونات التي تنتجها كل من الأحماض والقواعد في الماء، واذكر خاصيتين لكل من الأحماض والقواعد.
- اذكر أسماء ثلاثة أحماض وثلاث قواعد، واكتب قائمة بالاستخدامات المنزلية أو الصناعية لكل منها.
- وضح ارتباط تركيز أيونات الهيدروجينوم وأيونات الهيدروكسيد بالرقم الهيدروجيني pH.
- التفكير الناقد كيف يمكن لشركة تستخدم حمضاً قوياً أن تعالج انسكابه على أرضية المصنع؟

تحديق الرياضيات

- حل معادلة بخطوة واحدة كم تزيد حمضية محلول رقمه الهيدروجيني ٢ على محلول رقمه الهيدروجيني ٦؟ وكم تزيد قاعدية محلول رقمه الهيدروجيني ١٣ على آخر رقمه الهيدروجيني ١٠؟

الخلاصة

الأحماض والقواعد

- الأحماض مواد تطلق أيونات الهيدروجين الموجبة في الماء.
- القواعد مواد تستقبل أيونات الهيدروجين (تطلق الهيدروكسيد) في الماء.
- المحاليل الحمضية والقاعدية موصلة للكهرباء.

الرقم الهيدروجيني pH

- الرقم الهيدروجيني pH مقياس لحمضية المحلول أو قاعديته.
- يتراوح مدى الرقم الهيدروجيني pH بين صفر و١٤.

التعادل

- التعادل تفاعل حمض مع قاعدة لإنتاج الملح والماء.

قياس الرقم الهيدروجيني باستخدام الكواشف الطبيعية

سؤال من واقع الحياة

تعلمت أن الكواشف مواد يتغير لونها عندما يتغير الرقم الهيدروجيني pH. وعصير الملفوف البنفسجي كاشف طبيعي. كيف يمكن استخدام عصير الملفوف البنفسجي في تحديد قيم pH نسبياً لعدد من المحاليل؟ وكيف تقارن بين قيم pH لمحاليل مختلفة؟

الخطوات

1. ارسم جدولاً لتدوين أسماء المحاليل التي ستختبرها، والألوان التي يسببها إضافة كاشف عصير الملفوف البنفسجي إليها، والقوة النسبية للمحاليل.
2. سجل على كل أنبوب اختبار اسم الحمض أو القاعدة الذي سيوضع فيه.
3. املا الأنابيب إلى نصفها بالمحاليل التي ستختبرها.
- تحذير: إذا انسكبت أي سوائل في منطقة العمل أو على جلدك فاغسلها بالماء حالاً، وأخبر المعلم بذلك.
4. أضف عشر قطرات من كاشف عصير الملفوف إلى كل من المحاليل التي سيتم اختبارها. ورج كل أنبوب بلطف ليختلط عصير الملفوف بالمحلول.
5. لاحظ، وسجل لون كل محلول في جدول البيانات.

الأهداف

- تحدد الحمضية أو القاعدية نسبياً لعدد من المحاليل الشائعة.
- تقارن بين قوة الحمض وقوة القاعدة لعدد من المحاليل الحمضية والقاعدية.

المواد والأدوات

- ٩ أنابيب اختبار صغيرة.
- حامل أنابيب اختبار.
- عصير ملفوف بنفسجي مركز في علبة قنطرة.
- قوارير عليها ملصق تحوي على: أمونيا منزلية، محلول صودا الخبز، محلول الصابون، محلول حمض الهيدروكلوريك بتركيز ١,٠ مول/ لتر، خلل أبيض، شراب غازي غير ملون، ماء مقطر.
- قلم زيتي.
- ٩ قطارات.

إجراءات السلامة

- تحذير: الكثير من الأحماض والقواعد سامة وحارقة للجلد. البس النظارة الواقية والقفازين في جميع الأحوال. وأخبر معلمك حالاً إذا انسكبت مادة، واغسل يديك بعد الانتهاء من التجربة.



استخدام الطرائق العلمية

مقياس الرقم الهيدروجيني pH	
لون عصير الملفوف	القوة النسبية للحمض أو القاعدة
	حمض قوي
	حمض متوسط القوة
	حمض ضعيف
	محلول متعادل
	قاعدة ضعيفة
	قاعدة متوسطة القوة
	قاعدة قوية

تحليل البيانات

١. **قارن** ملاحظتك بجدول مقياس الرقم الهيدروجيني pH الذي تراه. ودون في جدول البيانات القوة النسبية للحمض أو القاعدة لكل محلول تم اختباره.
٢. **اعمل** قائمة بالمحاليل مرتبة بحسب مقياس الرقم الهيدروجيني pH ابتداءً من أشدها حمضية وانتهاءً بأشدها قاعدية.

الاستنتاج والتطبيق

١. **صنف** المحاليل إلى حمضية أو قاعدية.
٢. **حدّد** ما المحلول الذي كان الحمض فيه أضعف؟ وما المحلول الذي كانت القاعدة فيه أقوى؟ وما المحلول الذي كان أقرب إلى التعادل؟

٣. **توقع** اعتمادًا على بياناتك، ما الأيون الذي يعمل على التنظيف في المحاليل: الأمونيا، الصابون، صودا الخبز؟

تكوين فرضية

كّون فرضية تفسر لماذا كان محلول الصابون أقل قاعدية من محلول الأمونيا الذي له التركيز نفسه؟

تواصل

بياناتك

استعمل البيانات التي حصلت عليها من الاستقصاء في عمل ملصقات للمحاليل التي اختبرتها، واكتب القوة النسبية لكل محلول، واكتب أي معلومة عن احتياطات السلامة تعتقد أنها مهمة على كل ملصق.



المحالييل المالحة

هل تعلم...



أن مياه البحر محلول ملحي؟

تمثل أيونات الصوديوم والماغنسيوم والكالسيوم والبوتاسيوم والكلوريد والكبريتات ٩٩٪ من أيونات الأملاح في البحر. وأكثر الغازات فيه النيتروجين والأكسجين وثاني أكسيد الكربون والأرجون والنيون.

تتشرك الدموع واللعاب في الكثير من الصفات

فكلاهما محلول ملحي يؤدي إلى حمايتك من البكتيريا الضارة، ويحافظ على رطوبة الأنسجة، ويساعد على انتشار المواد المغذية. ويتكون اللعاب من الماء بنسبة ٩٩٪، والباقي ١٪ مجموعة من الأيونات تضم الصوديوم، والعديد من البروتينات.

أكثر بحار العالم انخفاضاً وتركيزاً



البحر الميت

مياه البحر الميت

البحر الميت في الأردن؛ حيث يقع في منطقة هي الأشد انخفاضاً في العالم. وكمية المياه التي تصب فيه من الأنهار قليلة نسبياً، ومعدل الأمطار السنوية لا تتعدى ١٠ سم في شماله، و ٥ سم في جنوبه. ومنطقته حارة وجافة، لذا فإن معدل تبخر الماء منه كبير جداً، مما يزيد من ملوحته. ويصل تركيز الأملاح فيه ٣٥ جراماً/ ١٠٠ جرام ماء؛ أي عشرة أضعاف متوسط تركيزها في مياه البحار والمحيطات الأخرى، لذا فهو يخلو من الأسماك، وتكاد تنعدم فيه الحياة.

الصلح يخفف الألم

يُعد ماء الغرغرة المالح مادة مُعقِّمة؛ فهو يقاوم البكتيريا التي تسبب التهابات القصبة الهوائية.

ارسم شكلاً بيانياً

ابحث في المصادر المختلفة ومنها شبكة الإنترنت عن أيونات العناصر الأخرى في ماء البحر، وصمّم رسماً يُظهر الكميات الموجودة لأكثر عشرة أملاح شيوعاً في لتر من ماء البحر.

مراجعة الأفكار الرئيسية

الدرس الثاني المحاليل الحمضية والمحاليل القاعدية

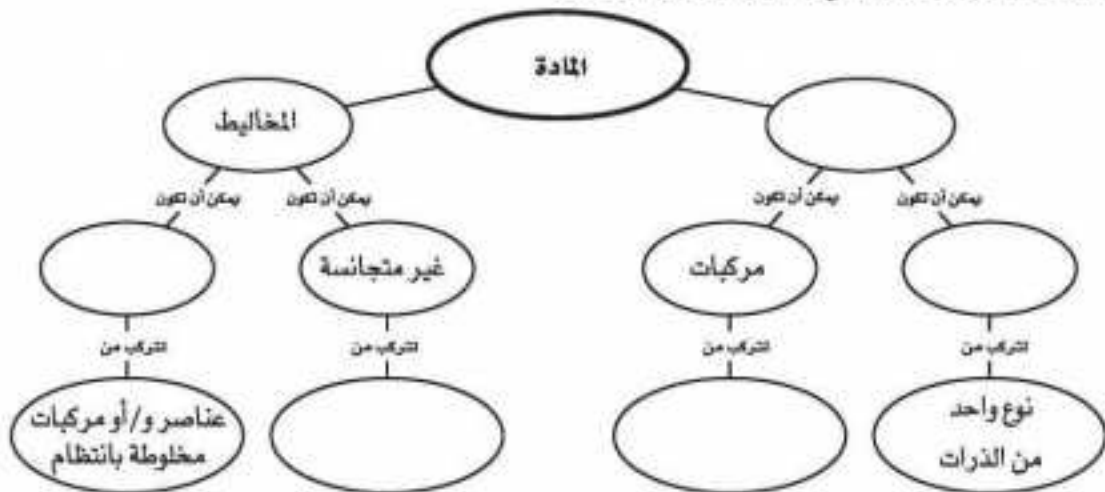
١. الأحماض تطلق أيونات الهيدروجين H^+ وتنتج أيونات الهيدرونيوم عند ذوبانها في الماء. والقواعد تستقبل أيونات H^+ وتنتج أيونات الهيدروكسيد OH^- عند ذوبانها في الماء.
٢. يعبر مقياس الحموضة pH عن تركيز أيونات الهيدرونيوم وأيونات الهيدروكسيد في المحاليل المائية.
٣. في تفاعل التعادل، يتفاعل حمض مع قاعدة وينتج عن التفاعل ملح وماء.

الدرس الأول المحاليل والذائبية

١. العناصر والمركبات مواد نقية؛ لأن تركيبها ثابت. أما المخاليل فليست مواد نقية.
٢. المخاليل غير المتجانسة لا تختلط مكوناتها بانتظام. أما المخاليل المتجانسة فتختلط مكوناتها بانتظام على المستوى الجزيئي، وتسمى أيضًا المحاليل.
٣. يمكن أن تكون المواد المذابة والمواد المذيبة غازات أو سوائل أو مواد صلبة.
٤. الماء مذيب عام يمكن أن يذيب العديد من المواد المختلفة؛ لأن جزيئاته قطبية، والمثل يذيب المثل.
٥. تتأثر الذائبية بدرجة الحرارة والضغط.
٦. المحاليل يمكن أن تكون غير مشبعة، أو مشبعة، أو فوق الإشباع؛ اعتمادًا على كمية المذاب الذائبة مقارنة بذاائبية المذاب في المذيب.
٧. تركيز المحلول هو كمية المذاب في حجم معين من المذيب.

تصور الأفكار الرئيسية

انسخ الخريطة المفاهيمية التالية التي تتعلق بتصنيف المادة، وأكملها:



استخدام المضردات

املا الفراغ فيما يلي بالكلمة المناسبة:

١. قيمة للقاعدة أكثر من ٧.
٢. كمية المذاب في محلول تمثل
٣. كمية المذاب التي تذوب في ١٠٠ جرام من المذيب تمثل
٤. مادة تذوب لتكوين محلول.
٥. التفاعل بين حمض وقاعدة يسمى
٦. لها تركيب ثابت.

تثبيت المفاهيم

اختر الإجابة الصحيحة فيما يلي:

٧. أي مما يلي محلول؟
 - أ. الماء النقي
 - ب. كعكة الزبيب
 - ج. النحاس
 - د. الخل
٨. أي نوع من المركبات التالية لا يذوب في الماء؟
 - أ. القطبية
 - ب. الأيونية
 - ج. غير القطبية
 - د. المشحونة
٩. ما نوع جزيء الماء؟
 - أ. قطبي
 - ب. أيوني
 - ج. غير قطبي
 - د. راسب
١٠. ماذا يمثل الماء عند إذابة مركبات الكلور في ماء التربة؟
 - أ. السبيكة
 - ب. المذيب
 - ج. المحلول
 - د. المذاب

١١. أي مما يلي يمكن التقليل منه للحد من ذوبان المادة الصلبة في السائل؟
 - أ. حجم الجزيئات
 - ب. الضغط
 - ج. درجة الحرارة
 - د. حجم العبوة
١٢. أي الأحماض التالية يستخدم في العمليات الصناعية لتنظيف الفلزات؟
 - أ. الهيدروكلوريك
 - ب. الكربونيك
 - ج. الكبريتيك
 - د. النيتريك
١٣. إذا تم تحضير محلول بإضافة ١٠٠ جرام من هيدروكسيد الصوديوم الصلب NaOH إلى ١٠٠٠ مل ماء. فماذا تمثل المادة الصلبة NaOH؟
 - أ. محلول
 - ب. مذاب
 - ج. مذيب
 - د. مخلوط
١٤. أي التراكيز المتساوية الآتية ينتج أيونات هيدرونيوم أكثر في محلول مائي؟
 - أ. القاعدة القوية
 - ب. القاعدة الضعيفة
 - ج. الحمض القوي
 - د. الحمض الضعيف
١٥. العصارة الصفراء سائل حمضي يفرزه الجسم للمساعدة على الهضم، وتركيز أيونات الهيدرونيوم فيه عال. ما الرقم الهيدروجيني المتوقع له؟
 - أ. صفر
 - ب. ٧
 - ج. أقل من ٧
 - د. أكبر من ٧
١٦. ما الذي يحدث لحمض معدتك عندما تبتلع حبة مضاد للحموضة؟
 - أ. يصبح أكثر حمضية
 - ب. يصبح أكثر قاعدية
 - ج. يُخفَّف
 - د. يتعادل

في التفاعلات الكيميائية. كيف يحدث ذلك؟

٢٢. صف كيف يتكون محلول (سائل - صلب)؟ وكيف يختلف هذا المحلول عن محلول (سائل - غاز)؟ وكيف يختلف هذان الاثنان عن محلول (سائل - سائل)؟ أعطِ مثالاً على كل نوع.

٢٣. قارن بين المخاليط المتجانسة والمخاليط غير المتجانسة من خلال مخاليط مستخدمة في الحياة.

٢٤. كوّن فرضية يفور الشراب الغازي الدافئ أكثر من البارد عند فتح علبته. فسّر ذلك معتمداً على ذاتية ثاني أكسيد الكربون في الماء.

أنشطة تقويم الأداء

٢٥. كتابة مقالة اكتب مقالة توضح فيها الاختلافات بين المادة النقية والمخلوط.

تطبيق الرياضيات

استخدم الشكل أدناه للإجابة عن السؤال ٢٦.



٢٦. الدائنية مستخدماً الرسم البياني للدائنية أعلاه، قدر ذاتية كل من كلوريد البوتاسيوم وكلوريد الصوديوم في الماء عند ٨٠°س.

٢٧. تركيز العصير إذا عملت شراباً في وعاء سعته ١٠٠٠ مل، فما حجم مسحوق العصير الذي وضعته فيه لتكون نسبة العصير في الشراب ١٨%؟

التفكير الناقد

١٧. وضح ظروف تكوّن البلورات والرواسب في المحاليل.

١٨. وضح كيف تحصل على محلول مخفف من حمض قوي؟

١٩. استخلص النتائج يضاف مانع التجمد في مبرد السيارة (الرادياتير) لمنع تجمد الماء فيه في أشهر البرد. ويقوم أيضاً بمنع غليان الماء أو ارتفاع درجة حرارته فوق درجة الغليان. كيف يقوم بذلك؟ استخدم التوضيح التالي للإجابة عن السؤال ٢٠.



٢٠. فسّر استخدام الكيميائيون كواشف مختلفة. من المهم استخدام الكاشف الصحيح؛ حيث يتغير اللون عند الرقم الهيدروجيني المناسب، وإلا كانت النتيجة مضللة. اعتماداً على الشكل، ما الكواشف التي تستخدم لمتغير اللون عند كل من القيمتين ٢ و٨؟

٢١. وضح يمكن لجزيئات الماء أن تنفصل إلى أيونات H^+ و OH^- . ومن المعلوم أن الماء مادة مترددة، أي يمكن أن تمثل حمضاً أحياناً وقاعدة أحياناً أخرى

الجزء الأول: أسئلة الاختيار من متعدد

استخدم الصورة في الإجابة عن السؤال ١.



١. أي خطوات الطريقة العلمية توضحها الصورة أعلاه؟

أ. الملاحظة ج. الفرضية

ب. استخلاص النتائج د. جمع البيانات وتحليلها

٢. ما الذي يصف أو يتوقع سلوك الأشياء في الطبيعة؟

أ. الفرضية ج. الاستنتاج

ب. القانون د. النظرية

٣. عند دراسة العلاقة بين ذائبية مادة ودرجة الحرارة، يكون المتغير المستقل هو:

أ. كتلة المادة ج. ذائبية المادة

ب. درجة الحرارة د. كتلة المذيب

٤. تعد أجهزة الحاسوب والمجاهر من الأمثلة على:

أ. الفرضيات ج. التقنية

ب. المتغيرات د. الثوابت

٥. أي مما يأتي يستعمل في اختبار الفرضية؟

أ. التجربة ج. القانون

ب. النظرية د. المتغير

استخدم الشكل أدناه في الإجابة عن السؤالين ٦ و ٧.

تركيب الهواء الجوي



بخار ماء، وثاني أكسيد الكربون، وغازات أخرى 1%

٦. أي مما يأتي يصف الغلاف الجوي؟

أ. مشبع ج. راسب

ب. محلول د. كاشف

٧. ما الغاز الذي يعدّ مذيئاً للهواء الجوي؟

أ. النيتروجين ج. بخار الماء

ب. الأكسجين د. ثاني أكسيد الكربون

٨. ما الخاصية التي تشترك فيها المحاليل المائية؟


أ. تحتوي على أكثر من ثلاث مواد مذابة.

ب. لا يوجد فيها مواد صلبة أو غازية مذابة.

ج. جميعها عالية التركيز.

د. الماء هو المذيب فيها.

استخدم الرسم في الإجابة عن السؤال ٩.



٩. ما العبارة الصحيحة مما يأتي؟

أ. كلوريد البوتاسيوم أكثر ذوباناً في الماء من السكر.

ب. بزيادة درجة حرارة الماء تقل ذائبية كلوريد البوتاسيوم.

ج. السكر أكثر ذوباناً في الماء من كلوريد البوتاسيوم.

د. لا تؤثر درجة حرارة الماء في ذائبية المادتين.

الجزء الثاني: أسئلة الإجابات القصيرة

- استخدم الصورة أدناه في الإجابة عن السؤال ١٠.
١٠. أكمل الجدول بتحديد ما إذا كانت كل جملة فيه تمثل ملاحظة، أو استنتاجاً أو فرضية.



الجملة	ملاحظة أو استنتاج أو فرضية
يحتاج النبات إلى كمية كبيرة من الماء	
النبات له أوراق كبيرة	
ليس للنبات أزهار	
قد يكون شيء ما أكل النبات	
إذا نقل النبات إلى مكان آخر سيكون أفضل	
قد يحتاج النبات إلى أشعة شمس أكثر	
سيصبح النبات أفضل عند استعمال مبيد حشري	

١١. كيف تصبح الفرضية نظرية؟
١٢. ماذا يحدث إذا لم تدون الملاحظات كما ينبغي؟
١٣. ما الفرق بين الاستنتاج والفرضية؟
استخدم الصورة في الإجابة عن السؤال ١٤.



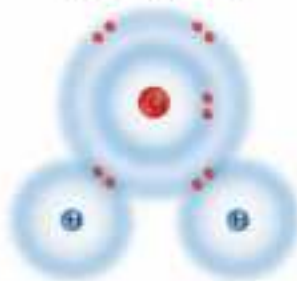
١٤. ما نوع المخروط؟ اذكر ثلاثة أمثلة عليه.

١٥. المذاب في صورة حبيبات أو قطع يذوب أسرع منه إذا كان في صورة قطعة كاملة. فسر ذلك.
١٦. قارن بين تركيز المحلولين: المحلول (أ) يتكون من ٥ جرامات كلوريد الصوديوم مذابة في ١٠٠ جرام ماء، والمحلول (ب) يتكون من ٢٧ جرام كلوريد الصوديوم مذابة في ١٠٠ جرام ماء.
١٧. صف كيف تستخدم أوراق تباغ الشمس لتحديد الرقم الهيدروجيني pH لمحلول؟

الجزء الثالث: أسئلة الإجابات المفتوحة

١٨. لماذا تشكل التجارب على النبات مشكلات أقل مما لو أجريت على الإنسان؟
١٩. افترض أن عالمًا يدرس مرضًا ما مثل السرطان، فما أهمية التواصل في المعلومات التي يجدها؟ اذكر عدة طرائق يتواصل بها العلماء لتبادل البيانات التي يجدهونها.
٢٠. وضح من خلال قطبية جزيئات الماء الموضح في الشكل كيف يذيب الماء المركبات الأيونية؟

شحنة جزيئية سالبة



شحنة جزيئية موجبة

٢١. لماذا تعد المشروبات الغازية من محاليل (سائل-غاز)؟
٢٢. فسر تغير نسبة الغاز إلى السائل مع الزمن في علب المشروبات الغازية المفتوحة.

ما العلاقة بين التلذجات وأواني القلي؟

في أواخر ثلاثينيات القرن الماضي، جُرب الطعام شامًا جديدًا كانوا ياملون أن يكون مبردًا مناسبًا للتلذجات حيث قاموا بملء عدة أسطوانات معدنية بهذا الغاز وحفظوها في الجليد الجاف. وعند فتحها فرجئوا باختتام الكارولان الأسطوانات قد طليت من الداخل بمسحوق أبيض صلب ورائحة. لقد خضع الغاز لتغيرات كيميائية، فقد تعشرت الروابط الكيميائية في جزيئاته وتشكلت روابط جديدة، فحولت مادة الغاز إلى مادة أخرى مختلفة تمامًا. والأكثر غرابة أن المادة البيضاء المتكونة كانت أكثر مادة زلقة تم الحصول عليها حتى ذلك الوقت. وبعد سنوات من اكتشاف هذه المادة، حصل مبدع فرنسي على بعضها ليضعها على أدوات الصيد لمنع تشابك الخيوط، ولاحظت زوجته ما يفعل، فاقترحت عليه وضع المادة على سطح المقلاة لمنع التصاق الطعام، ففعل. وكان هذا بداية ظهور أواني الطبخ غير اللاصقة.



مشاريع الوحدة

ارجع إلى المواقع الإلكترونية للبحث عن فكرة أو موضوع يمكن أن يكون مشروعًا تنفذه.

من المشاريع المقترحة:

- التاريخ: ابحث في إسهامات العلماء في تطوير الطاقة ومصادرها.
- التقنية: صمم لوحة جدارية تبين حالات المادة وترتيب الجسيمات في كل حالة، واستفد من معلومات اللوحة في التعليم والمراجعة.
- النماذج: استفد مما تعلمته في الوحدة لعمل نموذج يحوّل طاقة الرياح إلى طاقة كهربائية.

البحث عبر

الشبكة الإلكترونية

استكشاف الشمس: ابحث في تركيب أقرب النجوم إلينا، وتعرّف مقدار الطاقة التي يتجهها، وإمكان الإفادة منها في الاستعمالات اليومية.

حالات المادة

الفكرة العامة

جسيمات المواد الصلبة والسائلة والغازية في حركة دائمة.

الدرس الأول

المادة

الفكرة الرئيسية، تعتمد حالة المادة على حركة جسيماتها وعلى التجاذب بينها.

الدرس الثاني

الحرارة وتحولات المادة

الفكرة الرئيسية، عندما تتغير حالة المادة تتغير طاقتها الحرارية.

الدرس الثالث

سلوك الموائع

الفكرة الرئيسية، تؤثر جسيمات الموائع - سواء كانت سوائل أو غازات - بقوة في كل ما تلمسه.

تلمحات الله

يستمتع هذا القرد الثلجي النادر الآسيوي (مكاك) بحمام دافئ في يوم شديد البرودة؛ ولقد تكيف هذا القرد سلوكياً للحصول على الدفء في المناطق الباردة، إذ تنتقل الطاقة الحرارية من الجسم الأعلى حرارة إلى الجسم الأقل حرارة، وستدرس في هذا الفصل الحرارة والحالات الثلاث الشائعة للمادة على الأرض.

دقق العلوم فسر. لماذا يغطي الثلج اليابسة، بينما لم يتحول ماء البحيرة

إلى جليد؟


نشاطات تمهيدية

المطويات
حالات المادة وتغيراتها اعمل المطوية التالية لتساعدك على تعلم التغيرات التي تحدث للماء.


المطويات

منظمات الأفكار

الخطوة ١ اطو قطعة من الورق طولياً من منتصفها مرتين ثم افتحها.



الخطوة ٢ اطو الورقة عرضياً من منتصفها مرتين.



الخطوة ٣ افتح المطوية وارسم خطوطاً على أماكن الطي.



الخطوة ٤ اكتب على السطر العلوي وعلى العمود الأول ما يلي:

تعريف الحالة	+	حرارة	-	حرارة
ماء سائل				
هلام ماء				
جليد				

اقرأ واكتب بعد قراءتك لهذا الفصل، عرّف حالات المادة واكتبها في مطويتك (عمود تعريف الحالة)، واكتب ما يحدث لكل حالة عند اكتساب الحرارة أو فقدانها من المادة.

تجربة استدلالية

تجربة مع سائل متجمد

كثير من المواد بتغير شكلها بتغير درجة حرارتها. هل فكرت كيف يستطيع الناس التزلج فوق البحيرات في الشتاء مع أنهم يسبحون في البحيرات نفسها في الصيف؟

١. صمّم جدولاً لتسجل فيه درجة الحرارة والمظهر الخارجي. واحصل من معلمك على أنبوب اختبار بحوي سائلاً غير معروف، وضع الأنبوب على الحامل.
٢. أدخل مقياس حرارة في السائل.
٣. تحذير: لا تدع مقياس الحرارة يلمس قعر الأنبوب.
٤. ابدأ بملاحظة درجة حرارة السائل ومظهره، ودوّن ذلك كل ٣٠ ثانية.
٥. واصل أخذ القياسات والملاحظات حتى يُطلب إليك التوقف.
٦. **التذكير الناقد** صف في دفتر العلوم استقصاءك ومشاهداتك. وهل حدث شيء غير عادي خلال مشاهدتك؟ وماذا حدث؟

أتهياً للقراءة

مراقبة التعلم

١ **أتعلم** مراقبةُ التعلم أو تعرف نقاط الضعف والقوة لديك استراتيجية مهمة تساعدك على تحسين القراءة؛ فعندما تقرأ نصًا راقب نفسك وتفكر؛ لتأكد أن ما تقرؤه ذو معنى لك. ويمكنك اكتشاف أساليب مختلفة في المراقبة قد تستخدم في أوقات مختلفة؛ اعتمادًا على الهدف من القراءة.

٢ **أدرب** اقرأ الفقرة التالية، وأجب عن الأسئلة التي تليها. ناقش إجابتك مع غيرك من الطلاب؛ لتتعرف كيف يراقبون قراءتهم.

تتكون جميع المواد من جسيمات صغيرة، ومنها الذرات والجزيئات والأيونات، وكل جسيم يجذب الجسيمات الأخرى نحوه. وهذه الجسيمات تتحرك باستمرار، وتحدد حركة جسيمات المادة وقوة التجاذب بينها حالتها.

- ماذا تبقى لديك من أسئلة بعد القراءة؟
- هل فهمت كل الكلمات الموجودة في النص؟
- هل تتوقف عادةً عن القراءة؟ هل مستوى القراءة مناسب لك؟

٣ **أطبق** اختر إحدى الفقرات التي يصعب فهمها، وناقشها مع زميلك لتحسن مستوى فهمك.

إرشاد

راقب قراءتك من حيث البطء أو السرعة اعتيادًا على فهمك للنص.

توجيه القراءة وتركيزها

ركز على الأفكار الرئيسة عند قراءتك الفصل باتباعك ما يلي:

١ قبل قراءة الفصل أجب عن العبارات في ورقة العمل أدناه:

• اكتب (م) إذا كنت موافقًا على العبارة.

• اكتب (غ) إذا كنت غير موافق على العبارة.

٢ بعد قراءة الفصل ارجع إلى هذه الصفحة لترى ما إذا كنت قد غيرت رأيك حول أي من هذه العبارات.

• إذا غيرت إحدى الإجابات فبيّن السبب.

• صحّح العبارات غير الصحيحة.

• استرشد بالعبارات الصحيحة في أثناء دراستك.

قبل القراءة م أوغ	العبارة	بعد القراءة م أوغ
	١- تهتز جسيمات المواد الصلبة في أماكنها.	
	٢- يستطيع عنكبوت الماء المشي على سطح الماء بسبب القوى غير المتوازنة التي تؤثر في جزيئات الماء على السطح.	
	٣- جزيئات الغاز متباعد بعضها عن بعض، ويتخللها فراغات.	
	٤- لكأس الماء الساخن الكبيرة الكمية نفسها من الطاقة الحرارية الموجودة في كأس أصغر مملوء بالماء عند درجة الحرارة نفسها.	
	٥- الغليان والتبخّر السطحي نوعان من التبخّر.	
	٦- تزداد درجة حرارة المادة في أثناء غليانها.	
	٧- يرتبط الضغط - إلى حد ما - بالمساحة التي تتوزع عليها القوة.	
	٨- يؤثر الهواء الجوي عند مستوى سطح البحر بضغط مقداره ١٠١٣٠٠ نيوتن/م ^٢ .	
	٩- يطفو الجسم فوق المائع الذي كثافته أكبر من كثافة الجسم نفسه.	



المادة

ما المادة؟

تأمل جمال الطبيعة في الشكل ١ تجد ماءً وشمساً وثلجاً، وكلُّ منها مادة. فالمادة Matter هي كل ما يشغل حيزاً وله كتلة. ولا يشترط في المادة أن تكون مرئية؛ فالهواء نفسه مادة.

حالات المادة تتكون جميع المواد من جسيمات صغيرة، ومنها الذرات والجزيئات والأيونات، وكل جسيم يجذب الجسيمات الأخرى نحوه. وهذه الجسيمات تتحرك باستمرار. وتحدد حركة جسيمات المادة وقوة التجاذب بينها حالتها.

✓ ماذا قرأت؟ ما الذي يحدد حالة المادة؟

هناك ثلاث حالات مألوفة للمادة، هي الصلبة والسائلة والغازية، وهناك حالة رابعة تُعرف بالبلازما، تحدث عند درجات الحرارة العالية جداً، وتوجد هذه الحالة في النجوم وفي الصواعق وفي أضواء النيون. وعلى الرغم من أن البلازما حالة شائعة في الكون إلا أنها ليست شائعة على الأرض. لذا سيركز هذا الفصل على الحالات الثلاث الشائعة للمادة على الأرض.

ففي هذا الدرس

الأهداف

- تدرك أن المادة تتألف من جسيمات تتحرك باستمرار.
- تربط حالات المادة الثلاث بترتيب الجسيمات في كل منها.

الأهمية

تصنف المادة حسب تقارب ذراتها وترابطها.

📌 مراجعة المفردات

الذرة: جسيم صغير يُعد وحدة البناء لأغلب أنواع المادة.

المفردات الجديدة

- المادة
- الزوجية
- المادة الصلبة
- التوتر السطحي
- السائل
- الغاز

الشكل ١ يظهر هنا المنظر حالات المادة الأربع جميعها.

حدد المادة الصلبة، والسائلة، والغازية، والبلازما، في هذه الصورة.





المواد الصلبة

ما الذي يجعل المادة صلبة؟ فكر في بعض المواد أو الأجسام الصلبة المألوفة لديك، ومنها الكرسي ومكعبات الثلج وغيرها. ما الخصائص التي تشترك فيها؟ إن **المادة الصلبة Solid** مادة محدّدة الشكل والحجم. فعندما ترفع حجراً عن الأرض وتضعه في وعاء لا يتغير شكل الحجر ولا حجمه؛ فالمادة الصلبة لا تأخذ شكل الوعاء الذي توضع فيه؛ لأن جسيماتها مترابطة معاً، كما في الشكل ٢.



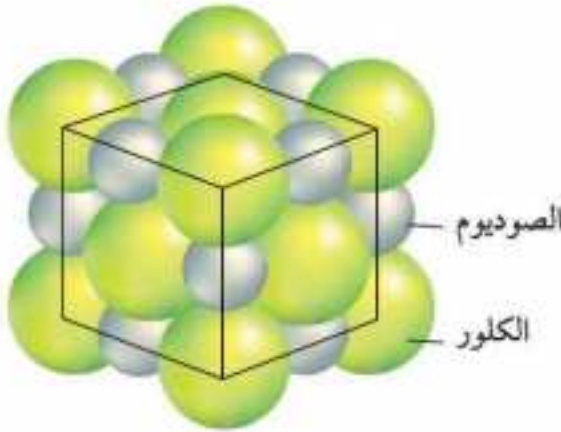
المادة الصلبة

الشكل ٢ تهتز جسيمات المادة الصلبة في أماكنها محافظة على شكل وحجم ثابتين للجسم.

حركة الجسيمات جسيمات المواد تتحرك. هل يعني هذا أن جسيمات المادة الصلبة تتحرك أيضاً؟ رغم أنك لا تستطيع رؤية الجسيمات إلا أن جسيمات المادة الصلبة تهتز في أماكنها، ولكنها ليس لديها طاقة كافية لتبتعد عن أماكنها.

ماذا فترات؟ كيف تتحرك جسيمات المادة الصلبة؟

المواد البلورية تترتب جسيمات بعض المواد الصلبة في تنظيم معين ثلاثي الأبعاد، يتكرر في المادة، ويطلق عليه بلورة. تشاهد في الشكل ٣ الترتيب البلوري لكلوريد الصوديوم (ملح الطعام)؛ حيث تترتب الجسيمات في البلورة على هيئة مكعب. كما أن هناك الترتيب البلوري الهرمي للماس الذي يتكون بكامله من ذرات الكربون. والأمثلة على المواد البلورية كثيرة، ومنها السكر والرمل والثلج.



الشكل ٣ تترتب جسيمات كلوريد الصوديوم NaCl بانتظام في بلوراتها.



هذا الشكل الكبير يوضح الشكل المكعب لبلورات كلوريد الصوديوم



الماء العذب: بدأت الحضارات باستقرار الناس حول مصادر الماء العذب؛ ومنها الأنهار التي وفرت لهم وحيواناتهم ماءً للشرب، كما وفرت لهم طرقاً للتنقل، واستفادوا منها في الري أيضاً. ومع الوقت كبرت هذه المجتمعات، وأصبحت نواة لمجتمعات متطورة وصناعية.

المواد الصلبة غير البلورية بعض المواد الصلبة - وبخاصة التي تتكون من جسيمات كبيرة الحجم - لا تترتب جسيماتها في صورة نمط متكرر كالمواد البلورية؛ بل وجد أنها تأخذ ترتيباً عشوائياً. وقد سميت المواد غير البلورية. ومن هذه المواد المطاط والبلاستيك والزجاج.

✓ **ماذا نأخذ؟** فيم تختلف المواد البلورية عن غير البلورية؟

السوائل

المادة في الحالة السائلة مألوفة لنا؛ فمنها عصير البرتقال الذي تشربه مع إفطار الصباح، ومنها الماء الذي تنظف به أسنانك. كيف تصف خصائص السائل؟ هل هو قاس كالمواد الصلبة؟ وهل يحافظ على شكله؟ **السائل** Liquid مادة لها حجم ثابت وشكل متغير. فعندما تصب سائلاً من إناء في إناء آخر فإنه يأخذ شكل الإناء الذي يوضع فيه. وبغض النظر عن شكل الإناء يبقى حجم السائل هو نفسه لا يتغير. فإذا صببت ٥٠ مل عصيراً من علبة كرتونية في إبريق فسوف يحتوي الإبريق على ٥٠ مل من هذا العصير. وإذا صببت العصير من الإبريق في كأس فسيغير شكل العصير من جديد، لكن حجمه سيظل ثابتاً دون تغيير.

حرية الحركة إن السبب في سهولة تغير شكل السائل هو أن جسيماته تتحرك بحرية أكبر من حركتها في المواد الصلبة، كما في الشكل ٤، مما يتيح له أشكالاً مختلفة. ولجسيمات السائل طاقة كافية لتغيير موقعها ضمن السائل، إلا أن هذه الطاقة غير كافية لجعلها تنفصل تماماً عن بقية الجزيئات.

الشكل ٤ تبقى جسيمات السائل متماسكة معاً على الرغم من حرية حركة بعضها فوق بعض.



السائل

البلازما

ارجع إلى المواقع الإلكترونية عبر
شبكة الإنترنت

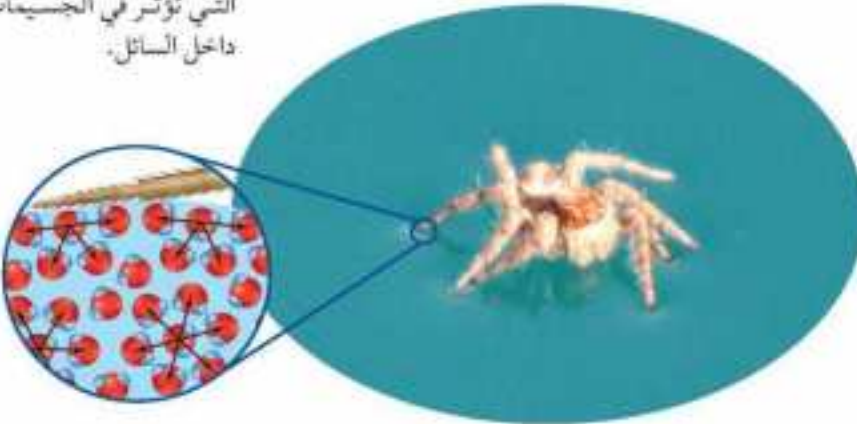
للحصول على معلومات عن
حالات المادة.

نشاط اكتب قائمة بأربعة
أمور تختلف فيها البلازما عن
كل من حالات المادة الثلاث
الأخرى.

اللزوجة كيف تنساب السوائل المختلفة؟ تنساب بعض السوائل بسهولة أكثر من غيرها؛ فالماء ينساب أسرع من العسل مثلاً. وتسمى الخاصية التي تعبر عن مقاومة السائل للجريان أو الانسياب **اللزوجة Viscosity**. فلزوجة العسل كبيرة في حين أن لزوجة الماء أقل. وكلما زادت لزوجة السائل قلت سرعة جريانه. وتنشأ اللزوجة عن قوى التماسك بين جسيمات السائل. وتزداد لزوجة كثير من السوائل بانخفاض درجة حرارتها.

التوتر السطحي يمكنك - بشيء من الحرص - أن تجعل إبرة تطفو على سطح الماء؛ لأن قوى التماسك بين جسيمات السائل تجعل جسيمات السطح يشد بعضها بعضاً، وتقاوم التباعد. نشاهد في الشكل ٥ كيف أن جسيمات السائل أسفل السطح تنجذب في جميع الاتجاهات، أما جسيمات السطح فلا تؤثر فيها قوى من أعلى لعدم وجود جسيمات السائل فوقها؛ لذا يكون اتجاه قوى الشد على جسيمات السطح إلى داخل السائل وإلى الجوانب على امتداد السطح. وتسمى القوى غير المتوازنة التي تؤثر في جسيمات سطح السائل **التوتر السطحي Surface Tension**، وهو ما يجعل سطح السائل مشدوداً مثل الغشاء الرقيق، ونتيجة لذلك يمكنك أن تجعل إبرة تطفو على سطح الماء، كما يمكن للعنكبوت أن يتحرك على سطحه. أما إذا كانت كمية السائل قليلة فإن التوتر السطحي يجعل السائل يكون قطرات صغيرة، كما تلاحظ في الشكل ٥.

الشكل ٥ ينشأ التوتر السطحي بسبب
تأثير جزيئات سطح السائل
بقوى تختلف عن القوى
التي تؤثر في الجسيمات
داخل السائل.



هذه الأسهم توضح قوى الشد
المؤثرة في جسيمات السائل.

يسمح التوتر السطحي لهذا العنكبوت
أن يستقر على سطح الماء وكأن على الماء
غشاء رقيقاً.



تكونت قطرات ماء على سطح الورقة
بسبب التوتر السطحي.

الغازات

إن أغلب الغازات لا تُرى بالعين، بخلاف المواد الصلبة والسائلة. والهواء الذي نتنفسه ولا نراه هو خليط من الغازات. ومن الغازات أيضًا الهيليوم المستعمل في ملء بعض البالونات، وكذلك غاز الوسائد الهوائية المستعملة في السيارات، والموضح في الشكل ٦.



الغاز Gas. مادة ليس لها شكل ثابت محدد، وليس لها حجم ثابت أيضًا، كما أن جسيماته متباعدة أكثر من جسيمات المواد الصلبة أو السائلة، وتتحرك بسرعة كبيرة في جميع الاتجاهات، وتنتشر متباعدة بعضها عن بعض.

عندما تصب كمية من السائل في إناء يستقر السائل في قعر الإناء. أما إذا وضعت الكمية نفسها من غاز ما في الإناء نفسه وكان مغلقًا، فسيملأ الغاز الإناء كله؛ لأنه ينتشر فورًا. فجسيمات الغاز يتباعد بعضها عن بعض. وللغاز - في المقابل - قابلية للانضغاط والتمدد؛ فبإنقاص حجم الوعاء الذي يحوي غازًا تقترب جزيئاته بعضها من بعض، ويقل حجمه.

البخار مادة توجد في الحالة الغازية ولكنها تكون في الحالة السائلة أو الصلبة في درجة حرارة الغرفة، فالماء مثلًا في درجة حرارة الغرفة يكون في الحالة السائلة، وعندما يتحول إلى الحالة الغازية يسمى بخارًا.

الشكل ٦ تتحرك جسيمات الغاز في جميع الاتجاهات بسرعة عالية. وينتشر الغاز بسرعة ليملاً حَيَرِ الوسادة.

مراجعة ١ الدرس

اختبر نفسك

١. اذكر خاصيتي المادة اللتين تحددان حالتها.
٢. صف حركة الجسيمات في كل من المواد الصلبة والسائلة والغازية.
٣. سَمِّ الخاصية المشتركة بين الحالتين السائلة والصلبة، والخاصية المشتركة بين الحالتين السائلة والغازية.
٤. استنتج. وضع عالم ٢٥ مل من مادة صفراء في وعاء سعته ٥٠ مل، فملأت الوعاء كله بسرعة. هل هذه المادة صلبة أم سائلة أم غازية؟
٥. التفكير الناقد. إذا كان لجسيمات السائل A قوة تماسك أكبر مما لجسيمات السائل B، وكان السائلان في درجة حرارة واحدة، فأيهما لزوجه أكثر؟ فسر ذلك.

تطبيق المهارات

٦. خرائط المفاهيم ارسم شكل فن على دفتر العلوم، واستعن به على تدوين خصائص المادة في حالاتها المختلفة.

الخلاصة

ما المادة ؟

- المادة كل ما له كتلة، ويشغل حيزًا في الفضاء. والصلابة والسيولة والغازية هي الحالات الثلاث الشائعة للمادة على الأرض.

المواد الصلبة

- للمواد الصلبة حجم وشكل ثابتان.
- تترتب جسيمات المواد الصلبة البلورية بشكل منتظم، بينما لا تترتب جزيئات المواد الصلبة غير البلورية بشكل منتظم.

السوائل

- للسوائل حجم ثابت وشكل متغير.
- اللزوجة مقياس لسهولة جريان السائل.

الغازات

- ليس للغاز حجم أو شكل ثابتان.
- البخار حالة غازية لمادة تكون في درجات الحرارة العادية سائلة أو صلبة.



الحرارة وتحولات المادة

في هذا الدرس

الأهداف

- تعرّف كلاً من الطاقة الحرارية ودرجة الحرارة.
- تقارن بين الطاقة الحرارية ودرجة الحرارة.
- تربط تغير الطاقة الحرارية بتغير حالة المادة.
- تستكشف تغيرات الطاقة ودرجة الحرارة عن طريق الرسم البياني.

الأهمية

تغير حالة المادة بالتسخين والتبريد.

مراجعة المفردات

الطاقة: المقدرة على إنجاز الشغل أو إحداث تغير.

المفردات الجديدة

- الطاقة الحرارية
- درجة الحرارة
- الحرارة
- الانصهار
- التكثف

الشكل ٧ العين الحارة في جبال العبادل والتي تبعد عن جازان ٥٠ كم. استنح لماذا يشعر الإنسان بالراحة في الماء الساخن حتى لو كان الطقس بارداً؟


الطاقة الحرارية والحرارة

عندما توضع قطعة من الثلج في كأس وتتركها قليلاً فإنها تأخذ في الانصهار تدريجياً حتى تتحول إلى ماء، أي أنها تتحول من الحالة الصلبة إلى الحالة السائلة. ما الذي يجعل المادة تتحول من حالة إلى أخرى؟ للإجابة عن هذا السؤال نحتاج إلى التفكير في الجسيمات التي تتكوّن منها المادة.

الطاقة تُعرّف الطاقة بأنها المقدرة على إنجاز الشغل أو إحداث تغيير ولقد درست فيما سبق أنواعاً مختلفة من الطاقة، منها طاقة الحركة، كما في طاقة حركة الجسيمات المكونة للمادة. وتعتمد حركة الجسيمات في حالة المادة على طاقتها الحركية. وكلما كانت طاقتها الحركية أكبر كانت سرعتها أكبر، وزادت المسافات بينها. أما الجسيمات التي لها طاقة حركية قليلة فإنها تتحرك أبطأ، وتبقى متقاربة بعضها إلى بعض.

وللجسيمات طاقة وضع (أو طاقة كامنة) بالإضافة إلى طاقتها الحركية. ويطلق على مجموع طاقة الوضع والطاقة الحركية لجميع جسيمات الجسم **الطاقة الحرارية** Thermal Energy للجسم. وتعتمد الطاقة الحرارية على عدد الجسيمات في المادة ومقدار طاقتها. وإذا تغير عدد الجسيمات أو كمية الطاقة في كل جزيء تغيرت الطاقة الحرارية في العينة. لذا عند وجود عيتين متشابهتين تماماً في الحجم تحتوي العينة الأسخن (التي درجة حرارتها أعلى) على طاقة حرارية أكبر. لذا توصف الطاقة الحرارية بأنها خاصية كمية؛ لأنها تختلف باختلاف العينة من المادة نفسها. وفي الشكل ٧ نجد أن الطاقة الحرارية لجسيمات الماء الساخن في ينبوع أكبر من طاقة الجسيمات المحيطة بها.





الشكل ٨ جسيمات الشاي الساخن تتحرك أسرع من جسيمات الشاي المثلج، ودرجة حرارة الشاي الساخن أعلى من درجة حرارة الشاي المثلج. حدد في أي السائلين تكون طاقة حركة الجزيئات أكبر؟

درجة الحرارة ليس لجسيمات المادة جميعها المقدار نفسه من الطاقة الحركية؛ فبعضها طاقته الحركية أكبر من البعض الآخر. و**درجة حرارة Temperature** الجسم هي متوسط الطاقة الحركية للجسيمات المكونة له. ويحسب المتوسط لعدد من القيم بقسمة مجموعها على عددها. مثال: يكون متوسط الأعداد ٢، ٤، ٨، ١٠ هو $6 = 4 \div (10 + 8 + 4 + 2)$. لذا تختلف درجة الحرارة عن الطاقة الحرارية؛ فالطاقة الحرارية هي مجموع الطاقات للجسيمات، في حين أن درجة الحرارة هي متوسط الطاقات. وفي الشكل ٨ نقول إن الشاي المثلج أبرد من الشاي الساخن، ويمكن صياغة ذلك بطريقة أخرى؛ فنقول إن درجة حرارة الشاي المثلج أقل من درجة حرارة الشاي الساخن، كما يمكنك القول إن متوسط الطاقة الحركية لجسيمات الشاي المثلج أقل من متوسطها للشاي الساخن.

الحرارة تنتقل الطاقة الحرارية من الجسم الأسخن إلى الجسم الأبرد عند تلامس جسمين مختلفين في درجة الحرارة، وتسمى الطاقة الحرارية التي تنتقل من مادة درجة حرارتها أعلى إلى مادة درجة حرارتها أقل **حرارة Heat**. لذا عندما يُسخن جسم يكتسب طاقة حرارية، وتتحرك جسيماته بسرعة أكبر، وتزداد درجة حرارته. وعندما يُبرّد يفقد جزءاً من طاقته الحرارية، مما يعطى من حركة جزيئاته، فتتخفف درجة حرارته.

✓ **ماذا قرأت؟** كيف ترتبط الحرارة بدرجة الحرارة؟



أشكال الطاقة الحرارية أحد أشكال الطاقة العديدة. ومن أشكالها أيضاً الطاقة الكيميائية للمركّبات، والطاقة الكهربائية المستعملة في الأجهزة الكهربائية، والطاقة الكهرومغناطيسية للضوء، والطاقة النووية المخزنة في أنوية الذرات. اكتب قائمة بأمثلة توضح من خلالها استعمال أشكال مختلفة من الطاقة.

أما المواد النقيّة التي حرارتها النوعية منخفضة- ومنها الفلزات والكوارتز المكون للرمال فإنها تسخن وتبرد بسرعة؛ لأنها تحتاج إلى كميات أقل من الحرارة لرفع درجة حرارتها.

التغيرات بين الحالات الصلبة والسائلة

يمكن للمادة أن تتغير من حالة إلى أخرى عند اكتسابها طاقة حرارية أو فقدانها. ويعرف هذا التغير بتغير الحالة. ويظهر الرسم في الشكل ١٠ تغيرات درجة الحرارة مع الزيادة التدريجية للطاقة الحرارية لإناء جليد.

الانصهار يكتسب الجليد طاقة حرارية، وترتفع درجة حرارته، كما في الشكل ١٠، وعند نقطة معينة تتوقف درجة الحرارة عن الارتفاع، مع أن الجليد ما زال يكتسب الطاقة الحرارية، ويبدأ في التغير، فيتحول إلى الماء السائل.

يسمى التحول من الحالة الصلبة إلى الحالة السائلة **الانصهار** Melting. وتسمى درجة الحرارة التي يتم عندها تحول المادة من صلبة إلى سائلة درجة الانصهار. ودرجة انصهار الجليد صفر°س.

لا تنصهر المركبات غير البلورية ومنها المطاط والزجاج بالطريقة نفسها التي تنصهر بها المركبات البلورية؛ لأنها ليس لها تركيب بلوري ليتحطم. كما أن هذه المركبات تصبح أكثر ليونة عند تسخينها، كما يظهر في الشكل ٩.



الشكل ٩ يبدأ الزجاج في الليونة تدريجيًا عند تسخينه بدلاً من انصهاره وتحوله إلى سائل. ويستخدم صانعو الزجاجيات هذه الميزة في تشكيل الزجاج.

حالات المادة

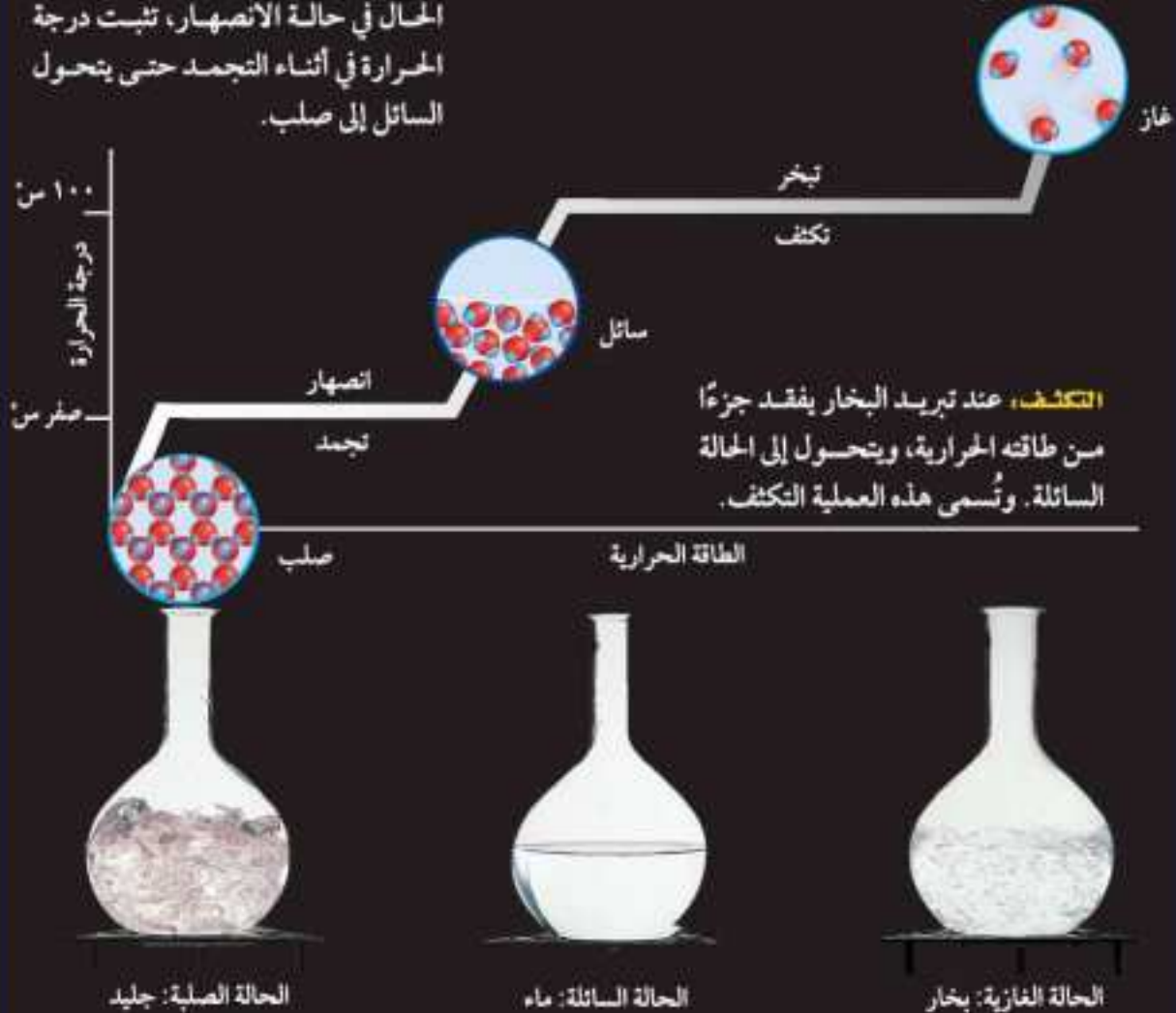
الشكل ١٠

التبخير: عندما تصل درجة حرارة الماء إلى 100°C - وهي درجة غليانه - تتحرك جزيئاته بسرعة كبيرة تكفي لانفصالها وتغلبها على قوة تماسكها التي تجعلها في الحالة السائلة، فتتبخر ويصير السائل غازاً. وتثبت درجة الحرارة في أثناء الغليان حتى يتبخر السائل كله.

يوجد الماء - شأنه شأن الكثير من المواد - في حالات ثلاث محددة، هي الصلبة والسائلة والغازية. ويتحول الماء عند درجات حرارة محددة من حالة إلى أخرى. يوضح الشكل التغيرات التي تحدث عند تسخين الماء وتبريده.

التجمد: عند تجمد الماء يفقد طاقة حرارية متحولاً من الحالة السائلة إلى الحالة الصلبة في صورة جليد. وكما هو الحال في حالة الانصهار، تثبت درجة الحرارة في أثناء التجمد حتى يتحول السائل إلى صلب.

الانصهار: عندما ينصهر الجليد تثبت درجة حرارته حتى يتحول الجليد كله إلى ماء سائل. ومع استمرار تسخين الماء السائل تزداد سرعة اهتزاز جزيئاته، وترتفع درجة حرارته.



درجة التجمد

ارجع إلى المواقع الإلكترونية عبر
شبكة الإنترنت

للحصول على معلومات حول
التجمد.

نشاط اعمل قائمة بعدد من المواد
ودرجات تجمد كل منها، وبين
كيف تؤثر درجة تجمد المادة في
سبل الاستفادة منها.

التجمد يُسمى التغير من الحالة السائلة إلى الصلبة التجمد Freezing. ويحدث في سوائل المواد التي تكون بلورية في الحالة الصلبة. فعند تبريد السائل يفقد جزءاً من طاقته الحرارية، لذا تتباطأ حركة جسيماته، ويتقارب بعضها إلى بعض أكثر، فتزداد قوى التماسك بين هذه الجسيمات، ويبدأ تشكل بلورات المادة الصلبة. وتلاحظ في الشكل ١٠ أن عملية التجمد عكس عملية الانصهار.

ويطلق على درجة الحرارة التي يتم عندها تغير حالة المادة من الحالة السائلة إلى الحالة الصلبة درجة التجمد. ودرجة انصهار المادة الصلبة هي نفسها درجة التجمد. فدرجة انصهار الجليد هي نفسها درجة تجمد الماء السائل، وهي صفر° س.

تبقى درجة حرارة المادة في أثناء عملية التجمد ثابتة. ولأن لجسيمات المادة في الحالة السائلة طاقة أكبر مما في الحالة الصلبة فإنها تقوم بإطلاق الطاقة للوسط المحيط، وبعد تحوّل المادة إلى الصلابة تبدأ درجة الحرارة في الانخفاض أكثر إذا استمرت عملية التبريد.

تطبيق العلوم

كيف ينقذ الجليد حبات البرتقال؟



يراقب مزارعو البرتقال في بعض المناطق انخفاض درجات الحرارة في الربيع واقترابها من التجمد؛ حيث يؤدي انخفاضها دون الصفر° س إلى تجمد السائل (وهو الماء) في خلايا البرتقال وتمده، مما يسبب تلف الخلايا، ويجعل حبات البرتقال طرية، والمحصول عديم الجدوى تجارياً. ولتجنب ذلك، يرش المزارعون البرتقال بالماء قبيل وصول درجة الحرارة إلى الصفر° س. كيف تحمي عملية رش الماء البرتقال؟

تحديد المشكلة

ارجع إلى الشكل ١٠، وشرح ماذا يحدث للماء عند درجة صفر° س؟

حل المشكلة

١. ما التغيرات التي تحدث لحالة الماء ولطاقته عند تجمده؟
٢. كيف يحفظ الجليد المتكوّن على قشرة البرتقال الثمار من التلف؟



ملاحظة التبخر

الخطوات

1. ضع قطرة واحدة من الكحول الطبي بالقطارة على ظاهرك يدك.
2. صف ما يحدث ليديك وما تشعر به بعد دقيقتين.
3. اغسل يديك.

التحليل

1. ما التغيرات التي لاحظتها على مظهر الكحول الطبي؟
2. ما الإحساس الذي شعرت به خلال الدقيقتين؟ وكيف تفسر ذلك؟
3. استنتج كيف يؤدي التعرق إلى تبريد الجسم؟

التغيرات بين الحالات السائلة والغازية

تلاحظ بعد هطول المطر تكوّن تجمعات من الماء على سطح الأرض، ثم لا تلبث أن تختفي بعد أيام. أين يذهب الماء؟ لقد تحوّل الماء إلى بخار، أي ماء في الحالة الغازية. وتتحول المادة من الحالة السائلة إلى الحالة الغازية - وبالعكس - عن طريق عمليتي التبخر والتكثف.

التبخر ترتفع درجة حرارة الماء عند تسخينه حتى تصل إلى ١٠٠°س، وعندها يبدأ الماء السائل في التحول إلى غاز. ويُسمى التحول من الحالة السائلة إلى الغازية **التبخر** Vaporization. وهناك نوعان من التبخر؛ في النوع الأول يحدث التبخر من أجزاء السائل كله؛ إذ تتولد الفقاعات وتصعد إلى السطح، كما في الشكل ١١، ويُسمى هذا الغليان، كما تثبت درجة حرارة السائل خلال غليانه حتى يتحول السائل كله إلى بخار. ويطلق على درجة الحرارة هذه درجة الغليان. وفي أثناء الغليان تكتسب جسيمات السائل الطاقة الحرارية، فتزداد سرعتها، وعندما يكتسب الجسيم الطاقة الكافية يفلت من السائل.

أما النوع الثاني من التبخر فيحدث باستمرار على سطح السائل دون الحاجة إلى وصول السائل إلى درجة الغليان. وتختلف جزيئات السائل في طاقتها الحركية، مما يجعلها تتحرك بسرعات مختلفة. وعلى الرغم من ثبات درجة الحرارة التي تُعبّر عن متوسط الطاقة الحركية للجزيئات فإن الجزيئات السريعة الحركة تتغلب على قوة التجاذب بينها، وتتمكن من الإفلات من سطح الماء بسبب زيادة طاقتها الحركية.

موقع الجزيئات تحتاج الجزيئات إلى عوامل أخرى إضافة إلى السرعة الزائدة لتفلت من الحالة السائلة؛ إذ يجب أن تكون هذه الجزيئات قريبة من سطح السائل، وتتحرك في الاتجاه الصحيح، متجنباً التصادم مع غيرها في أثناء خروجها. وبتبخر الجزيئات الأسرع من سطح السائل تبقى الجزيئات الأبطأ والأبرد. فالتبخر يبرّد السائل والحيز المحيط به. هل يمكنك تفسير الشعور بالبرودة عند تبخر العرق من الجسم؟

الشكل ١١ يتحول السائل عند الغليان إلى غاز، وتتصاعد الفقاعات إلى سطح السائل. **حدّد** الكلمة التي تصف تحول السائل إلى غاز.



الشكل ١٢ تكونت قطرات ماء على السطح الخارجي للكأس عندما فقد بخار الماء في الهواء كمية كافية من الطاقة ليعود إلى الحالة السائلة، وتسمى هذه العملية التكثف.



التكثف عندما تُصَبّ ماءً باردًا في يوم دافئ في كأس وتتركه مدة معينة تتكون قطرات من الماء على سطح الكأس في الخارج، كما في الشكل ١٢. ما الذي حدث؟ عندما يبرد بخار الماء الموجود في الهواء المحيط بالكأس تقل سرعة جسيماته فتترب شيتًا فشيئًا بعضها من بعض، وعندما تصل إلى الحد الكافي لتماسك فيما بينها تتكون قطرات من السائل. وتُسمى هذه العملية المعاكسة للتبخّر **التكثف** Condensation. ويتكثف الغاز يطلق الطاقة الحرارية التي سبق أن اكتسبها عند تحوله إلى غاز، وتثبت درجة الحرارة خلال التكثف أيضًا، وتغيّر الجسيمات من ترتيب نفسها في أثناء فقدانها للطاقة وتحولها إلى الحالة السائلة. وعندما يتم التحول تستمر درجة الحرارة في الانخفاض، كما في الشكل ١٠.

ماذا قرأت؟ ما تغيرات الطاقة التي تحدث في أثناء التكثف؟

يتكثف بخار الماء الموجود في الجو بالطريقة نفسها مكوّنًا قطرات من الماء في صورة غيوم. وعندما تتجمع القطرات وتكبر على نحوٍ كافٍ تسقط في صورة مطر.

التغيرات بين الحالات الصلبة والغازية

يمكن أن تتحول بعض المواد من الحالة الصلبة إلى الحالة الغازية مباشرة دون المرور بالحالة السائلة، ويُسمى هذا التسامي. وهو يحدث نتيجة اكتساب جسيمات سطح المادة الصلبة طاقة كافية لتصبح غازًا. فالجليد الجاف (ثاني أكسيد الكربون الصلب) من المواد التي لها خاصية التسامي. ويستعمل في حفظ بعض المواد باردة وجافة. لا يتغير الجليد الجاف في درجة حرارة الغرفة والضغط الجوي العادي إلى الحالة السائلة، بل يتحول مباشرة إلى الحالة الغازية؛ حيث يمتص الطاقة من بخار الماء الموجود في الهواء، يتحول ثاني أكسيد الكربون إلى غاز، بينما يبرد بخار الماء ويتكثف مشكلاً الضباب الذي تراه في الشكل ١٣.

العلوم عبر المواقع الإلكترونية

التكثف

ارجع إلى المواقع الإلكترونية عبر شبكة الإنترنت

للحصول على المزيد من المعلومات حول تأثير التكثف في الطقس.

نشاط ابحث كيف يتأثر التكثف بدرجة الحرارة وكمية الماء في الهواء؟

حالات المادة

ارجع إلى كراسة الترتيب العملي

تجربة عملية

الشكل ١٣ يتحول ثاني أكسيد الكربون الصلب (الجليد الجاف) في قاع كأس الماء مباشرة إلى غاز ثاني أكسيد الكربون بعملية تُسمى التسامي.



اختبر نفسك

١. قارن بين الطاقة الحرارية ودرجة الحرارة.
٢. فسر كيف يسبب تغير الطاقة الحرارية للمادة تغيراً في حالتها؟ وأعط مثالين على ذلك.
٣. اكتب ثلاثة تغيرات للحالة تمتص خلالها المادة الطاقة.
٤. صف نوعي التبخر.
٥. اكتب فقرة في دفتر العلوم توضح فيها سبب شعورك بقشعريرة عند خروجك سريعاً من حمام دافئ.
٦. التفكير الناقد لماذا تبقى درجة حرارة مادة ثابتة حتى في أثناء امتصاصها طاقة حرارية؟

تطبيق الرياضيات

٧. إنشاء الرسوم البيانية واستخدامها
استخدم البيانات التي جمعتها من التجربة الاستهلاكية لإنشاء رسم بياني يوضح تغير درجة الحرارة مع الزمن. عند أي درجة حرارة يثبت مستوى المنحنى؟ وماذا يحدث للسائل خلال هذه الفترة؟

الخلاصة

الطاقة الحرارية والتسخين

- تعتمد الطاقة الحرارية على كمية المادة والطاقة الحركية لجسيماتها.
- الحرارة هي انتقال الطاقة الحرارية من الجسم الأسخن إلى الجسم الأبرد.

التغير بين الحالة الصلبة والحالة السائلة

- تبقى حرارة المادة ثابتة خلال تحولات المادة من حالة إلى أخرى
- الانصهار: تحول المادة من الحالة الصلبة إلى الحالة السائلة.
- التجمد: تحول المادة من الحالة السائلة إلى الحالة الصلبة.

التغير بين الحالة السائلة والحالة الغازية

- التبخر: تحول المادة من الحالة السائلة إلى الحالة الغازية.
- التكثف: تحول المادة من الحالة الغازية إلى الحالة السائلة.

التغير من الحالة الصلبة إلى الحالة الغازية

- التسامي: تحول المادة من الحالة الصلبة إلى الحالة الغازية مباشرة دون المرور بالحالة السائلة.



سلوك الموائع

فيه هذا الدرس

الأهداف

- تعرّف الضغط والعوامل المؤثرة عليه.
- تفسر طفو بعض الأجسام وانغمار بعضها الآخر.
- تصف انتقال الضغط عبر الموائع.

الأهمية

يمكنك الضغط من إخراج معجون الأسنان من الأنبوب ، وتساعدك قوة الدفع على الطفو فوق الماء .

مراجعة المفردات

القوة: سحب أو دفع.

المفردات الجديدة

- الضغط
- قوة الطفو
- مبدأ أرخميدس
- الكثافة
- مبدأ باسكال

الشكل ١٤ لولا ضغط الهواء المحصور داخل هذه الكرة لانكمشت.

الضغط

لعلك نفخت يوماً بالوناً أو كرة حتى انتفخت تماماً! إن هذا الانتفاخ ناتج عن حركة جسيمات الهواء داخل الكرة، كما في الشكل ١٤. هذه الجسيمات تتحرك، فيتصادم بعضها مع بعض ومع الجدران الداخلية للكرة. وكلما اصطدم جسيم مع الجدار الداخلي للكرة أثر فيه بقوة دفع نحو الخارج. والقوة تكون دفعاً أو سحباً، كما درست من قبل. ومجموع القوى التي تؤثر بها الجسيمات في جدار الكرة تنشئ ضغط الهواء.

والضغط Pressure يساوي القوة المؤثرة في سطح مقسومة على المساحة الكلية التي تؤثر فيها.

$$\text{الضغط} = \frac{\text{القوة}}{\text{المساحة}}$$

وعند قياس القوة بوحدة النيوتن والمساحة بالمتر المربع (م^٢)، تكون وحدة قياس الضغط نيوتن لكل متر مربع (نيوتن/م^٢)، وتسمى هذه الوحدة باسكال Pascal. وعند مناقشة الضغط الجوي نتعامل مع وحدة الكيلو باسكال التي تساوي ١٠٠٠ باسكال.



القوة = ٥٣٠ نيوتن
المساحة = ٣٣٥ سم^٢
الضغط = ١,٦ نيوتن / سم^٢



القوة = ٥٣٠ نيوتن
المساحة = ٣٧ سم^٢
الضغط = ١٤ نيوتن / سم^٢



الشكل ١٥ الضغط الذي يسببه وزن هذا الولد على رؤوس أصابع قدميه أكبر من الضغط الذي يسببه على كامل قدميه .
فسر لماذا يكون الضغط أكبر في الحالة الأولى؟

القوة والمساحة نلاحظ من المعادلة السابقة أن الضغط يعتمد على مقدار القوة، والمساحة التي تؤثر فيها هذه القوة. فزيادة القوة المؤثرة في مساحة معينة يزداد الضغط وينقص بنقصانها، إذا علاقة الضغط بالقوة علاقة طردية في حين أنه عند تغير المساحة التي تؤثر فيها القوة نفسها يقل الضغط بزيادة المساحة ويزداد بنقصانها، إذا علاقة الضغط بالمساحة علاقة عكسية. كما في الشكل ١٥.

ماذا قرأت؟ ما العوامل التي يعتمد عليها الضغط؟

الضغط الجوي يضغط الهواء الجوي علينا بقوة كبيرة، وبالرغم من ذلك فنحن لا نحس به ولا نراه. ويعرف ضغط الهواء بالضغط الجوي؛ لأن الهواء يشكل غلافًا جويًا يحيط بالأرض. وقيمة الضغط الجوي هي ١٠١,٣ كيلو باسكال عند مستوى سطح البحر، وهذا يعني أن الهواء الجوي يؤثر بقوة مقدارها ١٠١٣٠٠ نيوتن على كل متر مربع، وهذا يساوي وزن شاحنة كبيرة. ويساعدك الضغط الجوي على الشرب باستخدام ماصة العصير؛ فعندما تمتص العصير بالماصة فإنك تسحب الهواء الذي فيها، فيؤدي الضغط الجوي المؤثر في سطح الشراب إلى دفعه إلى أسفل، مما يجعله يرتفع في الماصة إلى أعلى، كما في الشكل ١٦. هل يمكنك استخدام الماصة للشرب بالطريقة نفسها من علب مغلقة بإحكام ولا يصلها الهواء الجوي؟ لا؛ لأن الهواء الجوي في هذه الحالة لن يدفع سطح الشراب إلى أسفل.

الشكل ١٦ الضغط الجوي المؤثر في سطح العصير يدفع العصير إلى أعلى عبر الماصة.





الشكل ١٧ يؤثر الضغط الجوي بقوة في جميع سطوح جسم هذا الولد.
فسر لماذا لا يشعر الولد بهذا الضغط؟

توازن الضغط إذا كان للهواء هذه القوة الكبيرة فلماذا لا نشعر بها؟ السبب هو أن الضغط الناتج عن السوائل داخل الجسم يعادل الضغط الجوي الواقع عليه. انظر إلى اللاعب في الشكل ١٧. إن السوائل داخل جسمه تضغط إلى الخارج، بمقدار كافٍ لتوازن مع الضغط الجوي المؤثر فيه، فيتوازن الضغط، ولا يتحطم جسمه. وهذا من بديع خلق الله تعالى الذي أحسن كل شيء خلقه. قال الله تعالى: ﴿ **سَرَّيْهُمْ** **مَابَيْنَنَا فِي الْأَفَاقِ وَفِي أَنْفُسِهِمْ حَتَّىٰ يَبَيِّنَ لَهُمْ أَنَّهُ الْحَقُّ أَوَلَمْ يَكْفِ بِرَبِّكَ أَنَّهُ عَلَىٰ كُلِّ شَيْءٍ وَشَهِيدٌ** ﴾ (٣٥) فصلت ٥٣.

تغيرات الضغط الجوي يتغير الضغط الجوي بتغير الارتفاع عن مستوى سطح البحر؛ فكلما زاد الارتفاع عن سطح البحر قل الضغط الجوي؛ بسبب وجود عدد أقل من جسيمات الهواء؛ فكلما قل عدد الجسيمات في حجم ما قل عدد التصادمات، لذا يقل الضغط. وقد استخدم هذه الفكرة الفيزيائي الفرنسي باسكال عندما استعمل بالوناً منفوخاً جزئياً بالهواء ومربوطاً بإحكام، وصعد به إلى قمة جبل كما في الشكل ١٨، فأخذ حجم البالون في الازدياد، رغم أن كمية الهواء في البالون لم تتغير. وقد فسّر باسكال ذلك بأن الضغط الجوي الذي يؤثر في البالون من الخارج تناقص عندما ارتفعنا عن سطح البحر، فأصبحت الجسيمات داخل البالون قادرة على الانتشار أكثر، وأخذت حجماً أكبر.

الشكل ١٨ يمتدّ البالون بزيادة الارتفاع عن سطح البحر؛ لأن الضغط الجوي المؤثر في البالون من الخارج يقل، فيصبح لجسيمات الهواء داخله حرية أكبر في الانتشار.

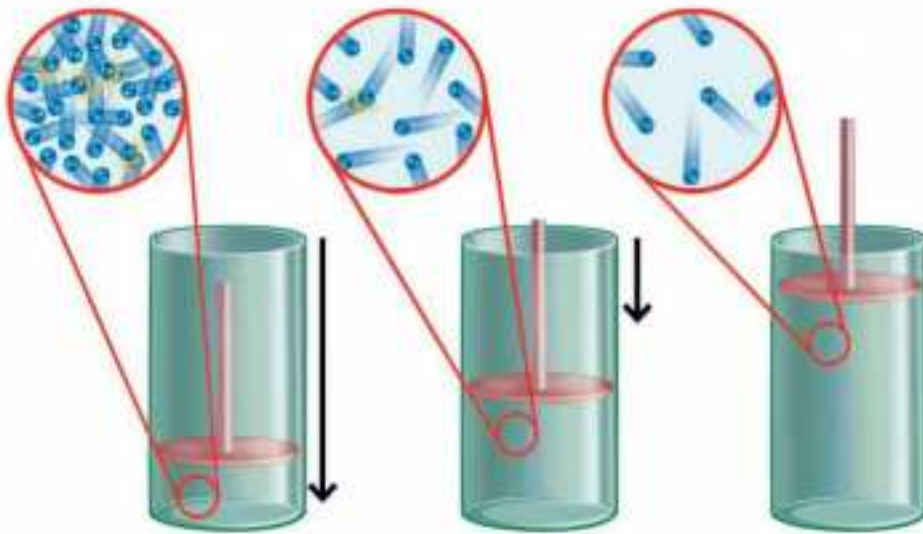


الانتقال في الهواء لماذا تشعر بانسداد في أذنيك عندما تصعد جبلًا عاليًا أو تكون مسافرًا في طائرة؟ لأن الضغط الجوي يقل، ويصبح ضغط الهواء داخل أذنيك أكبر من الضغط خارجهما، مما يؤدي إلى حجز بعض الهواء داخل أذنيك ثم يتحرر فتسمع صوت خروجه كالفرقة. وقد روعي تغيرات الضغط الجوي عند السفر في الجو؛ فالطائرات مهيأة للمحافظة على الضغط داخلها، فلا يتغير الضغط بصورة مفاجئة خلال الرحلات.

التغير في ضغط الغاز

كما يتغير الضغط الجوي بتغير الظروف فإن ضغط الهواء أو أي غاز محصور يتغير أيضًا. فضغط الهواء المحصور داخل إناء مغلق يتغير بتغير كل من حجم الإناء، ودرجة حرارته.

الضغط والحجم عندما تضغط بيدك على جزء من بالون مملوء بالهواء ينتفخ الجزء الآخر من البالون أكثر؛ لأنك دفعت عدد الجسيمات داخلها لتتغلغل حينًا أصغر، إذا علاقة الضغط بالحجم علاقة عكسية. مما يعني زيادة عدد تصادماتها بالجدران الداخلية، منتجة ضغطًا أكبر عليها. بشرط بقاء درجة الحرارة ثابتة. لاحظ هذا التغير في حركة الجسيمات في الشكل ١٩. ماذا يحدث إذا زاد حجم الغاز؟ إن زيادة حجم الإناء (أي الغاز المحصور) دون تغيير درجة الحرارة يقلل من تصادمات الجسيمات بالجدران الداخلية، فيقل الضغط الذي تنتجه.



الشكل ١٩ ينقصان حجم الغاز المحصور يزداد الضغط. يقل الحيز الذي تشغله جسيمات الغاز بحركة المكبس إلى أسفل فيزداد عدد تصادماتها، لذا يزداد الضغط.



الضغط ودرجة الحرارة بثبات حجم المحصور يتغير ضغطه بتغير درجة حرارته؛ إذ تؤدي الزيادة في درجة حرارة الغاز إلى زيادة الطاقة الحركية لجسيماته، فتزداد سرعتها، ويزيد عدد التصادمات، فيزداد الضغط، إذا علاقة الضغط بدرجة الحرارة علاقة طردية. أي أنه بزيادة درجة حرارة غاز محصور يزداد ضغطه عند ثبات حجمه كما في الشكل ٢٠.

✓ **ماذا قرأت؟** لماذا ينكمش أو ينكسر إناء محكم الإغلاق به هواء بعد تجميده؟

الطفو أو الانغمار

من المؤكد أنك تشعر أنك أخف وزناً عندما تكون في الماء. فعندما تكون في الماء يؤثر فيك ضغط الماء ويدفعك في جميع الاتجاهات. وستجد أنك كلما نزلت إلى عمق أكبر في الماء زاد ضغط الماء عليك، إذ يزداد ضغط الماء كلما زاد العمق. وعليه يكون الضغط الذي يدفع السطح السفلي للجسم إلى أعلى أكبر من الضغط الذي يؤثر في السطح العلوي إلى أسفل؛ لأن السطح السفلي يكون على عمق أكبر من السطح العلوي للجسم. ينتج عن فرق الضغط قوة تؤثر إلى أعلى في الجسم المغمور في مائع، كما في الشكل ٢١، تسمى **قوة الطفو** Buoyant Force. يطفو الجسم إذا تساوت قوة الطفو مع وزن الجسم، وينغمر إذا كانت قوة الطفو أقل من وزنه.

الشكل ٢٠ يزداد ضغط الغاز المحصور عند تسخين الإناء مع بقاء الحجم ثابتاً. توقع ماذا يحدث لو استمر تسخين الإناء تسخيناً شديداً؟

الشكل ٢١ الضغط الذي يدفع جسماً مغموراً إلى أعلى هو ضغط أكبر من ذلك الذي يدفعه إلى أسفل، والفرق بين الضغطين يولد قوة الطفو.



يؤثر الوزن إلى أسفل وتؤثر قوة الطفو إلى أعلى، وفي حالة تساوي القوتين يطفو الجسم



مبدأ أرخميدس ما الذي يحدد قوة الطفو؟ نصّ مبدأ أرخميدس 'Archimedes' Principle على أن قوة الطفو المؤثرة في جسم داخل مائع تساوي وزن المائع الذي يزيحه هذا الجسم. فإذا وضعت جسمًا في إناء مملوء إلى حافته بالماء، كما في الشكل ٢٢، فسوف ينسكب بعضه، فإذا وزنت هذا الماء المنسكب (المزاح) فستحصل على مقدار قوة الطفو المؤثرة في الجسم.



الشكل ٢٢ عندما سقطت الكرة في الإناء الأكبر المملوء بالماء أزاحت بعضه، وقد تم جمع الماء المزاح في الإناء الأصغر.
تواصل ماذا تعلم عن وزن الماء المزاح وحجمه؟

الكثافة يساعدك فهم الكثافة على توقع طفو الجسم أو انغماره. والكثافة Density مقدار كتلة الجسم مقسومًا على حجمه.

$$\text{الكثافة} = \frac{\text{الكتلة}}{\text{الحجم}}$$

فإذا كانت كثافة الجسم أكبر من كثافة المائع فإن الجسم ينغمر. أما إذا كانت كثافة المائع أكبر من كثافة الجسم فإن الجسم يطفو. فإذا تساوت الكثافتان بقي الجسم عائمًا عند مستواه في المائع، فلا ينغمر ولا يطفو.

أوجد المجهول

تطبيق الرياضيات

حساب الكثافة أعطيت عينة من مادة صلبة كتلتها ١٠,٠ جم، وحجمها ٤,٦٠ سم^٣، هل تطفو في الماء الذي كثافته ١,٠٠ جم/سم^٣؟

الحل

١ المعطيات:

- الكتلة = ١٠,٠ جم
- الحجم = ٤,٦٠ سم^٣
- كثافة الماء = ١,٠٠ جم/سم^٣

كثافة العينة

٢ المطلوب:

$$\text{الكثافة} = \frac{\text{الكتلة}}{\text{الحجم}} = \frac{١٠,٠ \text{ جم}}{٤,٦٠ \text{ سم}^٣} = ٢,١٧ \text{ جم/سم}^٣$$

٣ طريقة الحل:

• كثافة العينة أكبر من كثافة الماء. لذا تنغمر العينة.

• أوجد كتلة العينة بضرب الكثافة في الحجم.

٤ التحقق من الحل:

مسائل تدريبية

١. عينة من الزئبق كتلتها ١٠٢ جم وحجمها ٧,٤٠ سم^٣. هل تطفو فوق الماء؟
٢. أسطوانة مصممة من الألومنيوم كتلتها ١٣,٥ جم وحجمها ٥,٠ سم^٣. هل تطفو فوق الماء؟

الشكل ٢٣ يساعد هذا المكبس على رفع السيارة اعتمادًا على مبدأ باسكال، وكذلك كرسي طبيب الأسنان.



مبدأ باسكال

ماذا يحدث عندما تغطى علبة بلاستيكية مملوءة بالماء مغلقة بإحكام؟ يتوزع الضغط الإضافي بالتساوي على الماء الموجود في العلبة؛ بسبب عدم وجود منفذ للماء. ويوضح مبدأ باسكال Pascal's Principle أن الزيادة في الضغط على سائل محصور، والنتيجة عن قوة خارجية، تنتقل بالتساوي إلى جميع أجزاء السائل.

الأنظمة الهيدروليكية تعمل مكابس السوائل (الهيدروليكية) طبقاً لمبدأ باسكال، ومنها رافعة السيارات وكرسي طبيب الأسنان، كما في الشكل ٢٣. ويوضح الشكل ٢٤ مكبس السوائل؛ حيث إن القوة المؤثرة في المكبس الأيسر تولد ضغطاً إضافياً على السائل المحصور، فينتقل هذا الضغط الإضافي إلى المكبس الأيمن. ولأن الضغط يساوي القوة المؤثرة مقسومة على المساحة التي تؤثر فيها القوة، فإن هذا الضغط يولد قوة كبيرة بحسب العلاقة:

$$\text{الضغط} = \frac{\text{القوة}}{\text{المساحة}} \quad \text{أو} \quad \text{القوة} = \text{الضغط} \times \text{المساحة}$$

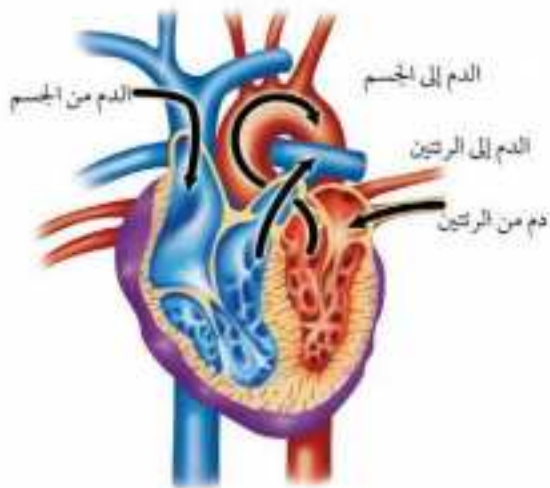


الشكل ٢٤ بزيادة مساحة مقطع المكبس الأيمن تزداد القوة المؤثرة فيه. ويبين الشكل أن القوة الصغيرة المؤثرة في المكبس الصغير تنتج قوة كبيرة عند المكبس الكبير، فتكون القوة كافية لرفع السيارة.

إذا كانت مساحتا المكبسين متساويتين فإن القوتين تكونان متساويتين أيضًا. أما إذا كانت مساحة مقطع المكبس الأيمن كبيرة نسبيًا مقارنة بمساحة مقطع المكبس الأيسر فإنه تتولد قوة أكبر على المكبس الأكبر مساحة، أي الأيمن. وتساعدنا مكابس السوائل على رفع أجسام ثقيلة باستخدام قوى صغيرة نسبيًا.

مضخات القوة إذا كان هناك وعاء مثقوبٌ يحتوي على مائع داخله فإن هذا المائع يندفع خارجًا من الفتحة أو الثقب عند وقوع ضغط عليه، وهذا ما يعرف بمضخة القوة. ومن تطبيقاتها علبة معجون الأسنان وعلب الخردل وبعض علب معجون الطماطم.

للقلب مضخة قوة، إحدها تدفع الدم من القلب إلى الرئتين ليحصل على الأكسجين، والأخرى تدفع الدم الغني بالأكسجين من القلب إلى باقي أعضاء الجسم، كما في الشكل ٢٥.



الشكل ٢٥ القلب مسؤول عن حركة الدم في الجسم. تعمل مضخة القوة معًا على تحريك الدم من الرئتين وإليهما وإلى بقية أنحاء الجسم.



ضغط الدم

ارجع إلى المواقع الإلكترونية عبر شبكة الإنترنت

للحصول على المزيد من المعلومات عن ضغط الدم. حدّد ما يعنيه هذا التعبير، ولماذا يشكل ارتفاع ضغط الدم خطورة على الصحة؟

نشاط اكتب فقرة في دفتر العلوم توضح سبب خطورة ارتفاع ضغط الدم.

اختبر نفسك

١. صف ما يحدث للضغط عند زيادة القوة المؤثرة في مساحة معينة.
٢. صف كيف يتغير الضغط الجوي بتغير الارتفاع.
٣. اكتب عن مبدأ باسكال بأسلوبك الخاص.
٤. استنتج جسم يطفو على سطح ماء. ماذا تستنتج عن قوة الطفو المؤثرة في هذا الجسم؟
٥. التفكير الناقد بعد سحب الهواء من علبة معدنية فارغة وإغلاقها بإحكام لوحظ أن العلبة تهشمت تمامًا. لماذا؟

تطبيق الرياضيات

٦. معادلات بسيطة ما الضغط الذي ينشأ عن تأثير قوة $5,0$ نيوتن في مساحة مقدارها $2,0$ م^٢ وكيف يتغير الضغط إذا ازدادت القوة إلى $10,0$ نيوتن؟ وماذا يحدث إذا تغيرت المساحة لتصبح $1,0$ م^٢؟

الخلاصة

الضغط

- يعتمد الضغط على القوة والمساحة.
- يسبب الهواء الجوي المحيط بك ضغطًا.
- الضغط داخل الجسم يساوي الضغط الجوي المؤثر فيه.

تغيرات ضغط الغاز

- يعتمد الضغط الناشئ عن الغاز على حجمه ودرجة حرارته.

الطفو والانقمار

- يعتمد طفو أو انقمار جسم في مائع على كثافته مقارنة بكثافة المائع.

مبدأ باسكال

- يربط هذا المبدأ كلاً من الضغط والمساحة مع القوة.



سفينة بضائع

صمم سفينتك

سؤال من واقع الحياة

من المدهش مشاهدة سفينة في حجم بنائة كبيرة تبحر بسهولة على سطح الماء، حاملة الأوزان الكبيرة من البضائع والركاب بالإضافة إلى وزنها الضخم. كيف يمكن تحديد حجم السفينة التي تستطيع الطفو بكتلتها التي تحملها؟

تكوين فرضية

فكر في مبدأ أرخميدس، وكيف يرتبط مع قوة الطفو. وكون فرضية توضح كيف أن حجم الماء الذي تزيحه السفينة يرتبط مع كتلة الحمولة التي تحملها السفينة.

اختبار الفرضية

عمل خطة

١. أحضر مجموعة من الكرات الزجاجية، أو مواد أخرى من معلمك. ستمثل هذه حمولة سفينتك. وفكر في نوع السفينة التي ستصممها، آخذًا بعين الاعتبار أنواع المواد المستعملة. وقرر كيف ستقوم بمجموعتك باختبار فرضيتك.

الأهداف

تصمم تجربة تستخدم فيها مبدأ أرخميدس لتحديد حجم السفينة اللازم لحمل مقدار معين من البضاعة، على أن تطفو على مستوى سطح الماء.

المواد والأدوات

- ميزان
- كوبان بلاستيكيان
- مخبار مدرج
- مسطرة مترية
- مقص
- كرات زجاجية
- مغسلة
- حوض أو دلو

إجراءات السلامة



استخدام الطرائق العلمية

٢. **اكتب** قائمة بالخطوات التي ستبعتها في اختبار فرضيتك، موضحاً كيف ستقيس كتلة سفيتك وكتلة الحمولة. احسب حجم الماء المزاح لتبقى السفينة طافية مع حمولتها، ثم قس حجم الماء المزاح وكتلته. ووضح كيف ستصمم سفيتك لتطفو على سطح الماء، ثم اصنع سفيتك.

٣. **اعمل** جدولاً في دفتر العلوم لجمع البيانات. وفكر في البيانات التي ستجمعها.

تنفيذ الخطة

١. اعرض على معلمك الخطة للموافقة عليها قبل الشروع في تنفيذها.
٢. نفذ تجربتك كما في الخطة، وتأكد من اتباع تعليمات السلامة.
٣. سجل ملاحظاتك، وأكمل جدول البيانات في دفتر العلوم.

تحليل البيانات

١. **اكتب** حساباتك، على أن تُظهر كيف حسبت حجم الماء المزاح الضروري لجعل السفينة تطفو وهي محملة.
٢. هل طفت سفيتك أم غرقت؟ إذا طفت سفيتك فهل لاحظت أن جزءاً منها مغمور تحت سطح الماء؟ وهل هو الجزء الأكبر منها؟ ارسماً شكلاً يبين كيف تبدو سفيتك في الماء.
٣. **وضح** كيف اتفقت أو اختلفت نتائج تجربتك مع فرضيتك؟

الاستنتاج والتطبيق

١. إذا غرقت سفيتك فكيف تغير تجربتك لكي تجعلها تطفو؟ وما التغييرات التي ستجربها إذا طفت سفيتك بحيث ينغمر جزء بسيط جداً منها؟
٢. كيف تؤثر كثافة حمولة السفينة في حجم حمولة السفينة؟ وما علاقة ذلك بكثافة الماء؟

تواصل

مسابقاتك

قارن نتائجك بنتائج زملائك، وصمّم جدولاً أو ملخصاً يبين كيف ساعدت الحسابات على نجاح صنع السفينة؟

التهدد الذي لا يصدق

العجينة العجيبة

بحث جدي
يتحول الى لعبة

وبعد سنوات قليلة، رأى أحد رجال الأعمال إمكانية تحويل هذه المادة إلى لعبة، فأقام مصنعًا لبيع المزيج في صورة لعبة في المتاجر عام ١٩٤٩م سميت العجينة العجيبة. وتخزن هذه المادة في وعاء بلاستيكي على شكل بيضة. ويتم الآن صناعة المزيج بألوان مختلفة، والغالب أن كل طفل قد استخدم هذه اللعبة في وقت من الأوقات. ويمكن استخدام هذه المادة على أنها أكثر من مجرد لعبة للأطفال؛ إذ يمكن استخدامها مادةً لتنظيف لوحة الحاسوب بسبب خصائصها اللزجة وإزالة البقع والوبر من الملابس. وقد استخدمها الناس لعمل الرسوم المضحكة والهزلية. ويستخدمها الرياضيون في تقوية قدرتهم على السيطرة، مستفيدين من خاصية تمددها. ويستخدمها رواد الفضاء في أدوات ربط عربات الفضاء عندما تنعدم الجاذبية. وهكذا فإن استخداماتها كثيرة جدًا.

في أثناء الحرب العالمية الثانية كانت الموارد الطبيعية نادرة وكان هناك حاجة ملحة لهذه الموارد. طلبت حكومة الولايات المتحدة الأمريكية من أحد المهندسين البحث في إمكانية إنتاج بديل قليل التكلفة عن المطاط الاصطناعي. وفي أثناء البحث والنظر في الحلول الممكنة، قام المهندس بسكب حمض البوريك في زيت السليكون. وقد كانت نتيجة خلط المادتين مزيجًا هلاميًّا لزجًا. ويسبب التركيب الجزيئي للمزيج، كان للمادة الهلامية القدرة على الارتداد والتمدد في جميع الاتجاهات. وقد اكتشف المهندس أيضًا قدرة المزيج الهلامي على التوسع إلى أجزاء صغيرة عند تعريضه لضغط عالٍ؛ حيث يسلك سلوك المادة الصلبة، وبتفتت إلى أجزاء. وعلى الرغم من أن هذا التركيب يبدو مسليًا ويظهر تنوعًا في الخصائص إلا أن حكومة الولايات المتحدة قررت أن هذا المزيج لا يصلح بديلًا جيدًا عن المطاط الاصطناعي.

بحث اعمل في مجموعة لتفحص عينة من العجينة العجيبة المصنوعة من مزيج حمض البوريك وزيت السليكون. قم بعمل عصف ذهني حول الاستخدامات العملية وغير العملية لهذه المادة.

العلوم
عبر المواقع الإلكترونية
ارجع إلى المواقع الإلكترونية عبر شبكة الإنترنت.

مراجعة الأفكار الرئيسة

الدرس الأول المادة

١. تتكون المواد جميعها من جسيمات صغيرة تتحرك باستمرار.
٢. في الحالة الصلبة تعمل قوى التجاذب بين جسيمات المادة على إبقائها في أماكنها تهتز فقط.
٣. جسيمات السائل لها حجم ثابت، وهي حرة الحركة داخل السائل.
٤. يفقد الجسم طاقة حرارية عندما يتغير من الحالة الغازية إلى الحالة السائلة أو من الحالة السائلة إلى الحالة الصلبة.

الدرس الثالث سلوك الموائع

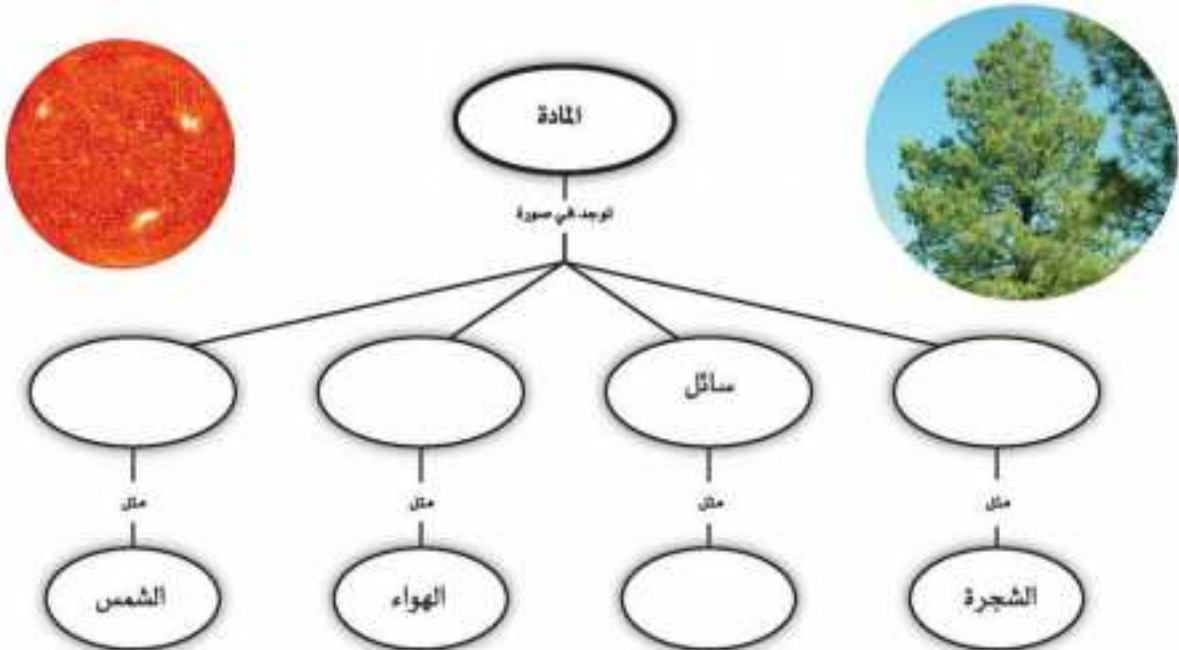
١. يحسب الضغط بقسمة القوة على المساحة.
٢. تؤثر الموائع بقوة طفو إلى أعلى في الأجسام المغمورة فيها.
٣. يطفو الجسم في المائع إذا كانت كثافة المائع أكبر من كثافته.
٤. ينص مبدأ باسكال على أن الضغط الإضافي المؤثر في سائل ينتقل بالتساوي إلى جميع أجزاء السائل.

الدرس الثاني الحرارة وتحولات المادة

١. الطاقة الحرارية هي مجموع طاقات الجسيمات في عينة من المادة. ودرجة الحرارة هي متوسط الطاقة الحركية لجسيمات العينة.
٢. يكتسب الجسم طاقة حرارية عندما يتغير من الحالة الصلبة إلى الحالة السائلة، أو من الحالة السائلة إلى الحالة الغازية.

تصور الأفكار الرئيسة

النسخ الخريطة المفاهيمية التالية المتعلقة بالمادة وأكملها:



استخدام المصردات

املا كل فراغ فيما يلي بالكلمة المناسبة:

١. من خصائص أنه ليس له شكل أو حجم ثابت.
٢. له شكل متغير، لكن حجمه ثابت في أي إناء يوضع فيه.
٣. انتقال الطاقة الحرارية من جسم إلى آخر يسمى
٤. تُعرّف بأنها متوسط الطاقة الحركية لجسيمات المادة.
٥. تتحول المادة من الحالة الغازية إلى الحالة السائلة خلال عملية
٦. يتحول السائل إلى غاز خلال عملية تُسمى
٧. تحسب بقسمة الكتلة على الحجم.
٨. يحسب بقسمة القوة على المساحة.
٩. يُوضّح ما يحدث عند التأثير بقوة في مائع محصور.

تثبيت المفاهيم

اختر الإجابة الصحيحة فيما يلي:

١٠. أي مما يلي مادة صلبة متبلورة؟
 أ. الزجاج
 ب. السكر
 ج. المطاط
 د. البلاستيك
١١. أي مما يلي يصف المادة الصلبة؟
 أ. لها شكل وحجم ثابتان.
 ب. لها شكل ثابت وحجم متغير.
 ج. يتغير شكلها بحسب شكل الوعاء الذي توجد فيه.
 د. لها خاصية الجريان.

١٢. ما الخاصية التي تفسر طفو إبرة فوق سطح الماء؟
 أ. اللزوجة
 ب. درجة الحرارة
 ج. التوتر السطحي
 د. التركيب البلوري
١٣. ماذا يحدث لجسم عند زيادة طاقته الحركية؟
 أ. يزداد تمسكه بالأجسام القريبة.
 ب. تزداد كتلته.
 ج. تتحرك جسيماته أبطأ.
 د. تتحرك جسيماته أسرع.
١٤. أي العمليات التالية تفقد جسيمات المادة طاقة خلالها؟
 أ. الانصهار
 ب. التجمد
 ج. الانسحاب
 د. الغليان
١٥. يُكوّن بخار الماء في الهواء الغيوم في أثناء:
 أ. الانصهار
 ب. التبخر
 ج. التكثف
 د. التسامي
١٦. أي مما يلي يُعد وحدة لقياس الضغط؟
 أ. نيوتن
 ب. كجم
 ج. جم / سم^٣
 د. نيوتن / م^٢
١٧. أي التغيرات التالية ينتج عنه زيادة ضغط غاز محصور في بالون؟
 أ. انخفاض درجة الحرارة
 ب. نقصان الحجم
 ج. زيادة الحجم
 د. زيادة الارتفاع
١٨. أي الحالات التالية يطفو فيها الجسم على سطح سائل؟
 أ. قوة الطفو أكبر من وزن الجسم
 ب. قوة الطفو أقل من وزن الجسم
 ج. قوة الطفو تساوي وزن الجسم
 د. قوة الطفو تساوي صفرًا



أنشطة تقويم الأداء

٢٦. قصة مصوّرة اكتب قصة مصورة توضح أحداثها تحول الجليد إلى بخار، على أن تحوي خمس فقرات على الأقل.

تطبيق الرياضيات

استعن بالرسم البياني التالي للإجابة عن السؤال ٢٧.



٢٧. وضح كيف يتغير الرسم البياني بتسخين حجم أكبر من الماء؟ وكيف يبقى دون تغيير؟

استعمل الجدول التالي للإجابة عن السؤال ٢٨.

ضغط الماء			
العمق (م)	الضغط (ضغط جوي)	العمق (م)	الضغط (ضغط جوي)
٠	١,٠	١٠٠	١١,٠
٢٥	٣,٥	١٢٥	١٣,٥
٥٠	٦,٠	١٥٠	١٦,٠
٧٥	٨,٥	١٧٥	١٨,٥

٢٨. مثل بيانيًا المعلومات الواردة في الجدول أعلاه، واستعن بالرسم لتوضح كيف يتغير ضغط الماء بتغير العمق؟ ملحوظة: الضغط الجوي عند مستوى سطح البحر هو ١,٠١ كيلوباسكال، ويُسمى (١ ضغط جوي).

١٩. قوة الطفو المؤثرة في جسم تساوي:

- أ. حجم الجسم
ب. وزن المائع المزاح
ج. وزن الجسم
د. حجم المائع
- استخدم الصورة التالية في الإجابة عن السؤال ٢٠.



٢٠. تبين الصورة أعلاه الماء المزاح الموجود في الإناء الصغير عندما وضعت الكرة في الوعاء الكبير. ما المبدأ الذي يظهره ذلك؟

- أ. مبدأ باسكال
ب. مبدأ التوتر السطحي
ج. مبدأ أرخميدس
د. مبدأ اللزوجة

التفكير الناقد

٢١. فسر لماذا يسبب بخار الماء حروقاً أكثر خطورة ممّا يسببه الماء عند درجة الغليان؟

٢٢. فسر لماذا تصبح مرآة الحمام ضبابية خلال الاستحمام بالماء الساخن؟

٢٣. كوّن تعريفات إجرائية اكتب تعريفات إجرائية لكل من الصلب، والسائل، والغاز، توضح خصائص كل منها، وأوجه الاختلاف بينها.

٢٤. احسب قطعة ذهبية مصمتة حجمها ١١٠ سم^٣ وكتلتها ١٨٠٠ جرام. علماً بأن كثافة الذهب ١٩,٣ جم/سم^٣، هل القطعة من الذهب الخالص؟

٢٥. استنتج لماذا تفرقع بعض البالونات عندما تُترك مدة طويلة في مكان مشمس؟

الطاقة وتحولاتها

الفكرة العامة

يصاحب التغيرات التي تطرأ على المادة أو الأجسام انتقال في الطاقة.

الدرس الأول

ما الطاقة؟

الفكرة الرئيسية، للطاقة أشكال مختلفة.

الدرس الثاني


تحولات الطاقة

الفكرة الرئيسية، تتحول الطاقة من شكل إلى آخر دون أن تُستحدث أو تُفنى.

البخار

هل فكرت في مصدر الطاقة الكهربائية التي تستعملها كل يوم؟ قد تكون هذه الطاقة ناتجة عن حرق الغاز الطبيعي أو الفحم الحجري في محطات توليد الطاقة الكهربائية، كما ترى في الصورة؛ إذ يتم تحويل الطاقة التي في الفحم إلى حرارة، ثم إلى طاقة كهربائية. وعندما يُبرّد الماء الذي سخن عن طريق حرق الفحم يتصاعد بخاره من أبراج التبريد المخروطية التي تظهر في الصورة.

دفتر العلوم اختر ثلاثة أجهزة تعمل بالكهرباء، ووضح وظيفة كل منها.



نشاطات تمهيدية

المطويات

الطاقة اعمل المطوية التالية لتساعدك على تحديد ما تعرفه، وما تريد أن تعرفه، وما تعلمته عن الطاقة.

منظمات الأفكار

الخطوة ١ اطو ورقة عمودياً من جانب إلى آخر، على أن تكون حافة الجزء الأمامي أقصر ١ سم تقريباً من الجزء الخلفي.



الخطوة ٢ لف الورقة طويلاً، واطوها لتحصل على ثلاث طيات.



الخطوة ٣ افتح كل جزء من الأجزاء الثلاثة الأمامية وقصه واكتب عليه ما يلي:



أسئلة التعرف قبل أن تقرأ هذا الفصل، اكتب ما تعرفه، وما تريد أن تعرفه عن أنواع الطاقة ومصادرها وتحولاتها، كلا تحت الجزء المخصص له. وبعد قراءتك الفصل صحح ما كتبت، وأضف إليه أسئلة أخرى تحت جزء "ما تعلمته".

تجربة استدلالية

الكرة الزجاجية والطاقة

ما الفرق بين الكرة الزجاجية المتحركة والساكنة؟ يمكن للكرة المتحركة أن تضرب شيئاً فتحدث تغييراً. كيف اكتسبت الكرة هذه الطاقة (المقدرة على إحداث التغيير)؟



١. اعمل مساراً لحركة الكرة على الطاولة بوضع مسطرتين متجاورتين تفصل بينهما مسافة تكفي لتدحرج الكرة.
٢. ارفع أحد طرفي المسار على كتاب وقس الارتفاع.

٣. اترك الكرة تندحرج فوق المسار إلى أسفل، وقيس المسافة التي تقطعها من نقطة البداية حتى نقطة اصطدامها بالأرض. أعد هذه الخطوة واحسب متوسط القياسين.

٤. أعد الخطوات ٢ و ٣ بثلاثة ارتفاعات مختلفة. وتوقع ما قد يحدث عند استخدام كرة أثقل، واختبر توقعك، وسجل ملاحظاتك.

٥. **التفكير الناقد** صف في دفتر العلوم كيف تأثر حركة الكرة والمسافة التي تقطعها بارتفاع المسار.

أتهياً للقراءة

تسجيل الملاحظات

١ **أتعلم** تحقق أفضل طريقة لتذكر المعلومات من خلال كتابتها أو كتابة الملاحظات الجيدة حولها، مما يفيد في الدراسة والبحث. لذا يجدر مراعاة ما يلي عند كتابة هذه الملاحظات :

- التعبير عن المعلومة بلغة القارئ الخاصة.
- إعادة صياغة الأفكار بصورة موجزة وقابلة للتذكر.
- التركيز على الأفكار الرئيسة والتفاصيل الداعمة والأكثر أهمية.

٢ **أدرب** استخدم جدولاً يساعدك على تنظيم المعلومات بطريقة واضحة.

اكتب الأفكار الرئيسة في العمود الأيمن، ثم اكتب ثلاثة تفاصيل داعمة على الأقل لكل منها في العمود الأيسر، ثم اقرأ محتوى الدرس تحت العنوان الرئيس (الطاقة تغير شكلها) من الدرس ٢ في هذا الفصل، ودون ملاحظاتك مستخدماً جدولاً على النحو التالي :

التفاصيل الداعمة	الفكرة الرئيسة
١	
٢	
٣	
٤	
٥	
١	
٢	
٣	
٤	
٥	

٣ **أطبق** بعد قراءة هذا الفصل، كوّن جدولاً يتضمن الأفكار الرئيسة، وكتب مقابل كل منها اثنتين على الأقل من التفاصيل الداعمة.

إرشاد

اقرأ أولاً فقرة أو فقرتين،
وحدّد الملاحظات بعد قراءتك. إذا
كنت تكتب ملاحظتك لسي أثناء
القراءة فمن المرجح أن تسجل الكثير
منها.

توجيه القراءة وتركيزها

ركز على الأفكار الرئيسة عند قراءتك الفصل باتباعك ما يلي:

١ قبل قراءة الفصل أجب عن العبارات في ورقة العمل أدناه:

• اكتب (م) إذا كنت موافقاً على العبارة.

• اكتب (غ) إذا كنت غير موافق على العبارة.

٢ بعد قراءة الفصل ارجع إلى هذه الصفحة لترى ما إذا كنت قد غيرت رأيك حول أي من هذه العبارات.

• إذا غيرت إحدى الإجابات فبيّن السبب.

• صحّح العبارات غير الصحيحة.

• استرشد بالعبارات الصحيحة في أثناء دراستك.

قبل القراءة م أوغ	العبارة	بعد القراءة م أوغ
	١. للأجسام طاقة في حالة حركتها فقط.	
	٢. تعتمد الطاقة الحركية فقط على كتلة الجسم وسرعته.	
	٣. تعتمد الطاقة الحرارية لجسم ما على درجة حرارته.	
	٤. تتغير طاقة الكرة من شكل إلى آخر في أثناء قذفها إلى أعلى.	
	٥. الطاقة الكيميائية طاقة مخزونة في الروابط الكيميائية بين الذرات.	
	٦. تغير المخلوقات الحية الطاقة الكيميائية إلى طاقة حرارية.	
	٧. تزداد كمية الطاقة الكلية عند حرق الشمعة.	
	٨. تفسى الطاقة وتستهلك عند تحولها من شكل إلى آخر.	
	٩. تتحول الطاقة الكيميائية في العضلات إلى طاقة حركية.	



ما الطاقة؟

طبيعة الطاقة

ما الذي يخطر ببالك عندما تسمع كلمة الطاقة؟ هل هو الركض، أم الوثب، أم حركة السيارة، أم ماذا؟ وكيف تعرف الطاقة؟ تمكن الطاقة الجسم من القيام بالأعمال وتغيير الأشياء. **فالطاقة Energy** هي القدرة على إحداث تغيير. فيم تشترك الأشياء في الصور الموجودة في الشكل ١؟

انظر إلى الأشياء حولك ولاحظ التغيرات التي تحدث، سوف تجد شخصاً يمشي، وأشعة الشمس تنفذ من الشباك وتسخن مقعدك، وأغصان أشجار تحركها الرياح. فما التغيرات التي تحدث؟

نقل الطاقة للأجسام من حولنا طاقة، مع أننا قد لا نلاحظ ذلك. وإنما نتبه إلى وجود هذه الطاقة عندما يحدث تغيير في الأجسام. ويحدث التغيير عادة عندما تنتقل الطاقة من جسم إلى آخر. فأنت تسمع صوت الخطوات لأن الطاقة انتقلت من وقع الأقدام على الأرض إلى أذنك، وتتحرك أوراق الأشجار عندما تنتقل إليها الطاقة من الرياح، ويسخن المقعد أكثر عندما تنتقل إليه الطاقة من أشعة الشمس. وفي الحقيقة، فإن الأجسام جميعها لها طاقة.

في هذا الدرس

الأهداف

- توضيح معنى الطاقة.
- تمييز بين الطاقة الحركية وطاقة الوضع.
- تعرف الأشكال المختلفة للطاقة.

الأهمية

- الطاقة تصاحب التغير في المادة.

مراجعة المفردات

الكتلة: مقدار ما في الجسم من مادة.

المفردات الجديدة

- الطاقة
- الطاقة الحركية
- طاقة الوضع
- الطاقة الكيميائية
- طاقة الإشعاع
- الطاقة الكهربائية
- الطاقة النووية



الشكل ١ الطاقة هي القدرة على إحداث تغيير. وضح كيف يحدث كل من هذه الأجسام تغييراً؟

طاقة الحركة

الشكل ٢ تعتمد الطاقة الحركية لجسم على كتلته وسرعته.



للأجسام المتحركة المقدرة على إحداث تغييرات في أجسام أخرى، كما تلاحظ في الشكل ٢؛ إذ تدحرج كرة البولينج لتضرب بعض القوارير الخشبية، فهل يتطلب ذلك طاقة؟ لقد حدث تغير عند سقوط القوارير، وهذا ناتج عن كرة البولينج المتحركة التي لها طاقة تسيبت في سقوط القوارير. فللكرة المتحركة طاقة تسمى الطاقة الحركية. **والطاقة الحركية Kinetic Energy** هي طاقة لدى الجسم بسبب حركته. لذا فالجسم الساكن ليس له طاقة حركية.

أ هذه الكرة طاقة حركية؛ لأنها تدحرج على المسار.

ب للكرة طاقة حركية أكبر؛ لأن سرعتها أكبر.

ج هذه الكرة طاقة حركية أقل؛ لأن كتلتها أقل.

الطاقة الحركية والسرعة ماذا يحدث عند درجة الكرة أسرع؟ وما الذي يحدث للقوارير الخشبية؟ من الممكن أن تضرب الكرة عددًا أكبر من القوارير، أو تقذف بعضها إلى مسافة أبعد؛ فالكرة التي تتحرك أسرع تحدث تغييرًا أكبر من تلك التي تتحرك أبطأ. فلاعب البولينج المحترف يضرب الكرة بسرعة كبيرة، كما تلاحظ في الشكل ٢ب، فتسبب ضربته قذف القوارير أسرع وإلى مسافة أبعد، وهذا دليل على أن للكرة طاقة حركية أكبر؛ فالطاقة الحركية لأي جسم تزداد بازدياد سرعته.

ماذا قرأت؟ كيف تعتمد الطاقة الحركية على السرعة؟

الطاقة الحركية والكتلة لو دفعت الكرة الطائرة بدلًا من كرة البولينج كما في الشكل ٢ج، وبالسرعة نفسها فماذا ستفعل الكرة بالقوارير؟ على الأغلب إنها لن تستطيع إسقاط أي قارورة، وقد يسقط بعضها. هل هذا يعني أن للكرة الطائرة طاقة حركية أقل من كرة البولينج التي تتحرك بالسرعة نفسها؟ إن كتلة الكرة الطائرة أقل كثيرًا من كتلة كرة البولينج، لذا فالطاقة الحركية لكرة البولينج أكبر من الطاقة الحركية للكرة الطائرة؛ فالطاقة الحركية للجسم المتحرك تعتمد أيضًا على كتلته، وتزداد بازديادها.

طاقة الوضع

هل يمكن لجسم غير متحرك أن يكون له طاقة؟ إذا أمسكت بكرة على ارتفاع معين من سطح الأرض فلن يكون لها طاقة حركية لأنها ساكنة، فإذا تركتها دون دفعها فإنها تسقط في اتجاه الأرض مكتسبة طاقة حركية. من أين جاءت هذه الطاقة؟

للكرة المرفوعة نوع من الطاقة يُسمى طاقة الوضع. **وطاقة الوضع Potential Energy** طاقة مختزنة (كامنة) في الجسم بسبب موضعه. والموضع هنا هو ارتفاع الكرة عن سطح الأرض. وعندما تسقط الكرة تتحول طاقة وضعها إلى طاقة حركية. وتكون طاقة وضع أي جسم أكبر كلما كان ارتفاعه عن الأرض أكبر. وتعتمد طاقة الوضع أيضًا على كتلة الجسم؛ فكلما كانت كتلة الجسم أكبر كانت طاقة وضعه أكبر. أي الأجسام في الشكل ٣ له طاقة وضع أكبر؟



الشكل ٣ تعتمد طاقة وضع الجسم على كتلته وارتفاعه عن سطح الأرض. حدد أي الإنامين له طاقة وضع أكبر: الأحمر أم الأزرق؟ لماذا؟

أشكال أخرى للطاقة

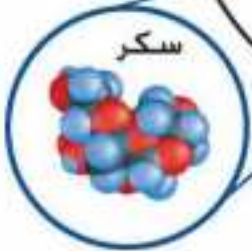
للطاقة أشكال متعددة؛ فكلٌّ من الطعام وأشعة الشمس له شكل من أشكال الطاقة يختلف عن الطاقة الحركية التي للرياح. فالسخونة التي تشعر بها عند التعرض لأشعة الشمس نوع من الطاقة يختلف تمامًا عن الطاقة الحركية وطاقة الوضع.

الطاقة الحرارية يشعر الإنسان بالسخونة عند التعرض لأشعة الشمس، نتيجة حصوله على طاقة حرارية. وجميع الأجسام لها طاقة حرارية تزداد بازدياد درجة الحرارة. فلكوب الكاكاو الساخن في الشكل ٤ طاقة حرارية أكبر من كوب الماء البارد، الذي له بدوره طاقة حرارية أكبر من قطعة الثلج التي لها الكتلة نفسها. ويتجج جسمك طاقة حرارية بسبب التفاعلات الكيميائية التي تحدث فيه باستمرار. من أين تأتي هذه الطاقة؟ إنها تأتي من التفاعلات الكيميائية الناتجة عن نوع آخر من الطاقة يسمى الطاقة الكيميائية.

الشكل ٤ كلما ازدادت سخونة الجسم ازدادت طاقته الحرارية؛ فلكوب الكاكاو الساخن له طاقة حرارية أكبر من كوب الماء البارد، وهذا بدوره له طاقة أكبر من قطعة الجليد التي لها الكتلة نفسها.



الشكل ٥ المركبات الكيميائية المعقدة الموجودة في الطعام تخزن الطاقة الكيميائية، وخلال الأنشطة المختلفة تتحول الطاقة الكيميائية إلى طاقة حركية وحرارية.



الطاقة الكيميائية إذا تناولت وجبة فكأنك تزود جسمك بمصدر من مصادر الطاقة. إن الطعام يحوي طاقة كيميائية يستخدمها الجسم ليزود نفسه بالطاقة، وتمكنك من القيام بالأنشطة المختلفة. وكما في الشكل ٥، يحتوي الطعام على المركبات الكيميائية، ومنها السكر الذي يتم تحطيمه في الجسم. **والطاقة الكيميائية Chemical Energy** طاقة مخزونة في الروابط الكيميائية بين الذرات، وعندما يتم تحطيم المركبات الكيميائية وتشكيل مركبات جديدة تنطلق بعض الطاقة. إن طاقة لهب الشمعة ناتجة عن الطاقة الكيميائية المخزونة في الشمع؛ فعندما يحترق الشمع تتحول الطاقة الكيميائية فيه إلى طاقة حرارية وطاقة ضوئية.

✓ ماذا قرأت؟ متى يتم إطلاق الطاقة الكيميائية؟

الطاقة الضوئية ينتقل ضوء الشمعة في الهواء بسرعة كبيرة جداً تصل إلى ٣٠٠٠٠٠٠ كم/ث تقريباً. وعندما يسقط الضوء على سطح ما، فقد يمتص أو ينفذ أو ينعكس. وعندما يمتص الجسم الضوء يصبح أسخن؛ لأنه امتص الطاقة من الضوء، وتحولت إلى طاقة حرارية. وتسمى هذه الطاقة التي يحملها الضوء **طاقة الإشعاع Radiant Energy**.

يظهر الشكل ٦ ملفاً من السلك ينتج الطاقة الإشعاعية عند تسخينه. ويتطلب تسخين الفلز نوعاً آخر من الطاقة، هو الطاقة الكهربائية.

الطاقة الكهربائية الإضاءة من الاستعمالات الشائعة للطاقة الكهربائية. انظر حولك تَرُ الأجهزة المختلفة التي تعمل بالكهرباء؛ حيث يسري فيها التيار الكهربائي عند وصلها بالمَقْسِيس الكهربائي أو بالخلايا الكهربائية (البطاريات). **والطاقة الكهربائية Electrical Energy** طاقة يحملها التيار الكهربائي.

الشكل ٦ تتحول الطاقة الكهربائية إلى طاقة حرارية بمرور التيار في السلك الفلزي. ويزداد سخونة السلك يبدأ في إطلاق الطاقة الإشعاعية.





الشكل ٧ تُستخدم محطات الطاقة للحصول على الطاقة المفيدة من أنوية الذرات.

وتولد محطات الطاقة الكهربائية الضخمة -التي تعمل بالوقود غالبًا- كميات هائلة من الطاقة كل يوم. ويتم في بعض البلدان إنتاج الطاقة الكهربائية من خلال محطات الطاقة الشمسية، وطاقة الرياح، والطاقة النووية.

الطاقة النووية تستخدم المحطات النووية الطاقة المخزنة في أنوية الذرات لتوليد الطاقة الكهربائية؛ فلكل نواة ذرة **طاقة نووية Nuclear Energy** يمكن تحويل بعضها إلى أنواع أخرى من الطاقة، ومنها الطاقة الكهربائية. ويحتاج إطلاق الطاقة النووية إلى عمليات صعبة تتطلب بناء معدات معقدة، انظر الشكل ٧.

مراجعة ١ الدرس

اختبر نفسك

١. فسر لماذا يسبب تصادم سيارتين مسرعتين أضرارًا أكثر من تصادم سيارتين بطيئتين؟
٢. صف تحولات الطاقة التي تحدث عند حرق قطعة من الخشب.
٣. حدد شكل الطاقة الذي يتحول إلى طاقة حرارية في جسمك.
٤. وضح كيف يمكن لزهرتين موضوعتين إحداهما إلى جانب الأخرى على رف أن يكون لإحداهما طاقة وضع أكبر من الأخرى؟
٥. التفكير الناقد كرة قدم وكرة تنس تتحركان بحيث يكون لهما الطاقة الحركية نفسها. أيهما تتحرك بسرعة أكبر؟ وإذا تحركت الكرتان بالسرعة نفسها فأيهما له طاقة حركية أكبر؟

تطبيق المهارات

٦. تواصل اكتب في دفتر العلوم طرائق مختلفة لاستعمال كلمة طاقة. وأيها أقرب إلى التعريف الوارد في هذا الدرس؟

الخلاصة

طبيعة الطاقة

- الطاقة هي القدرة على إحداث تغيير.
- الطاقة الحركية طاقة لدى الجسم بسبب حركته، وتعتمد على سرعته وكتلته.
- طاقة الوضع طاقة للجسم بسبب موضعه، وتعتمد على كتلة الجسم وارتفاعه.

أشكال الطاقة

- تزداد الطاقة الحرارية بزيادة درجة الحرارة.
- الطاقة الكيميائية طاقة مخزنة في روابط المركبات الكيميائية.
- الطاقة الضوئية (وتسمى أيضًا الطاقة الإشعاعية) طاقة يحويها الضوء.
- الطاقة الكهربائية طاقة يحملها التيار الكهربائي.
- الطاقة النووية طاقة تحويها أنوية الذرات.



تحولات الطاقة

فيم هذا الدرس

الأهداف

- تطبيق قانون حفظ الطاقة على تحولات الطاقة.
- توضيح كيف تتحول الطاقة من شكل إلى آخر.
- تصف كيف تولد الطاقة في منشآت الطاقة الكهربائية.

الأهمية

يتطلب تشغيل السيارات وتسخين الأفران وعمل المواتف تحول الطاقة من شكل إلى آخر.

مراجعة المفردات

التحول: تغير البنية أو التركيب.

المفردات الجديدة

- قانون حفظ الطاقة
- المولد الكهربائي
- التوربين

الشكل ٨ مكنت تحولات الطاقة

هذا الولد من صعود التل بدراجته.

اذكر جميع أشكال الطاقة التي تظهر في الصورة.

تغير أشكال الطاقة

للطاقة أشكال مختلفة، منها الطاقة الكهربائية والحرارية والكيميائية. وتتحول الطاقة باستمرار من شكل إلى آخر. ويمكنك تعرف هذه التحولات عندما تلاحظ التغيرات المختلفة التي تحدث للأجسام في البيئة من حولك. ومن ذلك حرائق الغابات التي تحدث نتيجة اشتعال النار فيها بسبب الصواعق مثلاً. ما تحولات الطاقة التي تسبب هذه التغيرات؟

تتبع تحولات الطاقة عندما يصعد شخص بدراجته الهوائية تلاً، كما في الشكل ٨، تتحول عضلات رجله الطاقة الكيميائية إلى طاقة حركية، وتتحول الطاقة الحركية الناتجة في عضلات رجله إلى طاقة حركية في الدراجة الهوائية عندما يدير البديلين. وتتحول بعض هذه الطاقة أيضاً إلى طاقة وضع بصعوده إلى أعلى، ويتحول بعضها إلى طاقة حرارية، فيصبح جسمه ساخناً بسبب انطلاق الطاقة الكيميائية، وتسخن الأجزاء المتحركة في الدراجة أيضاً بسبب الاحتكاك. ويصاحب تحولات الطاقة في الغالب تولد طاقة حرارية، مثلما يحدث عند ممارسة التمارين الرياضية، أو عند تشغيل السيارة وتحريكها، أو عندما تنمو المخلفات، وحتى عند انفجار النجوم.



قانون حفظ الطاقة

ينص قانون حفظ الطاقة Law of Conservation of Energy على أن الطاقة لا تُستحدث ولا تفتنى إلا بقدره الله تعالى، ولكن تتحول من شكل إلى آخر. فعندما يتوقف قائد الدراجة على قمة تل ليستريح، تكون الطاقة كلها -التي كانت لديه أصلاً- محفوظة ولكنها قد تحولت إلى أشكال متعددة من الطاقة؛ فبعض الطاقة موجود في صورة طاقة وضع سيستفيد منها في أثناء النزول. وبعض الطاقة تحوّل إلى طاقة حرارية بسبب الاحتكاك في الدراجة. وبعضها تحول إلى طاقة حرارية في جسم قائد الدراجة وجعلته يشعر بالسخونة. تنتقل الطاقة الحرارية من جسم راكب الدراجة ومن دراجته خلال حركته واستراحته إلى الهواء الجوي المحيط به، ولا يضيع شيء منها. يعد قانون حفظ الطاقة من أهم القوانين الطبيعية التي قدرها الخالق سبحانه وتعالى في الكون، فأحكم به حركة مكوناته والظواهر التي تحدث فيه، وكفل بها لمخلوقاته العيش. وكلما اكتشف الإنسان من أسرار هذا الكون اتضح له ما فيه من تنظيم دقيق معجز شاهد على عظمة الحق تبارك وتعالى وبديع صنعه.

هل يمكن أن تفتنى الطاقة؟ ولماذا؟

يستفاد من قانون حفظ الطاقة في تحديد تحولات الطاقة في نظام معين. فمثلاً قذف كرة في الهواء إلى أعلى ثم التقاطها بعد نظاماً بسيطاً. وكما ترى في الشكل ٩، فعندما تنطلق الكرة من يدك تكون معظم طاقتها حركية، ومع ارتفاعها تقل سرعتها فتتناقص طاقتها الحركية، لكن طاقتها الكلية لا تتغير (مع افتراض إهمال مقاومة الهواء). إن النقص في الطاقة الحركية للكرة في أي لحظة يساوي الزيادة في طاقة وضعها في أثناء صعودها، وبذلك يبقى مجموع طاقة الكرة ثابتاً. إن الطاقة تنتقل من مكان إلى آخر، وتتغير من شكل إلى آخر، لكنها تبقى محفوظة دائماً.



الشكل ٩ تحول الطاقة بين طاقة حركية

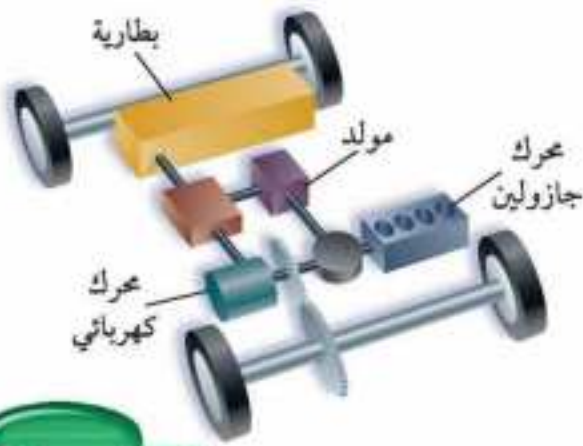
وطاقة وضع خلال ارتفاع الكرة وسقوطها.

عين في أي وضع يكون للكرة أكبر طاقة حركية؟ وفي أي وضع يكون لها أكبر طاقة كامنة؟

تحويلات الطاقة

ارجع إلى المواقع الإلكترونية عبر شبكة الإنترنت

للحصول على معلومات حول تحولات الطاقة التي تحدث خلال العديد من الأنشطة والعمليات. نشاط اختر نشاطاً ما وصمم مخططاً يبين كيف تتغير أشكال الطاقة خلاله؟



الشكل ١٠ تستعمل السيارات المهجنة (Hybrid) المحرك الكهربائي ومحرك الجازولين، مما زاد من فاعلية تحويلات الطاقة.



الطاقة تغير شكلها

تحدث تحويلات الطاقة دائماً في كل ما حولك؛ فالكثير من الآلات أدوات لتحويل الطاقة من شكل إلى آخر. فمحرك السيارة يحول طاقة الوقود الكيميائية إلى طاقة حركية، فضلاً عن أن جزءاً من الطاقة الكيميائية يتحول إلى طاقة حرارية تؤدي إلى سخونة المحرك. وكلما كانت الطاقة الحركية الناتجة عن الطاقة الكيميائية للمحرك أكبر كانت كفاءة المحرك أكبر. وهناك أنواع جديدة من السيارات، كالتالي تشاهدها في الشكل ١٠، تستخدم محركاً كهربائياً مع محرك الجازولين. وهذه السيارات ذات كفاءة أعلى؛ لأن المسافة التي تقطعها وهي تستهلك كمية من الوقود أكبر من تلك التي تقطعها السيارة ذات المحرك العادي بالكمية نفسها.

تحويلات الطاقة الكيميائية تحول العضلات



الطاقة الكيميائية في الجسم إلى طاقة حركية كما في الشكل ١١. ويحدث ذلك في خلايا العضلات عن طريق التفاعلات الكيميائية التي تحدث تغيراً في شكل بعض الجزيئات، ويحدث الكثير من هذه التغيرات تنقبض العضلة، فيتحرك جزء من الجسم.

تحتوي المواد الموجودة في المخلوقات الحية - والتي يطلق عليها الكتلة الحيوية - على طاقة كيميائية. وعندما تموت هذه المخلوقات تتحطم المركبات الكيميائية في الكتل الحيوية. وتساعد البكتيريا والفطريات والمخلوقات الأخرى على تحويل هذه المركبات إلى مركبات كيميائية أبسط، يمكن للمخلوقات الحية الأخرى الاستفادة منها. وينجم عن هذه التغيرات إطلاق طاقة حرارية. فعلى سبيل المثال، تحتوي كومة من السماد على أجزاء نباتية، منها قطع العشب وأوراق الشجر، وعندما تتحلل كومة السماد هذه تتحول الطاقة الكيميائية إلى طاقة حرارية، فترتفع درجة حرارة الكومة لتصل إلى ٦٠°س.

تجربة

تحليل تحويلات الطاقة

الخطوات

١. ضع قطعة من الطين على الأرض سمكها ٥ سم، مراعيًا أن تجعل سطحها العلوي أملس مستويًا.
٢. ارفع كرة زجاجية مسافة ١,٥ م فوق الطين، واركها تسقط، ثم قس المسافة التي غاصتها الكرة في الطين.
٣. كرر الخطوة السابقة مستخدمًا كرة فولاذية، وكرة بلاستيكية.

التحليل

١. قارن بين المسافات التي غاصتها الكرات، لتحديد أيها كانت طاقتها الحركية أكبر عندما سقطت على الطين.
٢. وضح كيف تحولت طاقة الوضع إلى طاقة حركية خلال النشاط؟



تحويلات الطاقة

تجربة عملية

اقرأ إلى أوتيرة الكتاب العلمية

تحويلات الطاقة

العضلات الثلاثية الرؤوس



العضلات الثنائية الرؤوس



الشكل ١١

العضلات الهيكلية تجعل التجديف وقلب الكرة وكذلك أبسط الأعمال الجسدية ممكنة؛ فالعضلات تنقبض وتنبسط من خلال تفاعلات تحول الطاقة الكيميائية إلى طاقة حركية على المستوى الخلوي.

◀ تزودك محولات الطاقة التي تحدث في عضلاتك بالطاقة لتحرك.

▲ يتنظم الكثير من العضلات الهيكلية في أزواج يعمل بعضها معاكسًا لبعض؛ فعندما تنني ذراعك تنقبض العضلات الثنائية الرؤوس، بينما تنبسط العضلات الثلاثية الرؤوس. وعندما تمد ذراعك تنقبض العضلات الثلاثية الرؤوس وتنبسط العضلات الثنائية الرؤوس.



ليف عضلي

ليف عصبي

ليف عضلي



▲ الإشارات القادمة عبر الليف العصبي تعمل على بدء تفاعلات كيميائية في الليف العضلي، وهذه التفاعلات تجعل الجزيئات في الليف العضلي تحصل على الطاقة لتحرك. وتسبب حركة الكثير من الليفيات العضلية بعضها مع بعض انقباض العضلة.

تتكون العضلات الهيكلية من الألياف أو رزم الخلايا العضلية. كل ليف يتركب من الكثير من رزم الليفيات العضلية.



الشكل ١٢ بعض تحويلات الطاقة عند الاستماع إلى المذياع.

تحويلات الطاقة الكهربائية الطاقة الكهربائية ضرورية لنا؛ فنحن نستعملها كل يوم؛ فعندما تضيء غرفتك أو تشغل المذياع أو التلفاز فأنت تحول الطاقة الكهربائية إلى أشكال أخرى من الطاقة. ويظهر الشكل ١٢ تحويلات الطاقة الكهربائية التي تحدث عند تشغيل المذياع؛ فمكبر الصوت في المذياع يعمل على تحويل الطاقة الكهربائية إلى موجات صوتية تحدث بدورها طاقة حركية تنتقل إلى أذنك. وتسبب طاقة الموجات الصوتية، تحريك بعض الأجزاء في أذنك، ثم تتحول إلى طاقة كيميائية وطاقة كهربائية في الخلايا العصبية التي ترسل الطاقة إلى الدماغ. فأين تذهب الطاقة بعد أن يقوم الدماغ بترجمتها وتفسيرها باعتبارها أصواتاً؟ إنها تتحول إلى طاقة حرارية.

تحويلات الطاقة الحرارية تتحول أشكال مختلفة من الطاقة إلى طاقة حرارية. فالحرق يحول الطاقة الكيميائية إلى طاقة حرارية. ومع سريان التيار الكهربائي في الأسلاك تتحول الطاقة الكهربائية إلى طاقة حرارية أيضاً. وتستخدم الطاقة الحرارية في تدفئة المنازل، والمحافظة على درجة حرارة الجسم. وكذلك تستعمل الطاقة الحرارية في تسخين الماء. وعندما يسخن الماء إلى درجة الغليان يتحول إلى بخار يمكن أن يستعمل في إنتاج الطاقة الحركية في المحركات البخارية التي تسير القطارات. وتتحول الطاقة الحرارية أيضاً إلى طاقة إشعاعية؛ فعند تسخين سلك فلزي مثلاً إلى درجات حرارة عالية يتوهج ويصدر طاقة إشعاعية.

الربط مع

علم الأحياء



ضبط درجة حرارة الجسم تتكيف معظم المخلوقات الحية لضبط كمية الطاقة الحرارية في أجسامها. بعض المخلوقات الحية التي تعيش في المناطق الباردة تكسو أجسامها طبقة سميكة من الفرو تمنع فقدان الطاقة الحرارية. كما أن بعض المخلوقات الحية التي تعيش في البيئات الصحراوية لها جلد يحافظ على طاقتها الحرارية. ابحث في بعض تكيفات المخلوقات الحية التي تضبط من خلالها الطاقة الحرارية لأجسامها.



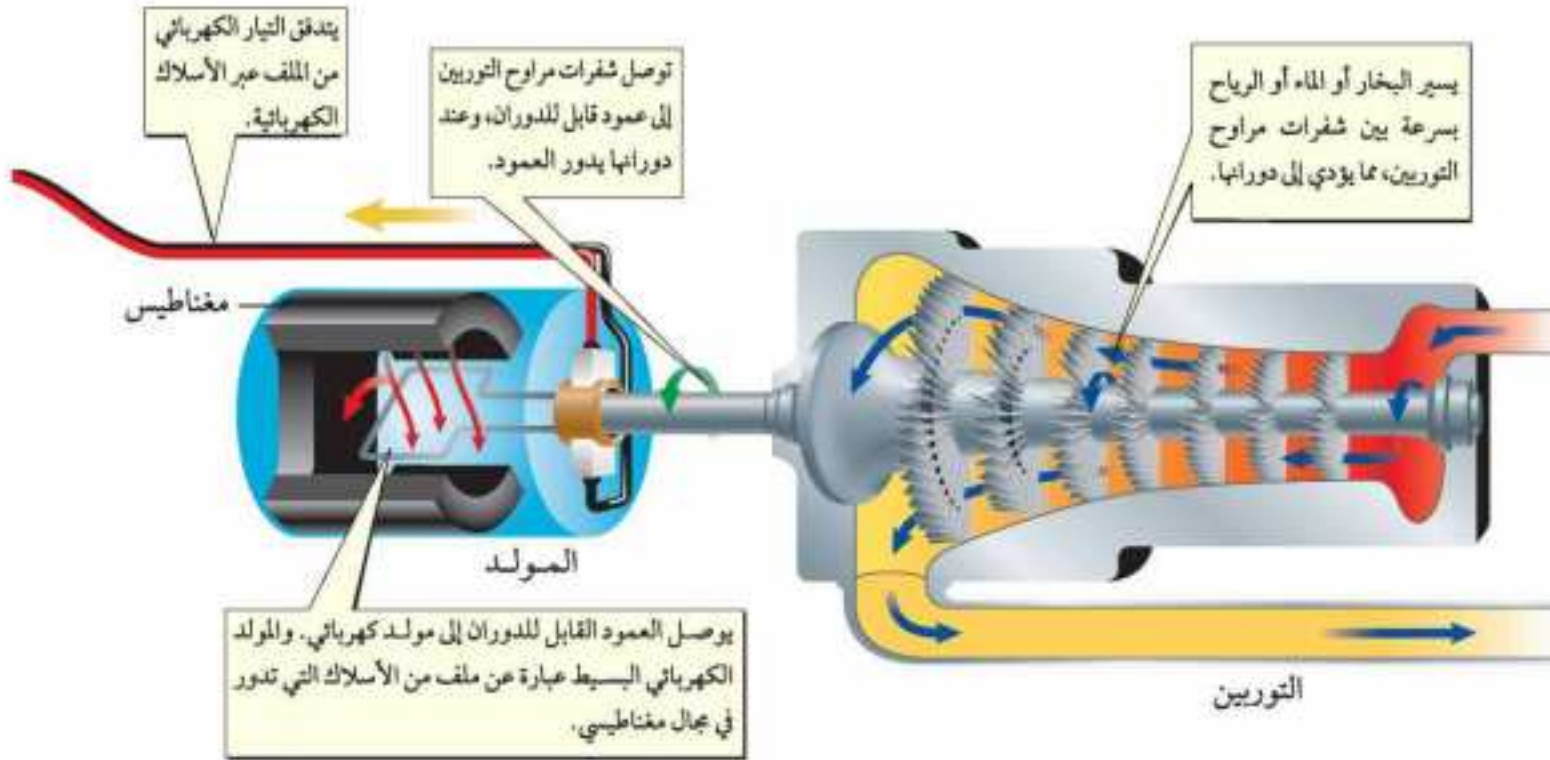
الشكل ١٣ تنتقل الطاقة الحرارية من الكاكاو الساخن إلى ما هو أبرد مما يحيط به.

وضّح ماذا يحدث للكاكاو الساخن عندما يفقد الطاقة الحرارية؟

كيفية انتقال الطاقة الحرارية تنتقل الطاقة الحرارية من مكان إلى آخر. ففي الشكل ١٣ تنتقل الطاقة الحرارية من الكاكاو الساخن إلى الملعقة وإلى الهواء المحيط به؛ لأنهما أبرد (أي أقل في درجة الحرارة). فالطاقة الحرارية تنتقل فقط من شيء درجة حرارته أعلى إلى شيء درجة حرارته أقل.

توليد الطاقة الكهربائية

تُستعمل كمية هائلة من الطاقة الكهربائية يوميًا، وهذه الكمية أكبر كثيرًا من أن يتم تخزينها في البطاريات. فالطاقة الكهربائية المتاحة للاستعمال من أي مقبس يتم توليدها باستمرار في محطات الطاقة؛ حيث تعمل جميع المحطات بالمبدأ نفسه من خلال المولدات، والمولد الكهربائي Generator جهاز يحوّل الطاقة الحركية إلى طاقة كهربائية في وجود مجال مغناطيسي. انظر الشكل ١٤.

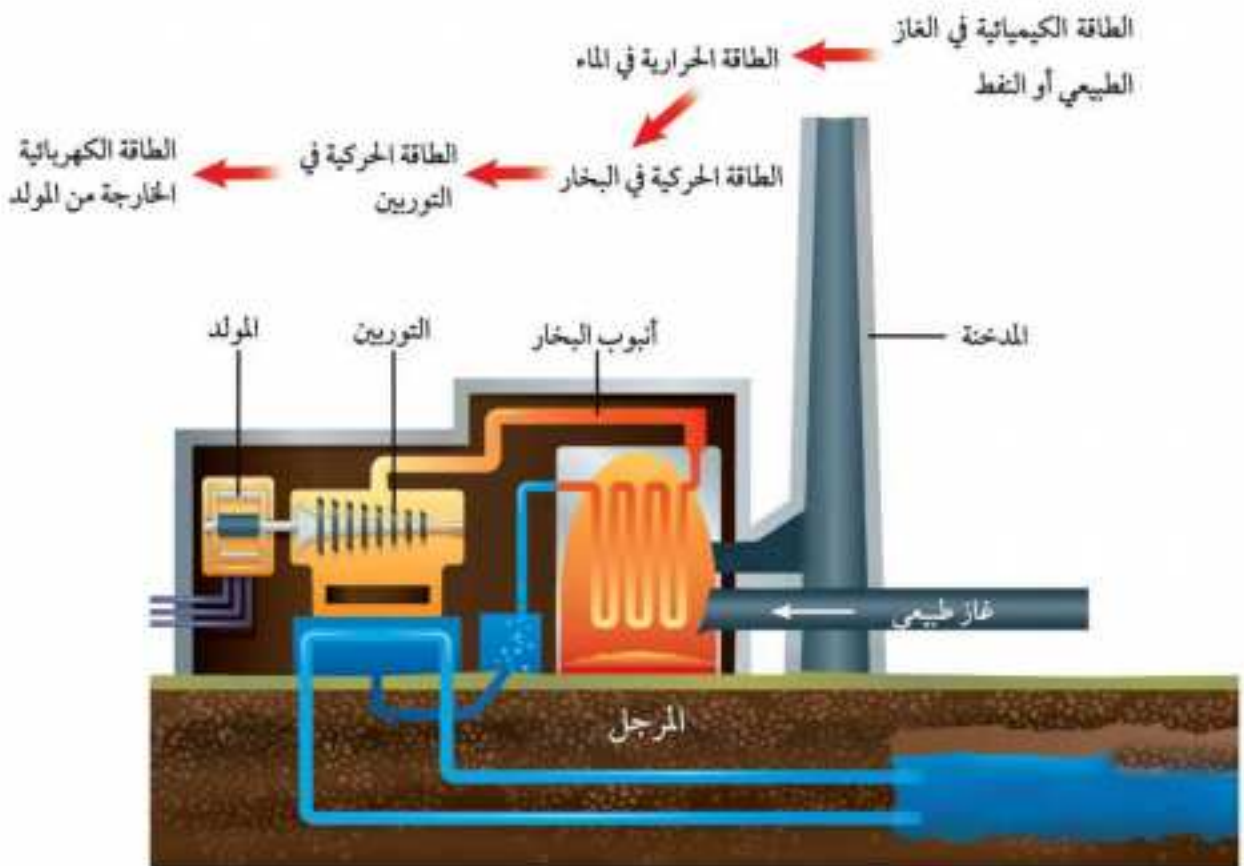


الشكل ١٤ تستخدم محطات توليد الطاقة المولدات لإنتاج الطاقة الكهربائية، وفي محطات الوقود الأحفوري يحرق الوقود الأحفوري ليعمل على غلي الماء لإنتاج البخار الذي يحرك تروس التوربينات.

ويتكون المولد الكهربائي البسيط من ملف من الأسلاك يدور داخل مجال مغناطيسي قوي، وينتج عن دورانه تيار كهربائي. أما التوربين Turbine الذي يتكون من مجموعة من شفرات المراوح فيستخدم في تحريك الملف وإنتاج طاقة كهربائية.

وتُستخدم عدة طرق لتحريك التوربينات في منشآت توليد الطاقة الكهربائية. ففي المنشآت التي تستعمل الوقود الأحفوري - سواء الفحم أو النفط أو الغاز الطبيعي - يتم حرق الوقود لجعل الماء يغلي في المراجل ويتحول إلى بخار يعمل على تحريك شفرات التوربين، التي تدير بدورها المحرك التوربيني. ويتم نقل الدوران إلى المولد الذي يُنتج الطاقة الكهربائية، ثم يُبرَّد البخار، فيتحول إلى ماء، ثم يعود إلى الأنايبب في المرجل، انظر الشكل ١٥. ويمكن استخدام مصادر طاقة أخرى لتحريك التوربينات؛ منها: الماء الجاري، والرياح، والطاقة النووية.

ماذا قرأت؟ ما وظيفة المولد الكهربائي؟

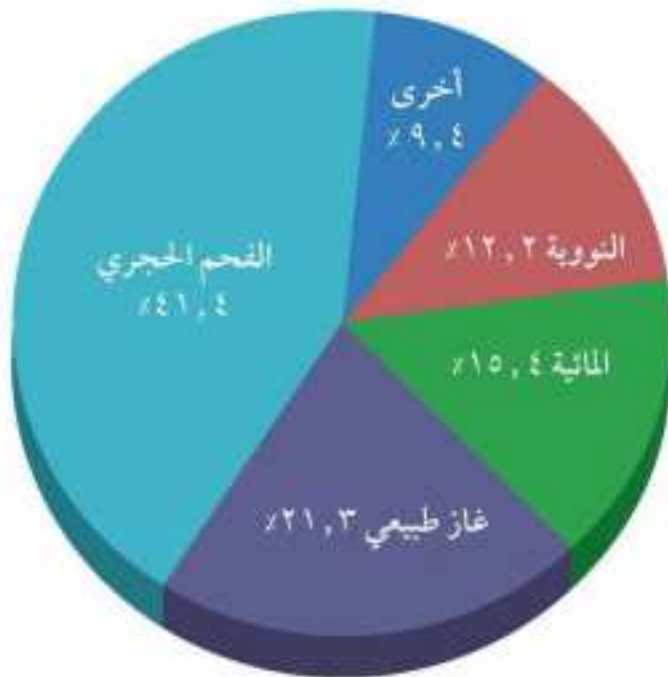


الشكل ١٥ محطة توليد الطاقة تحول الطاقة الكيميائية في الوقود إلى طاقة كهربائية. اكتب قائمة ببعض مصادر الطاقة الأخرى التي تستعمل في محطات الطاقة.

منشآت الطاقة في أغلب الدول يتم توليد معظم الطاقة الكهربائية بالمولدات التي تعمل بالوقود الأحفوري (وأهمها الفحم والغاز الطبيعي)، كما تستعمل طاقة الرياح والطاقة المائية (المياه الجارية والساقطة) في توليد الطاقة الكهربائية بنسبة أقل. وفي محطات التوليد التي تستخدم طاقة المياه وطاقة الرياح يتم تحويل الطاقة الحركية مباشرة إلى طاقة كهربائية دون الحاجة إلى توليد بخار الماء لإدارة التوربينات. ويوضح الشكل ١٦ النسب المئوية لأنواع الطاقة المختلفة المستعملة في توليد الكهرباء في دول العالم.

تولّد الطاقة الكهربائية في المحطات التي تعمل بحرق النفط أو في محطات الطاقة النووية من خلال سلسلة تحولات للطاقة.

الطاقة الكيميائية ←	الطاقة الحرارية ←	الطاقة الحركية ←	الطاقة الحركية ←	الطاقة الكيميائية
للنفط	للماء	لليخار	للتوربين	الخارجة من المولد



الشكل ١٦ مصادر الطاقة الكهربائية في بلدان العالم في عام ٢٠١١ م. اذكر اسم مصادر الطاقة التي تنتج الكهرباء في بلادنا.

اختبر نفسك

١. صف تغير طاقتي الحركة والوضع لكرة سلة عند رميها نحو السلة.
٢. وضح ما إذا كان جسمك يكتسب أو يفقد طاقة حرارية إذا كانت درجة حرارته 37°C من درجة الحرارة حولك 25°C .
٣. صف عملية يتم فيها تحول الطاقة الكيميائية إلى طاقة حرارية.
٤. التفكير الناقد مصباح ضوئي يحول 10% من الطاقة الكهربائية التي يستعملها إلى طاقة إشعاعية. كَوّن فرضية حول الشكل الآخر للطاقة الناتجة.

تطبيق الرياضيات

٥. استخدام النسبة في الشكل ١٦. كم مرة تساوي كمية الطاقة الكهربائية الناتجة عن منشآت حرق الفحم ما ينتج عن محطات الطاقة النووية؟

الخلاصة

تغير أشكال الطاقة

- الحرارة شكل من أشكال الطاقة ينتج خلال تحولات الطاقة.
- ينص قانون حفظ الطاقة على أن الطاقة لا تستحدث ولا تفتنى، وإنما تتحول من شكل إلى آخر.
- تبقى الطاقة الكلية ثابتة في أثناء أي تحول للطاقة.
- عند قذف جسم إلى أعلى ثم سقوطه تتحول الطاقة بين الطاقة الحركية وطاقة الوضع دون أن تتغير الطاقة الكلية.

توليد الطاقة الكهربائية

- يحول المولد الطاقة الحركية إلى طاقة كهربائية.
- يُنتج احتراق الوقود الأحفوري طاقة حرارية تستخدم في غلي الماء وإنتاج البخار.
- يستخدم البخار في محطات الطاقة التي تعمل على إدارة التوربينات والتي تحرك المولدات الكهربائية.

الطاقة تنير حياتك

سؤال من واقع الحياة

على مدار السنين المثة الماضية ازداد مقدار الطاقة المستخدمة في كل مكان بشكل



محطة توليد الكهرباء في الجبيل

مذهل. واليوم تجد الكثير من مصادر الطاقة المتاحة، ومنها الفحم والنفط والغاز الطبيعي والطاقة النووية والطاقة الكهرومائية والرياح والطاقة الشمسية. بعض هذه المصادر تُستهلك ولا تتجدد، وبعضها لا ينضب، أو يتجدد بالمعدل الذي يتم به استهلاكه، لذلك فهي مصادر

متجددة. فكر في أنواع الطاقة التي تستعملها كل يوم في بيتك وفي مدرستك. في هذا الاستقصاء، ستبحث كيف تنتج الطاقة؟ وأين يتم ذلك؟ وكيف يتم توصيلها إليك؟ وستستقصي أيضاً الطرائق البديلة لإنتاج الطاقة، وما إذا كانت هذه المصادر متجددة أو غير متجددة. ما مصادر الطاقة التي تستخدمها كل يوم؟

الأهداف

- **تلاحظ** كيف يتم إنتاج الطاقة التي تستخدمها؟ وكيف تصلك؟
- **تستقصي** المصادر البديلة للطاقة التي تستخدمها.
- **تضع** خطة لكيفية استخدام هذه المصادر البديلة للطاقة.

مصدر البيانات

العلوم
عبر المواقع الإلكترونية

للمزيد من المعلومات حول مصادر الطاقة.
ارجع إلى المواقع الإلكترونية عبر شبكة الإنترنت

معلومات عن الطاقة المحلية

نوع الطاقة	
أين يتم إنتاج الطاقة؟	
كيف يتم إنتاج الطاقة؟	
كيف يتم توصيل الطاقة إليك؟	
هل مصدر الطاقة متجدد أم غير متجدد؟	
ما نوع مصدر الطاقة الذي يمكنك استخدامه ليكون مصدرًا بديلاً للطاقة؟	



استخدام الطرائق العلمية

تصميم الخطة

١. فكر في الأنشطة اليومية التي تقوم بها والأشياء التي تستخدمها، ومنها مشاهدة التلفاز، أو الاستماع إلى المذياع، أو ركوب السيارة، أو تشغيل مكيف الهواء. اختر نشاطاً أو تطبيقاً يتم فيه استخدام الطاقة؟
٢. حدد نوع الطاقة المستخدمة.
٣. استقص كيفية إنتاج هذه الطاقة وكيفية إيصالها إليك.
٤. حدد ما إذا كان مصدر الطاقة هذا متجدداً أم غير متجدد.
٥. إذا كان مصدر الطاقة غير متجدد فصف كيف يمكن إيجاد بدائل بمصادر متجددة؟

تنفيذ الخطة

١. اعرض الخطة على معلمك للموافقة عليها قبل البدء في تنفيذها.
٢. نظم ما تجده في جدول بيانات مشابه للجدول السابق.

تحليل البيانات

١. صف عملية إنتاج الطاقة ونقلها، في مصدر الطاقة الذي تبحث عنه. كيف نتجت الطاقة؟ وكيف تم نقلها إليك؟
٢. ما مقدار الطاقة الذي يتم إنتاجه من المصدر الذي استقصيته؟
٣. هل مصدر الطاقة الذي استقصيته متجدد أم غير متجدد؟ لماذا؟

الاستنتاج والتطبيق

١. صف كيف يمكن تقليل استهلاك الطاقة من مصدر الطاقة الذي استقصيته إن كان غير متجدد؟
٢. نظم ما مصادر الطاقة البديلة لتوفير احتياجاتك اليومية من الطاقة؟ جهز خطة لاستخدام مصادر الطاقة البديلة.

تواصل

بياناتك

قارن بياناتك مع بيانات الآخرين، وجمع البيانات كلها، وحاول الوصول إلى استنتاجات.




محطة سدير لتحويل الكهرباء

طاقة الاحتراق

هل تعلم ...

... أن الطاقة الناتجة عن إعصار بحري متوسط تزيد على مجموع الطاقة الناتجة عن محطات توليد الطاقة في العالم ٢٠٠ مرة تقريباً. وتنطلق هذه الطاقة غالباً على شكل حرارة عندما تتكون قطرات المطر.



... وأن الطاقة التي تحصل عليها الأرض من الشمس كل $\frac{1}{3}$ ساعة تكفي لسد احتياجات العالم من الطاقة مدة عام كامل. وأن الموارد المتجددة والمستدامة - ومنها الشمس - تشكل ١٨٪ فقط من الطاقة المستخدمة في العالم.

... وأن السعرات الحرارية في تفاحة متوسطة الحجم تعطيك طاقة تكفي للمشي مدة ١٥ دقيقة، أو السباحة مدة ١٠ دقائق، أو الهرولة مدة ٩ دقائق.

تطبيق الرياضيات
إذا كان المشي مدة ١٥ دقيقة يحتاج إلى ٨٠ سعراً من الطاقة المخزنة في الطعام، فكم سعراً من الطاقة يستهلك شخص ما حتى يسير مدة ساعة واحدة؟

اكتب عن

ما الموقع المناسب لوضع مُجمعات شمسية في المملكة العربية السعودية؟ ولماذا؟ لمزيد من المعلومات حول استخدام الطاقة الشمسية استعن بالمواقع الإلكترونية.



مراجعة الأفكار الرئيسة

الدرس التالي: تحولات الطاقة

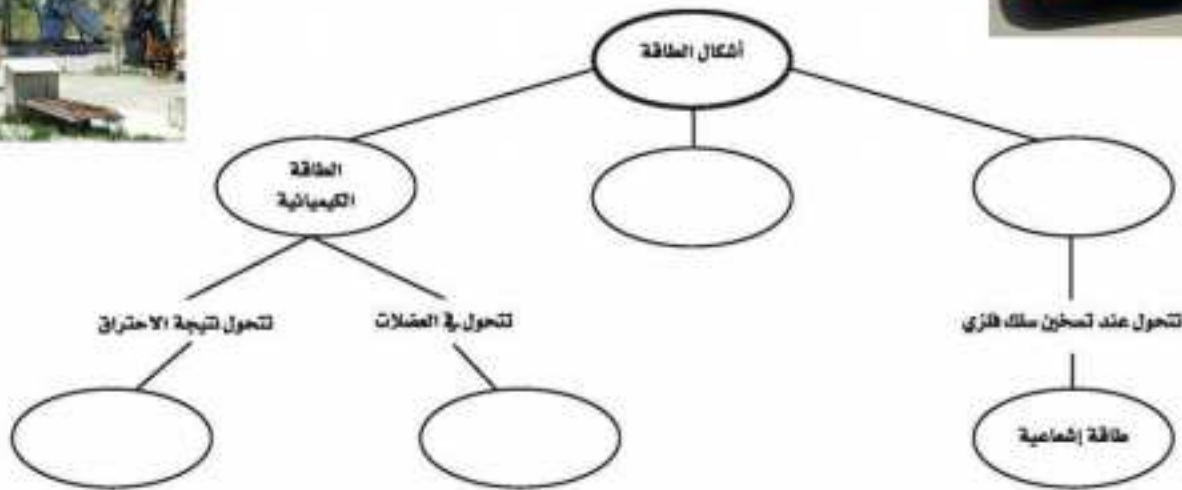
١. تتحول الطاقة من شكل إلى آخر، كما يمكن نقلها من مكان إلى آخر، ويصاحب ذلك عادة تولد طاقة حرارية.
٢. ينص قانون حفظ الطاقة على أن الطاقة لا تفنى ولا تستحدث، وهو من القوانين الطبيعية التي أودعها الله في الكون.
٣. تُحول منشآت الطاقة الكهربائية الطاقة من مصدرها إلى طاقة كهربائية؛ حيث يدير البخار توربينًا ليدير التوربين مولدًا كهربائيًا.

الدرس الأول: ما الطاقة؟

١. الطاقة هي القدرة على إحداث تغيير.
٢. للجسم المتحرك طاقة حركية تعتمد على كتلته وسرعته.
٣. طاقة الوضع طاقة يكتسبها الجسم بسبب موقعه، وتعتمد على كتلته وارتفاعه.
٤. يحمل الضوء الطاقة الإشعاعية، ويحمل التيار الكهربائي الطاقة الكهربائية، وتحتوي نواة الذرة على طاقة نووية.

تصور الأفكار الرئيسة

أعد رسم الخريطة المفاهيمية، ثم أكملها مستعملًا المصطلحات التالية: طاقة حرارية، طاقة الوضع، طاقة إشعاعية، طاقة حركية



استخدام المضردات

وضح العلاقة بين المصطلحات في كل مما يلي:

١. الطاقة الكهربائية - الطاقة النووية
٢. التوربين - المولد الكهربائي
٣. الخلية الكهروضوئية - طاقة الإشعاع - الطاقة الكهربائية
٤. طاقة الوضع - الطاقة الحركية
٥. الطاقة الحركية - الطاقة الكهربائية - المولد الكهربائي
٦. الطاقة الحرارية - الطاقة الإشعاعية
٧. قانون حفظ الطاقة - تحولات الطاقة

تثبيت المفاهيم

اختر الإجابة الصحيحة فيما يلي:

٨. ما نوع طاقة كتاب مستقر على سطح طاولة؟
 - أ. حركية
 - ب. إشعاعية
 - ج. وضع
 - د. كهربائية
٩. يمكن وصف الطاقة الضوئية بأنها طاقة:
 - أ. كهربائية
 - ب. نووية
 - ج. حركية
 - د. إشعاعية
١٠. ما تحولات الطاقة التي تحدث في العضلات؟
 - أ. حركية ← وضع
 - ب. حركية ← كهربائية
 - ج. حرارية ← إشعاعية
 - د. كيميائية ← حركية
١١. ما تحولات الطاقة التي تحدث في المولدات الكهربائية؟
 - أ. من حرارية إلى إشعاعية

ب. من إشعاعية إلى كهربائية

ج. من حركية إلى كهربائية

د. من كهربائية إلى حرارية

١٢. ما شكل الطاقة التي في الطعام؟

أ. كيميائية

ب. وضع

ج. إشعاعية

د. كهربائية

١٣. أكثر مصادر الطاقة استخدامًا في توليد الطاقة

الكهربائية في العالم:

أ. الفحم الحجري

ب. الغاز الطبيعي

ج. الطاقة النووية

د. النفط

١٤. طاقة الكرة المتحركة هي

أ. طاقة وضع

ب. طاقة كيميائية

ج. طاقة حركية

د. طاقة كهربائية

١٥. تعتمد الطاقة الحركية على:

أ. سرعة الجسم وكتلته

ب. سرعة الجسم وموضعه

ج. كتلة الجسم وارتفاعه

د. ارتفاع الجسم وموضعه

١٦. طاقة الوضع المختزنة في كرة تكون بسبب:

أ. حركتها

ب. موضعها

ج. التفاعلات الكيميائية فيها

د. حجمها

تطبيق الرياضيات

٢٤. حساب عدد منشآت الطاقة تم تصميم نوع من محطات الطاقة يزود ١٠٠٠٠٠ منزل بالطاقة. ما عدد المنشآت من هذا النوع التي تلزم لتزويد ٣٠٠٠٠٠٠ منزل بالطاقة؟

استخدم الجدول التالي للإجابة عن السؤالين ٢٥ و ٢٦.

مصادر الطاقة المستخدمة في إحدى البلدان	
النسبة المئوية للطاقة المستخدمة	مصدر الطاقة
٢٣٪	الفحم الحجري
٣٩٪	النفط
٢٣٪	الغاز الطبيعي
٨٪	الطاقة النووية
٤٪	الطاقة الكهرومائية
٣٪	أخرى

٢٥. استخدام النسب المئوية اعتمادًا على المعلومات الموجودة في الجدول، ما النسبة المئوية للطاقة المستخدمة من الوقود الأحفوري؟

٢٦. حساب التناسب كم ضعفًا تبلغ طاقة الوقود الأحفوري المستخدم بالنسبة إلى الطاقة المستخدمة من المصادر الأخرى؟

التفكير الناقد

١٧. وضح كيف تبين حركة الأرجوحة التحولات بين طاقة الوضع والطاقة الحركية؟

١٨. وضح ما يحدث للطاقة الحركية للموح تزلج يتحرك على سطح مستو، تتباطأ سرعته حتى يتوقف.

١٩. اذكر تحولات الطاقة خلال تحميص الخبز في المحمصة الكهربائية.

٢٠. وضح الاختلاف بين قانون حفظ الطاقة وبين المحافظة على الطاقة وترشيدها.

٢١. ضع فرضية حول كيفية حصول المركبة الفضائية التي تسافر عبر النظام الشمسي على الطاقة اللازمة لتشغيلها. اعمل بحثًا للتحقق من صحة فرضيتك.

٢٢. ارسم تحولات الطاقة التي تحدث عندما تملس قطعة خشب بورق الصنفرة حتى تصبح ساخنة.

أنشطة تقويم الأداء

٢٣. عرض تقديمي هناك الكثير من أشكال الطاقة الأخرى التي لم تدرسها في هذا الفصل، ومنها الطاقة الحيوية، وطاقة الأمواج، وخلايا وقود الهيدروجين. ابحث في أحد الأشكال، وقم بإعداد عرض من عدة شرائح بالمعلومات التي تجدها. واستعن بالمبادئ التي تعلمتها في هذا الفصل لتشرح لزملائك كيف يمكن تحويل هذه الطاقة إلى طاقة كهربائية يمكن الاستفادة منها.

الجزء الأول: أسئلة الاختيار من متعدد

١. ما حالة المادة التي تكون الجسيمات فيها متلاصقة، وتهتز في أماكنها دون أن يتعد بعضها عن بعض؟
- أ. الصلبة
ب. السائلة
ج. الغازية
د. البلازما
- استخدم الصورة أدناه في الإجابة عن السؤالين ٢ و ٣.



٢. حجم الماء المزاح:
- أ. يساوي حجم الكرة
ب. أكبر من حجم الكرة
ج. أقل من حجم الكرة
د. يساوي ضعف حجم الكرة
٣. قوة الدفع المؤثرة في الكرة تساوي:
- أ. كثافة الماء المزاح
ب. حجم الماء المزاح
ج. وزن الكرة
د. وزن الماء المزاح

٤. العملية التي يبرد فيها الغاز ليتحول إلى سائل تسمى:

- أ. التكثف
ب. التسامي
ج. الغليان
د. التجمد

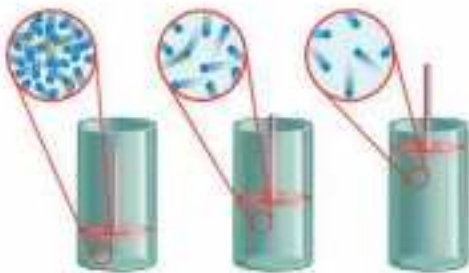
٥. أي مما يلي مادة صلبة غير بلورية؟

- أ. الماس
ب. السكر
ج. الزجاج
د. الرمل

٦. أي العمليات التالية تمتص خلالها جسيمات المادة الطاقة؟

- أ. التجمد والغليان
ب. التكثف والانصهار
ج. الانصهار والتبخير
د. التسامي والتجمد

٧. في الشكل أدناه، إذا تحرك المكبس إلى أسفل فإنه:



- أ. يقل حجم الغاز ويزداد ضغطه
ب. يقل كل من حجم الغاز وضغطه
ج. تقل التصادمات بين جسيمات الغاز
د. تنخفض درجة حرارة الغاز

١١. يضرب لاعب كرة فتنطير عاليًا. عند سقوط الكرة من أقصى ارتفاع لها تتحول:
أ. طاقة حركتها إلى طاقة وضع
ب. طاقة وضعها إلى طاقة حركة
ج. طاقتها الحرارية إلى طاقة وضع
د. طاقتها الحرارية إلى طاقة حركة

الجزء الثاني: أسئلة الإجابات القصيرة

١٢. نفخ بالون بالهواء وربط بإحكام. ما الذي يحدث للبالون إذا غمر في ماء ساخن أو وضع بالقرب من مدفأة؟ فسر إجابتك.
١٣. ما الفرق بين الحرارة ودرجة الحرارة؟
١٤. تستطيع بعض الحشرات أن تمشي على سطح ماء البركة أو البحيرة. فسر ذلك.
١٥. قارن بين وزن جسم طافٍ في سائل وقوة دفع السائل عليه، من حيث المقدار والاتجاه؟
١٦. ما كتلة جسم كثافته ٢٣، ٠ جم/سم^٣، وحجمه ٥٢ سم^٣؟

٨. تزداد طاقة حركة الجسم المتحرك إذا:
أ. قلت كتلته
ب. زادت سرعته
ج. زاد ارتفاعه عن سطح الأرض
د. زادت درجة حرارته
استخدم الرسم البياني أدناه للإجابة عن السؤال ٩.



٩. يوضح الرسم البياني أعلاه مصادر الطاقة الكهربائية في العالم في عام ٢٠١١م. فإذا كان مجموع كميات الطاقة الكهربائية المنتجة في العالم يساوي 10×2027 كيلو واط. ساعة؛ فما كمية الطاقة الناتجة عن الطاقة النووية؟
أ. $10 \times 414, 32$ كيلو واط. ساعة
ب. $10 \times 247, 29$ كيلو واط. ساعة
ج. $10 \times 627, 31$ كيلو واط. ساعة
د. $10 \times 120, 53$ كيلو واط. ساعة
١٠. اعتمادًا على قانون حفظ الطاقة، أي من العبارات التالية صحيحة فيما يتعلق بتحول الطاقة الكيميائية إلى طاقة حرارية؟
أ. يتغير مجموع كميتي الطاقة الحرارية والكيميائية
ب. تتغير كمية الطاقة الكيميائية فقط
ج. تتغير كمية الطاقة الحرارية فقط
د. لا يتغير مجموع كميتي الطاقة الحرارية والكيميائية

الجزء الثالث: أسئلة الإجابات المفتوحة

استخدم الشكل أدناه للإجابة عن السؤالين ٢٢ و ٢٣ .



٢٢. ما المبدأ العلمي الذي يقوم عليه عمل هذا الجهاز؟
وضح ذلك.

٢٣. وضح ما يحدث إذا زادت مساحة المكبس الأيمن إلى ٤ م^٢ للنظام الهيدروليكي.

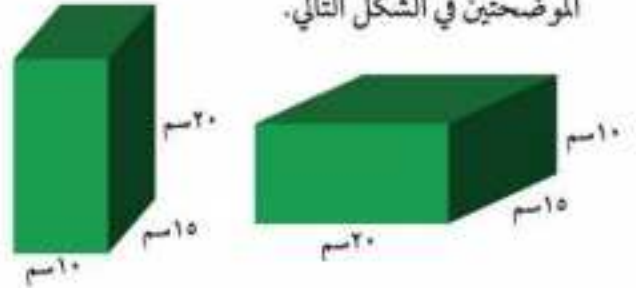
٢٤. من الملاحظ أن إطارات السيارات تتفلطح في الجو البارد. فسر ذلك.

٢٥. قارن بين حركة ومدى تقارب جسيمات المادة في حالاتها الثلاث الصلبة والسائلة والغازية.

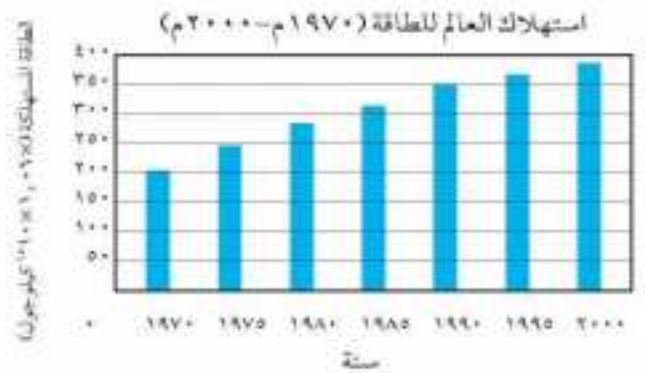
٢٦. لماذا يكون ماء البحيرة أبرد من الرمل على الشاطئ في يوم مشمس؟

٢٧. عندما تسقط كرة تنس فإنها تضرب الأرضية وترتد إلى أعلى، لكنها لا تصل إلى الارتفاع نفسه الذي سقطت منه. وكل ارتداد لاحق للكرة يكون أقل ارتفاعاً من سابقه. كما تلاحظ أن الكرة ستكون أسخن قليلاً. وضح كيف ينطبق قانون حفظ الطاقة على هذه الحالة؟

١٧. متوازي مستطيلات من الخشب أبعاده (٢٠ سم، ١٥ سم، ١٠ سم) يزن ٢٠ نيوتن. احسب مقدار الضغط الذي يؤثر به في سطح الأرض في كلتا الحالتين الموضحتين في الشكل التالي.



استخدم الشكل البياني أدناه في الإجابة عن السؤالين ١٨ و ١٩ .



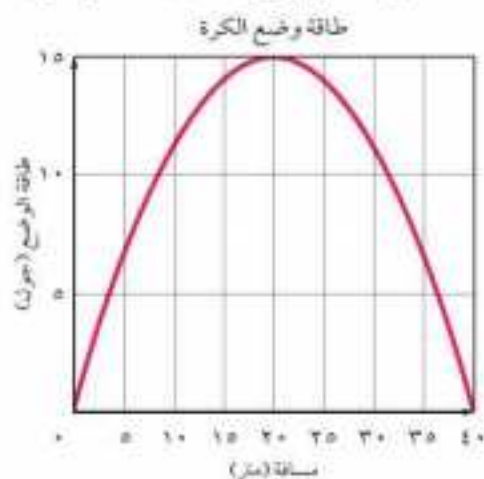
١٨. كم مرة زاد الاستهلاك العالمي للطاقة خلال الفترة من ١٩٧٠م إلى ٢٠٠٠م؟

١٩. في أي خمس سنوات كانت الزيادة في استهلاك الطاقة العالمي أكبر ما يمكن؟

٢٠. من غير الممكن صنع آلة تنتج طاقة أكثر مما تستهلكها. لماذا؟

٢١. قذفت كرة رأسياً إلى أعلى فوصلت إلى أقصى ارتفاع لها، ثم عادت إلى نقطة انطلاقها. قارن بين طاقة حركة الكرة لحظة قذفها وطاقة حركتها لحظة عودتها إلى نقطة انطلاقها.

استخدم الرسم البياني أدناه في الإجابة عن الأسئلة ٢٨-٣٠. يمثل الرسم البياني التغير في طاقة وضع كرة وفقًا للمسافة التي تبتمدها عن المضرب في إحدى الألعاب الرياضية.



٢٨. عند أي مسافة تكون طاقة حركة الكرة أكبر ما يمكن؟

٢٩. عند أي مسافة تكون الكرة في أقصى ارتفاع وصلت إليه؟

٣٠. ما الفرق بين طاقة حركة الكرة وهي على بعد ٢٠ م عن المضرب عن طاقتها الحركية لحظة إرسائها؟

ما العلاقة بين الدجاج والأرز؟



في بداية القرن التاسع عشر انتشر مرض ضامض في مناطق محددة في آسيا أطلق عليه البري بري، وذلك يوم لاحظ طبيب إنجليزي شهير أعراض هذا المرض على الدجاج. وبعد دراسته لاحظ أن الدجاج - وكذلك الأشخاص المصابون بهذا المرض - يأكلون الأرز الأبيض المقشر. كما لاحظ أن الدجاج قد شفي بعد إطعامه الأرز غير المقشر. وقد أظهرت الأبحاث أخيراً أن قشر الأرز يحتوي على فيتامين B1 الضروري للصحة الجيدة. أما الآن فيتم إضافة فيتامين B1 وبعض المواد المغذية الأخرى إلى الأرز.

مشاريع الوحدة

- ارجع إلى المواقع الإلكترونية للبحث عن أفكار أو موضوعات لمشروع تنفذه. وفيما يلي بعض الأفكار المقترحة:
- التاريخ:** شارك زملاءك في تصفح إحدى المجلات الطبية، وتعرف طرائق العلاج التقليدية والوقوف على كيفية تحسين تقنيات العلاج.
- التحقيقية:** حاول الاطلاع على بعض الحالات الطبية المثيرة للاهتمام، واحرص أن يشمل ذلك تاريخ الحالة وخصائصها وعلاجها، ثم قدمها إلى زملائك في الصف على شكل لوحة مصورة.
- النماذج:** ابتكر وجبة طعام تحتوي على أطعمة غنية بالفيتامينات، ثم حضر عينة منها، وسجل طريقة تحضيرها على بطاقة.

البحث عبر

الشبكة الإلكترونية

ابحث عبر الشبكة الإلكترونية عن المواقع التي تقدم معلومات عن تاريخ الوقاية من الأمراض، وكيف يمكن لأسلوب الحياة الصحي أن يساعد على الوقاية من الأمراض؟

جهاز الدوران والمناعة

الفكرة العامة

يتعاون جهازا الدوران والمناعة للحفاظ على صحة الجسم.

الدرس الأول

جهاز الدوران

الفكرة الرئيسية: الدم نسيج سائل ينقل المواد اللازمة إلى الخلايا، وذلك عن طريق جهاز الدوران، ويخلصها من الفضلات.

الدرس الثاني

المناعة والمرضى

الفكرة الرئيسية: يحمي جهاز المناعة الجسم من الأمراض التي قد يصاب بها الشخص عندما تهاجمه مسببات المرض، أو يخلل اتزانه الداخلي.

ازدحام السير

من اليسير مقارنة التقاطعات الموضحة في الصورة أعلاه وحركة السيارات خلالها بطريقة انتقال الدم داخل الجسم. وفي هذا الفصل، ستكتشف مدى تعقيد جهاز الدوران في أجسامنا، ابتداءً من خلايا الدم، وسائر مكوناته، إلى كيفية انتقاله في الجسم ومكافحة الأمراض.

دفتر العلوم اكتب في دفتر العلوم ثلاثة أسئلة ترغب في معرفة إجاباتها عن الدم، أو جهاز الدوران، أو كيفية انتشار الأمراض.

نشاطات تمهيدية

المطويات

الدورات الدموية اعمل المطوية التالية لتساعدك على تنظيم المعلومات الواردة في هذا الفصل.

منظمات الأفكار

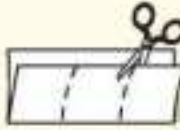
الخطوة ١ اطو ورقة من منتصفها طولياً، بحيث تكون إحدى حافتيها أقصر ٥ سم من الأخرى.



الخطوة ٢ لف الورقة عرضياً، ثم اطوها ثلاثة أجزاء.



الخطوة ٣ افتح الورقة وقصّ الحواف المطوية في الجزء العلوي من الورقة.



الخطوة ٤ اكتب عناوين المطوية كما في الشكل أدناه.



اقرأ واكتب خلال قراءتك للفصل، اكتب المعلومات التي تعلمتها عن الدورات الدموية أسفل الجزء المخصص من المطوية.

تجربة استدلالية

النقل عبر الطرائق والأوعية الدموية

يشبه جهاز الدوران في جسمك نظام شبكة الطرق؛ فبينما تساعد الطرق على نقل البضائع إلى المنازل والمصانع تنقل الأوعية الدموية المواد خلال جسمك. وسوف تكتشف في هذه التجربة أوجه التشابه بينهما.

١. تفحص خريطة مدينتك أو قرينك أو بلدك.
٢. حدد الطرق التي تمر بالمدن المختلفة.
٣. تتبع مسار رحلة بصفها لك معلمك، ثم تتبع مساراً آخر تختاره أنت لرحلة العودة.
٤. ارسم مخططاً في دفتر العلوم يوضح المسار الذي سلكته للوصول إلى المحطة المطلوبة والرجوع منها.
٥. **التفكير الناقد** إذا كانت نقطة البداية التي انطلقت منها في أثناء رحلتك تمثل القلب، فماذا تمثل المسارات التي تتبعها؟ قارن بين الطرق ذات النهايات المغلقة، وانسداد الشرايين، ثم دوّن ذلك في دفتر العلوم.

أتهياً للقراءة

التلخيص

١ **أتعلم** يساعدك التلخيص على تنظيم المعلومات، والتركيز على الأفكار الرئيسية، وتقليل كمية المعلومات التي يجب عليك تذكرها.
لكي تلخص أعد صياغة الحقائق المهمة في جمل أو فقرات قصيرة، على ألا يتضمن التلخيص الكثير من الأفكار.

٢ **أدرب** اقرأ النص المعنون بـ "الدورة القلبية"، ثم اقرأ الملخص أدناه، وانظر إلى الحقائق المهمة.

حقائق مهمة

لقلبك أوعية دموية خاصة تزوده بالمواد الغذائية والأكسجين، وتخلصه من الفضلات. ويقصد بالدورة القلبية تدفق الدم من أنسجة القلب وإليه.

ملخص

تزود الأوعية الدموية القلب بالمواد الغذائية والأكسجين، وتخلصه من الفضلات. وإذا سُدَّت الدورة القلبية فقد يصاب القلب بالذبحة القلبية.

وعندما يحدث انسداد في الدورة القلبية لا يستطيع الأكسجين والمواد الغذائية الوصول إلى جميع خلايا القلب، مما يؤدي إلى الإصابة بالذبحة القلبية.

٣ **أطبق** تدرب على التلخيص في أثناء قراءة هذا الفصل، وتوقف بعد كل درس، وحاول كتابة ملخص له.

إرشاد

اقرأ ملخصك وتأكد من عدم تغيير أفكار النص الأصلي أو معناه.

توجيه القراءة وتركيزها

ركز على الأفكار الرئيسة عند قراءتك الفصل باتباعك ما يلي:

١ قبل قراءة الفصل

أجب عن العبارات في ورقة العمل أدناه:

• اكتب (م) إذا كنت موافقاً على العبارة.

• اكتب (غ) إذا كنت غير موافق على العبارة.

٢ بعد قراءة الفصل

ارجع إلى هذه الصفحة لترى ما إذا كنت قد غيرت رأيك حول أي من هذه العبارات.

• إذا غيرت إحدى الإجابات فبين السبب.

• صحح العبارات غير الصحيحة.

• استرشد بالعبارات الصحيحة في أثناء دراستك.

قبل القراءة م أوغ	العبارة	بعد القراءة م أوغ
	١. يندفع الدم إلى الرئتين، ويعود منهما إلى القلب قبل دورانه خلال الجسم.	
	٢. يندفع الدم الذي يحتوي على قدر قليل من الأكسجين عبر الأوردة عندما يغادر القلب.	
	٣. تربط الشعيرات الدموية بين الأوردة والشرايين.	
	٤. تعمل العقد اللمفاوية مرشحات للجسم.	
	٥. تتجول كريات الدم البيضاء في الجسم، وتدمر مسببات المرض التي أصابته.	
	٦. يمكن نقل الدم بين أي شخصين.	
	٧. يحمي الجلد الجسم من الأمراض.	
	٨. تنتقل الأمراض المعدية من مخلوق حي إلى آخر بواسطة مخلوق حي ثالث.	
	٩. الأمراض المنقولة جنسياً جميعها أمراض معدية.	
	١٠. تظهر الأعراض مباشرة بعد الإصابة بفيروس HIV.	



جهاز الدوران

تركيب جهاز الدوران

يصلُ الماء إلى المنازل عبر أنابيب، تمثل جزءاً من شبكة المياه والصرف الصحي، وهي تزودك بما تحتاج إليه من الماء، وتخلصك من الفضلات. فعندما تفتح الصنبور تحصل على حاجتك من الماء. كذلك يحتاج الجسم إلى إمداده باستمرار بالأكسجين والمواد الغذائية، وإلى تخليصه من الفضلات. ويتم نقل هذه المواد كلها عن طريق جهاز الدوران الذي يتكون من الدم والقلب والأوعية الدموية.

وظائف الدم

نقل الدم للمواد المختلفة داخل الجسم يشبه - إلى حد ما - نقل الماء في شبكات المياه والصرف الصحي؛ إذ يقوم الدم خلال ذلك بأربع وظائف رئيسية، هي:

١. نقل الأكسجين من الرئتين إلى خلايا الجسم، ونقل ثاني أكسيد الكربون من خلايا الجسم إلى الرئتين؛ ليتم التخلص منه.
٢. نقل الفضلات الناتجة عن خلايا الجسم إلى الكليتين؛ ليتم التخلص منها.
٣. نقل المواد الغذائية ومواد أخرى إلى خلايا الجسم.
٤. تعمل خلايا الدم وجزئياته على منع الإصابة الجرثومية، وتساعد على الشفاء الجروح.

ولا شك أنه إذا حدث خلل في أي وظيفة من وظائف الدم فإن ذلك يؤثر في سائر أنسجة الجسم وأعضائه. فلا غرابة إذا أن يُسمى الدم نسيج الحياة. وسبحان الخالق في بديع خلقه؛ فلا يزال العلم يكتشف دلائل عظمته في مخلوقاته، قال تعالى: ﴿رَبِّ أَنْفِسِكُمْ أَقَلَّ تَعْرِفُونَ﴾ (الذاريات).

مكونات الدم



ليس الدم مجرد سائل أحمر اللون، كما قد يتبادر إلى ذهنك، وإنما هو نسيج يتكون من البلازما، وخلايا الدم البيضاء، وخلايا الدم الحمراء، والصفائح الدموية، كما في الشكل ١. ويشكل الدم ٨٪ من كتلة الجسم. فإذا كانت كتلة شخص ٤٥ كجم مثلاً فإن ٦, ٣ كجم منها دم.

الشكل ١ انفصل الدم في هذا المخبر المدرج إلى مكوناته. لكل مكون دور أساسي في وظائف الجسم.

ففي هذا الدرس

الأهداف

- تحدد مكونات الدم ووظائفه.
- تفسر أهمية فحص فصائل الدم قبل نقله.
- تعطي أمثلة على أمراض الدم.
- توضح حركة الدم داخل القلب.
- تحدد وظيفة الدورة الدموية والدورة الجسمية.
- تقارن بين الشرايين والأوردة والشعيرات الدموية.
- تصف وظائف الجهاز اللمفاوي.

الأهمية

- للدم دور مهم في جميع العمليات الرئيسة في جسمك.
- تعتمد خلايا جسمك على الأوعية الدموية لنقل المواد الغذائية والتخلص من الفضلات.

مراجعة المفردات

النسيج: مجموعة من الخلايا المتشابهة التي تعمل معاً للقيام بوظيفة محددة.

المفردات الجديدة

- البلازما
- الشريان
- الهيموجلوبين
- الوريد
- الصفائح الدموية
- اللمف
- الشعيرات الدموية

خلايا الدم البيضاء في الإنسان

ارجع إلى المواقع الإلكترونية عبر
شبكة الإنترنت

للحصول على معلومات عن
أنواع خلايا الدم البيضاء في
الإنسان ووظائفها.

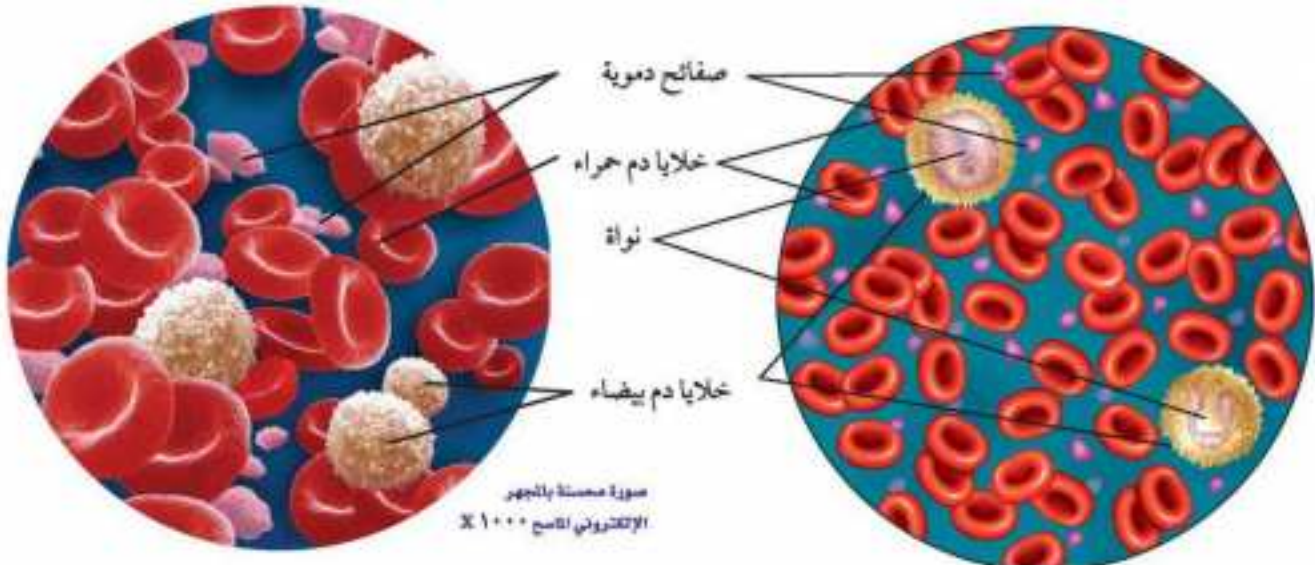
نشاط ارسـم جدولاً توضح فيه
وظائف الأنواع المختلفة لخلايا
الدم البيضاء.

البلازما، يُسمى الجزء السائل من الدم **البلازما** Plasma، ويشكل أكثر من نصف حجم الدم. ويتكون في معظمه من ماء، ويذوب فيه الأكسجين والمواد الغذائية والأملاح المعدنية؛ ليتم نقلها إلى خلايا الجسم، كما تذوب فيه الفضلات؛ ليتم تخليص خلايا الجسم منها.

خلايا الدم، تختلف خلايا الدم الحمراء القرصية الشكل - المبينة في الشكل ٢- عن سائر خلايا الجسم؛ لعدم احتوائها على النواة عندما تنضج. وتحتوي خلايا الدم الحمراء على جزيء **الهيموجلوبين** Hemoglobin، وهو جزيء يحمل الأكسجين لينقله من الرئتين إلى خلايا الجسم، كما يحمل بعض جزيئات ثاني أكسيد الكربون لينقلها من خلايا الجسم إلى الرئتين. أما ما تبقى من ثاني أكسيد الكربون فيذوب في سيتوبلازم خلايا الدم الحمراء والبلازما. وتعيش خلايا الدم الحمراء ١٢٠ يوماً تقريباً، ويُعاد إنتاجها في مركز العظم الطويل، مثل عظام الفخذ، بمعدل ٢-٣ ملايين خلية في الثانية، وهذا مساوٍ تقريباً لمعدل تحللها.

يحتوي الملمتر المكعب الواحد من الدم على ٥ ملايين خلية دم حمراء تقريباً، وعلى ٥٠٠٠-١٠٠٠٠ خلية دم بيضاء. تهاجم خلايا الدم البيضاء البكتيريا والفيروسات والأجسام الغريبة التي تغزو الجسم. ونتيجة لذلك يزداد عددها، وتغادر جدران الشعيرات الدموية، وتتغلغل في الأنسجة التي هوجمت فتحلل البكتيريا والفيروسات، وتمتص الخلايا الميتة. وتعيش خلايا الدم البيضاء ما بين عدة أيام إلى عدة أشهر.

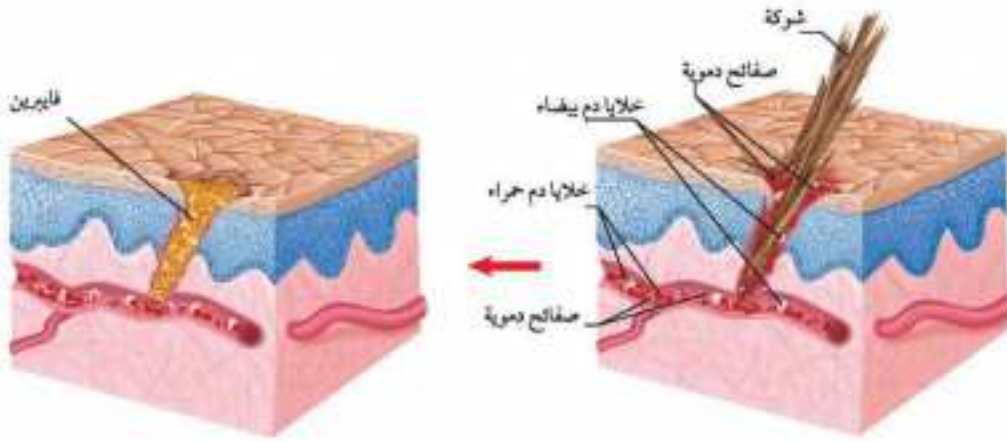
الشكل ٢ تزود خلايا الدم الحمراء خلايا الجسم بالأكسجين. وتؤدي خلايا الدم البيضاء والصفائح الدموية دوراً في حماية الجسم.



صورة مصغرة بالمجهر الإلكتروني لتصبح ١٠٠٠ X

تساعد الصفائح الدموية على إيقاف النزيف؛ فهي لا تسدّ ثقوب الأوعية الصغيرة فقط، بل تنتج كذلك مواد كيميائية تساعد على تكوّن خيوط الفايبرين.

هناك أنواع وأحجام وأشكال عديدة لخلايا الدم البيضاء. وتحمل هذه الخلايا البكتيريا والفيروسات والأجسام الغريبة.



الشكل ٣ عندما يتعرض الجلد للأذى تسد خثرة دموية لزجة الوعاء الدموي المتضرر، ثم تتكون قشرة تحمي الجرح من الضرر، فتساعده على الالتئام والشفاء.

وبالإضافة إلى خلايا الدم الحمراء والبيضاء هناك **الصفائح الدموية platelets**، وهي أجزاء خلوية غير منتظمة الشكل تساعد على تخثر الدم ويوجد في الملمتر المكعب الواحد ٤٠٠٠٠٠٠ صفيحة دموية تقريباً. وتعيش الصفائح الدموية ما بين ٥ إلى ٩ أيام تقريباً.

تخثر الدم

عندما يصاب شخص ما بجرح فإن الجرح ينزف، ولكن سرعان ما يتوقف النزف، وعندها يبدأ الجزء الذي تعرض للإصابة يتمثل للشفاء. يحدث ذلك لأن الصفائح الدموية وعوامل التخثر في دمك تكون خثرة (جلطة) دموية تسد الأوعية الدموية المتضررة.

تعمل الخثرة الدموية عمل قطعة الشاش؛ فعند تعرضك لجرح تلتصق الصفائح الدموية بالجرح، وتفرز مواد كيميائية تحفز مواد تسمى عوامل التخثر، فتقوم بسلسلة من التفاعلات الحيوية، مكونة شبكة لزجة خيطية تُدعى الفايبرين، كما في الشكل ٣. تحتجز هذه الشبكة خلايا الدم والبلازما فتكون الخثرة، ويتوقف النزف، وتتصلب الخثرة فتكون القشرة. وتبدأ خلايا الجلد تحت هذه القشرة الصلبة في الانقسام لتكوين خلايا جديدة عوضاً عن الخلايا التالفة. وتقوم خلايا الدم البيضاء في أثناء ذلك بمهاجمة البكتيريا التي تهاجم الجرح، وتحلل هذه البكتيريا.

ماذا قرأت؟ ما مكونات الدم التي تساعد على التجلط؟

من فضل الله علينا أن الجروح البسيطة - كقطع السكين - لا تؤدي بنا إلى الموت، وقد لا تشكل خطراً علينا. إلا أن بعض الأشخاص المصابين بمرض نزف الدم الوراثي (الهيموفيليا) يخلو دمهم من أحد عوامل تخثر الدم. لذا فإن حياتهم تصبح مهددة بمجرد إصابتهم بجروح يسيرة.

تجربة

نمذجة تكون قشرة الجرح

الخطوات

١. ثبت قطعة من الشاش ٥سم × ٥سم على قطعة من ورق الألمنيوم.
٢. ضع عدة قطرات من محلول تجميد الجروح على الشاشة واركبها لتجف. احرص أن يكون المحلول بعيداً عن الفم والعيون.
٣. استعمل قطارة لوضع قطرة ماء واحدة فوق محلول تجميد الجروح، ثم ضع قطرة ماء أخرى على أي جزء من الشاش.

التحليل

١. قارن ما يحدث لقطرتي الماء في المنطقتين.
٢. صف كيف تشبه قطعة الشاش التي وضع عليها المحلول قشرة الجرح؟

فصائل الدم

تمنع عملية التجلط فقدان الدم بسرعة في الجروح الصغيرة، أما في الجروح الكبيرة فقد يفقد الجريح كميات كبيرة من الدم. وفي هذه الحالة قد يحتاج إلى نقل دم. ويجب التأكد قبل عملية نقل الدم من مناسبة فصيلة دم المتبرع للجريح. أما إذا استقبل الجريح دمًا من فصيلة غير مناسبة فإن كريات الدم الحمراء تتجمع وتكوّن جلطة في الأوعية الدموية، مما يؤدي إلى وفاته.

نظام ABO يرث الشخص إحدى فصائل الدم الأربع: A، B، AB، O. وتحتوي فصائل الدم A وB وAB مواد كيميائية في خلايا الدم الحمراء تُسمى مولدات الضد. أما فصيلة الدم O فلا تحتوي عليها.

كذلك تحتوي كل فصيلة من فصائل الدم على أجسام مضادة متخصصة في البلازما. وهي عبارة عن بروتينات تحلل المواد الغريبة عن الجسم. لذا لا يمكن مزج الأجسام المضادة الموجودة في فصائل مختلفة من الدم. وهذا يقلل من احتمال نقل فصائل الدم بعضها إلى بعض، كما في الجدول ١. فإذا اختلطت فصيلة الدم A بفصيلة الدم B مثلاً فإن الأجسام المضادة في A تهاجم خلايا الدم B؛ لأنها غريبة عنها، مما يؤدي إلى تجمع خلايا الدم الحمراء، والعكس صحيح. أما فصيلة الدم AB فإنها لا تحتوي على أجسام مضادة. لذا فإن الأشخاص الذين يملكون هذه الفصيلة يستطيعون استقبال فصائل الدم A وB وAB وO، بينما تحتوي فصيلة الدم O على الأجسام المضادة A وB، لذا لا يستطيع شخص فصيلة دمه O استقبال دم إلا من فصيلته.

ماذا قرأت؟ لماذا يُطلق على الشخص الذي فصيلة دمه O المانع العام؟

العامل الريزي Rh علامة كيميائية وراثية أخرى في الدم. فالشخص الذي تحمل خلايا دمه الحمراء العامل الريزي يكون موجب العامل الريزي. أما الشخص الذي لا تحمل خلايا دمه الحمراء هذا العامل فإنه يكون سالب العامل

الريزي. وإذا تم نقل دم موجب العامل الريزي إلى شخص سالب العامل الريزي فإن الأجسام المضادة في جسمه تسبب تجمع خلايا الدم الحمراء، مما يؤدي إلى انسداد الأوعية الدموية، وقد يؤدي هذا إلى الوفاة. ويحدث هذا عندما تكون الأم سالبة العامل الريزي وتحمل بطفل موجب العامل الريزي، حيث يُكوّن جسمها أجسامًا مضادة تهاجم دم الجنين، مما يؤدي إلى تحلل خلايا دمه. ولمنع النتائج المميتة يجب فحص فصائل الدم والعامل الريزي قبل عمليات نقل الدم، وخلال الحمل.

الربط مع التاريخ

نقل الدم

تمت أول عملية نقل دم ناجحة في عام ١٦٦٥م. وقد كانت بين كلبين. أما أول عملية نقل ناجحة بين البشر فكانت عام ١٨١٨م، رغم فشل العديد من عمليات نقل الدم بعد ذلك. ولم تكن فصائل الدم في ذلك الوقت معروفة، وكذلك المشاكل الناجمة عن امتزاجها.

تحرّر عن الأبحاث التي أدت إلى اكتشاف فصائل الدم، ثم اكتب ملخصًا بذلك في دفتر العلوم.

الجدول ١ . احتمالية نقل الدم

فصيلة الدم	يستقبل	يمنح
A	O، A	A، AB
B	B، O	B، AB
AB	الكل	AB
O	O	الكل

أمراض الدم

من أمراض الدم الشائعة الأنيميا (فقر الدم) Anemia التي تصيب خلايا الدم الحمراء، فتصبح غير قادرة على نقل كميات كافية من الأكسجين إلى أنسجة الجسم، وغير قادرة على القيام بوظائفها وأنشطتها الاعتيادية. تحدث الأنيميا لعدة أسباب، منها فقدان كميات كبيرة من الدم، أو بسبب الحفيزات الغذائية التي تفتقر إلى الحديد، أو نقص بعض أنواع الفيتامينات. وهناك أنواع أخرى من الأنيميا الوراثية يكون شكل خلايا الدم الحمراء فيها وتركيبها غير طبيعيين، كما في الأنيميا المنجلية Sickle-cell، الشكل ٤.

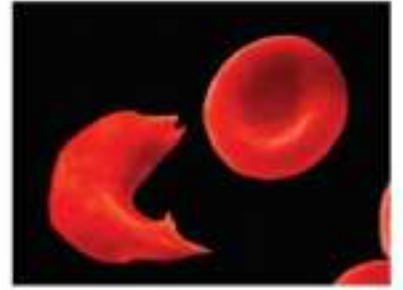
أما اللوكيميا (سرطان الدم) Leukemia فمرض يصيب نوعاً أو أكثر من خلايا الدم البيضاء؛ حيث تصنع بكميات كبيرة، فتنتج خلايا غير مكتملة، لا تستطيع مهاجمة الأجسام الغريبة بفاعلية. تملأ هذه الخلايا غير المكتملة النمو نخاع العظم، فتعيق عمليات إنتاج خلايا الدم الحمراء وخلايا الدم البيضاء والصفائح الدموية. وقد يصاب الأطفال ببعض أنواع اللوكيميا (سرطان الدم)، إلا أنه أكثر انتشاراً بين البالغين. ولعلاج هذا المرض تستعمل بعض الأدوية وعملية نقل الدم وزراعة النخاع.

القلب

عضو يتكون من نسيج عضلي قلبي يقع خلف عظمة القص وبين الرئتين. ويتكون القلب في الإنسان من أربع حجرات، تسمى الحجرتان العلويتان (الأذين الأيمن والأذين الأيسر)، والحجرتان السفليتان (البطين الأيمن والبطين الأيسر). ويفصل صمام أحادي الاتجاه بين الأذين والبطين الذي يقع أسفله، ويتدفق الدم من الأذين إلى البطين، ثم من البطين إلى الوعاء الدموي. ويفصل الجهة اليمنى من القلب عن الجهة اليسرى جدار يمنع اختلاط الدم الغني بالأكسجين بالدم الذي يحتوي على قليل من الأكسجين.

نظام النقل في الجسم

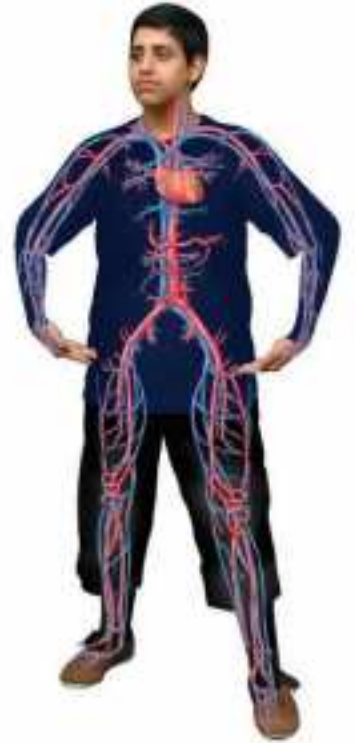
درست سابقاً أن جهاز الدوران يتكون من: الدم، والقلب، والأوعية الدموية، التي تتشارك وتتكامل في أداء وظائف جهاز الدوران في الجسم، ومساعدة أجهزة الجسم الأخرى في إتمام وظائفها الضرورية بالشكل الصحيح. حيث تعمل الأوعية الدموية على نقل الدم إلى أجزاء الجسم جميعها، حاملاً الأكسجين والمواد الغذائية إلى الخلايا، ومخلصاً إياها من ثاني أكسيد الكربون والفضلات الأخرى، كما في الشكل ٥.



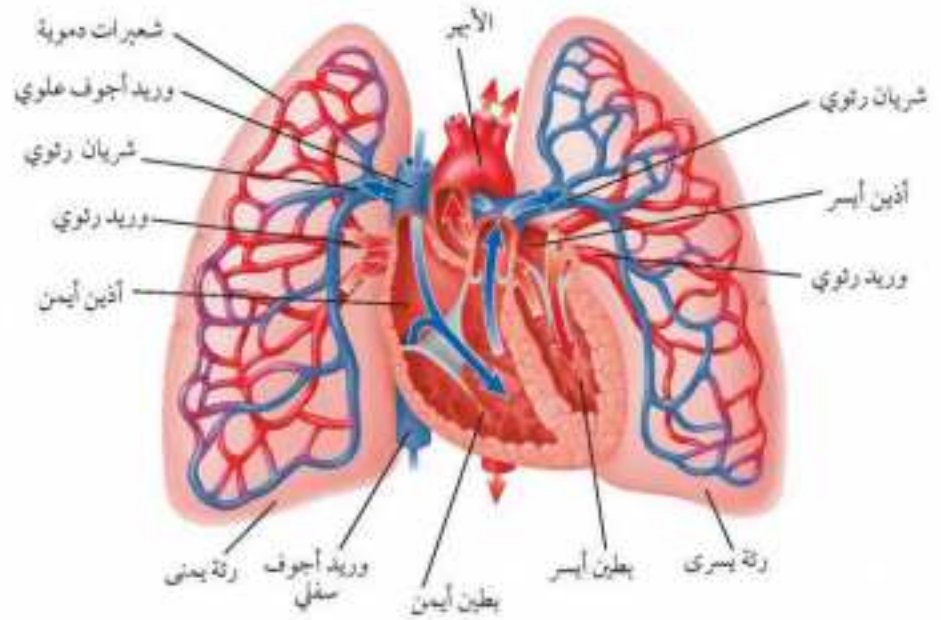
الشكل ٤

تفقد خلايا الدم الحمراء شكلها عند الأشخاص المصابين بمرض الأنيميا المنجلية. كما تسبب خلايا الدم الحمراء هذه انسداد الشعيرات الدموية، مما يمنع وصول الأكسجين إلى الأنسجة التي تغذيها هذه الشعيرات ولا يمكنها التخلص من الفضلات.

وضح كيف يسبب ذلك تدمير الأنسجة المصابة؟



الشكل ٥ • ي ضخ القلب الدم إلى خلايا الجسم جميعها، ثم يعود إلى القلب مرة أخرى عبر شبكة من الأوعية الدموية.



الشكل ٦ تحرك الدورة الدموية الصغرى الدم بين القلب والرئتين.

دورات الدم

يقسم العلماء الدورات الدموية إلى ثلاث دورات، هي: الدورة القلبية، والدورة الجسمية (الدورة الدموية الكبرى)، والدورة الرئوية (الدورة الدموية الصغرى).

الدورة القلبية للقلب أوعية دموية خاصة تزوده بالمواد الغذائية والأكسجين، وتخلصه من الفضلات. ويقصد بالدورة القلبية تدفق الدم من نسيج القلب وإليه. وعندما يحدث انسداد في الدورة القلبية لا يستطيع الأكسجين والمواد الغذائية الوصول إلى جميع خلايا القلب، مما يؤدي إلى الإصابة بالذبحة القلبية.

الدورة الرئوية (الدورة الدموية الصغرى) يُسمى تدفق الدم من القلب إلى الرئتين وعودته إلى القلب مرة أخرى بالدورة الرئوية (الدورة الدموية الصغرى). استعمل الشكل ٦ لتتبع مسار الدم خلال هذه الدورة. يعود الدم من الجسم إلى الجهة اليمنى من القلب محملاً بالفضلات الخلوية، ثم يتغل إلى الرئتين، وهناك تحدث عملية التبادل، فيخرج ثاني أكسيد الكربون (الفضلات الغازية) من الدم، ويدخل الأكسجين خلال عملية الانتشار، ثم يعود الدم إلى الجهة اليسرى من القلب. وأخيراً يتقبض البطن الأيسر، فيدفع الدم عبر الأهر، وهو أكبر شريان في الجسم، فينطلق الدم الغني بالأكسجين إلى أجزاء الجسم جميعها.

الدورة الجسمية (الدورة الدموية الكبرى) يندفع الدم الغني بالأكسجين إلى جميع أعضاء الجسم وأنسجته، ما عدا القلب والرئتين، ويعود الدم الذي يحتوي على القليل من الأكسجين إلى القلب خلال الدورة الجسمية (الدورة الدموية الكبرى). وتعد الدورة الجسمية (الدورة الدموية الكبرى) أكبر الدورات الدموية الثلاث. ويتدفق الدم الغني بالأكسجين خلالها من القلب إلى الشرايين، حيث تتم عملية تبادل المواد الغذائية والأكسجين من جهة وثاني أكسيد الكربون والفضلات من جهة أخرى بين الدم وخلايا الجسم، ثم يعود الدم إلى القلب عبر الأوردة.

الأوعية الدموية

اكتشف العلماء في منتصف القرن السابع عشر أن الدم يتحرك بسبب انقباض القلب، وتكون حركته في اتجاه أحد الشرايين إلى الأوردة، ولكنهم لم يتمكنوا من معرفة كيفية انتقاله بين الشرايين والأوردة. لقد ساعد المجهر المركب العلماء على اكتشاف **الشعيرات الدموية Capillaries**، وهي أوعية دموية تربط بين الشرايين والأوردة.

الشرايين، عندما يُضخ الدم خارج القلب ينتقل عبر الشرايين ثم الشعيرات الدموية ثم الأوردة، كما هو موضح في الشكل ٧. **والشرايين Arteries** أوعية دموية تحمل الدم بعيداً عن القلب، وتمتاز بجدرانها السميكة المرنة التي تتكون من النسيج الضام والعضلات الملساء.

الأوردة تُسمى الأوعية الدموية التي تعيد الدم إلى القلب **الأوردة Veins**. وتحتوي هذه الأوردة على صمامات تضمن تحرك الدم في اتجاه القلب. فإذا رجع الدم إلى الخلف فإن ضغط الدم يغلق الصمامات. كما تساعد العضلات الهيكلية المحيطة بالأوردة على دفع الدم في اتجاه القلب، فعندما تنقبض العضلات تضغط على الأوردة، فتدفع الدم في اتجاه القلب.

✓ **ماذا قرأت؟** ما أوجه الشبه والاختلاف بين الأوردة والشرايين؟

الشعيرات الدموية يبلغ سمك جدار الشعيرات الدموية خلية واحدة فقط. وتستطيع المواد الغذائية والأكسجين الانتشار عبره إلى خلايا الجسم، وتنتشر الفضلات وثاني أكسيد الكربون من خلايا الجسم إلى الشعيرات الدموية.

ضغط الدم

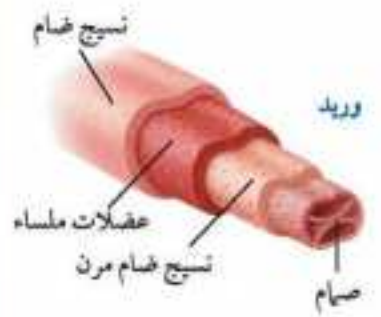
إذا ملأت بالوناً بالماء وضغطت عليه فإن الماء يندفع في الاتجاهات جميعها. ويشبه هذا عملية انقباض القلب؛

فعندما ينقبض القلب يندفع الدم بقوة، فيضغط على جدران الأوعية الدموية، وتُسمى هذه القوة ضغط الدم. ويكون ضغط الدم في الشرايين أعلى منه في الأوردة. وعندما تقيس نبضك فإنك تحس بموجات الضغط. ويتغير ضغط الإنسان مع كل نبضة قلب.

التحكم في ضغط الدم يوجد في جدران بعض الشرايين خلايا عصبية حساسة لما يحدث من تغير في ضغط الدم. فعندما يكون ضغط الدم أعلى أو أقل من المعدل الطبيعي تقوم هذه الخلايا بإرسال رسائل إلى الدماغ، فيأمر القلب بزيادة معدل ضرباته أو تقليلها، مما يحافظ على ضغط الدم ثابتاً في الشرايين، وبذلك تصل كميات كافية من الدم إلى أعضاء الجسم وأنسجته.

أمراض القلب والأوعية الدموية

تؤثر الأمراض التي تصيب القلب أو الأوعية الدموية في صحة الجسم بشكل كبير، وقد تسبب هذه الأمراض الموت للإنسان.



الشكل ٧ تختلف الشرايين والأوردة والشعيرات في بنيتها.

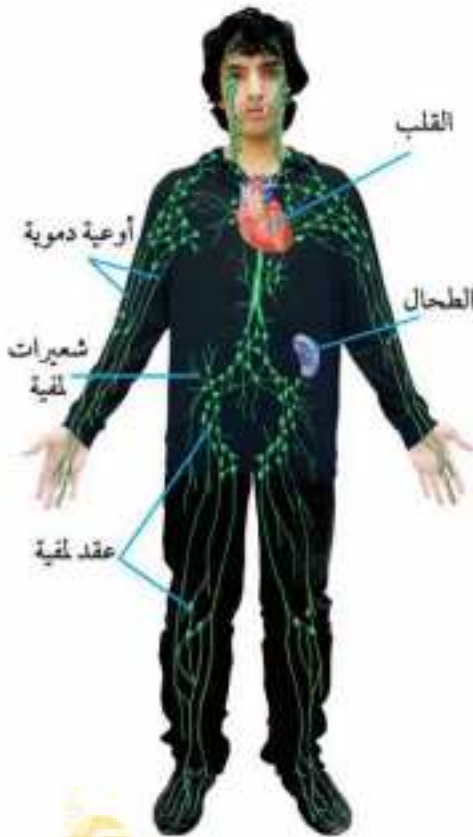
نبرة عميقة ضغط الدم
أوجع إلى الوحدة القلوب العملية

مرض هودجكين Hodgkin's

ارجع إلى المواقع الالكترونية
عبر شبكة الإنترنت
للحصول على معلومات عن
مرض هودجكينز.

نشاط: صمّم مطوية عن مرض
هودجكينز تتضمن: ما المرض؟
وما أعراضه؟ وما مخاطره؟ وكيف
يعالج؟

الشكل ٨ ترتبط أعضاء جهاز اللمف
في شبكة من الأوعية اللمفية.
وضح كيف تساعد العضلات
اللمف على الحركة.



تصلب الشرايين من الأمراض الرئيسة التي تصيب القلب تصلب الشرايين، حيث ترسب الدهون على جدران الشرايين. والشرايين كلها عرضة للإصابة بهذا المرض، إلا أن الخطورة تتضاعف عندما يحدث تصلب في أحد الشرايين القلبية؛ فقد يتج عن ذلك الإصابة بالذبحة القلبية، وقد يتطلب ذلك عملية قلب مفتوح لعلاج هذه المشكلة.

ارتفاع ضغط الدم ينتج هذا المرض عندما يكون ضغط الدم أعلى من المعدل الطبيعي؛ حيث يعمل القلب بشكل أكبر ليحافظ على تدفق الدم. ومن الأسباب التي تؤدي إلى ارتفاع ضغط الدم تصلب الشرايين، حيث يزداد الضغط داخل الأوعية المتصلبة؛ لأنها تكون قد فقدت مرونتها، وأصبحت غير قادرة على الانقباض والانبساط بسهولة.

الوقاية من أمراض القلب والأوعية الفحص الدوري والتغذية الصحيحة وممارسة التمارين الرياضية جزء من الممارسات الصحية التي تحافظ على القلب.

ومن الطرائق الأخرى لمنع الإصابة بأمراض القلب والأوعية الدموية الابتعاد عن التدخين الذي يسبب انقباض الأوعية الدموية، مما يؤدي إلى تسارع نبضات القلب، كما يزيد من مستوى ثاني أكسيد الكربون في الدم. كما إن الابتعاد عن التدخين يمنع الإصابة بأمراض القلب والعديد من مشكلات الجهاز التنفسي.

وظائف الجهاز اللمفي

يتسرب بعض الماء إلى الصرف عند استعمال الصنبور، وقد يعاد استعماله ثانية. وفي أجسامنا تتخلص الأنسجة من السائل النسيجي بالطريقة نفسها عن طريق الجهاز اللمفي، كما يبين الشكل ٨. تنتشر جزيئات المواد الغذائية والماء والأكسجين في الدم عبر جدران الشعيرات الدموية إلى الخلايا المحيطة، فتصبح جزءاً من السائل النسيجي الموجود بين الخلايا، ويتولى الجهاز اللمفي عملية جمعه وإعادته مرة أخرى إلى مجرى الدم.

اللمف يسمى السائل النسيجي عندما يتنشر إلى الأوعية اللمفية اللمف Lymph. ويحتوي اللمف -بالإضافة إلى الماء والمواد المذابة- على الخلايا اللمفية. وهي نوع من خلايا الدم البيضاء تساعد الجسم على محاربة الأمراض المعدية. وإذا حدث خلل في عمل الجهاز اللمفي فإن الأنسجة تنتفخ بسبب تجمع السائل النسيجي وعدم عودته إلى الدم.

ينقل الجهاز اللمفي اللمف خلال شبكة من الشعيرات والأوعية اللمفية إلى العقد اللمفية، وهي أعضاء تشبه حبة الفاصولياء، تنتشر في الجسم. تُرشح العقد اللمفية المخلوقات الدقيقة والمواد الغريبة التي تم القضاء عليها بواسطة الخلايا اللمفية. وبعد ذلك يصب اللمف في وعاء دموي كبير قرب العنق ليعود إلى الدم مرة أخرى. ولا يوجد تركيب يشبه القلب يضخ اللمف عبر الأوعية اللمفية، لذا تعتمد حركة اللمف على انقباض العضلات الملساء في الأوعية اللمفية، وانقباض العضلات الهيكلية المحيطة بها، كما تحتوي الأوعية اللمفية على صمامات كالأوردة تمنع عودة اللمف إلى الورا.

ماذا قرأت؟ ما اللمف؟

اختبر نفسك

١. اكتب قائمة بوظائف الدم الأربع الرئيسة.
٢. قارن بين خلايا الدم الحمراء وخلايا الدم البيضاء والصفائح الدموية.
٣. صف كيف يؤثر كل من الأنيميا (فقر الدم) واللوكيميا (سرطان الدم) في الدم؟
٤. قارن بين الشرايين والأوردة والشعيرات الدموية.
٥. حدد ما الأوعية الدموية التي تنقل الدم الغني بالأكسجين خلال الدورة الدموية الرئوية وخلال الدورة الدموية الجسمية؟
٦. وضح كيف يتنقل الدم خلال القلب؟
٧. فسر لماذا يجب فحص فصائل الدم والعامل الريزي قبل عمليات نقل الدم؟
٨. التفكير الناقد

- ما الفضلات التي تتراكم في الدم والخلايا إذا أصبح القلب غير قادر على ضخ الدم بفاعلية؟
- فكّر في الوظيفة الرئيسة لخلايا الدم الحمراء. إذا لم تستطع كريات الدم الحمراء نقل الأكسجين إلى خلايا جسمك فكيف يكون حال أنسجته؟

تطبيق المهارات

٩. تفسير البيانات. انظر إلى الجدول ١. إذا أراد شخص فصيلة دمه AB أن يتبرع بالدم فلمن يمكنه التبرع؟
١٠. خريطة مفاهيمية. اعمل خريطة مفاهيمية (سلسلة الأحداث) لتوضيح تسلسل أحداث الدورة الدموية الرئوية، ابتداءً من الأذنين الأيمن وانتهاءً بالشريان الأبهري.

الخلاصة

مكونات الدم ووظائفه

- ينقل الدم الأكسجين وثاني أكسيد الكربون والفضلات والمواد الغذائية.
- الدم نسيج يتكون من البلازما، وخلايا الدم الحمراء، وخلايا الدم البيضاء، والصفائح الدموية.

تجلط الدم وفصائل الدم

- تُكوّن الصفائح الدموية وعوامل التجلط تخثراً يمنع النزف عند حدوث جرح. ويجب تعرّف فصائل الدم قبل عمليات نقل الدم.
- يجب تحديد نوع الفصيلة (A أو AB أو B أو O) قبل نقل الدم إلى المريض.

أمراض الدم

- تؤثر الأنيميا في خلايا الدم الحمراء، وتؤثر اللوكيميا في خلايا الدم البيضاء.

نظام النقل في الجسم

- تنقل الأوعية الدموية الدم من وإلى أعضاء الجسم المختلفة.

القلب وأنواع الدورات الدموية

- يتحكم القلب في سريان الدم في جهاز الدوران.
- ينتقل ثاني أكسيد الكربون من الدم إلى الرئتين، وينتشر الأكسجين في الدم.

الأوعية الدموية وضغط الدم

- هناك ثلاثة أنواع من الأوعية الدموية، هي الشرايين والأوردة والشعيرات الدموية.
- تُسمى القوة التي يؤثر بها الدم في جدران الأوعية الدموية ضغط الدم.

أمراض القلب والأوعية الدموية

- تصلب الشرايين والارتفاع في ضغط الدم من الأمراض التي تصيب القلب والأوعية الدموية.

وظائف الجهاز اللمفي

- اللمف سائل نسيجي مصدره الخلايا يدخل إلى الأوعية اللمفية.
- تساعد الخلايا اللمفية على مكافحة الأمراض.

المناعة والمرض

فيم هذا الدرس

الأهداف

- توضيح الفرق بين مولد الضد والجسم المضاد.
- تقارن بين المناعة الطبيعية والمناعة الاصطناعية.
- تصف دور كل من باسستور وليستر في اكتشاف المرض والوقاية منه.
- تحدد الأمراض التي تنتج عن الفيروسات وعن البكتيريا.
- توضح كيف يهاجم فيروس HIV جهاز المناعة؟
- تحدد الأمراض غير المعدية، وتعدد أسبابها.
- توضح ما يحدث خلال تفاعلات الحساسية.

الأهمية

- يحارب الجسم مسببات المرض التي يتعرض لها كل يوم.
- يمكنك تجنب الإصابة ببعض الأمراض إذا عرفت مسبباتها وطريقة انتشارها.

مراجعة المفردات

الفيروس: جزء صغير من المادة الوراثية محاط بغلاف بروتيني، يهاجم الخلية المضيفة ويتضاعف فيها.

المفردات الجديدة

- مولد الضد
- الأجسام المضادة
- المناعة الطبيعية
- المناعة الاصطناعية
- الحساسية
- البسرة

خطوط دفاع الجسم ضد الأمراض

إن الحق تبارك وتعالى الذي أنشأنا وأبدع خلقنا، زود أجسامنا بوسائل دفاع مختلفة؛ حيث يعمل خط الدفاع الأول فيه ضد المواد الضارة والمخلوقات الحية المسببة للأمراض. أما خط الدفاع الثاني فيمتاز بتخصصه؛ فهو يعمل ضد مسببات أمراض معينة. ويتمثل في جهاز المناعة.

ماذا قرأت؟ ما أنواع الدفاعات في جسمك؟

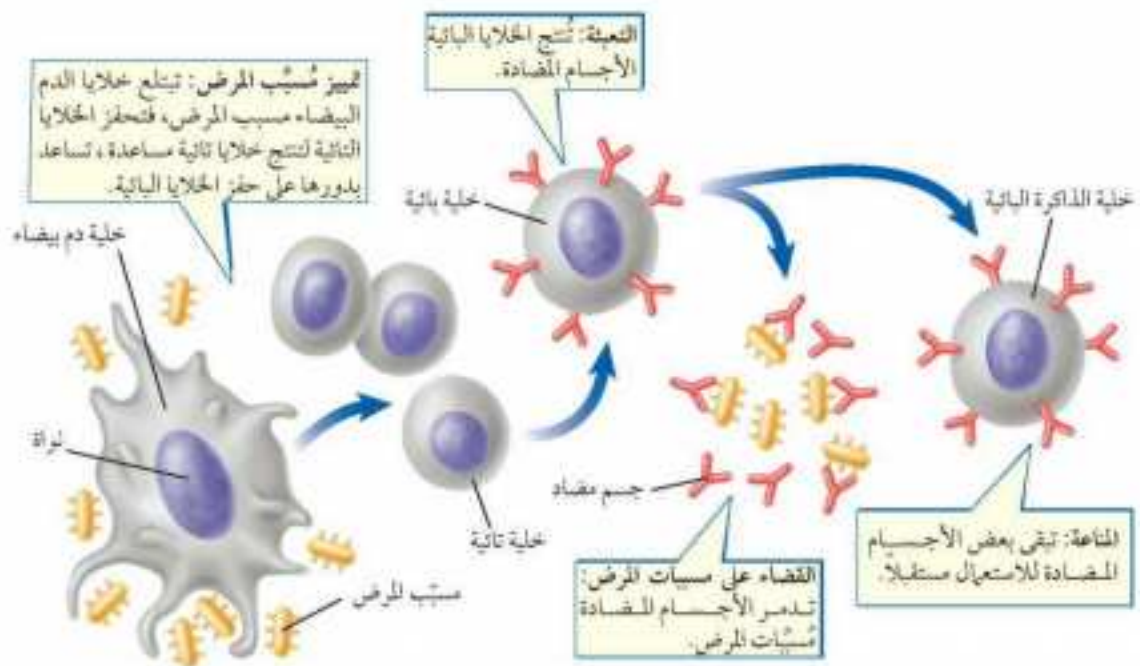
خط الدفاع الأول يمثل الجلد والجهاز التنفسي والجهاز الهضمي والجهاز الدوراني خط الدفاع الأول الذي يمنع مسببات المرض من الدخول إلى الجسم، كما في الشكل ٩. غير أن مسببات المرض قد تستطيع الدخول عبر الجروح أو الفم أو أغشية الأنف والعينين. وتنبط إفرازات الغدد الدهنية في الجلد وإفرازات المجاري التنفسية العليا نموّ مسببات المرض؛ لأنها حمضية، ولا تستطيع بعض مسببات المرض النموّ في البيئة الحمضية.

خط الدفاع الأول الداخلي يعمل الجهاز التنفسي على إعاقة دخول مسببات الأمراض إلى الجسم عن طريق تراكيب شبيهة بالشعيرات تعرف بالأهداب، وعن طريق المخاط المبطن للجهاز التنفسي؛ حيث يحوي هذا المخاط إنزيمات تضعف الجدار الخلوي لبعض مسببات المرض، وعندما تعطس أو تسعل تتخلص من مسببات المرض العالقة. وفي الجهاز الهضمي عدة وسائل دفاعية، منها اللعاب والإنزيمات وحمض الهيدروكلوريك والمخاط. ويحتوي المخاط على مواد تقتل البكتيريا. كما تفرز المعدة والبنكرياس والكبد إنزيمات تساعد على تحطيم مسببات المرض. وتفرز المعدة حمض الهيدروكلوريك الذي يساعد على هضم الطعام، والقضاء على بعض أنواع البكتيريا، وإيقاف نشاط الفيروسات التي تدخل مع الطعام الذي تأكله. كما يحتوي المخاط الذي يبطن القناة الهضمية على مواد كيميائية تحيط بالبكتيريا، وتمنعها من الالتصاق بالطبقة الداخلية فيها.



الشكل ٩ معظم مسببات المرض ومنها البكتيريا لا تستطيع النفاذ عبر الجلد السليم إلى الجسم

البكتيريا مصبوغة، قوة التكبير 1000X



خلايا الدم البيضاء يحتوي جهاز الدوران على خلايا الدم البيضاء، التي تتجول باستمرار بحثاً عن المخلوقات والمواد الكيميائية الغريبة وتهضمها.

الالتهاب عندما يتعرض النسيج للضرر، وتهاجمه بعض مسببات المرض يلتهب؛ ويتحول إلى اللون الأحمر، وترتفع درجة حرارته، ويتنفخ، ويصبح مؤلماً. ويؤدي دخول مسببات المرض إلى انطلاق مواد كيميائية من الخلايا المتضررة، تنتشر عبر جدران الشعيرات الدموية، مما يسمح بتدفق كميات أكبر من الدم إلى منطقة الإصابة، كما تفرز مواد كيميائية أخرى تجذب أنواعاً محددة من كريات الدم البيضاء، تهاجم البكتيريا وتبتلعها. وإذا استطاعت مسببات المرض اختراق خطوط الدفاع الأولى فإن الجسم يلجأ إلى خط الدفاع الثاني، أو المناعة النوعية.

أنواع المناعة

المناعة النوعية عندما يحارب الجسم المرض فإنه يحارب جزيئات معقدة لا تنتمي إليه، تسمى **مولدات الضد Antigens**. وقد تكون مولدات الضد جزيئات منفصلة أو موجودة على سطح مسببات المرض.

وعندما يلاحظ الجهاز المناعي وجود جزيئات غريبة - كما في الشكل ١٠ - تستجيب خلايا لمفية محددة تسمى الخلايا التائية (T-cell)، وخصوصاً الخلايا التائية المسماة الخلايا التائية القاتلة؛ حيث تفرز إنزيمات تساعد على تحطيم المواد الغريبة الدخيلة. يُنشط نوع آخر من الخلايا التائية (T-cell) - يسمى الخلايا التائية المساعدة - جهاز المناعة؛ حيث تحفز نوعاً آخر من الخلايا اللمفية، يعرف بالخلايا البائية (B-cell) لإنتاج الأجسام المضادة. و**الجسم المضاد Antibody** بروتين يشكل استجابة لمولد ضد محدد. ويرتبط الجسم المضاد مع مولد الضد، ويجعله غير فعال.

خلايا الذاكرة خلايا الذاكرة هناك نوع من الخلايا اللمفية تُسمى الخلايا البائية الذاكرة، تحتوي على أجسام مضادة لمولدات ضد معينة؛ لمواجهة أي هجوم جديد من مسبب المرض نفسه.

الشكل ١٠ تكون استجابة الجهاز المناعي لمسببات الأمراض على أربع مراحل: تحديد مسبب المرض، والتعبئة، والقضاء على مسبب المرض، والمناعة. صف وظيفة الخلايا البائية.

تجربة

تحديد معدل التكاثر

الخطوات

1. ضع قطعة نقد على الطاولة. وتخليل قطعة النقد خلية بكتيريا يمكن أن تنقسم كل ١٠ ثوان.
2. ضع قطعتي نقد تحت قطعة النقد الأولى لتكوّن معاً شكلاً مثلث. ويعني ذلك أنه نتج خليتان عن انقسام خلية البكتيريا.
3. كرر ثلاثة انقسامات أخرى، وذلك بوضع قطعتي نقد تحت كل قطعة نقد.
4. احسب عدد خلايا البكتيريا التي تحصل عليها بعد مرور ٥ ساعات. ومثل نتائجك بيانياً.

التحليل

1. ما عدد البكتيريا الناتجة بعد مرور ٥ ساعات؟
2. لماذا نسارع بتناول المضادات الحيوية عندما نصاب بالعدوى؟



في المنزل

المناعة الطبيعية تساعد الأجسام المضادة الجسم على بناء دفاعات بطريقتين، هما: المناعة الطبيعية، والمناعة الاصطناعية. وخلال **المناعة الطبيعية** Active Immunity يقوم الجسم بإنتاج الأجسام المضادة استجابةً لمولد الضد. أما **المناعة الاصطناعية** Passive Immunity فتحدث عندما يُحقن الجسم بالأجسام المضادة التي أنتجتها حيوانات أخرى. وعندما تغزو مسببات المرض الجسم تتضاعف أعدادها بسرعة، فتُصاب بالمرض، فيبدأ الجسم مباشرة في صنع الأجسام المضادة لمحاربة مولد الضد. وعندما تتشكل كمية كافية من الأجسام المضادة فإنك تتحسن. وتبقى بعض الأجسام المضادة في حالة تأهب في الجسم، ويتج العديدها منها بسرعة إذا دخل مسبب المرض نفسه جسمك مرة أخرى. ولهذا فإنك لا تُصاب بأمراض معينة -منها جدري الماء- أكثر من مرة واحدة.

ما الفرق بين المناعة الطبيعية والمناعة الاصطناعية؟

التطعيم الطريقة الأخرى لتكوين المناعة الطبيعية ضد الأمراض هي الحصول على الطعم، ويمكن الحصول عليه بالحقن، أو تناوله عن طريق الفم. ويتكون الطعم من مولدات الضد التي تمنحك مناعة طبيعية ضد مرض معين. يستطيع الطعم وقايتك من الإصابة بالمرض، ولكنه ليس علاجاً؛ فكلما كبرت تصبح عرضة لعدد أكبر من مسببات المرض، وسوف تكتسب مناعة لكل واحد من الأمراض التي تتعرض لها.

المناعة الاصطناعية لا تدوم المناعة الاصطناعية طويلاً، بخلاف المناعة الطبيعية. فعند الولادة يكون الجسم محتوياً على جميع الأجسام المضادة التي تملكها الأم في دمها، إلا أن الأجسام المضادة تبقى عدة أشهر ثم تتحلل. لذا يحتاج الأطفال إلى التطعيم لتطوير جهازهم المناعي، كما في الجدول ٢.

الجدول ٢ : برنامج اللقاحات الجديدة الذي اعتمدته وزارة الصحة في المملكة العربية السعودية

اللقاح	الزيارة	اللقاح	الزيارة
المدرن	الولادة	الثلاثي الفيروسي	١٢ شهر
التهاب الكبد (ب)		الجدري المائي	
شلل الأطفال المعطل	شهرين	شلل الأطفال الفموي	١٨ شهر
(الثلاثي البكتيري ، التهاب الكبد (ب) ، المستدمية النزلية)		(الثلاثي البكتيري ، المستدمية النزلية)	
شلل الأطفال الفموي	٤ شهور	التهاب الكبد (أ)	
(الثلاثي البكتيري ، التهاب الكبد (ب) ، المستدمية النزلية)		التهاب الكبد (أ)	٢٤ شهر
شلل الأطفال الفموي	٦ شهور	شلل الأطفال الفموي	
(الثلاثي البكتيري ، التهاب الكبد (ب) ، المستدمية النزلية)		الثلاثي البكتيري	٦-٤ سنوات
الحصبة المقرة	٩ شهور	الثلاثي الفيروسي	
شلل الأطفال الفموي	١٢ شهر	الجدري المائي	

المرض عبر التاريخ

قتلت الأنفلونزا وجذري الماء والطاعون ملايين الأشخاص حول العالم عبر الزمن. أما اليوم فقد عرفنا بحمد الله مسببات هذه الأمراض، كما توافر لنا العلاج الذي قد يقينا أو يشفيها منها. إلا أن هناك بعض الأمراض التي لم نكتشف علاجها حتى يومنا هذا، كما انتشرت أمراض أخرى جديدة كأمراض الجهاز التنفسي المزمنة.

اكتشاف المخلوقات المسببة للمرض عندما أُخترَ المجهر المركب في أواخر القرن السابع عشر كانت البكتيريا والخميرة وأبواغ الفطريات تُشاهد لأول مرة. ولكن العلماء لم يربطوا بين المخلوقات الحية الدقيقة وانتقال الأمراض إلا أواخر القرن التاسع عشر وبداية القرن العشرين.

توصل الكيميائي الفرنسي لويس باستور إلى أن المخلوقات الحية الدقيقة تسبب الأمراض للإنسان، إلا أن العديد من العلماء لم يصدقوا أن مخلوقات بهذا الحجم قد تسبب الضرر للمخلوقات الحية الضخمة كالإنسان. وقد اكتشف باستور أن المخلوقات الحية الدقيقة تسبب تلف الحليب، وأنها تهاجم جسم الإنسان بالطريقة نفسها، فابتكر عملية البسترة (pasteurization)، وهي عملية تسخين السائل إلى درجة حرارة معينة تقتل معظم البكتيريا عندها.

المخلوقات المسببة للمرض يوضح الجدول ٣ بعض الأمراض ومُسبباتها؛ حيث تسبب البكتيريا والفيروسات مجموعة من الأمراض المشهورة.

الجدول ٣، أمراض تصيب الإنسان، ومسبباتها

المُسبب	المرض
البكتيريا	التيتانوس، السل، التيفوئيد، التهاب الحلق، التهاب الرئة البكتيري، الطاعون.
الأوليات	الملاريا، مرض النوم.
الفطريات	مرض قدم الرياضي، القوباء الحلقية.
الفيروسات	الرشح، الأنفلونزا، الإيدز، النكاف، شلل الأطفال، الجدري، التهاب الرئوي المزمن.

الربط مع

علم الأرض



المضادات الحيوية تحتوي التربة على العديد من المخلوقات الحية الدقيقة، بعضها ضار مثل البكتيريا المسببة لمرض التيتانوس، وبعضها الآخر مفيد. تُعالج بعض الإصابات باستعمال المضادات الحيوية المصنوعة من البكتيريا والفطريات الموجودة في التربة، ومن هذه المضادات الستيرومايسين.

اكتب في دفتر العلوم ملخصاً عن عقار الستيرومايسين.

مُسببات المرض تساعد حالة الجسم - ومنها درجة حرارته والمواد الغذائية التي يحصل عليها - البكتيريا الضارة التي تدخل الجسم على النمو والتضاعف فيه. وتعمل البكتيريا على تقليل معدل نمو ووظائف خلايا الجسم وأنسجته، كما أن بعض البكتيريا تنتج مواد سامة تقتل الخلايا المحيطة بها. وتهاجم الفيروسات الخلايا المضعفة، وتتضاعف داخلها، ثم تحطم الخلية المضعفة لتخرج منها، وتهاجم الفيروسات الجديدة بدورها خلايا أخرى، مما يؤدي إلى تدمير النسيج، أو إعاقة نشاطات الجسم الحيوية.

✓ **ماذا نلزم؟** ما العلاقة بين الفيروسات والخلايا المضعفة؟

تستطيع الأوليات الضارة - ومنها المسيبة لمرض الملاريا - تدمير الأنسجة وخلايا الدم، وقد تتدخل في وظائف الجسم الطبيعية. وبالطريقة نفسها تسبب الفطريات الإصابة بمرض القدم الرياضي والتأخر في إلتئام الجروح.

الأمراض المعدية

تسمى الأمراض الناتجة عن الفيروسات أو البكتيريا أو الأوليات أو الفطريات، التي تنتقل من المخلوق المصاب أو من البيئة إلى مخلوق حي آخر **الأمراض المعدية** Infectious disease. تنتقل الأمراض المعدية عن طريق الاتصال المباشر بالمخلوق الحي المصاب، أو خلال الماء والهواء، أو في الطعام، أو باستعمال الأدوات الملوثة، أو الاتصال بالمخلوقات الحية الحاملة للمرض أو ما يعرف بالناقل الحيوي، ومنها حاملات المرض من الفئران والطيور والكلاب والبعوض والذباب، كالمبين في الشكل ١١.

حاملات المرض البشرية كذلك ينقل الأشخاص المصابون الأمراض - فالرشح مثلاً والعديد من الأمراض الأخرى تنتشر عن طريق الاتصال المباشر والتلامس.

ففي كل مرة تمسك فيها مقبض الباب أو تستعمل الهاتف يلامس جلدك البكتيريا والفيروسات. لهذا يجب أن تغسل يديك باستمرار، وأن يكون ذلك جزءاً من حياتك اليومية. لاحظ الجراح الإنجليزي جوزيف ليستر العلاقة بين الإصابة بالمرض وعدم النظافة، وبذلك استطاع خفض عدد الوفيات بين مرضاه بغسل جلودهم ويديه بحمض الكاربوليك السائل لقتل مسببات المرض.

الشكل ١١ عندما يقف الذباب على الطعام ينقل مسببات المرض من مكان إلى آخر.



قوانين كوخ

قوانين كوخ يمكن علاج العديد من الأمراض التي تؤدي مسببات المرض إلى الإصابة بها باستعمال الأدوية. وفي الكثير من الحالات يجب تحديد هذه المخلوقات قبل بدء العلاج. ولتحديد هذه المخلوقات تستعمل طريقة وضعها العالم روبرت كوخ في القرن التاسع عشر، ولا تزال تستعمل إلى الآن. انظر الشكل ١٢.

الشكل ١٢

وضع الطبيب الألماني روبرت كوخ في القرن التاسع عشر سلسلة من الطرائق لتحديد المخلوق الحي المسبب لمرض ما. وما زالت قوانين كوخ تُستعمل إلى عصرنا هذا. وقد تم تطوير هذه الطرائق لتعرف مسببات أمراض معينة تصيب الإنسان والحيوانات، إلا أنها تستعمل كذلك لتحديد مسببات الأمراض في النباتات.



بكتيريا الجمرة الخبيثة



ب يجب أن يفصل مسبب المرض المتوقع عن بقية المخلوقات الحية الأخرى، وأن يُنسى في آجار بمعزل عن بقية المخلوقات.

ا في أي حالة مريض يجب أن يكون هناك مسبب للمرض.



بكتيريا الجمرة الخبيثة



ج عندما يُحقن الحيوان السليم بمسبب المرض فإنه يُصاب بالمرض.

د وأخيراً، عندما يُؤخذ مسبب المرض من المضيف ويُنسى مرة أخرى في الآجار، يجب مقارنته بالمخلوق الأصلي، فإذا طابقت كان هو مسبب المرض.

الأمراض المنقولة جنسياً يقصد بالأمراض الجنسية الأمراض التي تنتقل من شخص إلى آخر خلال الاتصال الجنسي، وتسمى اختصاراً (STDs). وتنتج هذه الأمراض بسبب البكتيريا أو الفيروسات.

ومن الأمراض الجنسية التي تسببها البكتيريا السيلان والسفلس (الزهري). وتُستعمل المضادات الحيوية لعلاج تلك الأمراض التي تسبب الضرر للمصاب بها؛ فقد يصاب مريض السيلان بالعقم بسبب تدمير الأعضاء التناسلية، أما مريض السفلس (الزهري) فتهاجم البكتيريا أوعيته القلبية وجهازه العصبي؛ مما يؤدي إلى تدمير أعضاء الجسم التي لا يمكن تعويضها.

وأما قوباء الأعضاء التناسلية (الهريس) فهو مرض فيروسي مزمن يسبب آلاماً وتقرحات في الأعضاء التناسلية. ويتنقل هذا النوع من القوباء عن طريق الاتصال الجنسي، أو من الأم المصابة إلى ابنها خلال عملية الولادة. ولا يوجد علاج أو طعم للوقاية من الإصابة بالقوباء، ولكن يمكن علاج الأعراض بالأدوية المضادة للفيروسات.

✓ **ماذا قرأت؟** لماذا يجب علاج الأمراض الجنسية في مراحلها الأولى؟

تطبيق العلوم

هل تغيرت النسب السنوية للوفيات بسبب الأمراض؟

النسبة السنوية للوفيات بسبب الأمراض				الأمراض
السنوات				
٢٠٠٠	١٩٩٠	١٩٨٠	١٩٥٠	
٢٩,٦	٣٣,٥	٣٨,٣	٣٧,١	القلب
٢٣,٠	٢٣,٥	٢٠,٩	١٤,٦	السرطان
٧,٠	٦,٧	٨,٦	١٠,٨	السكتة الدماغية
٢,٩	٢,٢	١,٨	١,٧	السكري
٢,٧	٣,٧	٢,٧	٣,٣	أمراض الرئة والأنفلونزا

يموت كثير من الأشخاص كل عام بسبب الأمراض. وقد اكتشف علم الدواء طرائق مختلفة للعلاج. فهل قللت الأدوية وتقنيات الجراحة ونمط الحياة الصحي من عدد الوفيات التي يسببها المرض؟ يمكنك - من خلال تحليل المعلومات الواردة في الجدول - القيام بما يلي:

تحديد المشكلة

يظهر الجدول نسبة مجموع الوفيات بسبب خمسة أمراض رئيسة خلال الخمسين سنة الماضية. ادرس المعلومات الواردة عن كل مرض. هل تستطيع رؤية مسار محدد لنسبة الوفيات؟

حل المشكلة

١. هل زادت النسبة في أي من الأمراض المذكورة أعلاه؟
٢. ما العوامل المشتركة التي أدت إلى الزيادة؟

فيروس HIV وجهاز المناعة

يهاجم فيروس نقص المناعة المكتسبة (HIV) الدم وسوائل الجسم المختلفة. ويستطيع هذا الفيروس التخفي في الجسم أحياناً عدة سنوات. ويصاب الشخص بفيروس الإيدز خلال الاتصال الجنسي، أو عند استعمال الحقن الملوثة بهذا الفيروس. أما احتمال نقله خلال عمليات نقل الدم فنادر؛ وذلك لأن الدم المثبرع به يتم فحصه. كما ينتقل المرض من الأم المصابة إلى الجنين عبر المشيمة، أو خلال اختلاط الدم في أثناء عملية الولادة أو خلال خطة التمريض بعد الولادة.

الإيدز يسبب فيروس HIV الإصابة بمتلازمة نقص المناعة المكتسبة (AIDS)، وهو مرض يهاجم جهاز المناعة. ويختلف HIV في الشكل ١٣ عن بقية الفيروسات؛ لأنه يهاجم الخلايا التائية في جهاز المناعة، ويتضاعف داخلها، فتفجر لتخرج فيروسات جديدة تهاجم خلايا تالية أخرى، وبذلك لا تُستثار أعداد كافية من الخلايا البائية لإنتاج الأجسام المضادة ومحاربة الفيروس. وبهذا لا يملك الجسم وسيلة فعالة لمحاربة مولدات الضد، ويصبح جهاز المناعة غير قادر على مكافحة فيروس HIV ومسببات المرض الأخرى.

في نهاية عام ٢٠٠٥ م كان عدد المصابين بفيروس HIV (٤ - ٣٣, ٥ - ٤٦, ٥) مليون مصاب، ولم يكتشف علاج لهذا المرض حتى الآن، إلا أن هناك أدوية تساعد على علاج الإيدز عند بعض الأشخاص.

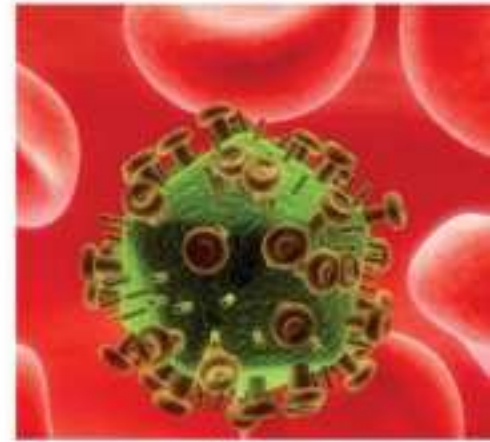
مكافحة الأمراض

يُعد غسل الجرح الصغير بالماء والصابون الخطوة الأولى للوقاية من الإصابة بالالتهاب، وتنظيفه بالمطهر وتغطيته بالشاش هو الخطوة الثانية. هل صحيح أن الاستحمام بقي الجسم من الأمراض؟ نعم؛ فبالإضافة إلى التخلص من رائحة العرق، فإن الاستحمام يزيل بعض المخلوقات الحية الدقيقة، ويقضي عليها. كما أن تنظيف الأسنان يومياً بالفرشاة والمعجون يحميها من التسوس وانبعاث الرائحة الكريهة منها.

اختيارات صحية إن التمارين الرياضية والتغذية الجيدة يساعدان جهاز الدوران وجهاز التنفس في الجسم على العمل بفاعلية. كما أن العادات الصحية كأخذ قسط من الراحة والأكل الجيد المتوازن يجعلك أقل عرضة للإصابة بالمرض الناتج عن المخلوقات الحية المسيية له، كفيروسات الرشح والأنفلونزا. إن اتباع النصائح وإجراء الفحص السنوي يساعد كذلك على تمتعك بصحة جيدة.

الأمراض المزمنة

ليست الأمراض كلها معدية، فبعض الأمراض كالسكري والسرطان وأمراض القلب **غير معدية Noninfectious**، أي لا تنتقل من شخص إلى آخر. كما أن العديد منها مزمن، أي أن المصاب يعاني منه فترات طويلة. وبعض الأمراض المزمنة يمكن علاجها، وبعضها لا يمكن علاجها.



صورة توضيحية لفيروس HIV (البنية الأربعة)

الشكل ١٣ قد يُصاب الشخص بفيروس HIV ولا تظهر الأعراض عليه عدة سنوات، قسّر لماذا تساعد هذه الخاصية على انتشار مرض الإيدز؟



الحساسية يُصاب العديد من الأشخاص بالحساسية من مواد التجميل أو المحار أو الفراولة أو الفول أو لدغ الحشرات. **والحساسية** Sensitivity هي تفاعل جهاز المناعة بشدة ضد المواد الغريبة. وتكون معظم تفاعلات جهاز المناعة خفيفة. أما تفاعلات الحساسية الحادة فقد تؤدي إلى صدمة كبيرة أو إلى الموت إذا لم تعالج بسرعة.

وتُسمى المادة التي تسبب الحساسية مواد مثيرة للتحسس، ومنها بعض المواد الكيميائية وبعض الأطعمة وجيوب اللقاح، وبعض المضادات الحيوية والغبار. فمثلاً يحتوي الغبار وشعر بعض الحيوانات الأليفة على عث الغبار، وهو أحد مسببات التحسس، انظر الشكل ١٤. عندما تتعرض لمسببات الحساسية فإن الجهاز المناعي يُكوّن أجساماً مضادة، كما يفرز الجسم مادة الهستامين التي تعمل على احمرار الأنسجة وتورمها. ويستعمل لعلاج هذه الحالة مضادات الهستامين. أما بعض حالات التحسس الحادة فتعالج بحقن كميات قليلة من مسبب المرض للشخص عدة مرات، مما يجعل جسمه أقل حساسية للمادة المسببة للتحسس.

السكري مرض مزمن ينتج عن حدوث خلل في مستويات الأنسولين التي يفرزها البنكرياس. والأنسولين هرمون يؤدي إلى انتقال الجلوكوز من مجرى الدم إلى خلايا الجسم. لاحظ الأطباء أن هناك نوعين من السكري، في النوع الأول يفرز الأنسولين بكميات قليلة أو لا يفرز بشكل طبيعي. أما في النوع الثاني فإن الجسم يكون عاجزاً عن الاستجابة للأنسولين نهائياً. وتتضمن أعراض السكري الإعياء، والعطش والتبول المتكرر، والشعور بالخدر في أطراف اليدين والقدمين. وإذا بقي مستوى السكر عالياً في الدم فترة طويلة فإن مشكلات صحية أخرى قد تتطور، ومنها الرؤية الضبابية والفشل الكلوي والنوبة القلبية والسكتة الدماغية، كما يمكن أن يفقد المريض إحساسه بقدميه ويفقد وعيه وتسمى (غيوبة السكري).

السرطان

يطلق هذا الاسم على مجموعة من الأمراض التي تنتج عن عدم السيطرة على نمو وتكاثر الخلايا. ويعد السرطان من الأمراض المعقدة التي لم يكتشف أحد حتى الآن كيف تتكون. ولكي تتعرف خصائص الخلايا السرطانية انظر الجدول ٤. ويمكن للورم أن يتكون في أي جزء من الجسم، ثم تغادر الخلايا السرطانية الورم، وتنتشر عبر الدم والأوعية اللمفية إلى أجزاء الجسم كله.

✓ **ماذا قرأت؟** كيف ينتشر السرطان في الجسم؟

الشكل ١٤ عث الغبار حشرة صغيرة جداً، أصغر من النقطة، تعيش في الوسائد والسجاد والأثاث.

الجدول ٤ ، خصائص الخلايا السرطانية

لا يمكن السيطرة على نمو الخلايا.

لا تعمل هذه الخلايا كجزء من جسمك.

تضغط الخلايا على الأنسجة وتعيق عملها.

تنتشر الخلايا في الجسم.

تنتج الخلايا ورمًا ونموًا غير طبيعي في الجزء المصاب من الجسم.

الأسباب في أواخر القرن الثامن عشر لاحظ فيزيائي بريطاني العلاقة بين السناج (هباب الفحم أو السخام) وإصابة عمال تنظيف المداخن بالسرطان. ومنذ ذلك الوقت عرف العلماء الكثير عن مسببات السرطان. كما أثبتت أبحاث أجريت بين العامين ١٩٤٠م و١٩٥٩م علاقة السرطان بالجينات.

لا تُعرف مسببات السرطان جميعها، إلا أنه تم تحديد العديد منها، فالتدخين مثلاً يسبب سرطان الرئة، كما أن التعرض لبعض المواد الكيميائية يزيد احتمال الإصابة بالسرطان. وتُسمى هذه المواد بالمُسَرِّطَات، ومنها الإسبستوس والمُديبات المختلفة والمعادن الثقيلة والكحول، والمواد الكيميائية المستعملة في الحدائق والبيوت. كما أن التعرض للأشعة السينية والأشعة النووية والأشعة فوق البنفسجية وأشعة الشمس يزيد احتمال الإصابة به.

الوقاية ربما تساعد معرفة بعض أسباب السرطان على الوقاية منه. ومن المهم في هذا الشأن تعرّف الأعراض والعلامات المبكرة للسرطان والموضحة في الجدول ٥. إن العناية الطبية والعلاج - ومنه العلاج الكيميائي أو الجراحة - في المراحل الأولى من الإصابة ببعض أنواع السرطان قد يؤدي إلى الشفاء، أو إبقاء السرطان غير نشط كخطوة أولى للوقاية من السرطان. أما الخطوة الثانية في الوقاية من السرطان فهي اختيارك للحياة الصحية، ومن أهمها الامتناع عن التدخين، واجتناب المشروبات المحرمة، وبذلك يقل احتمال الإصابة بسرطان اللثة والرئة، والكثير من الأمراض المرتبطة بجهاز التنفس والدوران. إن اختيار الوجبات الصحية القليلة الدهون والملح والسكر يقلل احتمال تطور السرطان. كما أن استعمال واقيات الشمس وتقليل فترة التعرض لأشعة الشمس هي الطريقة المثلى للوقاية من سرطان الجلد. كذلك فإن التعامل بحذر مع المواد الكيميائية الضارة التي تستعمل في المنزل يساعد على الابتعاد عن خطر هذه المواد.

الجدول ٥ ، التحذيرات المبكرة للسرطان

تغير في عادات الإخراج والتبول

ألم لا ينتهي

نزيف غير عادي أو إفرازات

تصلب أو ورم في الصدر أو أي مكان آخر

صعوبة في الهضم أو البلع

تغير واضح في التآكل أو الشامات

سعال مزعج أو بحة الصوت

اختبر نفسك

١. صف. كيف تسبب البكتيريا الممرضة مرض الجسم؟
٢. عدّد خطوط الدفاع الطبيعية في الجسم.
٣. فسر. كيف يعمل الطعم على حماية الإنسان؟
٤. اذكر مثلاً على مرض معدٍ ينتج عن كل مما يلي: الفيروسات، البكتيريا، الأوليات، الفطريات.
٥. قارن. كيف يؤثر HIV في جهاز المناعة مقارنة بالفيروسات الأخرى؟
٦. فسر. لماذا يُصنّف السكري في الأمراض غير المعدية؟
٧. وضح كيف تسهم النظافة في عدم انتشار المرض؟
٨. صف. كيف يستجيب الجسم للمواد المثيرة للتحسس؟
٩. التفكير الناقد. العديد من الأمراض لها أعراض تشبه الحصبة. فلماذا لا يحميك تطعيم الحصبة من الإصابة بهذه الأمراض؟

تطبيق المهارات

١٠. عمل نماذج اصنع نماذج للخلايا التائية، ومولد الضد، وخلايا B باستعمال الصلصال والورق أو مواد أخرى، ثم استعن بها على تفسير طريقة عمل الخلايا التائية في جهاز المناعة.
١١. عمل مخطط ارسم مخططاً تبيين فيه عدد الوفيات بين الأطفال الذين تقل أعمارهم عن ١٣ عاماً بسبب الإيدز، مستعيناً بالبيانات التالية:
١٩٩٥ - ٥٣٦، ١٩٩٦ - ٤٢٠، ١٩٩٧ - ١١٥، ١٩٩٨ - ٢٠٩، ١٩٩٩ - ٧٦.

الخلاصة

خطوط الدفاع

- الهدف الرئيس لجهاز المناعة هو محاربة الأمراض.
- إن الجلد والجهاز التنفسي والهضمي والدوراني هي خطوط الدفاع الأولى.
- تشكل المناعة النوعية خط الدفاع الثاني.
- ينتج الجسم في المناعة الطبيعية الأجسام المضادة استجابة لمولدات الضد.
- قد يُكسب التطعيم مناعة طبيعية للجسم ضد بعض الأمراض.
- تُكتسب المناعة الاصطناعية عندما يحقن الجسم بأجسام مضادة نتجت في أجسام الحيوانات.

المرض عبر التاريخ

- قام باسطور وليستر باكتشافات مهمة عن مسببات المرض، وكيفية منع انتشاره.

فيروس HIV وجهاز المناعة

- تسبب البكتيريا والفطريات والأوليات والفيروسات الأمراض المعدية.
- تنتقل الأمراض الجنسية خلال الاتصال الجنسي، وتنتج عن البكتيريا والفيروسات.
- تسبب الإصابة بفيروس HIV مرض الإيدز وهو مرض يصيب جهاز المناعة.

مكافحة المرض

- تساعد العادات الصحية على منع انتشار الأمراض.

الأمراض المزمنة والسرطان

- الحساسية والسكري والسرطان أمراض مزمنة غير معدية.
- يساعد الكشف المبكر واختيار نمط الحياة على علاج بعض أنواع السرطان أو منع الإصابة بها.

تفاعلات فصيلة الدم

توجد المخلوقات الحية الدقيقة في كل مكان، لذلك فإن غسل اليدين واستعمال المواد المطهرة يساعدان على إزالة بعض هذه المخلوقات.

سؤال من واقع الحياة



يصنف دم الإنسان إلى 4 فصائل رئيسية، هي: A، B، AB، O. وتحدد هذه الفصائل اعتماداً على وجود أو غياب مولدات ضد على سطح خلايا الدم الحمراء. بعد أن يجمع الدم في كيسه يختبر لتحديد فصيلته. ويكتب على الكيس بوضوح نوع فصيلة الدم، ويسرد الدم للحفاظ عليه نقياً لنقله في أي وقت. ما الذي يحدث عندما يتم مزج عيتي دم من فصيلتين مختلفتين؟

تكوين فرضية

اعتماداً على قراءتك وملاحظاتك، كوّن فرضية توضح فيها كيف تتفاعل فصائل الدم معاً.

اختبار الفرضية

أعمل خطة

1. اتفق مع مجموعتك على فرضية ما، وقررُوا كيف تختبرونها، ثم حددوا النتائج التي تؤكد وتعزز الفرضية.
2. **أعمل قائمة** بالخطوات التي ستخذها والمواد التي تحتاج إليها لاختبار فرضيتك، صف بدقة الإجراءات التي ستخذها في كل خطوة.
3. **حضر** جدول بيانات كالموضح أدناه على دفتر العلوم لتسجيل ملاحظاتك.
4. أعد قراءة التجربة كلها للتأكد من منطقية ترتيب الخطوات.
5. **حدد** الثوابت والمتغيرات، واستعمل فصيلة الدم O بوصفها عاملاً ضابطاً.

تفاعلات فصيلة الدم	
تختبر الدم (نعم أم لا)	فصيلة الدم
	A
	B
	AB
	O

الأهداف

- **تصمم** تجربة تحاكي التفاعل بين فصائل الدم المختلفة.
- **تحدد** أي فصائل الدم يمكن أن تمنح فصيلة دم أخرى.

المواد والأدوات

- دم زائف (١ مل حليب قليل الدسم و ١ مل من الماء + صبغة طعام حمراء)
- عصير ليمون كمولد ضد A (لفصائل الدم O، B)
- ماء كمولد ضد A (لفصائل الدم BA، A)
- قطارات
- مخبر مدرج سعته ١ مل
- كؤوس ورقية صغيرة
- قلم تخطيط
- أنابيب اختبار

إجراءات السلامة



تحذير. لا تتذوق أو تأكل أو تشرب أيًا من مواد المختبر.

استخدام الطرائق العلمية

تنفيذ الخطة

١. اطلب إلى معلمك الموافقة على خططك واختياراتك للعوامل الثابتة والعوامل المتغيرة، والضوابط قبل بدء التجربة.
٢. نفذ التجربة بناءً على الخطة.
٣. سجل ملاحظاتك في جدول البيانات الذي أعدته في دفتر العلوم أو في الحاسوب، خلال إجراء التجربة.

تحليل البيانات

١. قارن بين التفاعلات في كل فصيلة دم (A ، B ، AB ، O) عندما يضاف مولد ضد A إلى الدم.
٢. لاحظ أين يحدث التخرس؟
٣. قارن نتائجك بنتائج المجموعات الأخرى.
٤. ما العامل الضابط في هذه التجربة؟
٥. ما متغيراتك؟

الاستنتاج والتطبيق

١. هل تدعم نتائجك فرضيتك؟ وضح ذلك.
٢. توقع ماذا يمكن أن يحدث لشخص إذا لم تتوافق مولدات ضد أخرى بدقة مع فصيلة دمه.
٣. ماذا يمكن أن يحدث عند إضافة مولد ضد B إلى كل فصائل الدم؟

تواصل

بياناتك

اكتب تقريرًا مختصرًا عن كيفية تحديد فصائل الدم. صف أهمية أن تعرف ذلك قبل عملية نقل الدم.





ابن النفيس مكتشف

الدورة الدموية الصغرى

يقول ابن النفيس :

إن الدم يتقضى في الرئتين من أجل استمرار الحياة وإكساب الجسم القدرة على العمل، حيث يخرج الدم من البطين الأيمن إلى الرئتين، فيمتزج بالهواء، ثم إلى البطين الأيسر.

الأمراض وعلم وظائف الأعضاء، كما صوّب فيه العديد من نظريات ابن سينا. وبعد وقت قصير بدأ العمل على كتابه "الشامل في الصناعة الطبية"، الذي نشر منه ٤٣ مجلداً في عام ١٢٤٤م، وعلى مدى العقود التالية، كتب ٣٠٠ مجلد، لكنه لم يستطع نشر إلا ٨٠ مجلداً فقط قبل وفاته.

ظل اكتشاف ابن النفيس للدورة الدموية الصغرى (الرئوية) مجهولاً للمعاصرين، حتى عثر الطبيب المصري محيي الدين التطاوي عام ١٩٢٤م، في أثناء دراسته لتاريخ الطب العربي، على مخطوط في مكتبة برلين بعنوان "شرح تشريح القانون"، فعني بدراسته وأعد حوله رسالة للدكتوراه من جامعة فرايبورج بألمانيا، موضوعها "الدورة الدموية تبعاً للقرشي". وقد نشر المؤرخ جورج سارتون في كتابه "مقدمة إلى تاريخ العلوم" هذا الاكتشاف.

ولد أبو الحسن علاء الدين علي القرشي دمشقي الملقب بابن النفيس في قرية قرش بالقرب من دمشق. وهو عالم وطبيب عربي مسلم، له إسهامات كثيرة في الطب، ويعد مكتشف الدورة الدموية الصغرى، وأحد رواد علم وظائف الأعضاء في الإنسان؛ فقد وضع نظريات يعتمد عليها العلماء إلى الآن. وقد ظل الغرب يعتمدون على نظريته حول الدورة الدموية، حتى اكتشف ويليام هارفي الدورة الدموية الكبرى. ففي عام ١٢٤٢م، نشر ابن النفيس أكثر أعماله شهرة، وهو كتاب "شرح تشريح القانون لابن سينا"، الذي تضمن العديد من الاكتشافات التشريحية الجديدة، وأهمها نظريته حول الدورة الدموية الصغرى، وحول الشريان التاجي. وقد اعتبر هذا الكتاب أحد أفضل الكتب العلمية التي شرحت بالتفصيل موضوعات علم التشريح وعلم

تقرير، ابحث عن أحد علماء العرب المعاصرين الذين كانوا بارعين في أحد حقول العلوم، واذكر اسمه، وإسهاماته العلمية، وكيف توصل إلى اكتشافاته، واعرض ذلك على زملائك في الصف.

العلوم
ببر المواقع الإلكترونية

ارجع إلى المواقع الإلكترونية عبر شبكة الإنترنت.



دليل مراجعة الفصل

مراجعة الأفكار الرئيسية

الدرس الثاني المناعة والمرض

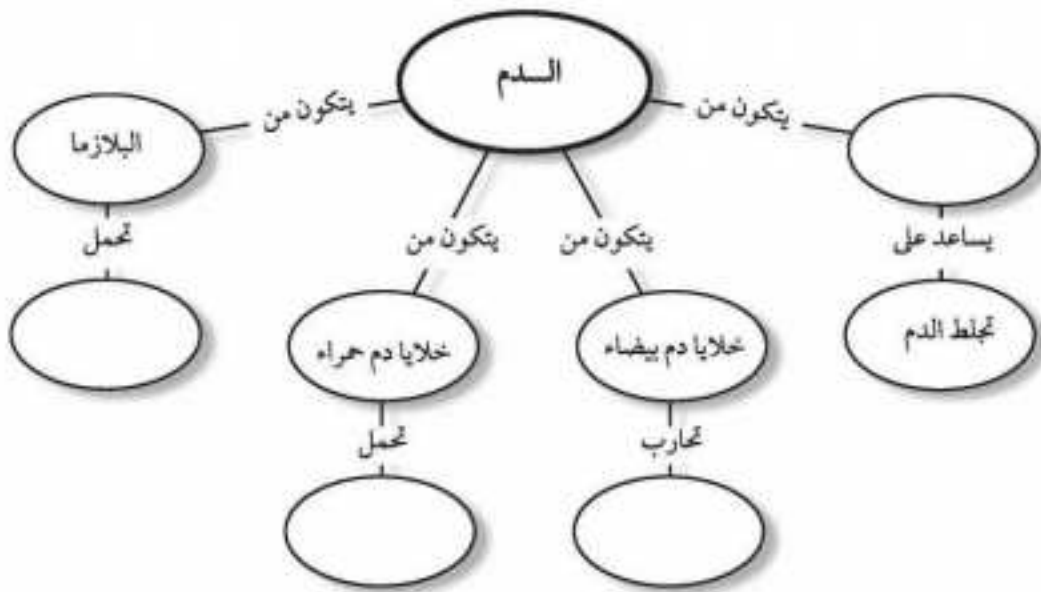
١. يدافع جهاز المناعة عن الجسم ويحميه من مسببات الأمراض.
٢. تدوم المناعة الطبيعية فترة طويلة، بخلاف المناعة الاصطناعية.
٣. اكتشف العالمان باستور وكوخ أن الأحياء الدقيقة تسبب الأمراض.
٤. تسبب البكتيريا والفيروسات والفطريات والأوليات الأمراض المعدية.
٥. يحطم HIV جهاز المناعة في الجسم ويسبب الإصابة بالإيدز.
٦. تنتج الأمراض غير المعدية كالسكري والسرطان عن سوء التغذية والمواد الكيميائية واختلال يؤثر في وظائف الخلايا.

الدرس الأول الدم والدورة الدموية

١. تحمل خلايا الدم الحمراء الأكسجين وثاني أكسيد الكربون، بينما تكوّن الصفائح التخثر، أما خلايا الدم البيضاء فتدافع عن الجسم.
٢. تحدّد فصائل الدم A، B، AB، O من خلال وجود مولد الضد على خلايا الدم الحمراء أو عدم وجوده.
٣. تحمل الشرايين الدم من القلب في حين تحمله الأوردة إلى القلب. أما الشعيرات الدموية فتصل الشرايين بالأوردة.
٤. يمكن تقسيم الدورات الدموية إلى ثلاث دورات: الدورة القلبية، والرئوية، والجسمية.
٥. ينظم اللمف ترشيح القلب، وينتج خلايا الدم البيضاء، ويحطم خلايا الدم التالفة.

تصور الأفكار الرئيسية

أعد رسم الخريطة المفاهيمية التالية حول أجزاء الدم، ثم أكملها.



١٠. أي مما يلي يحمل الأكسجين في الدم؟

- أ. خلايا الدم الحمراء ج. الصفائح الدموية
ب. خلايا الدم البيضاء د. اللعف

استعمل الجدول أدناه للإجابة عن السؤال ١١.

فصائل الدم		
فصيلة الدم	مولد الضد	الجسم المضاد
A	A	المضاد-B
B	B	المضاد-A
AB	B,A	لا يوجد
O	لا يوجد	المضاد-A المضاد-B

١١. من خلال الجدول السابق، أي نوع من مولدات الضد تحتوي عليه فصيلة الدم O؟

- أ. A ج. B

ب. A و B د. لا يوجد مولدات ضد

١٢. أين يدخل الدم الغني بالأكسجين أولاً؟

- أ. الأذين الأيمن ج. الأذين الأيسر
ب. البطين الأيمن د. البطين الأيسر

١٣. ما الذي يتكون في الدم لمحاربة مولدات الضد؟

- أ. الهرمونات ج. المواد المسببة للحساسية
ب. مستضات المرض د. الأجسام المضادة

١٤. أي الأمراض التالية سببه فيروس يهاجم خلايا الدم البيضاء؟

- أ. الإيدز ج. الحصبة
ب. الأنفلونزا د. شلل الأطفال

استخدام المضردات

املأ الفراغ فيما يلي بالكلمة المناسبة:

١. مادة كيميائية في خلايا الدم الحمراء.
٢. أجزاء خلوية تساعد على تجلط الدم.
٣. تحدث عندما يتكوّن الجسم الأجسام المضادة الخاصة به.
٤. تحفز إفراز الهستامين.
٥. يسمى تسخين سائل لقتل البكتيريا الضارة فيه.

تثبيت المفاهيم

اختر الإجابة الصحيحة فيما يلي:

٦. أين تحدث عملية تبادل الغذاء والأكسجين والفضلات؟
أ. الشرايين ج. الشعيرات
ب. الأوردة د. الأوعية اللمفية
٧. ما الذي يسبب الأمراض المعدية؟
أ. الوراثة ج. التحسس
ب. المواد الكيميائية د. المخلوقات الحية
٨. أين يكون ضغط الدم أكبر ما يمكن؟
أ. الشرايين ج. الشعيرات الدموية
ب. الأوردة د. الأوعية اللمفية
٩. أي الخلايا تهاجم مسببات المرض؟
أ. خلايا الدم الحمراء ج. الصفائح الدموية
ب. خلايا الدم البيضاء د. الخلايا العصبية

٢١. قُتِر نسبة الإصابة بشلل الأطفال بين عامي ١٩٥٢م و١٩٦٥م. ما النتيجة التي توصلت إليها حول استعمال طعم شلل الأطفال؟

أنشطة تقويم الأداء

٢٢. الرسم العلمي جهاز رسماً علمياً لقلب إنسان، وعنون أجزاءه الرئيسة، مستعيناً بالأسهم لتوضيح اتجاه مسار الدم فيه.

٢٣. ملصق صمم ملصقاً يوضح شخصاً مصاباً بالأنفلونزا، وكيف ينقل المرض بين أفراد عائلته وزملائه في الصف وغيرهم؟

٢٤. كتيب أعد كتيباً تصف فيه عملية زراعة القلب، ولماذا يُعطى المريض علاجاً لتثبيط جهاز المناعة لديه؟ وصف فيه حياة المريض بعد إجراء الجراحة.

تطبيق الرياضيات

٢٥. نسبة خلايا الدم. يحتوي ملمتر مكعب واحد (١ مم^٣) من الدم على ٥ ملايين خلية دم حمراء تقريباً، و٧٥٠٠٠ خلية دم بيضاء، و٤٠٠٠٠٠٠٠ صفيحة دموية. جد مجموع كل من خلايا الدم الحمراء والبيضاء والصفائح الدموية في ١ مم^٣ من الدم. واحسب نسبة كل منها إلى المجموع.

التفكير الناقد

١٥. قارن بين عمر خلايا الدم الحمراء وخلايا الدم البيضاء والصفائح الدموية.

١٦. تتبع مراحل تجلط الدم منذ حدوث جرح إلى تكوّن القشرة.

١٧. قارن بين وظيفة كل من الشريان، والوريد، والشعيرات الدموية.

١٨. حلّل فيم تختلف الأجسام المضادة، ومولدات الضد، والمضادات الحيوية؟

١٩. ميّز السبب والنتيجة استعن بالمكتبة على معرفة مسبب الأمراض (بكتيريا، فيروس، فطريات، أوليات) لكل من الأمراض التالية: الأيدز، الرشح، الدوستاريا، القدم الرياضي، الأنفلونزا، التهاب الملتحمة، حبّ الشباب.

٢٠. صنف ارسم جدولاً مستعملاً برنامج معالج النصوص لتصنيف الأمراض التالية إلى مُعدية وغير معدية: السكري، السيلان، القوباء الحلقيّة، السفلس، السرطان، الأنفلونزا.

استعمل المخطط التالي للإجابة عن السؤال ٢١.



الهضم والتنفس والإخراج



الفكرة العامة

تعمل أجهزة الهضم والتنفس والإخراج معًا للحفاظ على الجسم بصحة جيدة.

الدرس الأول

الجهاز الهضمي والمواد الغذائية
الفكرة الرئيسية، تعمل أعضاء الجهاز الهضمي على هضم المواد الغذائية وامتصاصها؛ حيث يحتاج الجسم إلى وجبات متزنة تزوده بالطاقة والمواد الغذائية ليعيش في عافية.

الدرس الثاني

جهاز التنفس والإخراج

الفكرة الرئيسية، تزودك أعضاء الجهاز التنفسي بحاجتك من الأكسجين، وتخلصك من ثاني أكسيد الكربون والفضلات الغازية الأخرى، بينما يخلصك جهاز الإخراج من الفضلات السائلة والغازية والصلبة.

كرة القدم من الألعاب الشاقة

عند ممارسة لعبة شاقة - لعبة كرة القدم مثلاً - فإنك تتنفس بسرعة للحصول على كميات كافية من الأكسجين والطاقة؛ لتعمل الخلايا في جسمك بصورة طبيعية.

دفتر العلوم اكتب فقرة تصف فيها الأشياء التي يجب أن تقوم بها لمساعدة جسمك على العودة إلى وضعه الطبيعي، بعد الانتهاء من ممارسة لعبة شاقة.



نشاطات تمهيدية

المطويات

منظمات الأفعال

التنفس اعمل المطوية التالية لتساعدك على تحديد ما تعرفه، وما تود معرفته، وما تتعلمه عن التنفس.



الخطوة ١
اطو ورقة طولياً بحيث يكون أحد طرفيها أقصر من الثاني ٢٥, ١ سم تقريباً.



الخطوة ٢
لفّ الورقة عرضياً، واطوها إلى ثلاثة أجزاء.



الخطوة ٣
افتح الورقة، ثم قص الجزء العلوي منها على طول الطية، ثم عنون كل جزء كما في الشكل. واكتب كما هو مبين.

أسئلة تعريفية قبل قراءة الفصل، اكتب "أنا أتفهم" تحت الجزء الأول من المطوية، واكتب "لماذا أتفهم؟" تحت الجزء الثاني. وخلال قراءة هذا الفصل، اكتب الإجابات التي حصلت عليها تحت الجزء الثالث.

تجربة استدلالية

معدل التنفس

يستطيع الجسم تخزين الغذاء والماء، ولكنه لا يستطيع تخزين الأكسجين الذي يدخل إليه خلال عملية التنفس. وستتعرف في هذه التجربة أحد العوامل التي تؤثر في معدل التنفس.

١. ضع يدك على صدرك، ثم عدّ مرات تنفسك في ١٥ ثانية واضرب العدد الذي حصلت عليه في أربعة لتحسب معدل تنفسك الطبيعي في دقيقة واحدة.

٢. كرر الخطوة (١) مرتين، ثم احسب متوسط معدل التنفس.

٣. قم بنشاط رياضي بصفه لك معلمك مدة دقيقة، ثم كرر الخطوة (١) لقياس معدل تنفسك بعد إجراء النشاط.

٤. قس الوقت اللازم ليعود معدل تنفسك إلى وضعه الطبيعي.

٥. **التفكير الناقد** اكتب فقرة في دفتر العلوم تصف فيها العلاقة بين معدل التنفس والنشاط الرياضي.

أتهياً للقراءة

المقارنة

١ **أتعلم** يقوم القارئ الجيد بالمقارنة والتمييز بين المعلومات في أثناء قراءته. وهذا يعني النظر إلى أوجه الشبه والاختلاف، مما يساعدك على تذكر الأفكار المهمة. ابحث عن المفردات أو الحروف التي تدل على أن النص يشير إلى تشابه أو اختلاف:

كلمات المقارنة والتفريق	
للمشابهة	للاختلاف
ك	لكن
مثل	على الرغم من
أيضاً	بخلاف ذلك
مشابه لـ	ومن ناحية أخرى
يشبه	مع أن
بطريقة مشابهة	ومن جهة أخرى

٢ **أدرب** اقرأ النص التالي، ثم لاحظ كيف استعمل المؤلف مفردات المقارنة لتوضيح التشابه بين عملية الضغط على قارورة بلاستيكية وبين عملية التنفس:

تعمل الرئتان بطريقة مشابهة للضغط على القارورة؛ حيث ينقبض الحجاب الحاجز وينبسط مسيياً تغير حجم التجويف الصدري، مما يساعد على حركة الغازات من الرئتين وإليهما.

٣ **أطبق** بين أوجه الشبه والاختلاف بين الكربوهيدرات والدهون من خلال قراءة هذا الفصل.

إرشاد

في أثناء قراءتك، استعمل مهارات مثل التلخيص والربط؛
فذلك يساعدك على فهم المقارنة.

توجيه القراءة وتركيزها

ركز على الأفكار الرئيسة عند قراءتك الفصل باتباعك ما يلي:

١ قبل قراءة الفصل أجب عن العبارات في ورقة العمل أدناه:

• اكتب (م) إذا كنت موافقاً على العبارة.

• اكتب (غ) إذا كنت غير موافق على العبارة.

٢ بعد قراءة الفصل ارجع إلى هذه الصفحة لترى ما إذا كنت قد غيرت رأيك حول أي من هذه العبارات.

• إذا غيرت إحدى الإجابات فبين السبب.

• صحح العبارات غير الصحيحة.

• استرشد بالعبارات الصحيحة في أثناء دراستك.

قبل القراءة م أوغ	العبارة	بعد القراءة م أوغ
	١. الدهون هي المصدر الرئيس للطاقة في الجسم.	
	٢. يستطيع الإنسان العيش دون ماء فترة أطول من العيش دون طعام.	
	٣. الإنزيمات في المريء تساعد على هضم الطعام.	
	٤. تنتج البكتيريا الموجودة في الأمعاء الغليظة فيتامين د.	
	٥. تحدث عملية امتصاص معظم الماء في الأمعاء الدقيقة.	
	٦. يدخل الهواء إلى الجسم ويخرج منه نتيجة انقباض عضلة الحجاب الحاجز وانبساطها.	
	٧. تحدث عملية تبادل الأكسجين وثنائي أكسيد الكربون في الشعبة الهوائية.	
	٨. عملية التنفس هي نفسها عملية التنفس الخلوي.	
	٩. تعمل الكلية في الجسم مرشحاً للدم من الفضلات.	
	١٠. الجلد جزء من الجهاز الإخراجي.	



الجهاز الهضمي والمواد الغذائية

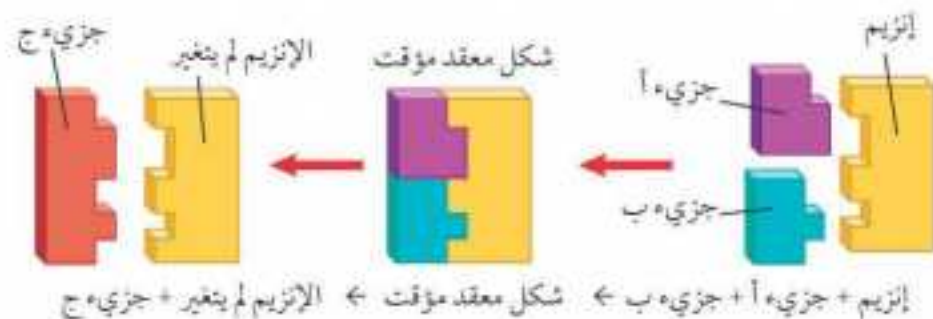
وظائف الجهاز الهضمي

يمر الطعام في أثناء عبوره القناة الهضمية في الجسم بأربع مراحل رئيسة، هي: البلع والهضم والامتصاص والتخلص من الفضلات.

تبدأ عملية هضم الطعام بمجرد دخوله إلى الفم. ويقصد بالهضم عملية تحليل الطعام إلى جزيئات أصغر؛ بحيث يمكن امتصاص المواد الغذائية الموجودة فيه ونقلها إلى الدم. تزودك **المواد الغذائية** Nutrients الموجودة في الطعام بالطاقة والمواد الضرورية اللازمة لنمو الخلايا وتويض النالف منها؛ حيث تنتقل عبر الدم إلى الخلايا لكي تستفيد منها. أما المواد التي لا يستفاد منها فتطرح خارج الجسم بوصفها فضلات. وهناك نوعان من الهضم: ميكانيكي وكيميائي. فالهضم الميكانيكي هو مضغ الطعام وخلطه، بينما الهضم الكيميائي هو تحليل الغذاء بفعل التفاعلات الكيميائية في القناة الهضمية.

الإنزيم

تحدث عملية الهضم الكيميائي بسبب وجود الإنزيمات. **والإنزيمات** Enzyme نوع من البروتينات تُسرِّع معدل التفاعلات الكيميائية في الجسم. ويكون ذلك من خلال تقليل كمية الطاقة المستخدمة لبدء التفاعلات الكيميائية. ولولا الإنزيمات لكانت التفاعلات الكيميائية في الجسم بطيئة جداً، ولصعب حدوث بعضها. وكما في الشكل ١، فإن الإنزيمات لا تتغير ولا تنفذ خلال التفاعلات الكيميائية.



الشكل ١ يزيد الإنزيم معدل بعض التفاعلات في الجسم.

فسر ماذا يحدث للإنزيم بعد انفصاله عن الجزيء الجديد؟

في هذا الدرس

الأهداف

- تحدد أعضاء الهضم ودور كل منها.
- تميز بين الهضم الميكانيكي والهضم الكيميائي.
- تفسر تحقق الاتزان الداخلي خلال عملية الهضم.
- تتعرف أهمية مجموعات المواد الغذائية الست.
- تفسر العلاقة بين الوجبات الغذائية والصحة.

الأهمية

- توفر عمليات الهضم التي تحدث في الجهاز الهضمي المواد اللازمة للخلايا.
- تساعد معرفة المواد الغذائية على اختيار الوجبات الصحية التي يحتاج إليها الجسم يومياً.

مراجعة المفردات

البكتيريا: مخلوقات حية وحيدة الخلية تتغذى من العضيات المحاطة بأغشية.

الجزيء: أصغر جزء في المادة يحمل صفاتها، وهو يتكون من ذرة أو أكثر.

المفردات الجديدة

- المواد الغذائية
- الأحماض الأمينية
- الإنزيم
- الكربوهيدرات
- الحركة الدودية
- الفيتامين
- الكيموس
- الأملاح المعدنية
- الحملات

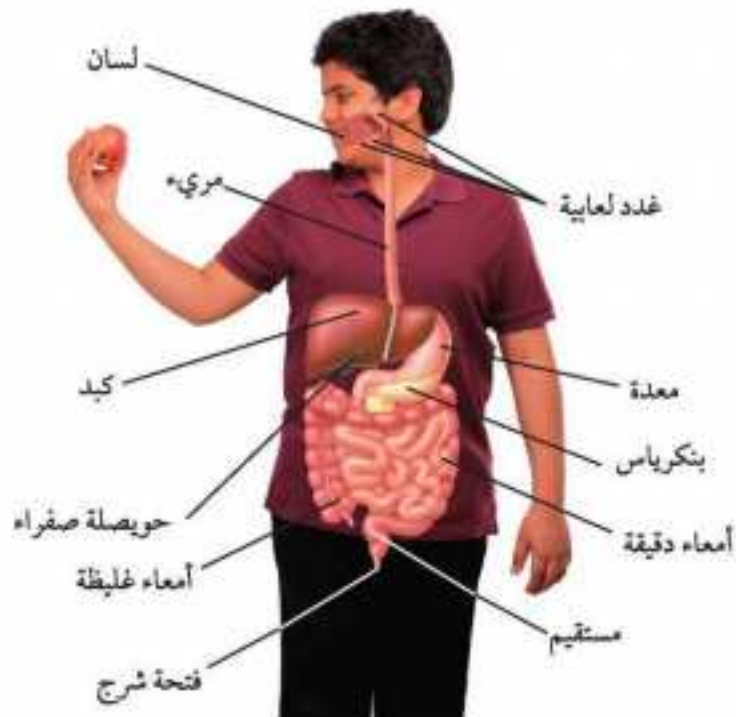
الإنزيمات هي الهضم يساعدك العديد من الإنزيمات على هضم الكربوهيدرات والبروتينات والدهون. وتُصنع الإنزيمات في الغدد اللعابية والمعدة والأمعاء الدقيقة والبنكرياس.

ماذا قرأت؟ ما دور الإنزيمات في عملية الهضم الكيميائي؟

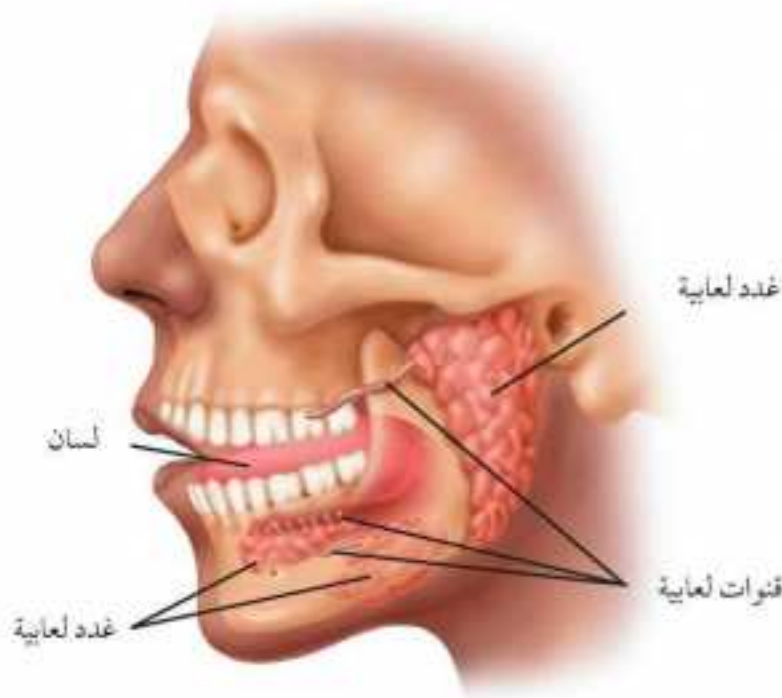
أدوار أخرى للإنزيمات لا يقتصر عمل الإنزيمات على عمليات الهضم فقط؛ فهي تساعد على زيادة سرعة التفاعلات الكيميائية المسؤولة عن بناء الجسم، كما تلعب دوراً مهماً في إطلاق الطاقة في خلايا العضلات والخلايا العصبية، وهي أيضاً تساعد على تجلط الدم. ويجدر القول إنه لولا الإنزيمات لكانت التفاعلات في الجسم بطيئة جداً إلى درجة تكون فيها غير قادرة على الحفاظ على بقائك حيّاً.

أعضاء الجهاز الهضمي

يتكون الجهاز الهضمي من جزأين رئيسين، هما: القناة الهضمية والأعضاء الملحقة. وتضم القناة الهضمية الفم والمريء والمعدة والأمعاء الدقيقة والأمعاء الغليظة والمستقيم وفتحة الشرج، كما في الشكل ٢. أما الأعضاء الملحقة فهي اللسان والأسنان والغدد اللعابية والكبد والحوصلة الصفراء والبنكرياس، وهي مبنية كذلك في الشكل ٢. والأعضاء الملحقة لا يمر بها الطعام إلا أنها تنتج أو تخزن الإنزيمات والمواد الكيميائية الأخرى التي تساعد على تحليل الطعام في أثناء مروره بالقناة الهضمية.



الشكل ٢ يشبه الجهاز الهضمي في الإنسان الأنبوب المقسم إلى عدة مقاطع متخصصة. إذا مُدَّ الجهاز الهضمي في الإنسان البالغ فإن طوله يتراوح بين ٦-٩ أمتار.



الشكل ٣ تنتج الغدة اللعابية ما يقارب ١,٥ لتر من اللعاب يوميًا في الفم.

صف ماذا يحدث في الفم عندما تفكر في طعام تحبه؟

الفم تبدأ في الفم عملية الهضم الميكانيكي والكيميائي. فيحدث الهضم الميكانيكي عندما تقطع الطعام بأسنانك وتخلطه بلسانك. أما الهضم الكيميائي فيبدأ عندما يختلط الطعام باللعاب. ويتكون اللعاب من الماء والمخاط والإنزيمات التي تساعد على هضم النشا جزئيًا وتحويله إلى سكر. ويُنتج اللعاب بواسطة ثلاث مجموعات من الغدد توجد في جوانب الفم، موضحة في الشكل ٣. وعندما يختلط الطعام باللعاب يصبح كتلة طرية، فيحركه اللسان إلى مؤخرة الفم، ثم يدفعه، ليتم بلعه وانتقاله إلى المريء، وبهذا تنتهي عملية البلع إلا أن عملية الهضم تظل مستمرة.

المريء يتحرك الطعام نحو المريء مرورًا بنسيج يُسمى لسان المزمار، وهو تركيب يُغلق تلقائيًا ليسد ممر الهواء، فيمنع الطعام من إغراقه، وإلا اختنق الإنسان. والمريء أنبوب عضلي يبلغ طوله ٢٥ سم تقريبًا، ولا تحدث فيه أي عملية هضم. وتنقبض العضلات الملساء في جدار المريء لنقل الطعام في اتجاه المعدة في حركة تُسمى **الحركة الدودية peristalsis**. كما يوجد في جدار المريء غدد مخاطية تعمل على إفراز المخاط لتسهيل حركة الطعام داخل المريء، والحفاظ عليه رطبًا.

المعدة كيس عضلي، يتمدد عند دخول الطعام إليه من المريء. يحدث في المعدة هضم ميكانيكي وكيميائي، يتمثل الهضم الميكانيكي في مزج الطعام بواسطة حركة العضلات. أما الهضم الكيميائي فيتمثل في خلط الطعام بالإنزيمات والعصارة الهاضمة، ومنها حمض الهيدروكلوريك الذي يساعد على تحليله.

وتفرز خلايا متخصصة موجودة في جدار المعدة لترين من حمض الهيدروكلوريك في اليوم تقريباً. ويعمل هذا السائل مع إنزيم الببسين على هضم البروتينات، والقضاء على البكتيريا الموجودة في الطعام. كما تفرز المعدة مادة مخاطية تجعل الطعام أكثر لزوجة، وتحمي المعدة من العصارة الهاضمة القوية. ويتغير الطعام في المعدة ليصبح سائلاً كثيف القوام يُسمى **الكيموس** Chyme يتحرك ببطء خارج المعدة إلى الأمعاء الدقيقة.

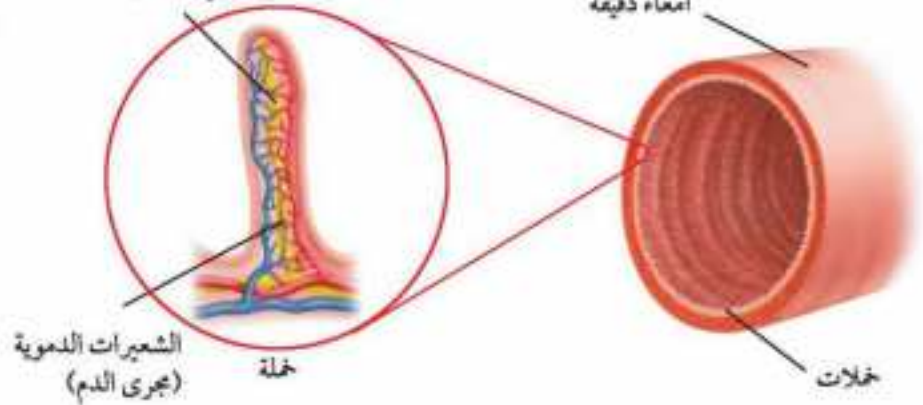
✓ **ماذا قرأت؟** لماذا لا تهضم المعدة نفسها بواسطة العصارة الحمضية الهاضمة؟

الأمعاء الدقيقة تمتاز الأمعاء الدقيقة - كما في الشكل ٤ - بقطرها الصغير، وطولها الذي يتراوح بين ٤-٧ م. ويغادر الكيموس المعدة إلى الجزء الأول من الأمعاء الدقيقة، والذي يُسمى الاثني عشر، حيث تحدث معظم عملية الهضم فيه. وتصب في الاثني عشر العصارة الصفراوية، وهي عصارة تُصنع في الكبد، وتعمل على تحليل جزيئات الدهون الكبيرة إلى أجزاء صغيرة.

يحدث الهضم الكيميائي للكربوهيدرات والبروتينات والدهون عندما تختلط العصارة الهاضمة التي يفرزها البنكرياس بالطعام، وتحتوي العصارة على أيونات البيكربونات والإنزيمات، حيث تعمل أيونات البيكربونات على معادلة حموضة الطعام القادم من المعدة. وللبنكرياس في جسم الإنسان وظيفة أخرى حيث يفرز هرمون الأنسولين الذي ينقل الجلوكوز من مجرى الدم إلى الخلايا.

تحدث عملية امتصاص الطعام في الأمعاء الدقيقة. ويمتاز جدارها - المبين في الشكل ٤ - بانثناءات إصبعية تُسمى **الخمالات** Villi، تزيد مساحة سطح الأمعاء الدقيقة، مما يزيد كمية المواد الغذائية الممتصة. وتنتقل المواد الغذائية إلى شعيرات دموية دقيقة توجد في الخمالات، ثم إلى الدم الذي يعمل على نقلها إلى خلايا الجسم جميعها. وتدفع الحركة الدودية للأمعاء الدقيقة بقايا الطعام غير الممتص والفضلات إلى الأمعاء الغليظة ببطء.

أوعية لمفية (تجمع السوائل الزائدة في الأنسجة)



الشكل ٤ تبطن مئات الآلاف من الخمالات الأمعاء الدقيقة. لو مددت هذه الخمالات لغطت مساحة ملعب كرة تنس.

استج ماذا يحدث لو وزن شخص لو قل عدد الخمالات في أمعائه الدقيقة بشكل كبير؟ ولماذا؟



بكتيريا الأمعاء الغليظة

تكيفت أنواع البكتيريا التي تعيش في الأمعاء الغليظة مع البيئة المحيطة بها. ماذا تتوقع أن يحدث للبكتيريا إذا تغيرت البيئة المحيطة؟ وكيف يؤثر ذلك في الأمعاء الغليظة؟ ناقش أفكارك مع زملائك في الصف، واكتب إجابتك في دفتر العلوم.

الأمعاء الغليظة عندما يدخل الكيموس إلى الأمعاء الغليظة تمتص ما فيه من ماء، وبذلك يتم المحافظة على الاتزان الداخلي للجسم، وبعد امتصاص الماء الموجود تصبح بقايا الطعام أكثر صلابة، ثم تتحكم عضلات المستقيم - وهي آخر جزء من الأمعاء الغليظة - وإلى فتحة الشرج في عملية خروج الفضلات شبه الصلبة إلى خارج الجسم.

أهمية بكتيريا الجهاز الهضمي

تعيش أنواع مختلفة من البكتيريا في الجسم، ومعظمها في أعضاء الجهاز الهضمي، ومنها الفم والأمعاء الغليظة. وبعض هذه البكتيريا مفيد للجسم؛ فالبكتيريا الموجودة في الأمعاء الغليظة تتغذى على بقايا الطعام غير المهضوم كالسليولوز، وتصنع ما تحتاج إليه من الفيتامينات، ومنها فيتامين (ك) الذي نحتاج إليه في تخثر الدم، ونوعان من فيتامين ب، هما النياسين والثيامين الضروريان للجهاز العصبي ووظائف الجسم الأخرى. كما تحول البكتيريا صبغة العصارة الصفراوية إلى مركبات جديدة. وتنتج الغازات أيضاً عن عملية تحطيم المواد الموجودة في الأمعاء بواسطة البكتيريا.

المواد الغذائية

ربما تختار الطعام لمذاقه أو وفرة أو سهولة تحضيره، إلا أن القيمة الغذائية والسرعات الحرارية في الطعام أكثر أهمية. والسعر الحراري وحدة قياس مقدار الطاقة (مثلها مثل الوحدة الدولية، الجول)، ولكنها تستخدم كثيراً في مجال الغذاء والتغذية. يختلف ما يحتاج إليه الشخص من الطاقة اعتماداً على قدر النشاط الذي يقوم به، ووزنه وعمره وجنسه وفعالية جسمه. ربما تكون الشوكولاتة ذات طعم لذيذ وتزود الجسم بالكثير من السرعات الحرارية، ولكنها تحتوي على القليل من المواد الغذائية التي يحتاج إليها الجسم. ويتضمن الطعام ستة مجموعات من المواد الغذائية، هي البروتينات والكربوهيدرات والدهون والفيتامينات والأملاح المعدنية والماء. تحتوي كل من البروتينات والكربوهيدرات والفيتامينات والدهون على الكربون، لذا تُسمى المواد الغذائية العضوية. أما الماء والأملاح المعدنية فلا يحتويان على الكربون، لذا تسمى مواد غذائية غير عضوية. لا يسدّ للغذاء الذي يحتوي على كربوهيدرات وبروتينات ودهون أن يهضم قبل أن يمتصه الجسم، في حين لا يحتاج الماء والفيتامينات والأملاح المعدنية إلى الهضم؛ لأنها تمتص مباشرة وتنقل إلى الدم.

الشكل ٥ اللحوم والبيض والأسماك وبعض البقوليات كلها أطعمة غنية بالبروتين



البروتينات يحتاج الجسم إلى البروتينات للنمو وتعويض الخلايا التالفة. والبروتينات جزيئات ضخمة تتكون من الكربون والهيدروجين والأكسجين والنيتروجين، ويحتوي بعضها على الكبريت. وتتكون من وحدات بنائية أصغر تُسمى **الأحماض الأمينية Amino Acide**. ولتعرف بعض مصادر البروتينات انظر الشكل ٥.

الوحدات البنائية للبروتينات يحتاج الجسم إلى ٢٠ حمضًا أمينيًا فقط مرتبة بطرائق مختلفة لصنع آلاف البروتينات التي تستفيد منها الخلايا. وتُصنع معظم هذه الأحماض الأمينية في الجسم لإثمانية منها تُسمى الأحماض الأمينية الأساسية؛ حيث تحصل عليها من الطعام الذي تأكله. يحتوي البيض والجبن والحليب واللحوم على البروتينات الكاملة، أي المحتوية على الأحماض الأمينية الأساسية كلها.

الكربوهيدرات ادرس المعلومات حول القيم الغذائية الموجودة على مجموعة من علب الأطعمة، تلاحظ أن عدد جرامات الكربوهيدرات الموجودة في كمية من رقائق الذرة أكثر من كمية المواد الغذائية الأخرى. **فالكربوهيدرات Carbohydrates** هي المصدر الرئيس للطاقة في الجسم غالبًا.

هناك ثلاثة أنواع من الكربوهيدرات، هي السكريات والنشويات والألياف، وهي موضحة في الشكل ٦. وتُسمى السكريات الكربوهيدرات البسيطة. ومنها سكر المائدة، كما توجد في الفواكه والعسل والحليب. وعند تحليل هذه المواد داخل

العلوم
عبر المواقع الإلكترونية

الألياف

ارجع إلى المواقع الإلكترونية عبر شبكة الإنترنت

وابحث عن مقالات أو أخبار تتحدث عن أهمية الألياف في الوجبات الغذائية.

نشاط صنف في دفتر العلوم طعامك المفضل في مجموعتين: مصدر غني بالألياف، ومصدر فقير أو لا يحتوي على ألياف.

فحص الكربوهيدرات

تجربة عملية

ارجع إلى الوحدة الثانية للتربية الصحية

الشكل ٦ تحتوي هذه الأطعمة على الكربوهيدرات التي تزود الجسم بالطاقة اللازمة للقيام بالأنشطة الحيوية.

صف أهمية الكربوهيدرات في الجسم.



تجربة

مقارنة محتوى الدهون في الأطعمة

الخطوات

1. اجمع ثلاث قطع من كل من الأطعمة التالية: رقائق بطاطس، فستق، جبن، خضراوات، لحم، ومكعباً صغيراً من الفاكهة تختارها أنت.
2. ضع قطع الطعام التي اخترتها في كيس ورقي بني اللون، وسجل اسم الطعام عليه، ولا تذوقها.
3. اترك الأطعمة مدة ٣٠ دقيقة.
4. أخرج الأطعمة من الأكياس وتخلص منها. لاحظ الكيس الورقي.

التحليل

1. أي الأطعمة تركت بقعة شفافة؟ وأيها ترك بقعة مائية؟
2. فيم تشابه الأطعمة التي تركت بقعة دهنية؟
3. استعمل هذا الاختبار للكشف عن وجود الدهون في بقية الطعام، إن البقعة المائية تعني أن الطعام يحتوي على كميات كبيرة من الماء.

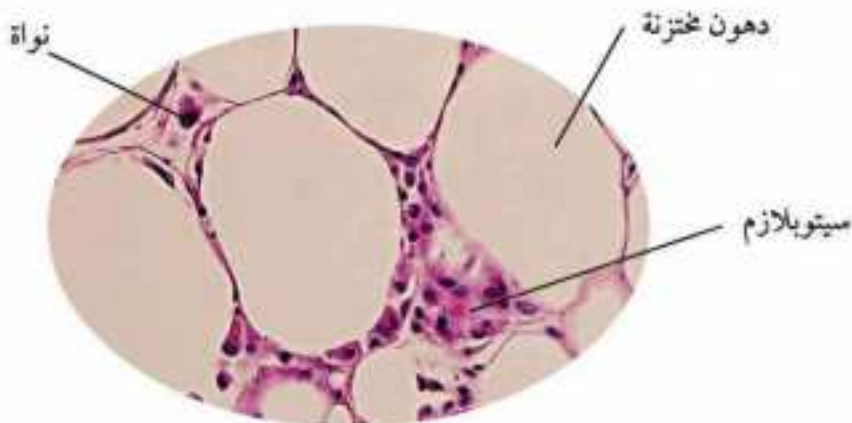
خلايا الجسم تنتج السكريات البسيطة. أما النوعان الآخران - النشا والألياف - فيسميان الكربوهيدرات المعقدة. يوجد النشا في البطاطس والأطعمة المصنوعة من الحبوب، ويتكون من ارتباط عدد كبير من السكريات البسيطة. أما الألياف - ومنها السليلوز - فتوجد في جدران الخلايا النباتية. ومن مصادره الخبز ذو الحبة الكاملة والبقول والفاصولياء والخضراوات الأخرى والفواكه. هناك أنواع مختلفة من الألياف. لذا يجب أن تتناول أنواعاً مختلفة من الأطعمة النباتية الغنية بالألياف. وعلى الرغم من عدم قدرة الجسم على هضم الألياف إلا أنها ضرورية للحفاظ على الجهاز الهضمي وتسهيل عمله.

الدهون وتسمى كذلك الليبيدات، وهي ضرورية للجسم؛ فهي تمدك بالطاقة وتساعد الجسم على امتصاص الفيتامينات، كما أن النسيج الدهني يشكل الوسادة التي تتركز عليها أعضاءك الداخلية. كذلك فإن الغشاء البلازمي لكل خلية يتكون معظمه من الدهون.

يمد جرام واحد من الدهون الجسم بضعف كمية الطاقة التي يمد بها جرام واحد من الكربوهيدرات. لذا فهي مخزون جيد للطاقة. وتحول الطاقة الزائدة الموجودة في الطعام الذي تأكله إلى دهون تخزن في الجسم لاستعمالها لاحقاً، كما في الشكل ٧.

ماذا قرأت؟ لماذا تُعد الدهون مخزوناً جيداً للطاقة؟

تُصنّف الدهون إلى دهون مشبعة ودهون غير مشبعة اعتماداً على تركيبها الكيميائي. وتُعد الزيوت النباتية والدهون الموجودة في البذور غير مشبعة، أما الدهون الموجودة في اللحوم والمنتجات الحيوانية وفي بعض النباتات (وتكون صلبة عادة في درجة حرارة الغرفة) فهي دهون مشبعة. ترتبط الدهون المشبعة بالمستوى العالي للكوليسترول في الدم. يصنع الكوليسترول في الكبد، وهو جزء من الغشاء البلازمي للخلايا جميعها في الجسم. وتسبب الوجبات الغذائية الغنية بالكوليسترول ترسبات على جوانب جدران



الشكل ٧ تخزين الدهون في خلايا محددة في الجسم. وتدفع هذه الدهون المختزنة السيتوبلازم والنواة إلى حافة الخلايا.

الأوعية الدموية التي قد تمنع وصول الدم إلى الأعضاء، وترفع ضغط الدم، ويؤدي ذلك إلى الذبحة الصدرية وأمراض القلب.

الفيتامينات تحتاج خلايا العظام في الجسم إلى فيتامين (د) لتستطيع امتصاص الكالسيوم. ويحتاج الدم إلى فيتامين (ك) لكي يتخثر. **الفيتامينات** Vitamins مواد غذائية عضوية تحتاج إليها بكميات قليلة للنمو، وتنظيم وظائف الجسم، والوقاية من بعض الأمراض.

وتصنف الفيتامينات في مجموعتين، المجموعة الأولى هي الفيتامينات الذائبة في الماء، وهذه المجموعة لا تخزن في الجسم، لذا يجب تناولها يومياً. أما المجموعة الثانية فهي الفيتامينات الذائبة في الدهون، ويستطيع الجسم تخزينها. ويصنع الجسم بعض الفيتامينات، ومنها فيتامين (د) الذي تصنعه خلايا الجلد عندما تتعرض لأشعة الشمس. ويصنع فيتامين (ك) ونوعان من فيتامين (ب) في الأمعاء الغليظة بمساعدة البكتيريا التي تعيش فيها.

الأملاح المعدنية تُسمى المواد الغذائية غير العضوية التي تنظم العديد من التفاعلات الكيميائية في الخلايا **الأملاح المعدنية** Minerals. ويحتاج الجسم إلى ١٤ نوعاً من الأملاح المعدنية. فالكالسيوم والفوسفور يستعملان بكميات كبيرة في وظائف مختلفة في الجسم. وبعض الأملاح يحتاج إليها الجسم بكميات قليلة، منها النحاس واليود. ولتعرف الأملاح المعدنية ووظائفها انظر الجدول ١.

الماء تستطيع العيش عدة أسابيع دون طعام، ولكنك لا تستطيع العيش عدة أيام دون ماء؛ لأن الخلايا تحتاج إليه للقيام بأعمالها المختلفة. كما أن معظم المواد الغذائية



مناجم الملح يستخرج ملح الطعام من معدن الهاليت بعد معالجته، ويوجد في المملكة العربية السعودية الكثير من الأماكن التي يستخرج منها الملح، ومنها مدينة الفصيف في منطقة الروشم.

ابحث عن مواقع بعض المناجم في المملكة العربية السعودية، وعيّن على الخريطة.

الجدول ١: الأملاح المعدنية وأهميتها ومصادرها

الملاح	تأثيره الصحي	مصادر
الكالسيوم	أستن وعظام قوية، تحللك الدم لشاملات الجهاز العصبي والعظلي.	منتجات الحليب، البيض، الخضراوات ذات الأوراق الخضراء، فول الصويا.
الفوسفور	أستن وعظام قوية، التفاض العضلات، تخزين الدهون.	الحين، اللحم، منتجات الحبوب.
البوتاسيوم	الحفاظ على التزان الماء في الخلية، نقل التلبه العصبي، التفاض العضلات.	الموز، البطاطا، الفستق، اللحوم البزئقال.
المغنيسيوم	التزان السوائل في الأنسجة، نقل التلبه العصبي.	اللحوم، الحليب، الحين، الملح، الحوز، ومعظم الأطعمة تقريباً.
الحديد	نقل الأكسجين عبر الهيموجلوبين في خلايا الدم الحمراء.	اللحوم الحمراء، الزبيب، الفول، الفاصولياء، السبانخ، البيض.
اليود	نشاملات الغدة الترقية، حفز عمليات الأيض.	الأطعمة البحرية، ملح الطعام المضاف إليه اليود.

الجدول ٢: فقدان الماء

طريقة الفقد	الكمية (مل/يوم)
الزفير	٣٥٠
البراز	١٥٠
الجلد (معظمه عرق)	٥٠٠
بول	١٥٠٠

لا يمكنك الاستفادة منها ما لم تذب في الماء. ويشكّل الماء ٧٠٪ من كتلة الجسم، ويوجد في الخلايا وحولها وفي سوائل الجسم، ومنها الدم مثلاً. ويوضح الجدول ٢ طرق فقد الجسم الماء يوميًا. ولكي تعوض الماء المفقود يجب أن يحصل الجسم على لترين من الماء كل يوم تقريبًا، ولا يتحقق ذلك بشرب الماء فقط، بل بتناول الأطعمة الغنية التي تحتوي على كميات منه أيضًا. فالتفاح مثلاً يشكل الماء ٨٠٪ منه.

لماذا تشعر بالعطش؟ يتكون الجسم من أجهزة تعمل معًا. وعندما يحتاج الجسم إلى تعويض الماء المفقود يرسل إلى الدماغ رسالة يتبع عنها شعور بالعطش، فتشرب لتسد عطشك، وتحافظ على اتزانك الداخلي. تذكر ما ذكرناه من أن الاتزان الداخلي ينظم البيئة الداخلية للجسم؛ كدرجة الحرارة، وكمية الماء. وعندما يستعيد الجسم اتزانه تتوقف الإشارات التي يرسلها الدماغ، فلا تعود تشعر بالعطش.

مجموعات الأطعمة

لا توجد المواد الغذائية كلها في نوع واحد من الأطعمة. لذا يجب أن تنوع الأطعمة التي تتناولها. ولتسهيل ذلك تم تصنيفها إلى خمس مجموعات رئيسية، هي الخبز ومنتجات الحبوب، والخضراوات، والفواكه، والحليب واللحوم. ويوضح الجدول ٣ بعض التوصيات التي يجب أخذها في الاعتبار عند تناول الأطعمة.

وتسهّل عليك المعلومات المدونة على علب الأطعمة اختيار الأطعمة الصحية، وتساعدك على التخطيط لوجبات الطعام، وتزودك بكميات المواد الغذائية الضرورية يوميًا.

توصيات أخرى يحتاج الشخص البالغ إلى ٢٠٠٠ سعر حراري في اليوم؛ حيث ينبغي أن تشمل على حصتين من الفاكهة، وحصتين ونصف من الخضراوات. ويجب أن يتناول البالغ عدة مرات في الأسبوع الخضراوات والخضراء والبرقال والنباتات الغنية بالنشويات والبقوليات وباقي أنواع الخضراوات. ويجب أن يؤكل يوميًا من

Nutrition Information Average per 100g Portions / 40g package	معلومات غذائية التوسط لكل 100 جم حصص (40 جم صناديق)
Energy (KJ) 2192	طاقة (كيلوجول)
Energy (Kcal) 526	طاقة (كيلو سعرة)
Protein 3.9g	بروتين
Carbohydrate 92g	كربوهيدرات
of which sugars 1.4g	منها سكر
of which fibre 2.6g	منهالياف
Fat 34g	دهون
of which saturates 7g	منها مشبعة
Sodium 0.53g	صوديوم

الشكل ٨ المعلومات على ملصق الطعام تساعدك على اختيار غذائك.

نواتج الحبوب الكاملة واحد إلى ثلاثة أواق من الحصص الغذائية، وهو ما يعادل شريحة واحدة من الخبز أو كوباً واحداً من حبوب (رقائق الذرة) أو نصف كوب من الأرز المطبوخ أو المعكرونة. وهو يحتاج أيضاً إلى ثلاثة أكواب من الحليب الخالي - أو القليل الدسم - أو ما يعادله من لبن الزبادي القليل الدسم، أو الجبن القليل الدسم (أوقية ونصف من الجبن تساوي كوباً من الحليب).

كما ينبغي تحديد كمية السكريات والملح والدهون، واختار طعاماً يحتوي على القليل من الدهون غير المشبعة أو الدهون المشبعة.

ومما يجدر ذكره هنا أن الأطفال والمراهقين يحتاجون إلى منتجات الحبوب الكاملة، أو على الأقل تناول نصف الكمية منها. أما الأطفال الذين أعمارهم بين سنتين وثمانية سنوات فيمكن أن يتناولوا كوبين من الحبوب الكاملة. والأطفال في التاسعة وأكبر يحتاجون إلى ثلاثة أكواب من الحليب الخالي أو القليل الدسم أو ما يعادله من منتجات الحليب يومياً.

بطاقة البيانات حتى يكون اختيارك للغذاء الصحي سهلاً تم وضع مجموعة من الحقائق الغذائية على شكل ملصق على المعلبات الغذائية، تلك الملصقات تم توضيح إحداها في الشكل ٨ حيث يساعدك على التخطيط لما تحتاج إليه من كميات الغذاء التي تناسبك، خاصة في حالة الحمية الغذائية.

الجدول ٣: الدليل الغذائي

التوصيات	مجموعة الغذاء
تناول أنواعاً مختلفة من الفاكهة - سواء كانت طازجة أو مجففة أو معلبة أو مجمدة - بدلاً من عصير الفاكهة، وتناول ٢٠٠٠ سعر حراري ستحتاج إلى كوبين من الفاكهة كل يوم (على سبيل المثال اللوز ذي الحجم الصغير، والبرتقال ذي الحجم الكبير، وربع كوب من التمش الحقف، أو الخوخ).	الفاكهة
تناول الخضراوات ذات اللون الأخضر الغامق ومنها البروكلي والكرنب والنباتات الورقية الخضراء، أو الخضراوات الملونة ومنها الجزر والبطاطا الحلوة واليقطين والباذنجان والفاصولياء بأنواعها المختلفة.	الخضراوات
تناول ٣ أكواب من الحليب القليل الدسم أو الحليب الخالي الدسم كل يوم. وإذا كنت غير قادر على تناول منتجات الحليب فاختار منتجات الحليب الخالي من اللاكتوز أو تناول الطعام أو الشراب الذي يحتوي على الكالسيوم.	الغذاء الغني بالكالسيوم
تناول ٥٥ جم على الأقل من الحبوب الكاملة والخبز والبسكويت والأرز أو المعكرونة كل يوم. ولاحظ أن القمح والأرز والشوفان أو الشرد يشار إليها بالحبوب الكاملة في قائمة المكونات المكتوبة على عبء الطعام. وعموماً فإننا يجب أن نحصل على نصف كمية الحبوب من الحبوب الكاملة مع الإشارة إلى المنتجات الغنية بالحبوب الكاملة.	الحبوب
اختار اللحوم أو الدواجن الطرية، مطبخها أو شوها أو امطحتها، وتوَّجَّع في اختيار المواد الغذائية البروتينية بحيث تشمل السمك والفاصولياء والباذنجان والجزر ومنتجات الحبوب.	البروتينات

الخلاصة

وظائف الجهاز الهضمي

- يمر الطعام في القناة الهضمية بأربع عمليات هي: البلع والهضم والامتصاص والإخراج.

الإنزيمات

- تساعد الإنزيمات على الهضم الكيميائي.
- تساعد الإنزيمات على تفاعلات كيميائية أخرى، منها تحتر الدم.

أعضاء الجهاز الهضمي

- يمر الطعام بأعضاء الجهاز الهضمي التالية: الفم، المريء، المعدة، الأمعاء الدقيقة، الأمعاء الغليظة، المستقيم، فتحة الشرج.
- تساعد الأعضاء الملحقة بالجهاز الهضمي على الهضم الكيميائي والميكانيكي للطعام.

أهمية بكتيريا الجهاز الهضمي

- بعض البكتيريا التي تعيش في أعضاء القناة الهضمية مفيدة للجسم.

المواد الغذائية

- توفر المواد الغذائية الطاقة والمواد الأساسية لنمو الخلايا وتعويض التالف منها.
- هناك ستة أنواع من المواد الغذائية في الطعام، هي: البروتينات والكربوهيدرات والدهون والفيتامينات والأملاح المعدنية والماء.
- تستعمل البروتينات لنمو الخلايا التالفة وتعويضها. وتوفر الكربوهيدرات الطاقة، أما الدهون فتخزنها وتشكل سادة للأعضاء.
- تنظم الفيتامينات والأملاح المعدنية وظائف الجسم.
- يعد الماء أهم العوامل الضرورية للبقاء.

مجموعات الطعام

- تساعد المعلومات المكتوبة على عبوات الطعام على اختيار الأطعمة التي تحتوي على المواد الغذائية اللازمة للطاقة والنمو.

اختبر نفسك

1. قارن بين الهضم الكيميائي والهضم الميكانيكي.
2. صف وظيفة كل عضو من أعضاء القناة الهضمية.
3. صف كيف تساعد الأعضاء الملحقة بالقناة الهضمية في عملية الهضم؟
4. اكتب قائمة بمصادر الطعام للمجموعات الغذائية الست.
5. ناقش كيف يؤثر اختيار الطعام في الصحة إيجاباً أو سلباً؟
6. وضح أهمية الماء في الجسم.
7. التفكير الناقد يحتوي البسكويت الغالي من السكر على النشا. فسر لماذا تشعر بالحلاوة إذا تركت قطعة منه في فمك مدة خمس دقائق دون مضغه؟

تطبيق المهارات

8. تواصل اكتب فقرة في دفتر العلوم توضح فيها ما يحدث للهضم الميكانيكي والكيميائي إذا فقد الإنسان جزءاً كبيراً من معدته.
9. تفسر البيانات تكتب معلومات المحتوى الغذائي على معظم الأطعمة المعلبة والمغلقة. ادرس المحتوى الغذائي لثلاثة أنواع مختلفة من المنتجات الغذائية وحدد أهمية كل منها للإنسان.

جهاز التنفس والإخراج

فيم هذا الدرس

الأهداف

- تصف وظائف الجهاز التنفسي.
- تشرح كيف تتم عملية تبادل الأكسجين وثنائي أكسيد الكربون في الرئتين والأنسجة.
- تحدد المسار الذي يسلكه الهواء من الرئة واليهما.
- توضح تأثير التدخين في الجهاز التنفسي.
- تميز بين جهازي الإخراج والبول.
- تصف عمل الكلية.
- توضح ما يحدث إذا لم تعمل أعضاء الجهاز البولي بشكل صحيح.

الأهمية

- تعتمد خلايا الجسم على الجهاز التنفسي للحصول على الأكسجين والتخلص من ثاني أكسيد الكربون.
- يساعد الجهاز البولي على تنقية الدم من الفضلات الخلووية.

مراجعة المفردات

الحجاب الحاجز: عضلة توجد تحت الرئتين تنقبض وتنبسط لتحريك الغازات إلى داخل الجسم وخارجه.

المفردات الجديدة

- البلعوم
- القصبة الهوائية
- القصبات الهوائية
- الحويصلة الهوائية
- التفريقات
- الحالب
- المثانة

وظائف الجهاز التنفسي

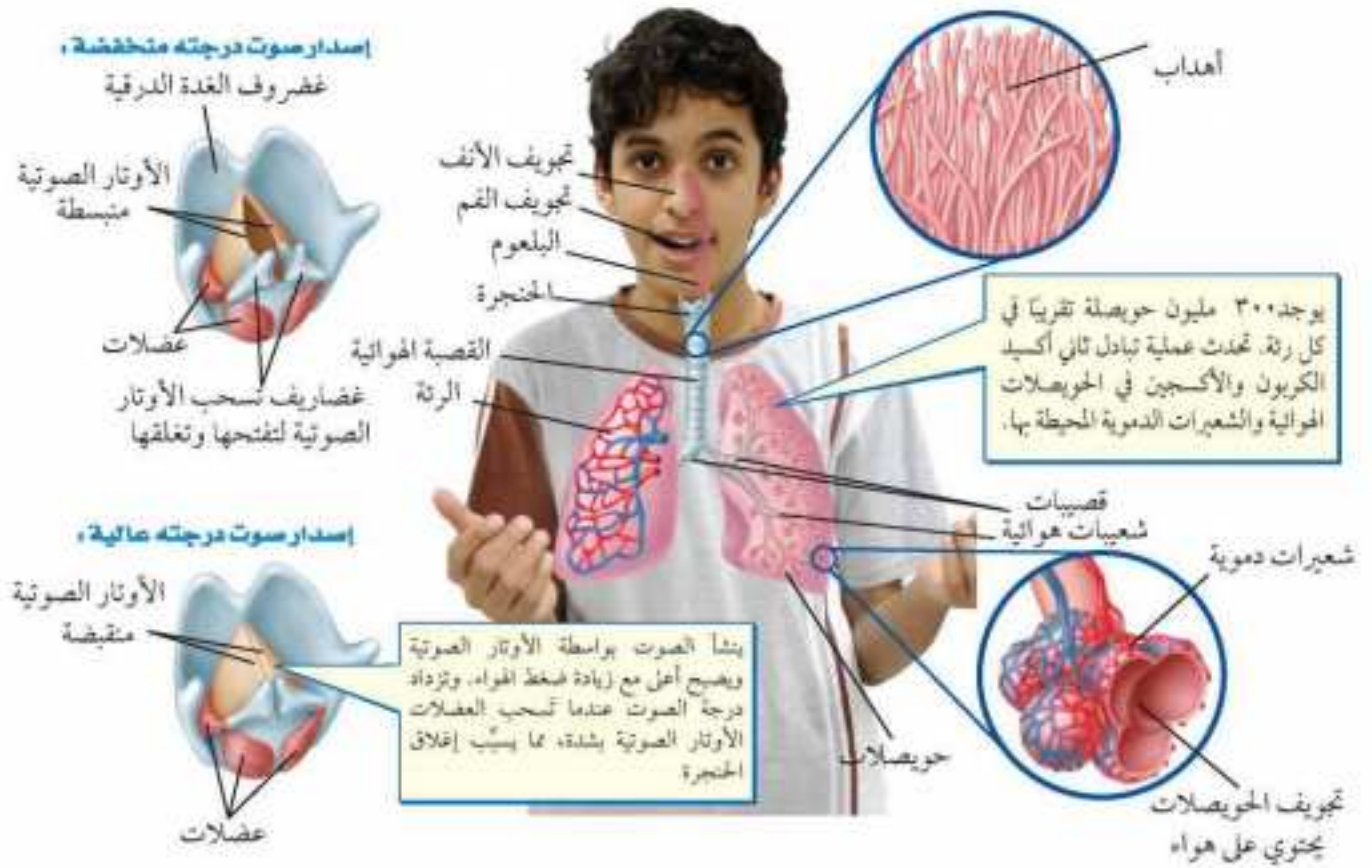
هل يستطيع رائد الفضاء السير على القمر دون أن يرتدي بدلة الفضاء، أو أن يغوص الغواص في أعماق المحيط دون أسطوانة الأكسجين؟ بالطبع لا، فالإنسان يحتاج إلى تنفس الهواء.

يدخل الهواء المحمل بالأكسجين إلى الرئتين، ثم ينتقل من الرئتين إلى جهاز الدوران؛ وذلك لأن كمية الأكسجين في الدم أقل من كمية الأكسجين في خلايا الرئة حيث يحمله الدم بالإضافة إلى الجلوكوز الذي امتصه من الجهاز الهضمي إلى الخلايا. وتوجد في الخلايا مواد أخرى ضرورية لحدوث سلسلة من التفاعلات الكيميائية تُسمى التنفس الخلوي، والذي لا يمكن حدوثه في غياب الأكسجين. ينتج عن التنفس الخلوي إطلاق الطاقة المخزنة في جزيء الجلوكوز، كما ينتج الماء وثنائي أكسيد الكربون بوصفهما فضلات يحملها الدم إلى الرئتين. وكما في الشكل ٩ فإن عملية الزفير هي التي تخلصك من ثاني أكسيد الكربون، ومن بعض جزيئات الماء.

ما المقصود بالتنفس الخلوي؟



الشكل ٩ تحدث عدة عمليات خلال عملية حصول الجسم على الأكسجين ونقله واستهلاكه.



أجزاء الجهاز التنفسي

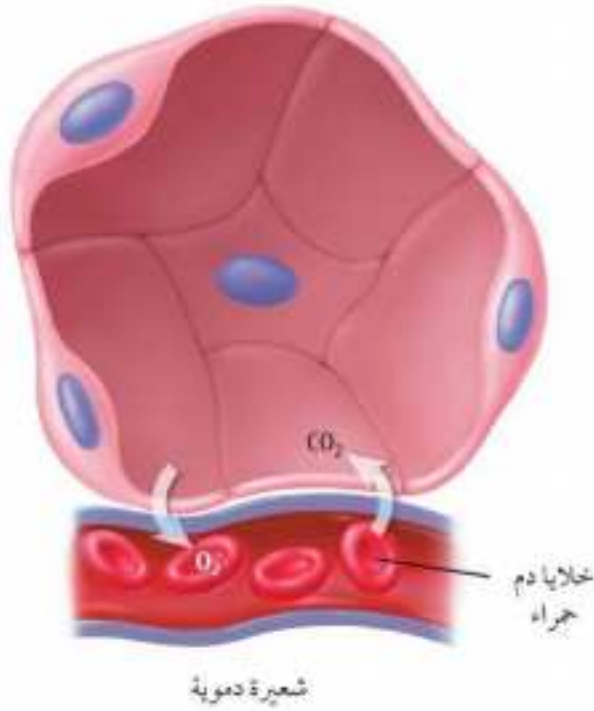
يتكون الجهاز التنفسي، كما في الشكل ١٠، من تراكيب تساعد على إدخال الأكسجين إلى الجسم وإخراج الفضلات الغازية منه. يدخل الهواء إلى الجسم عن طريق الأنف أو الفم، ويوجد في الأنف شعيرات صغيرة تخلص الهواء ممّا يعلق به من الشوائب والغبار، ثم يدخل الهواء إلى تجويف الأنف، حيث يتم ترطيبه وتدفئته. يُبطن التجويف الأنفيّ عددٌ مخاطية تفرز المخاط الذي يعمل على التقاط الشوائب التي لم تستطع الشعيرات التقاطها، وبذلك يدخل الهواء نظيفاً إلى الرئتين. وتتّوَج تراكيب صغيرة تشبه الشعيرات تُسمى الأهداب إلى الأمام والخلف، فتحرك المخاط والمواد العالقة إلى الخلف، وتخرجها إلى أسفل الحلق ليتم بلعها.

البلعوم يدخل الهواء الدافئ الرطب إلى **البلعوم** Pharynx، وهو أنبوب يمر خلاله الطعام والسوائل والهواء. ويوجد في آخر البلعوم لسان المزمار الذي يغلق المجرى التنفسي عند بلع الطعام، مما يمنع دخول السوائل والطعام إلى المجاري التنفسية. ترى، ماذا تتوقع أن يحدث عند بداية شعورك بالغصة؟

الشكل ١٠ يستطيع الهواء دخول الجسم عبر الأنف والفم.

وضوح فائدة استنشاق الهواء عبر الأنف وليس الفم.

حويصلة هوائية



الحنجرة والقصبه الهوائية ينتقل الهواء إلى الحنجرة، وهي ممر للهواء يتصل بأربعة أزواج من الأنسجة تسمى الأوتار الصوتية، كما في الشكل ١٠. ويسبب ضغط الهواء بين الأوتار الصوتية اهتزازها وإصدار الأصوات. فعندما تتكلم تعمل العضلات على شد الأوتار الصوتية أو إرخائها، كما ينسق الدماغ حركة العضلات في القصبه الهوائية واللسان والحدود والشفاة لكي تصدر الأصوات المختلفة، وتشترك الأسنان في تشكيل صوت الحروف والكلمات.

يتحرك الهواء من الحنجرة إلى **القصبه الهوائية** Trachea، التي تتكون من حلقات غضروفية غير مكتملة (على شكل حرف C)، الذي يضمن بقاء القصبه الهوائية مفتوحة، ويطن القصبه الهوائية غشاء مخاطي وأهداب، كما هو مبين في الشكل ١٠ في الصفحة السابقة. يصطاد الغشاء المخاطي الغبار والبكتيريا وحبوب اللقاح، ويمنعها من الدخول إلى الرئتين. أما الأهداب فتحرك المخاط إلى أعلى، مما يساعد على إخراجها لئلا يبلع أو طرده خارج الجسم عبر الأنف أو الفم. ولكن لماذا يجب أن تبقى القصبه الهوائية مفتوحة طوال الوقت؟

القصبيتان الهوائيتان والرئتان يدخل الهواء إلى الرئتين عبر أنبوبين قصيرين يوجدان في الجزء السفلي من القصبه الهوائية، يدخل كل منهما إلى إحدى الرئتين ويُسمى كل واحد منهما **القصبه الهوائية** Bronchi، تنفرع كل قصبه إلى أنابيب أصغر تسمى الشُعبيات الهوائية وتستمر في الفرع إلى أن تنتهي إلى مجموعات أكياس ذات جدران رقيقة تشبه عناقيد العنب تُسمى **الحويصلات الهوائية** Alveoli، وتُعد الرئة كتلة من الحويصلات، كما هو موضح في الشكل ١١. وتُحاط الحويصلات بشبكة من الشعيرات الدموية. يدخل الهواء إلى القصبه الهوائية، ثم إلى الشعبيات الهوائية، وأخيرًا إلى الحويصلات، فتحدث عملية تبادل الأكسجين وثنائي أكسيد الكربون بين الشعيرات الدموية والحويصلات الهوائية. ويساعد الجدار الرقيق لكل من الشعيرات الدموية والحويصلات على حدوث ذلك، انظر الشكل ١١. وينتقل الأكسجين خلال الغشاء البلازمي لخلايا الحويصلات، ثم خلال الغشاء البلازمي للشعيرات الدموية ليحملها الهيموجلوبين إلى خلايا الجسم. وفي الوقت نفسه يغادر ثاني أكسيد الكربون والفضلات الخلية، ويتحرك في اتجاه الشعيرات الدموية، ثم يحملها الدم إلى الرئتين، حيث تنتقل من الدم إلى الحويصلات الهوائية، ثم تغادر الجسم مع هواء الزفير.

الشكل ١١

يسمح جدار الحويصلة الهوائية الرقيق بتبادل الغازات بسهولة بين الحويصلة والشعيرات الدموية.

أذكر الغازين اللذين يتم تبادلهما بين الشعيرات الدموية والحويصلات.

لماذا تتنفس؟

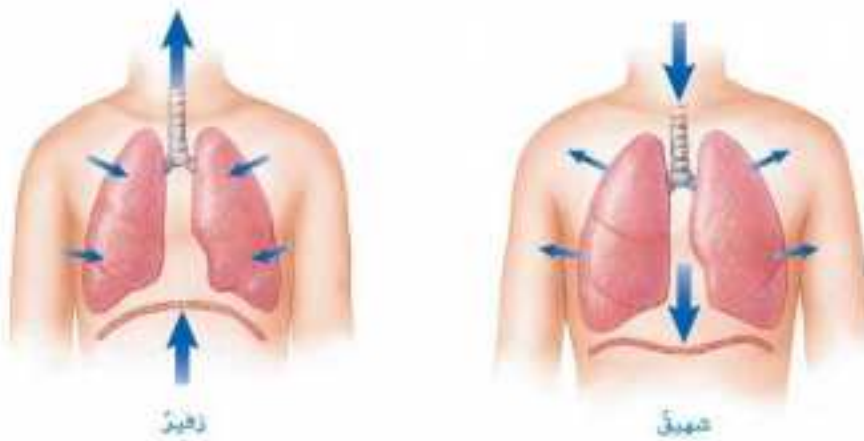
يرسل الدماغ إشارات إلى عضلات البطن والصدر لتنقبض وتنبسط، دون أن تحتاج إلى التفكير في ذلك. يستطيع الدماغ تغيير معدل التنفس تبعاً لكمية ثاني أكسيد الكربون الموجودة في الدم. فإذا كانت نسبة ثاني أكسيد الكربون عالية زاد معدل التنفس، ويقل إذا كانت كمية ثاني أكسيد الكربون في الدم قليلة. ويمكنك التحكم في تنفسك قليلاً، حيث يمكنك مثلاً التوقف عن التنفس فترة محددة، إلا أنه بعد وقت قليل يأمر الدماغ عضلات البطن والصدر بالعمل تلقائياً نتيجة تراكم ثاني أكسيد الكربون في الدم، أي أنك تتنفس شئت أم أبيت.

الشهيق والزفير يحدث التنفس جزئياً نتيجة التغيرات في حجم الرئتين، ومن ثم ضغط الهواء الناتج. في الظروف الطبيعية يتحرك الهواء من مناطق الضغط المرتفع إلى مناطق الضغط المنخفض، فعندما تقوم بالضغط على علبه بلاستيكية فإن الهواء يخرج منها؛ وذلك لأن ضغط الهواء خارج العلبه أقل مما داخلها؛ لأنك غيرت حجمها، وعندما تعود العلبه إلى شكلها الأصلي فإن ضغط الهواء داخل العلبه يصبح أقل، ويعود الهواء إليها مرة أخرى.

تعمل الرئتان بالطريقة نفسها، حيث ينقبض الحجاب الحاجز وينبسط مسبباً تغير حجم التجويف الصدري، ومن ثم ضغط الهواء داخله، مما يساعد على حركة الغازات من الرئتين وإليهما. ويوضح الشكل ١٢ عملية التنفس.

ماذا قرأت؟ كيف يساعد الحجاب الحاجز على التنفس؟

عندما يسد مجرى الهواء يستعمل المسعف طريقة الدفع البطني للتخلص من الجسم الذي يسبب الانسداد كما في الشكل ١٣.



الشكل ١٢ إنك تدخل ٥٠٠ مل تقريباً من الهواء في كل عملية تنفس. وقد تزداد هذه الكمية عندما تقوم بنشاط شاق.

تجربة

مقارنة مساحة السطح

الخطوات

١. ضع أنبوباً كرتونياً (أنبوب المناديل الورقية، مثلاً) في وعاء فارغ.
٢. املأ الأنبوب بكرات زجاجية.
٣. فرغ الأنبوب من الكرات وعدها.
٤. كرر الخطوات ٢ و٣ مرتين، ثم احسب متوسط عدد الكرات اللازمة لملء الأنبوب.
٥. إذا كانت مساحة السطح الداخلي للأنبوب ٢٩, ١٦١ سم^٢ تقريباً، ومساحة سطح الكرة الواحدة ٠,٦ ٨ سم^٢ تقريباً، فاحسب مساحة سطح مجموع الكرات المستعملة لملء الأنبوب.

التحليل

١. قارن مساحة السطح الداخلي للأنبوب بمساحة سطح الكرات اللازمة لملئه.
٢. إذا مثل الأنبوب القصبة الهوائية فماذا تمثل الكرات؟
٣. استعمل هذا النموذج لتفسير عملية تبادل الغازات في الرئتين بقاعلية.



كيف تحدث عملية التنفس؟
انقر على الصورة لتحميل العرض

تجربة عملية

عملية الدفع البطني

الشكل ١٣

عندما يدخل طعام أو أي جسم إلى القصبة الهوائية فإن مجرى الهواء بين الرئتين والقم والتجويف الأنفي يُغلق. وفي هذه الحالة، فإن التصرف الصحيح والمناسب قد ينقذ حياة المصاب. ويستعمل المسعف عملية الدفع البطني لدفع الحجاب الحاجز إلى أعلى بقوة، مما يؤدي إلى تقليل حجم التجويف الصدري فيدفع الهواء بقوة إلى خارج الجسم عبر القصبة الهوائية، فيدفع قطعة الطعام التي سببت الانسداد، وعندما يصبح المصاب قادرًا على التنفس مرة أخرى. هذه الطريقة موضحة في الشكل، ويجب عدم استعمالها إلا في الحالات الطارئة.

الطعام مستقر في القصبة
الهوائية للمصاب

يضع المسعف قبضة يده
عند معدة المصاب

تضيف يد المسعف
الأخرى قوة إلى قبضته

أ يقف المسعف خلف المصاب، ويلف ذراعه حول المصاب في اتجاه أعلى البطن، ويقبض يده بحيث يكون الإبهام مقابل معدة المصاب، ويجب أن تكون قبضة اليد تحت الأضلاع وفوق السرة.

ب بحركة حادة وقوية يضغط المسعف بقبضته إلى أعلى في اتجاه الأضلاع. ويجب تكرار هذه الحركات عدة مرات عند الضرورة.

الدفع إلى أعلى يخرج الطعام من
القصبة الهوائية للمصاب

الجدول ٤: خطر موت المدخنين بسبب الأمراض

خطر إصابة المدخنين مقارنة بغير المدخنين	المرض
٢٣ مرة أكثر عند الذكور ١١ مرة أكثر عند الإناث	سرطان الرئة
٥ مرات أكثر	التهاب القصبات المزمن وانتفاخ الرئة
أكثر مرتين	أمراض القلب



أمراض الجهاز التنفسي واختلالاته

إذا طلب إليك كتابة قائمة ببعض الأشياء التي قد تضر بصحة جهازك التنفسي فسوف تضع التدخين أولاً. وكما تشاهد في الجدول ٤ فإن العديد من الأمراض الخطيرة تنتج عن التدخين.

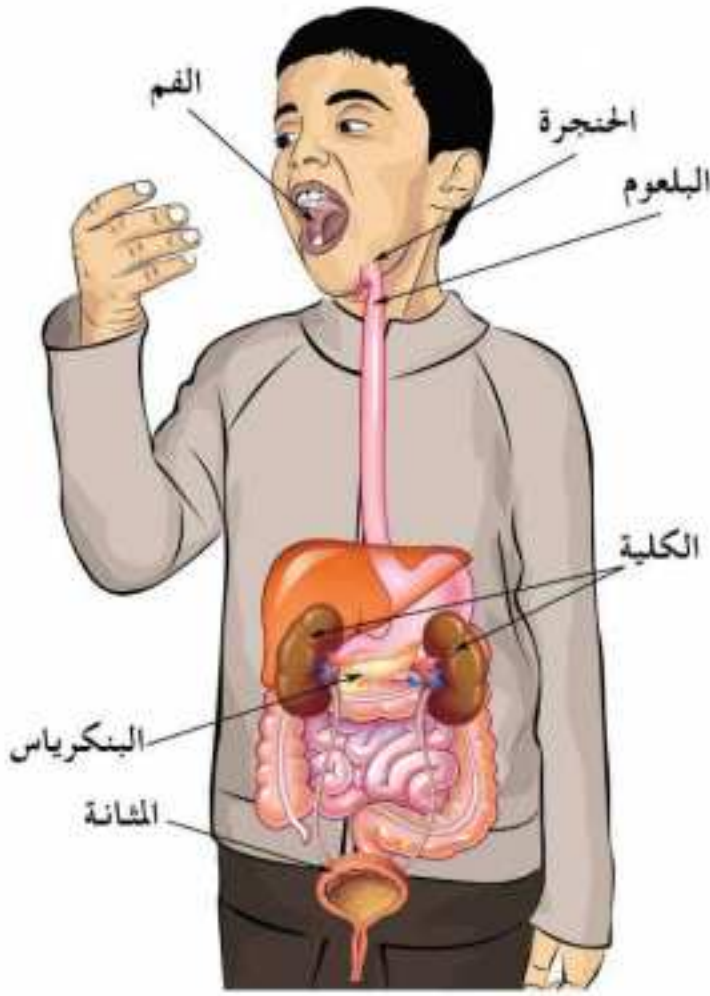
إن المواد الكيميائية الموجودة في التبغ - ومنها النيكوتين والقطران - مواد سامة تدمر الخلايا. كما أن درجة الحرارة المرتفعة والدخان وثنائي أكسيد الكربون الناتج عن عملية الاحتراق قد تضر خلايا المدخن. وحتى لغير المدخنين يضر استنشاق الدخان (فيما يسمى التدخين السلبي) بصحتهم ويؤدي أجهزتهم التنفسية. إن التدخين والهواء الملوث وغاز الفحم ومادة الأسبست هي أهم الأسباب التي تؤدي إلى مشكلات الجهاز التنفسي والتهاب القصبات والربو والسرطان.

أمراض الجهاز التنفسي المعدية تسبب البكتيريا والفيروسات والمخلوقات الحية الدقيقة الأخرى إصابات تؤثر في أعضاء الجهاز التنفسي. فالرشح من الأمراض الشائعة التي تؤثر في الجزء العلوي من الجهاز التنفسي (من الأنف إلى البلعوم)، ويسبب فيروس الرشح احتقان البلعوم وتهيجه، كما يسبب تهيج القصبة الهوائية والقصبيات، وقد تتضرر الأهداب المبطن للقصبة الهوائية والقصبيات، ولكنها سرعان ما تشفى.

التهاب القصبيات المزمن عندما تهيج القصبيات وتحتقن ويتنج الكثير من المخاط تتطور الحالة إلى الإصابة بالتهاب القصبيات، وغالباً ما تتعافى القصبيات خلال عدة أسابيع، إلا أن المرض يستمر أحياناً فترة أطول وعندما يحدث ذلك يطلق على هذا المرض "التهاب القصبيات المزمن".

العلوم عبر المواقع الإلكترونية

التدخين السلبي
ارجع إلى المواقع الإلكترونية عبر شبكة الإنترنت
للقوف على معلومات حول الموضوعات الصحية المتعلقة بالتدخين السلبي.
نشاط اكتب فقرة في دفتر العلوم تلخص فيها الآثار المحتملة للتدخين السلبي في صحتك.



انتفاخ الرئة ينتج هذا المرض عن زيادة حجم الحويصلات في الرئة. وعندما تحمّر الحويصلات وتتفخ يُفرز إنزيم يسبب تحطّم جدرانها، وبذلك لا تستطيع الحويصلات دفع الهواء خارج الرئتين، مما يؤدي إلى دخول كميات قليلة من الأكسجين إلى مجرى الدم، وزيادة كمية ثاني أكسيد الكربون، وهبوط في معدل التنفس.

سرطان الرئة يعدّ تنفس القطران الناتج عن التدخين سببًا رئيسًا للإصابة بسرطان الرئة؛ حيث يعدّ القطران -بالإضافة إلى المكونات الأخرى للتبغ- مادة مسرطنة. ومما تجدر معرفته أن سرطان الرئة يصعب اكتشافه في مراحله المبكرة. كما أنّ للتدخين علاقة بسرطان الفم والحلق والبلعوم والبنكرياس والكلى والمثانة، كما في الشكل ١٤.

الربو إن عدم القدرة على التنفس وكثرة السعال أعراض تظهر عند المصابين بالربو، وهو أحد أمراض الرئة. عندما يصاب الشخص بالربو فإنّ القصبات تنقبض بسرعة. ويكون علاج الربو باستنشاق دواء يعمل على ارتخاء القصبات. وقد يصاب الشخص بالربو عند استنشاق مواد غريبة تثير التحسس كرائحة السجائر، أو حبوب لقاح نباتات ماء، كما يصاب بسبب تناول بعض أنواع الأطعمة، أو كثرة الضغوط النفسية.

وظائف الجهاز الإخراجي

إنّ تراكم النفايات المنزلية في حاويات القمامة، وكذلك الطعام غير المهضوم في الجسم، دون التخلص منهما، يسببان العديد من المشكلات الصحية. لذا فإنّ الطعام غير المهضوم في الجسم يطرح خارجًا عبر الأمعاء الغليظة، بينما يتم التخلص من الفضلات الغازية عبر جهازَي الدوران والتنفس، كما تطرح بعض الأملاح مع العرق. وتعمل هذه الأجهزة مجتمعة بوصفها جزءًا من جهاز الإخراج في الجسم. وإذا لم يتم التخلص من الفضلات فإنّ المواد السامة تتراكم مسببة الضرر أو التلف لأعضاء الجسم. وإذا لم تعالج هذه المشكلة فقد يؤدي ذلك إلى الإصابة بأمراض خطيرة قد تؤدي إلى الموت، انظر الشكل ١٥.

الشكل ١٤ أكثر من ٨٥٪ من سرطان الرئة سببه تدخين التبغ، كما أنّ التدخين يلعب دورًا في تطور أنواع أخرى من السرطان في الجسم.

الجهاز البولي

يوضح الشكل ١٥ كيف يعمل الجهاز البولي بوصفه جزءاً من جهاز الإخراج. يخلص الجهازُ البولي الدمَّ من الفضلات الناتجة عن الخلايا خلال عملية التنفس الخلوي، كما يوازن بين كميات الأملاح والماء الضرورية للنشاطات الحيوية جميعها.

تنظيم مستوى السوائل يجب أن يبقى مستوى السوائل في الجسم متزنًا، وأن يكون ضغط الدم ثابتًا ليحافظ الإنسان على صحته. تقوم منطقة في الدماغ تسمى منطقة تحت المهاد بمراقبة مستوى الماء في الدم؛ فإذا لاحظت ارتفاعه فإنها تفرز كمية قليلة من هرمون يعمل على تقليل كمية الماء المعاد امتصاصه إلى الدم في الكلية، وبذلك تزيد كمية البول.

ماذا نأكل؟ كيف يساعد الجهاز البولي على التحكم في حجم الماء الموجود في الدم؟

أعضاء الجهاز البولي أعضاء الإخراج هو الاسم الآخر لهذه الأعضاء. تُعد الكليتان العضوَ الرئيس في الجهاز البولي، وتشبه كل واحدة منهما حبة الفاصولياء. وتقع الكليتان في الجهة الخلفية من البطن على مستوى الخصر، وتعملان على تنقية الدم من الفضلات التي جمعها من الخلايا. ويستغرق مرور جميع الدم الموجود في الجسم عبر الكليتين خمس دقائق تقريبًا. وتمتاز الكلية بلونها البني المحمر؛ لكثرة ما يمر بها من الدم. وتلاحظ في الشكل ١٦ أنَّ الدم يدخل إلى كل واحدة من الكليتين عبر شريان كبير ويغادرهما عبر وريد كبير.

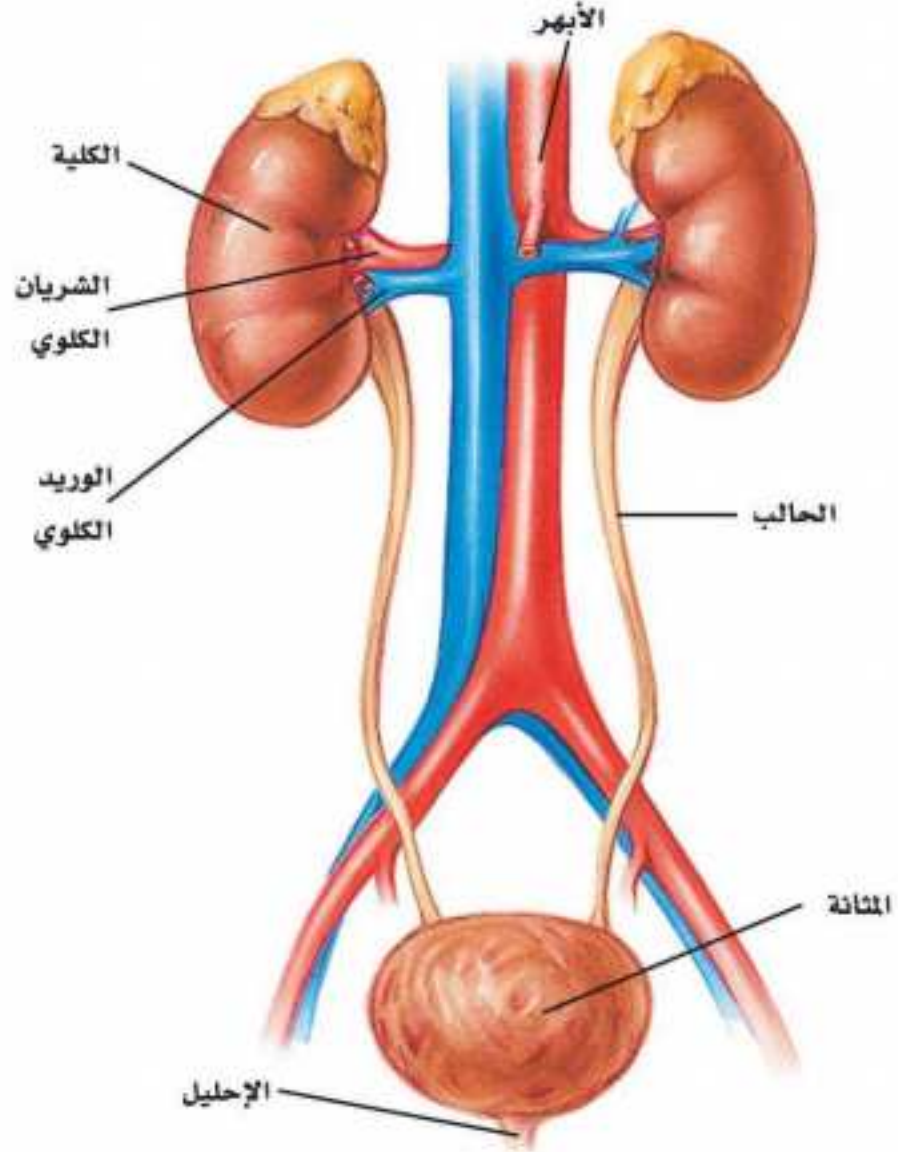
الشكل ١٥ الجهاز البولي والهضمي والتنفسي والجلد كلها تشكل جهاز الإخراج في جسم الإنسان.



الشكل ١٦ يخلص الجهاز البولي الدم

من الفضلات. يتكون الجهاز البولي من الكليتين والمثانة ومجموعة من الأنابيب.

وضح كيف تساعد الكلية الجسم على المحافظة على مستوى السوائل في الجسم؟

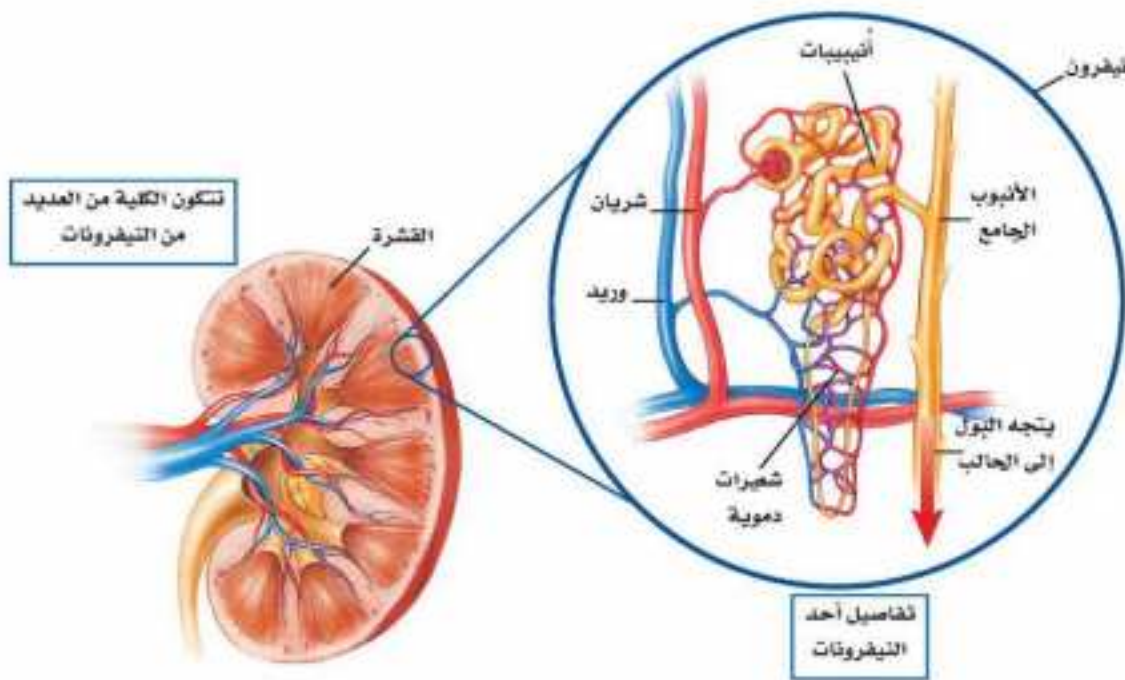


الترشيح هي الكلية نظام الترشيح الثاني هو الوصف الحقيقي لما يحدث في الكلية، كما هو موضح في الشكل ١٧. تتكون الكلية تقريبًا من مليون وحدة ترشيح دقيقة تسمى الوحدات الأنبوبية الكلوية أو **النيفرون** Nephrons. كما في الشكل ١٧، وتتكون الوحدات الأنبوبية الكلوية (النفرون) من تركيب كأس الشكل وتركيبة أنبوبي يسمى القناة. يتحرك الدم من الشريان الكلوي إلى الشعيرات الدموية الموجودة في التركيب الكأسية؛ حيث تحدث له أول عملية ترشيح، وخلال ذلك يغادر الماء والسكر والأملاح والفضلات الدم إلى التركيب الكأسية مخلفًا خلايا الدم والبروتينات. ثم تُدفع السوائل من الشكل الكأسية إلى الأنابيب الضيقة.

وتقوم الشعيرات الدموية المحيطة بالأنابيب بعملية الترشيح الثانية، حيث يُعاد معظم الماء والسكر والأملاح إلى الدم مرة أخرى. وتتحد الشعيرات الدموية لتشكل الأوردة الصغيرة، التي تندمج بدورها لتكون الوريد الكلوي في كل كلية. يعود الدم المُنقى إلى جهاز الدوران. أما السوائل فإنها تتجمع في الأنابيب الجامعة في كل كلية. ويحتوي البول على الماء الزائد والأملاح والفضلات الأخرى التي لم يتم إعادة امتصاصها. ويُخْرَج الفرد لترًا واحدًا تقريبًا من البول يوميًا.

جمع البول وإخراجه يتنقل البول في الأنابيب الجامعة إلى منطقة في الكلية تشبه المحقن، ثم إلى الحالبين. **والحالب Ureter** أنبوب يصل الكلية بالمثانة. **أما المثانة Bladder** فهي عضو عضلي مرن يخزن البول إلى حين إخراجه من الجسم، ويستطيع جدارها المرن التمدد بحيث تتسع لخمس لترات من البول. وأخيرًا تحمل القناة البولية (الإحليل) البول لي طرح خارج الجسم.

الشكل ١٧ الوحدة الأنبوبية الكلوية
تركيب معقد.
صف الوظيفة الرئيسية
للوحدة الأنبوبية الكلوية.



أمراض الجهاز البولي واختلالاته

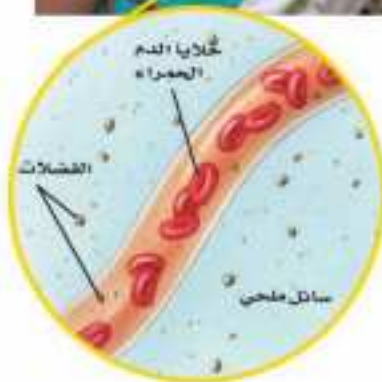
ماذا يحدث للشخص عندما لا تعمل كليته على نحو جيد أو تتوقف عن العمل؟ تتراكم الفضلات وتعمل بوصفها سمومًا، وبذلك يحدث عدم اتزان للأملاح. ويستجيب الجسم بمحاولة إعادة الاتزان إلى وضعه الطبيعي. فإذا لم يتمكن من ذلك فإن الكلية وأعضاء أخرى تتضرر. وقد يصاب الشخص بالفشل الكلوي إذا لم تعمل الكلية بشكل سليم. وعندما تتوقف الكلية عن العمل فإن الأمور الصحية تتفاقم؛ لأن عمل الكلية ضروري لأعضاء الجسم كلها.

ولأن الحالبين والقناة البولية أنابيب ضيقة، فمن السهل انسدادها، مما يسبب بعض الاختلالات. وقد يسبب ذلك سلسلة من المشكلات؛ لأن الجسم لا يمكنه التخلص من البول بطريقة صحيحة، وفي هذه الحالة قد تصاب الكلية بالفشل إذا لم تعالج.

لماذا تعد عملية انسداد الحالب أو القناة البولية مشكلة خطيرة؟

غسل الكلى يستطيع الإنسان العيش بصحة جيدة بوجود كلية واحدة؛ لأن حجم الكلية الصحية يزداد، وتعمل بشكل أكبر لتعويض الكلية المصابة. أما إذا أصيبت كلتا الكليتين بالفشل فيجب ترشيح دم الشخص المصاب بواسطة كلية اصطناعية، كما يوضح الشكل ١٨.

الشكل ١٨ تساعد الكلية الاصطناعية على تعويض بعض نشاطات الكلية المصابة، وتخليص الدم من الفضلات.



كيف يحصل الجسم على الماء؟ وكيف يفقده؟

يعتمد الجسم على الماء؛ فلو لا الماء لما استطاع الجسم القيام بوظائفه المختلفة. لهذا فإن الدماغ وجميع أجهزة الجسم مسؤولة عن موازنة الماء المفقود والماء المكتسب.

تحديد المشكلة

يوضح الجدول (أ) المصادر الرئيسة التي يحصل الجسم منها على الماء. وينتج الماء بوصفه فضلات خلال عملية أكسدة الطعام للحصول على الطاقة في خلايا الجسم. ويوضح الجدول (ب) المصادر الرئيسة التي يفقد الجسم بها الماء. وتظهر البيانات العلاقة بين كسب الماء وفقده.

الجدول أ: المصادر التي يحصل منها الجسم على الماء

النسبة	الكمية (مل)	المصدر
١٠	٢٥٠	أكسدة المواد الغذائية
٣٠	٧٥٠	الطعام
٦٠	١٥٠٠	السوائل
١٠٠	٢٥٠٠	المجموع

حل المشكلة

١. ما المصدر الرئيس للحصول على الماء في الجسم؟ وما المصدر الرئيس لفقدان الماء منه؟

٢. كيف تتغير نسبة الماء المكتسب إلى الماء المفقود عند شخص يعمل في درجة حرارة عالية جداً؟ أي أعضاء الجسم، في هذه الحالة، يسهم على نحو أكبر في فقدان الماء؟

الجدول ب: المصادر الرئيسة التي يفقد الجسم بها الماء

النسبة	الكمية (مل)	المصدر
٦٠	١٥٠٠	البول
٢٠	٥٠٠	الجلد
١٤	٣٥٠	الرئتان
٦	١٥٠	البراز
١٠٠	٢٥٠٠	المجموع

اختبر نفسك

١. اذكر الوظائف الرئيسة للجهاز التنفسي.
٢. صف عملية تبادل الأكسجين وثنائي أكسيد الكربون والفضلات الغازية الأخرى في الرئتين والأنسجة.
٣. وضح كيف يدخل الهواء إلى الرئتين؟ وكيف يخرج منهما؟
٤. صف تأثير التدخين في الجهاز التنفسي وجهاز الدوران.
٥. اذكر وظائف الجهاز البولي.
٦. وضح كيف تتخلص الكلية من الفضلات وتحفظ توازن السوائل والأملاح؟
٧. قارن بين الجهاز الإخراجي والجهاز البولي.
٨. التفكير الناقد
 - ما العلاقة بين عمل جهاز الهضم والدوران وبين جهاز التنفس؟
 - وضح أهمية إعادة امتصاص بعض المواد في الكلية لصحة الجسم.

تطبيق المهارات

٩. البحث عن المعلومات تحتوي السجائر على النيكوتين، وهي مادة سامة. ابحث في المكتبة عن تأثير هذه المادة في الجسم.
١٠. رسم المخططات واستعملها استعن بالمعلومات الواردة في الجدول أ (نشاط تطبيق العلوم) لعمل رسم بياني دائري للمصادر الرئيسة التي يحصل منها الجسم على الماء.
١١. الخريطة المفاهيمية باستعمال الخريطة المفاهيمية، قارن بين وظيفة الإخراج في كل من الكلية والرئة.

الخلاصة

وظائف الجهاز التنفسي

- يتحرك الصدر خلال التنفس لإدخال الهواء والتخلص من الفضلات في الرئة.
- يستهلك التنفس الخلوي الأكسجين ويحرر الطاقة من الجلوكوز.

أجزاء الجهاز التنفسي

- يدخل الهواء إلى الأنف أو الفم ثم إلى الحنجرة فالبلعوم فالقصبة الهوائية فالقصبيتين فالشعبيات الهوائية ثم إلى الحويصلات في الرئتين.
- يتم تبادل الأكسجين وثنائي أكسيد الكربون بين الشعيرات الدموية والحويصلات الهوائية.

لماذا نتنفس؟

- يرسل الدماغ رسائل إلى عضلات الصدر والبطن لتنقبض وتنبسط مما يؤدي إلى التحكم في سرعة التنفس.

أمراض الجهاز التنفسي واختلالاته

- تشمل أمراض الجهاز التنفسي التهاب القصبات، والربو، وسرطان الرئة.

وظائف الجهاز الإخراجي

- يخلص جهاز الإخراج الجسم من الفضلات.
- يشكل الجهاز الهضمي والجهاز التنفسي والجهاز البولي والجلد الجهاز الإخراجي.

الجهاز البولي

- يتحرك البول من الكلية عبر الحالبين إلى المثانة، ثم يغادر الجسم عبر القناة البولية.

أمراض الجهاز البولي واختلالاته

- يؤدي فشل الكلوي إلى تراكم الفضلات في الجسم.
- تساعد الكلية الاصطناعية على ترشيح الدم وتخليصه من الفضلات.

حجم الجسيمات والامتصاص

سؤال من واقع الحياة

قبل أن يصل الغذاء إلى الأمعاء الدقيقة، يهضم بطريقة ميكانيكية في الفم والمعدة؛ حيث يقل حجم الطعام ليصبح جسيمات صغيرة. يمكنك أن تمضغ تفاحة فتقطعها قطعاً صغيرة، ويمكنك كذلك إطعام طفلك صغير ليس له أسنان صلصة التفاح. ما فائدة تقليل حجم المواد الغذائية؟ وهل تقليل حجم جسيمات الطعام تساعد على عملية الهضم؟



الخطوات

١. انسخ جدول البيانات والملاحظات الآتي إلى دفتر العلوم.

زمن إذابة جسيمات السكر

زمن الذوبان	الكتلة	حجم دقائق السكر
		مكعب السكر
		جسيمات السكر
		جسيمات السكر المطحون

- ضع مكعب سكر في الهاون واطحنه بالمدق حتى يصبح السكر مسحوقاً.
- باستخدام الميزان وورق الوزن قس كتلة السكر المسحوق التي طحنت في الهاون، وباستخدام أوراق وزن أخرى قس كتلتي مكعب سكر وعينة جسيمات السكر. يجب أن تكون كتل السكر المطحون، ومكعب السكر، وجسيمات السكر، متساوية تقريباً. سجل الكتل الثلاث في جدول البيانات.
- ضع ماءً دافئاً في الكؤوس الثلاث، وباستخدام مقياس الحرارة تأكد أن درجات الحرارة فيها متساوية.
- ضع مكعب السكر في إحدى الكؤوس، والسكر المسحوق في الكأس الثانية، وجسيمات السكر في الكأس الثالثة، مراعيًا وضع عينات السكر الثلاث في الكؤوس الثلاث، وتشغيل ساعة الإيقاف في الوقت نفسه.

الأهداف

- **تقارن** بين معدل ذوبان أحجام مختلفة من الجسيمات.
- **تتوقع** أن معدل ذوبان حبيبات السكر أكبر من معدل ذوبان مكعبات السكر.
- **تتوقع** أن معدل ذوبان حبيبات السكر أقل من معدل ذوبان جسيمات السكر المطحون.
- **تستنتج** مستخدمًا نتائج الاستقصاء لماذا يجب أن يبسط الجسم ويذيب أجزاء الطعام.

المواد والأدوات

- كأس عدد (٣)
- هاون ومدق
- سكر على شكل مكعبات
- ماء دافئ
- مقياس حرارة عدد (٣)
- ميزان ثلاثي الأذرع
- ورق وزن
- ساعة إيقاف
- سكر على شكل حبيبات
- ساق زجاجية للتحريك

إجراءات السلامة



تحذير. لا تتناول أو تذوق أو تشرب أيًا من المواد المستخدمة في هذا العمل.

استخدام الطرائق العلمية

٦. حرك كل العينات بالتساوي.
٧. قس الزمن الذي تأخذه كل عينة سكر حتى تذوب، وسجل الوقت في جدول البيانات والملاحظات.

تحليل البيانات

١. حدد ثوابت و متغيرات التجربة.
٢. قارن معدل ذوبان عينات السكر. أي نوع من أشكال السكر ذاب أسرع؟ وأيها كان ذوبانه أبطأ؟

الاستنتاج والتطبيق

١. توقع كم تكون فترة ذوبان مكعب السكر أطول من فترة ذوبان حبيبات السكر؟ وتوقع كم تكون فترة ذوبان مسحوق السكر أقصر من فترة ذوبان دقائق السكر؟
٢. استنتج لماذا تذوب الجسيمات الصغيرة أسرع من ذوبان الجسيمات الكبيرة؟ ثم وضع ذلك.
٣. استنتج لماذا يجب أن تمضغ غذاءك مضغاً كاملاً.
٤. فسّر كيف يساعد تصغير حجم جسيمات الطعام في عملية الهضم؟

تواصل

بياناتك

اكتب مقالاً في مجلة الحائط توضح فيه لزملائك في الصف ما يجب أن يفعلوه لتحديث عملية هضم الطعام بشكل أفضل.



تساعد الناس على العيش بصحة جيدة، إلا أن راجا لكشمي تعلم أن ذلك لا يجدي في موطنها.

الوجبات المناسبة للهند

علمت راجا لكشمي أن الوجبات الغذائية ينبغي أن تكون من البيئة الهندية لكي تكون فعالة.

بحثت راجا ماذا تأكل الطبقة الوسطى الأصحاء؟ ثم قامت بأخذ ملاحظات حول المواد الغذائية المتوافرة في هذه الأطعمة.

ثم بحثت عن الأغذية الرخيصة التي تحتوي على المواد الغذائية نفسها، وقامت بإبتكار وجبة غذائية متوازنة من الفواكه والخضراوات والحبوب المحلية.

كانت فكرة راجا لكشمي غريبة في الستينات؛ فقد قالت إن هناك وجبات غذائية لا تحتوي على اللحم قد توفر جميع المواد الغذائية الرئيسة. ولأن برنامج راجا لكشمي قد ضاعف كمية الغذاء الذي يتناوله الأطفال في الهند، فإن العديد من الأطفال الجياع والمرضى نموا بصحة جيدة وأصبحوا أقوىاء.



هل تصلح وجبة غذائية محددة للجميع؟

شاهدت د. راجا لكشمي - التي عاشت في النصف الأول من القرن العشرين - العديد من الأشخاص حولها لا يحصلون على القدر الكافي من الطعام. فقد يكون فطور الأطفال الفقراء كوب شاي، وغداؤهم شريحة خبز، أما العشاء فقد يأكل الطفل حصة من الأرز أو قطعة صغيرة من السمك. هذا النوع من الوجبات يحتوي على القليل من السعرات الحرارية والمواد المغذية، مما يؤدي إلى مرض الأطفال والوفاة المبكرة.

وفي الستينات من القرن الماضي عملت راجا لكشمي على إدارة برنامج لتحسين مستوى التغذية في وطنها. لقد اقترحت منظمات الغذاء في شمال أمريكا وأوروبا أطعمة شائعة في موطنها

تقرير، ابحث عن الأطعمة الشعبية في منطقتك، واكتب قائمة بها، ووضح مكونات كل منها.

العلوم
بدر المواقع الإلكترونية

ارجع إلى المواقع الإلكترونية عبر شبكة الإنترنت.

مراجعة الأفكار الرئيسية

٢. في عملية التنفس يتحرك القفص الصدري بحيث يدخل الهواء إلى الرئتين، وتخرج الفضلات الغازية منهما.
٣. التنفس الخلوي تفاعل كيميائي يحدث داخل الخلايا، ويحتاج إلى الأكسجين لتحرير الطاقة، ويتج عنه ثاني أكسيد الكربون.
٤. يسبب التدخين مشكلات صحية في الجهاز التنفسي كالتهاب القصبات وانتفاخ الرئة والسرطان.
٥. الجهاز البولي جزء من الجهاز الإخراجي. الجلد والرئتان والأمعاء الغليظة هي كذلك أجزاء من الجهاز الإخراجي.
٦. الكلية هي العضو الرئيس في الجهاز البولي، وفيها تتم عملية ترشيح الفضلات على مرحلتين.
٧. عندما تُصاب الكلية بالفشل قد تُستعمل كلية اصطناعية لترشيح الدم.

الدرس الأول الجهاز القضي والمواد الغذائية

١. يحلل الهضم الميكانيكي الطعام بالتقطيع والطحن. وتقوم الإنزيمات والمواد الكيميائية الأخرى بهضمه كيميائياً.
٢. يمر الطعام بالفم فالبلعوم فالمرىء فالمعدة فالأمعاء الدقيقة ثم الأمعاء الغليظة ثم المستقيم ففتحة الشرج.
٣. تمتص الأمعاء الغليظة الماء لتحافظ على اتزان الجسم الداخلي.
٤. تقع الأطعمة في ست مجموعات غذائية، هي: الكربوهيدرات والدهون والبروتينات والفيتامينات والأملاح المعدنية والماء.
٥. تتأثر الصحة بالغذاء الذي تتناوله يومياً.

الدرس الثاني جهازا التنفس والإخراج

١. يساعد الجهاز التنفسي الجسم على الحصول على الأكسجين والتخلص من ثاني أكسيد الكربون.

تصور الأفكار الرئيسية

أعد رسم الجدول التالي، عن جهازَي التنفس والإخراج، ثم أكمله.

أجهزة جسم الإنسان		
الجهاز الإخراجي	الجهاز التنفسي	
		الأعضاء الرئيسية
		الفضلات التي يتم طرحها
		الاختلالات والأمراض

استخدام المفردات

املا الفراغ فيما يلي بالكلمة المناسبة:

١. _____ هي انقباض عضلات المريء.
٢. الوحدات البنائية للبروتينات _____.
٣. _____ هي المواد الغذائية غير العضوية.
٤. _____ هي وحدات الترشيح في الكلية.
٥. _____ الأكياس ذات الجدر الرقيقة الموجودة في الرئة.
٦. _____ كيس عضلي مرن يخزن البول.

تثبيت المفاهيم

اختر الإجابة الصحيحة في كل مما يلي:

٧. ما الجزء الذي يحدث فيه معظم الهضم الكيميائي؟
 - أ. الاثنا عشر
 - ب. المعدة
 - ج. الكبد
 - د. الأمعاء الغليظة
٨. أي الأعضاء التالية يتم فيها امتصاص معظم الماء؟
 - أ. الكبد
 - ب. الأمعاء الدقيقة
 - ج. البلعوم
 - د. الأمعاء الغليظة
٩. أي الأعضاء التالية عضو ملحق بالقناة الهضمية؟
 - أ. الفم
 - ب. الأمعاء الغليظة
 - ج. المعدة
 - د. الكبد

١٠. أي المواد الغذائية التالية تصنعها البكتيريا في الأمعاء الغليظة؟

- أ. الدهون
 - ب. الفيتامينات
 - ج. الأملاح المعدنية
 - د. البروتينات
١١. إلى أي المجموعات الغذائية ينتمي اللبن والجبن؟
- أ. الأطعمة الغنية بالكالسيوم
 - ب. البروتينات
 - ج. الحبوب
 - د. الفواكه

١٢. أي مما يلي ينقبض عند الشهيق ويتحرك إلى أسفل؟

- أ. الشعبتان الهوائيتان
- ب. الحويصلات الهوائية
- ج. الحجاب الحاجز
- د. القصبة الهوائية

١٣. التراكيب التي تحدث بينها وبين الشعيرات الدموية عملية تبادل الغازات، هي:

- أ. الحويصلات
- ب. الشعبتان الهوائيتان
- ج. القصبات
- د. الشعبات

التفكير الناقد

١٦. اعمل جدولاً تبيين فيه تسلسل أعضاء الجهاز الهضمي تبعاً لانتقال الطعام فيها. حدد في الجدول ما إذا كانت تحدث في العضو عملية بلع أو هضم أو امتصاص أو إخراج.

١٧. قارن بين الأنواع الثلاثة من الكربوهيدرات (السكر والنشا والألياف).

١٨. صنف ثلاثة مكوّنات من الشطائر (الساندويشات) المفضلة لديك إلى مجموعة المواد الغذائية التي تنتمي إليها: كربوهيدرات، أو بروتينات، أو دهون.

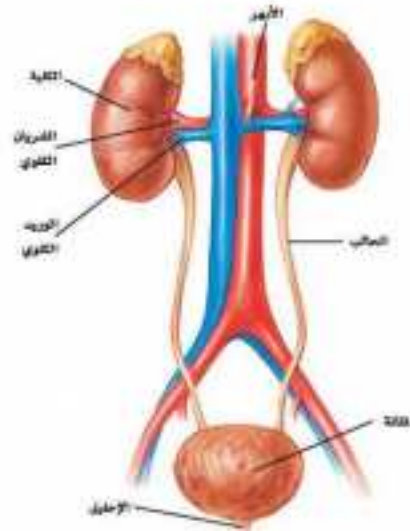
١٩. ميّز السبب والنتيجة. ناقش العلاقة بين نقص الأكسجين في الجسم ونقص الطاقة التي يحتاج إليها.

٢٠. كوّن فرضية تتعلق بعدد مرات التنفس التي يقوم بها الشخص كل دقيقة في الحالات التالية:
النوم، التمرين، صعود جبل. حدد سبب تكوين كل فرضية.

٢١. ارسم خريطة مفاهيمية تبين من خلالها كيف يتكون البول في الكلية، مبتدئاً بـ "في التفريعات".

٢٢. صف كيف تؤثر الحويصلة الصفراء في عملية الهضم؟

١٤. أيّ الأجزاء الموضحة في الرسم التالي يُجمع فيه البول؟



أ. الكلية

ب. الحالب

ج. المثانة

د. الإحليل

١٥. أي المواد التالية لا يتم إعادة امتصاصها بعد مرورها في الكلية؟

أ. الأملاح

ب. الفضلات

ج. السكر

د. الماء

تطبيق الرياضيات

٢٥. جريان الدم في الكلية يمر في الكليتين ٥ لترات من الدم (جميع الدم في الجسم) كل خمس دقائق تقريبًا. احسب متوسط معدل جريان الدم في الكليتين باللتر لكل دقيقة.

استعن بالشكل التالي للإجابة عن السؤال ٢٦.

السعة الكلية للرئتين



السعة الكلية للرئتين - ٥٨٠٠ مل

■ حجم الهواء عند الاستنشاق والزفير بصورة طبيعية.

■ حجم الهواء الإضافي الذي يمكن استنشاقه بقوة.

■ حجم الهواء الإضافي الذي يمكن إخراجه (في الزفير) بقوة.

■ حجم الهواء المتبقي في الرئتين بعد زفير قوي.

٢٦. السعة الكلية للرئتين ما حجم الهواء (مل) المتبقي في الرئتين بعد كل عملية زفير قوية؟

٢٣. وضح أهمية البكتيريا التي تعيش في الأمعاء الغليظة.

أنشطة تقويم الأداء

٢٤. استبانة حضر استبانة يمكن استعمالها لمقابلة متخصص صحي يعمل مع مرضى سرطان الرئة، أو أحد أمراض الجهاز البولي. ضمن هذه الاستبانة سبب اختياره هذه المهنة، والطرائق الحديثة للعلاج، وأكثر الأشياء تشجيعًا على هذه المهنة أو أقلها تشجيعًا.

الجزء الأول: أسئلة الاختيار من متعدد

١. أي مما يلي يسبب أمراض جهاز الدوران؟

أ. التدخين ج. استخدام مادة الأسبست

ب. الجري د. التعرض للأشعة فوق البنفسجية

٢. أي مما يلي يعد من وظائف الدم؟

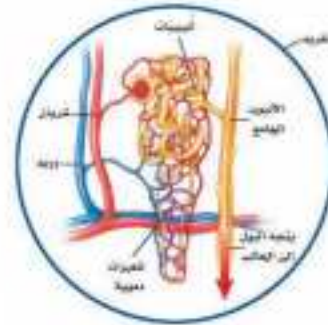
أ. إفراز اللعاب في الفم

ب. إفراز الأملاح خارج الجسم

ج. نقل المواد الغذائية إلى خلايا الجسم

د. التخلص من اللفظ المحيط بالخلايا

استعمل الشكل التالي للإجابة عن السؤال ٣.



٣. ما التركيب الذي يظهر في الشكل؟ وما الجهاز الذي

ينتمي إليه؟

أ. الشعيرات الدموية - جهاز الدوران.

ب. الحويصلات الهوائية - جهاز التنفس.

ج. الوحدات الأنبوبية الكلوية - الجهاز البولي.

د. الحالب - جهاز الإخراج.

٤. أي الأمراض التالية يسببها التدخين؟

أ. سرطان الرئة ج. الأنفلونزا

ب. السكري د. التهاب المثانة

٥. أي مما يلي لا تفرزه الغدة العرقية؟

أ. الماء ج. الفضلات

ب. الملح د. الدهون

جمعت البيانات الموضحة في الجدول أدناه، خلال أداء أحد أنشطة مختلفة.

النشاط	معدل النبض (نبضة/دقيقة)	درجة حرارة الجسم	كمية التعرق
١	٨٠	٣٧	لا يوجد
٢	٩٠	٣٧,١	متدنية جداً
٣	١٠٠	٣٧,١	قليلة
٤	١٢٠	٣٧,٣	متوسطة
٥	١٥٠	٣٧,٥	كثيرة

استخدم الجدول أعلاه في الإجابة عن السؤالين ٦ و٧.

٦. أي الأنشطة سببت خفض معدل نبض أحد دون

(١٠٠ نبضة/دقيقة)؟

أ. نشاط ٢ ج. نشاط ٤

ب. نشاط ٣ د. نشاط ٥

٧. ما المتوقع أن يفعله أحد في النشاط ٢:

أ. الركض ج. الجلوس

ب. المشي د. المشي ببطء

٨. أي الأمراض التالية غير معدية؟

أ. التيتانوس ج. الملاريا

ب. الأنفلونزا د. السكري

الجزء الثاني | أسئلة الإجابات القصيرة

٩. تُنتج خلايا الدم الحمراء في نخاع العظم بمعدل مليوني خلية في الثانية. ما عدد خلايا الدم الحمراء التي تُنتج خلال ساعة؟
١٠. ماذا يحدث إذا أُعطي شخص فصيلة دمه O دمًا فصيلته A؟

استعمل الشكل التالي للإجابة عن السؤال ١١.



١١. ماذا نتوقع أن يحدث إذا أغلقت خثرة دم الوعاء الدموي المشار إليه بالرمز A؟
١٢. كيف يساعد الجلد على حماية الجسم من الأمراض؟
١٣. وضح بعض السلوكيات الصحية التي تقيك من الإصابة بالأمراض المعدية.

استعن بالفقرة التالية، والجدول الذي يليها للإجابة عن الأسئلة ١٤-١٦.

جمع الأطباء خلال أيام معلومات تبين كمية الماء التي يكسبها أو يفقدها أربعة مرضى. ويظهر الجدول التالي النتائج التي حصلوا عليها.

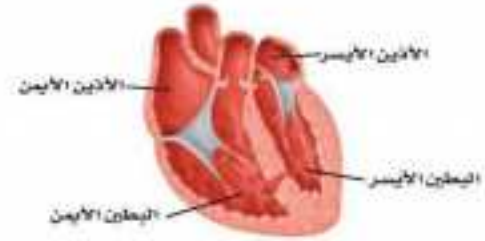
(-) كمية الماء المكتسب		(+) كمية الماء المفقود		المرضى
اليوم الثالث (لتر)	اليوم الثاني (لتر)	اليوم الأول (لتر)	اليوم الرابع (لتر)	
٠,٣٥-	٠,١٥+	٠,١٥+	٠,١٢+	أحمد
٠,٢-	٠,٠	٠,٠١-	٠,٠١-	عامر
٠,٢٨-	٠,٢+	٠	٠,٠١+	سعيد
٠,٥٥-	٠,٥-	٠,٥-	٠,٣٢-	عبدالله

١٤. ما متوسط الماء الذي فقده عبد الله خلال أربعة أيام؟
١٥. أي المرضى كسب أكبر كمية من الماء في اليومين الأول والثاني؟
١٦. اعتمادًا على البيانات أعلاه، ما اليوم الذي نتوقع أن تكون قد سُجلت فيه أعلى درجة حرارة في غرفة كل مريض؟

الجزء الثالث | أسئلة الإجابات المتوقعة

١٧. كيف يعمل الجهاز اللمفي وجهاز الدوران معًا.

استعمل الشكل التالي للإجابة عن السؤال ١٨.



١٨. ما الخطأ في صورة القلب أعلاه؟ فسر إجابتك.

١٩. ما الذي يستمر فترة أطول: المناعة الطبيعية أم المناعة الاصطناعية؟ وضح إجابتك.

٢٠. عزل الدكتور محمد بكتيريا افترض أنها تسبب مرضًا

تم اكتشافه مؤخرًا. كيف يمكنه إثبات فرضيته؟ وما

الخطوات التي يجب أن يتبعها؟

٢١. تتضرر الأهداب خلال التهاب القصبيات. وضح دور

الأهداب في الجهاز التنفسي. وما تأثير ذلك في الجهاز

التنفيسي؟

٢٢. قارن بين دور المخاط في الجهاز الهضمي ودوره في الجهاز التنفسي.

٢٣. ما الذي قد يحدث لدرجة حرارة الجسم إذا لم تحتوي الأوعية الدموية على العضلات الملساء؟

٢٤. استنتج طبيب من خلال نتائج فحص البول لمريض ما أن البول به نسبة من البروتين. ماذا يعني ذلك؟

استعمل الشكل الآتي للإجابة عن السؤال ٢٥.

٢٥. ما الملح المعدني الموجود في الأطعمة التي توضحها

الصورة؟ وضح أهمية تناول الأطفال والبالغين

كميات مناسبة من هذه الأطعمة.



مصادر تعليمية للطالب

- الطرائق العلمية ١٩٧
- السلامة في مختبرات العلوم ٢٠٦
- رموز السلامة في المختبر ٢٠٨
- مهارات العروض الصفية ٢٠٩
- مسرد المصطلحات ٢١٠



الطرائق العلمية



الشكل ١ يمكن أن تكون شبكة المواقع الإلكترونية أداة بحث قيّمة.

تقويم مصادر المعلومات ليست جميع المصادر معتمدة، وعليك دائماً تقويم هذه المصادر واعتماد المصادر الموثوقة. فالمواقع الحكومية مثلاً أكثر مصداقية إذا أردت البحث عن بيوت أكثر ترشيحاً في استهلاك الطاقة. وتذكر دائماً أن البحث يتغير، فاسترشد دائماً بالمصادر الحديثة. فمصادر ترشيح استهلاك الطاقة عام ١٩٨٥ م مثلاً لا تعكس المستجدات الحديثة في هذا المجال هذا العام.

يستخدم بعض العلماء بيانات لم يقوموا بجمعها بأنفسهم. لذا يجب أن تقوّم بعناية، وأن تسأل كيف تم الحصول عليها؟ وهل تم تنفيذ الاستقصاء العلمي بشكل ملائم، أم تم نقل النتائج نفسها؟ وهل يمكنك أن تحصل على النتائج نفسها من هذه البيانات؟ وتأكد من أن ما لديك من معلومات وبيانات إنما هو من مصادر موثوقة وصحيحة حتى تطمئن إلى استخدامها.

يستخدم العلماء منهجاً منتظماً لحل المشكلات، يسمى الطريقة العلمية. وعلى الرغم من تنوع الطرائق العلمية إلا أنها تتضمن غالباً مجموعة محددة من الخطوات، تتميز بممارسة المهارات العلمية في أثناء تنفيذها.

تحديد السؤال

الخطوة الأولى في الاستقصاء العلمي أو في التجارب العلمية هي تحديد السؤال أو المشكلة المطلوب حلها. فمثلاً، يمكن أن تسأل: أي المنظفات أفضل في غسل الملابس؟

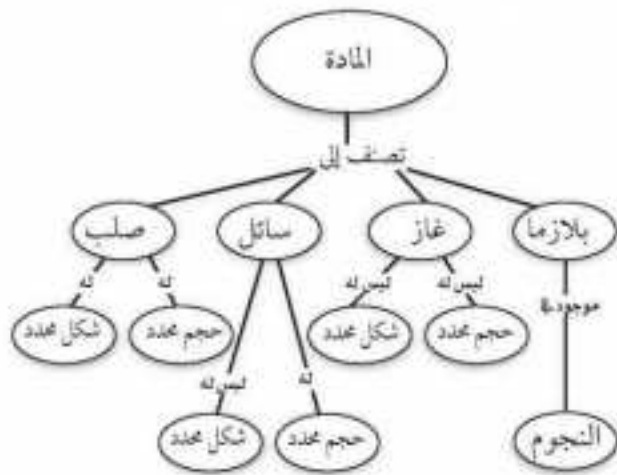
جمع المعلومات وتنظيمها

بعد تحديد سؤالك، تبدأ في جمع المعلومات وتنظيمها. وهناك طرائق متعددة لجمع المعلومات، منها البحث في المكتبة، ومقابلة أشخاص لديهم معرفة واسعة في موضوع السؤال، وإجراء اختبارات وتجارب في المختبر أو في الميدان. والعمل الميداني هو استقصاءات ورصد لمشاهدات خارج المختبر.

البحث عن المعلومات قبل استئناف العمل، من المهم أن تجمع المعلومات المعروفة عن الموضوع. ابدأ بطرح أسئلة مختلفة لتساعدك على تحديد ما تحتاج إليه من معلومات، ثم ابحث عن المعلومات من مصادر مختلفة، كما يفعل الطالب في الشكل ١. ومن هذه المصادر الكتب والمراجع والموسوعات والمجلات المتخصصة والمواقع الإلكترونية. اعمل دائماً قائمة بالمصادر والمراجع التي استعنت بها.

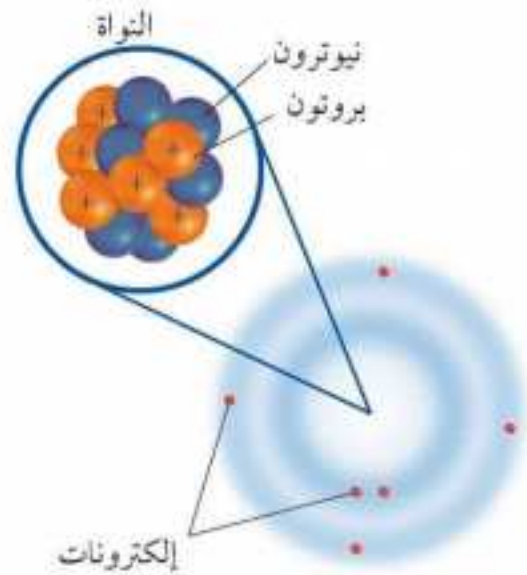
شبكة المفاهيم نوع من خرائط المفاهيم يظهر العلاقة بين المفاهيم، وكيف ترتبط في شبكة كما في الشكل ٣. في هذه الشبكة تكتب الكلمات في الشكل البيضي، بينما يكتب الوصف على الخطوط التي تصل بين الأشكال البيضية.

عند تصميم مثل هذه الشبكات، اكتب المفهوم الرئيس والمفاهيم الفرعية، كلاً على بطاقة ورقية، ثم رتبها متسلسلة من العام إلى الخاص، وقم بتفريع المفاهيم الصغيرة من المفاهيم الكبيرة، وارسم خطوطاً بينها، وكتب وصفاً للعلاقة التي تربط بينها.



الشكل ٣ تظهر شبكة المفاهيم العلاقة بين المفاهيم أو الأشياء. **سلسلة الأحداث** هي أحد أشكال خرائط المفاهيم، وتسمى أحياناً المخططات الانسيابية، وهي خريطة مفاهيمية تصف تسلسل الأحداث أو الخطوات أو مراحل الدورات. فعند تكوين سلسلة أحداث، ابدأ بالحدث المحفز، ثم الحدث التالي حتى تصل إلى الناتج الأخير، كما في الشكل ٤.

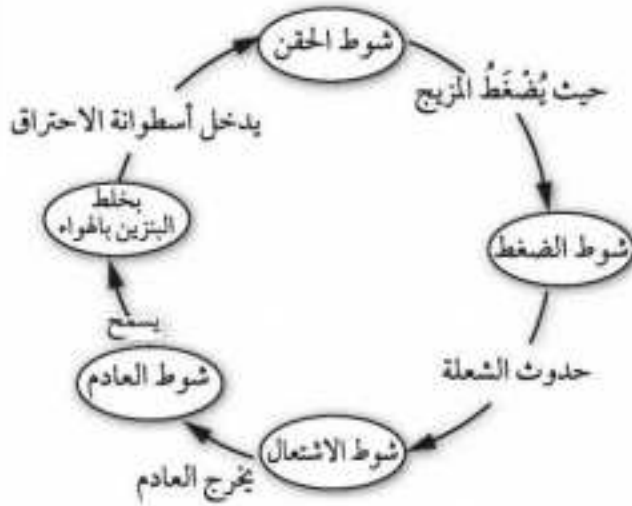
تفسير الرسوم العلمية عندما تبحث في موضوع معين في العلوم سوف ترى أشكالاً ورسوماً بيانية وصوراً تساعدك على فهم ما تقرأه، وتصور الأفكار المجردة، مثل جسيمات الذرة الموضحة في الشكل ٢. تساعد الرسوم البيانية على تذكر الأجزاء بسهولة، وإعطاء أمثلة على المفاهيم الصعبة، وتوفير معلومات إضافية حول الموضوع الذي تبحث عنه. ومعظم الرسوم لها عناوين تدل عليها.



الشكل ٢ يمثل هذا الرسم ذرة الكربون التي لها ٦ بروتونات، و ٦ نيوترونات، و ٦ إلكترونات.

خريطة المفاهيم من طرائق تنظيم البيانات رسم مخطط يظهر العلاقة بين الأفكار (المفاهيم). وتساعد خريطة المفاهيم على إعطاء المعاني والمصطلحات وضوحاً أكثر، وتساعدك على فهم وتذكر ما تعلمته. وخريطة المفاهيم مفيدة جداً في تجزئة المفاهيم إلى مفاهيم أصغر، وجعل التعلم أكثر سهولة.

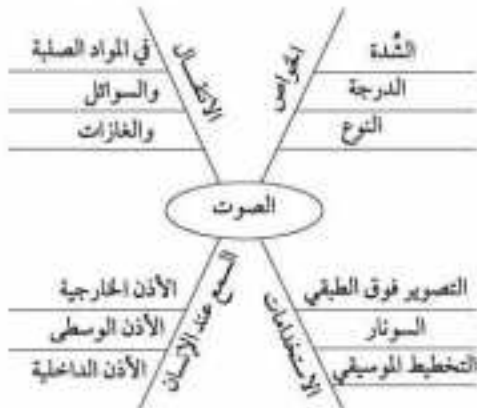
في خريطة الدورات، ولكنها في الغالب تحتوي على ثلاثة أحداث أو أكثر.



الشكل ٥ تظهر خريطة الدورة الأحداث التي تحدث في آلة الاحتراق الداخلي.

الخريطة العنكبوتية (الشبكية)

هي نوع من خرائط المفاهيم التي يمكن استخدامها للعصف الذهني، عندما يكون لديك فكرة رئيسة؛ فقد تجد هناك مجموعة من الأفكار غير المنظمة المرتبطة بالفكرة الرئيسية، ولكنها غير مترابطة معاً. ويظهر الشكل ٦ أنه يمكن كتابة الأفكار وتصنيفها في مجموعات يسهل الاستفادة منها.



الشكل ٦ الخريطة العنكبوتية تساعد على وضع قائمة بالأفكار المرتبطة بالفكرة الرئيسية.

الحادث المحفّز



الشكل ٤ تظهر خريطة مفاهيم سلسلة الأحداث ترتيب الخطوات في عملية أو حدث. وتظهر سلسلة الأحداث هذه كيف ينشأ صدى الصوت.

خريطة الدورات

تحدث بعض سلاسل الأحداث في دورة. وتستخدم خريطة الدورات عندما تكون هناك سلسلة من الأحداث التي تتكرر، وتعيد نفسها في دورة، كما في الشكل ٥. ولعمل خريطة الدورات عليك أولاً أن تقرر الحدث الأول الذي يُسمى أيضاً الحدث المحفّز، ثم الحدث الثاني في الترتيب، حتى تصل إلى الحدث الأخير الذي يرجع ثانية إلى الحدث المحفّز. ويمكن كتابة كلمات بين الأحداث تصف ما يحدث بين كل حدث، والذي يليه في الدورة. يختلف عدد الأحداث

عمل النماذج هو من الطرائق التي تساعدك على فهم الأجزاء في تركيب معين، وفهم العمليات، أو لتظهر الأشياء أصغر أو أكبر، ومثال ذلك نموذج الذرة المصنوع من كرة بلاستيكية تمثل النواة، وأسلاك تمثل مدارات الإلكترونات؛ حيث يساعدك هذا على تصور كيف ترتبط مكونات الذرة معًا. وبعض النماذج الأخرى تصمم بالحاسوب.

تكوين فرضية

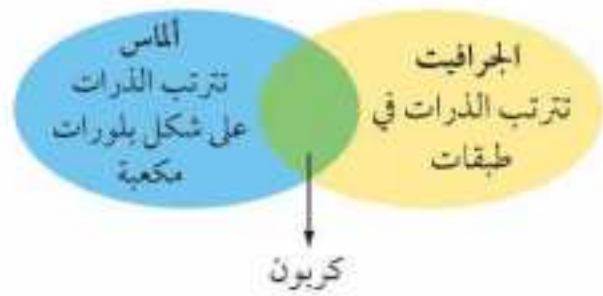
الفرضية تفسير محتمل مبني على معارف ومشاهدات سابقة. يمكنك مثلاً وضع فرضية حول أفضل أنواع بنزين السيارات. وحتى تكون الفرضية صادقة يجب أن تكون قابلة للاختبار.

التوقع هو افتراض مسبق مبني على المشاهدات والتجارب السابقة والمنطق العلمي. يقوم الناس يوميًا بافتراض توقعات لاتخاذ قرارات. ويختبر العلماء التوقعات بتنفيذ استقصاءات. وبناءً على مشاهداتك وخبرتك الحياتية يمكنك أن تتوقع أن البنزين ٩٥ أكثر كفاءة من البنزين ٩١، وهذا التوقع يمكن اختباره.

تصميم التجربة يحتاج العلماء إلى اتخاذ العديد من القرارات قبل بدء أي استقصاء علمي. ومنها: كيف يمكن تنفيذ الاستقصاء؟ وما الخطوات التي يجب اتباعها؟ وكيف سيتم تسجيل البيانات؟ وكيف سيجمع الاستقصاء عن السؤال الرئيس؟ ومن المهم أيضًا تحديد شروط السلامة الواجب اتباعها.

مخطط فن تستطيع استخدام مخطط فن لتوضيح أوجه التشابه والاختلاف بين الأشياء والأحداث؛ حيث يمكنك مشاهدة الخواص العامة المشتركة؛ والخواص المختلفة لكل من الجرافيت والماس، كما في الشكل ٧.

ولعمل مخطط فن، ارسم شكلين بيضيين متقاطعين، واكتب الخواص المميزة لكل منهما في شكل بيضي، واكتب الخواص المشتركة بينهما في الجزء المتقاطع.



الشكل ٧. يقارن مخطط فن بين مادتين مكوّنتين من الكربون.

استخدام الجداول تستخدم الجداول في تنظيم المعلومات وجعلها سهلة الفهم. وتتضمن الجداول أعمدة وكلمات أو كليهما.

ولعمل الجدول اكتب البنود التي تود مقارنتها في العمود الأول، والخواص في الصف الأول. ويجب أن يعكس عنوان الجدول محتواه بوضوح.

الجدول ١. تجميع نفايات قابلة للتدوير في أسبوع

اليوم	ورق (حجم)	أومليونوم (حجم)	زجاج (حجم)
الاثنين	٥,٠	٤,٠	١٢,٠
الأربعاء	٤,٠	١,٠	١٠,٠
الجمعة	٢,٥	٢,٠	١٠,٠

وفي العديد من التجارب تستخدم التجارب الضابطة للمقارنة بين النتائج التجريبية ونتائج التجارب الضابطة. فلتصميم تجربة ضابطة مثلاً يمكن استخدام سيارتين في الوقت نفسه، بحيث تمثل التجربة الضابطة السيارة التي تستخدم الجازولين (٩١) مدة أربعة أسابيع.

جمع البيانات

سواء أكنتم تقوم بتنفيذ استقصاء علمي أو تجربة بسيطة تعتمد على الملاحظة فإنكم ستقوم بجمع البيانات اللازمة، انظر الشكل ٩. يجمع العلماء البيانات على شكل أرقام أو وصف، وينظمونها في طريقة محددة.

الملاحظة يلاحظ العلماء الأشياء والأحداث ويسجلون ما يشاهدونه، ويستخدمون الكلمات لوصف المشاهدات، وتُعرف هذه البيانات بالتنوع أو الوصفية. أما إذا استخدم العلماء الأرقام والكلمات، فتسمى هذه البيانات الكمية. فعند وصف الذهب بأنه أصفر وثقيل مثلاً فهذه بيانات نوعية، أما البيانات الكمية لهذه العينة من الذهب فتشمل مثلاً كتلتها هي ٣٠ جم، وكثافته ١٩,٣ جم/سم^٣.



الشكل ٩ جمع البيانات بطريقة مباشرة لجمع المعلومات.

اختبار الفرضية

بعد أن وضعت فرضيتك، تحتاج إلى اختبارها مستخدماً الاستقصاء، وعمل مشاهدات وجمع بيانات أو معلومات قد تدعم فرضيتك هذه أو تنفيها. والعلماء يجمعون بيانات مختلفة، على شكل أرقام وأوصاف ينظمونها.

اتباع الخطوات لكي تعرف أي المواد تستخدم، وبأي ترتيب، عليك أن تتبع خطوات محددة. ويظهر الشكل ٨ الخطوات التي يمكن اتباعها لاختبار فرضيتك حول البنزين.

الخطوات

١. استخدم الجازولين ٩١ مدة أسبوعين
٢. سجل الكيلومترات التي قطعها بكمية الجازولين التي استخدمتها.
٣. استخدم الجازولين (٩٥) مدة أسبوعين آخرين.
٤. سجل الكيلومترات التي قطعها بكمية الجازولين (٩٥) التي استخدمتها

الشكل ٨ الخطوات التي يمكن اتباعها لاختبار الفرضية.

تحديد العوامل الثابتة والعوامل المتغيرة

والتعامل معها من المهم في أي تجربة أن تحافظ على بقاء كافة العوامل ثابتة، ما عدا العامل الذي تريد اختياره، ويُسمى العامل المستقل، تأكد أن يكون هناك عامل واحد مستقل تريد اختياره، ففي تجربة الجازولين مثلاً كان العامل المستقل هو نوع الجازولين، أما العامل التابع فهو كفاءة الجازولين.

عينة لإجراء البحث أن تكون ممثلة للشيء أو الجماعة؛ حيث تساعدك الملاحظات الدقيقة التي تسجلها، والمتغيرات التي تستخدمها في العينة على اكتشاف معلومات واشتقاق استنتاجات تنطبق على أفراد مجتمع الدراسة كافة. والعينة التي تم اختيارها بشكل غير مناسب قد لا تمثل الكل، فإذا أردت مثلاً قياس كمية سقوط المطر المتساقط فمن المؤكد أن تحت الشجرة مثلاً ليس مكاناً مناسباً لأخذ العينة.



الشكل ١٠ سجل البيانات بطريقة منظمة وواضحة ليسهل فهمها.

القياس أنت تستخدم القياسات يوميًا، وكذلك يستخدمها العلماء عند جمع البيانات، وعند أخذ القياسات يجب أن تعرف جيدًا كيف تستخدم أداة القياس.

عندما تسجل مشاهدات يجب عليك أولاً تفحص الشيء أو الحدث كاملاً، ثم النظر بدقة إلى التفاصيل. ومن المهم أن تسجل مشاهداتك بدقة وبشكل تام ومباشرة حتى لا تنسى أي تفاصيل. لا تسجل أي ملاحظات على ورق جانبي، بل سجلها على دفتر الملاحظات، الشكل ١٠. وعند تسجيل مشاهداتك، اكتبها بطريقة منظمة وواضحة لتسهيل قراءتها لاحقاً. وفي كل مرحلة من التجربة سجل مشاهداتك وعنوانها حتى لا تضطر إلى وضع عنوان لها في المستقبل. وعندما تستخدمها صمّم جداولك مسبقاً، وعنوانها لتكون جاهزة عند استخدامها. وتجنب التحيز إلى رأيك الشخصي عند جمع البيانات.

الطول لقياس الطول - وهو المسافة بين نقطتين - يستخدم العلماء الأمتار. تقاس المسافات القصيرة بالستيمترات والملمترات، وبوحدات قياس أقل من ذلك.

يستخدم المتر لقياس الأطوال، وعند قياس طول جسم توضع حافة المسطرة (٠ سم) عند نهاية الجسم كما في الشكل ١١. وتُقاس المسافة بالوحدات الكبيرة (سم)، وكذلك بالوحدات الأصغر الملمتر (مم). طول الجسم في الشكل ١١ هو ٥,٤ سم.

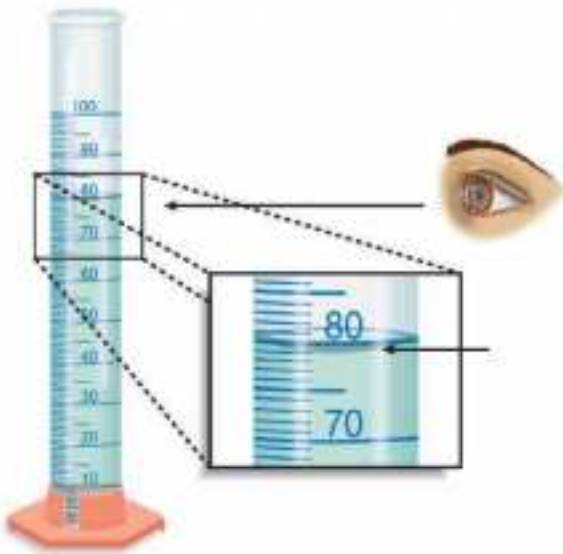
التقدير يستخدم العلماء التقدير للحكم على حجم الشيء أو عدده دون إجراء قياسات أو حسابات. وهذا مهم جداً عندما يكون عدد الشيء أو العينة كبيراً جداً، ويصعب قياسه بدقة.

العينة قد يستخدم العلماء العينة أو جزءاً من العدد الكلي بوصفه نوعاً من التقدير. وعليك عند اختيار



الشكل ١١ هذه المسطرة لها أجزاء مكونة من ستيمترات وملمترات.

الشكل ١٣ مدرج من قاعدته إلى أعلى بالملمترات، وقد تستخدم في المختبر مخبارًا مدرجًا قياس ١٠ مل أو ١٠٠ مل. وعند قياس حجم السائل، لاحظ السطح الهلالي للسائل، وانظر إلى مستوى سطح السائل. يقيس المخبار المدرج في الشكل ١٣ حجم السائل وهو ٧٩ مل أو ٧٩ سم^٣.



الشكل ١٣ يقيس المخبار المدرج حجم السائل.

درجة الحرارة يقيس العلماء درجة الحرارة باستخدام مقياس الحرارة الترمومتر. درجة حرارة تجمد الماء النقي هي صفر°س، ودرجة غليانه ١٠٠°س عند ضغط جوي يساوي واحدًا. ووحدة قياس درجة الحرارة هي السيليزية، كما يمكن قياس درجة الحرارة باستخدام مقياس الفهرنهايت ومقياس كلفن.

الكتلة وحدة قياس الكتلة في النظام الدولي هي الكيلوجرام (كجم)، وهناك وحدات أصغر، مثل الجرام، والملجرام. ولقياس الكتلة، قد تستخدم موازين ثلاثية الأذرع، كما في الشكل ١٢. وللميزان كفة يوضع فيها الجسم، ويوجد على الأذرع قطع منزلق لمعرفة كتلة الجسم. ويمكنك تحريك هذه القطع على الأذرع. ولمعرفة كتلة جسم نضعه على كفة الميزان. ثم تحسب مجموع الأوزان على الأذرع الثلاثة. وبدلاً من وضع الأجسام في كفة الميزان، توضع في أوعية كتلتها معروفة ويتم وزن الجسم والوعاء معاً، ولمعرفة كتلة الجسم يتم طرح كتلة الوعاء من كتلة الجسم والوعاء معاً.



الشكل ١٢ يستخدم الميزان الثلاثي الأذرع لقياس كتلة جسم.

حجم السائل لقياس حجم السوائل تُستخدم وحدة اللتر. يستخدم العلماء وحدات أصغر تُسمى المللتر. والمللتر يعادل حجم مكعب أبعاده ١ سم من كل جهة، ولذا فإن المللتر يعادل ستمتراً مكعباً (سم^٣ = ١ سم × ١ سم × ١ سم). ويطلق عليه مصطلح (مل).

يمكنك استخدام كأس زجاجية ومخبار مدرج لقياس حجم سائل. المخبار المدرج الموضح في

تحليل البيانات التي جمعوها، وكل أسلوب يناسب نمطاً معيناً محدداً.

تفسير البيانات تعني كلمة (تفسير) توضيح معنى شيء ما. عند تحليل بيانات تجربة، حاول أن تجد ما تظهره البيانات، وحدد المجموعة الضابطة والمجموعة التجريبية لمعرفة ما إذا كان التغير في العامل المستقل له أثر أو ليس له أثر.

ابحث عن العوامل المستقلة في كل من المجموعة الضابطة والمجموعة التجريبية.

التصنيف وضع الأشياء أو الأحداث في مجموعات بناءً على صفات عامة يُسمى التصنيف. وعندما تقوم بالتصنيف لاحظ أولاً الأشياء أو الأحداث التي ستصنفها، ثم اختر صفة واحدة مشتركة بين بعض أفراد المجموعة، وليس بين أفراد المجموعة كلها. وضع الأفراد الذين لهم الصفة نفسها في مجموعة جزئية، وبتكرار العملية مع أفراد المجموعة الجزئية تصنف الأفراد في مجموعات جزئية أصغر فأصغر.

المقارنة يمكن تحليل المشاهدات والملاحظات بتحديد أوجه التشابه وأوجه الاختلاف بين جسمين أو حدثين، وعندما تنظر إلى الأشياء أو الأحداث لتحديد أوجه التشابه والاختلاف بينهما فإنك تقارن بينهما.

تحديد السبب والنتيجة السبب هو المبرر لوقوع الحدث أو الحالة، والنتيجة هي الحدث أو الحالة. يصعب أن نجزم عند توافق حدثين معاً بأن أحدهما مسبب للآخر. وعلى العلماء أن يصمموا تجربة مضبوطة لتحديد السبب والنتيجة.



الشكل ١٤ يستخدم مقياس الحرارة لقياس درجة حرارة الأجسام. ومعظم مقاييس الحرارة في المختبرات عبارة عن أنبوب زجاجي في نهايته مستودع يحتوي على سائل مثل الكحول الملون، ويرتفع السائل في الأنبوب أو ينخفض كلما تغيرت درجة الحرارة. ولقراءة درجة الحرارة حرك المقياس الحراري بشكل دائري حتى تتمكن من مشاهدة السائل الملون، ثم ضع المقياس الحراري بشكل عمودي داخل الإناء بدون أن يلامس قاعه وأقرأ درجة الحرارة عند نهاية السائل.

تكوين تعريفات إجرائية يحدد التعريف الإجرائي جسماً ما عن طريق وظيفته، وكيف يعمل أو يسلك. وقد يكون للأشياء أكثر من تعريف إجرائي. فمثلاً، يمكن تعريف المسطرة بأنها أداة لقياس أطوال الأجسام، ويمكن استخدامها كأداة معيارية.

تحليل البيانات

لتحديد معنى نتائج مشاهداتك وملاحظاتك واستقصائك، عليك أن تنظر إلى نمط البيانات، وعليك أن تستخدم التفكير الناقد لتحديد ماذا تعني هذه البيانات. يستخدم العلماء أساليب متعددة عند

الاستنتاج

تجنب التحيز تتضمن الاستقصاءات العلمية إصدار أحكام، وعندما تصدر حكمًا تكون رأيًا. ومن المهم جدًا أن تكون صادقًا وألا تتحيز لأي من النتائج المتوقعة، وهذا مهم جدًا خلال مراحل الاستقصاء كاملة بألا تكون متحيزًا بدءًا من مرحلة جمع البيانات وحتى استخلاص الاستنتاجات.

عندما يحلل العلماء البيانات التي قاموا بجمعها يبدوون بعملية استخلاص النتائج منها. وتُصاغ هذه الاستنتاجات في كلمات شبيهة بالفرضية التي شكلتها سابقًا. وقد تؤيد هذه الاستنتاجات الفرضية أو تقود إلى فرضية جديدة.

التواصل

إن إيصال الأفكار جزء مهم من عمل العلماء. وإن الاكتشافات التي لا تسجل لا تسهم في تطوير فهم المعرفة العلمية عند العلماء. والتواصل بين العلماء أمر مهم لتحسين الاستقصاء العلمي، وهو يتم بينهم بطرائق مختلفة من كتابة المقالات في المجلات لتوضيح استقصاء دراستهم وتجاربهم إلى إعلان الاكتشافات المهمة عن طريق التلفاز والإذاعة. كما يشارك العلماء زملاءهم في أبحاثهم عن طريق المواقع الإلكترونية أو بتقديم محاضرات، كما في الشكل ١٥.

الاستنتاج يقوم العلماء غالبًا بعمل استدالات من ملاحظاتهم، والاستدلال محاولة لتفسير الملاحظات أو تحديد السبب، والاستنتاج أو الاستدلال ليس حقيقة، ولكنه خلاصة منطقية تحتاج إلى مزيد من الاستقصاء. فقد تستنتج مثلاً أن النار تسبب الدخان.

التطبيق عندما تستنتج يجب أن تطبق هذه الاستنتاجات لتحديد مدى دعمها للفرضية، فإذا لم تدعمها فإن الفرضية غير صحيحة، وهذا يعني أن النتائج لم تدعم الفرضية، أو قد تكون التجربة بحاجة إلى إعادة تصميم، أو أن الملاحظات كانت غير كاملة ومجزأة. وعادة لا يتطابق الاستقصاء الجيد دائمًا مع التوقعات الأولية.



الشكل ١٥ يتواصل الطالب بنتائج أبحاثه مع زملائه.

السلامة في مختبرات العلوم

٥. لا تأكل أو تشرب أو تمضغ العلك، أو تستخدم أدوات الزينة. ولا تستخدم زجاجيات المختبر في الأكل أو الشرب، وأبعد يديك دائماً عن فمك ووجهك.
٦. اعرف طريقة الاستخدام الصحيحة لكل من مرش الماء، ومغسل العينين، وبطانية الحريق ومنبه الحريق وطفاية الحريق وموقع كل منها.

قواعد السلامة العامة

١. استأذن معلمك قبل البدء في عمليات الاستقصاء واستخدام أدوات المختبر.
 ٢. ادرس طريقة العمل واسأل معلمك عن أي استفسار، وتأكد من فهمك لشروط السلامة المذكورة في بداية الصفحة.
 ٣. أخبر معلمك عن أي مشاكل صحية أو تحسّس قد يؤثر في مشاركتك في المختبر.
 ٤. تعلم واتبع الطريقة السليمة الآمنة لاستخدام أدواتك، واسأل معلمك إذا كنت غير متأكد.
١. استخدم أدوات السلامة المتوافرة ومنها النظارات الواقية ومعطف المختبر والقفازين في أثناء تنفيذ الاستقصاء.
 ٢. لا تستخدم رذاذ الشعر، أو أي مستحضرات أخرى للشعر قابلة للاشتعال، واربطي شعرك إذا كان طويلاً، واربطي ملابسك الفضفاضة.
 ٣. لا تلبس الصنادل أو الأحذية المفتوحة في المختبر.
 ٤. لا تذوق أي مادة أو تسحب السوائل بالأنابيب الماصة بفمك.
 ٥. التصرف اللائق متوقع في المختبر؛ فالمزاح والتصرف غير المنضبط يؤدي إلى حوادث وإصابات.

العمل في المختبر

١. احصل على جميع أدوات ومواد التجربة، واحملها بطريقة صحيحة إلى منطقة العمل الخاصة بك قبل البدء في إجراء التجربة.
٢. ابق في منطقة العمل الخاصة بك، ما لم يطلب إليك معلمك تركها.
٣. أبعد فوهة الأنبوب بعيداً عنك وعن زملائك دائماً، عندما تقوم بالتسخين أو إضافة المواد إليها أو غسلها.



- اغسل يديك بالماء والصابون جيداً قبل خلع النظارة الواقية.

حالات الطوارئ

- أخبر معلمك عند حدوث أي حريق، أو صدمة كهربائية، أو كسر أدوات زجاجية، أو حدوث إصابات حتى لو كانت بسيطة، واتبع تعليماته.
- إذا اشتعلت النار في ملابسك فتوقف عن الحركة، وانزل على الأرض وتدحرج. وإذا كان ممكناً فأخذ النار باستخدام بطانية الحريق، أو اذهب إلى مرش السلامة، ولا تركض.
- إذا حدث حريق فأغلق مصادر الغاز وغادر الغرفة مسرعاً وفقاً للإجراءات المتبعة.
- ينظف معلمك غالباً المواد المنسكبة، فلا تحاول تنظيفها بنفسك إلا إذا طلب إليك وأعطاك تعليمات بذلك.
- إذا سقط شيء من مادة كيميائية على جلدك أو عينيك، فأخبر معلمك مباشرة، واستخدم غسول العيون أو اشطف جلدك أو عينيك بكميات كبيرة من الماء.
- يجب استخدام طفاية الحريق من قبل معلمك فقط ما لم تكن الحالة طارئة جداً وأعطيت الأمر للقيام بذلك.
- إذا أصيب أحد بجرح أو أصبح مريضاً، فإن المختصين في الطب أو رجال الإسعافات الأولية المؤهلين هم من يقدمون المساعدة والإسعافات الأولية.

- إذا طلب إليك شم رائحة مادة في علبه فاحمل العلبه بعيداً عنك قليلاً، ثم ادفع بخار المادة بكفك في اتجاه أنفك.



- لا تستبدل بأي مادة مذكورة في التجربة مادة أخرى إلا إذا طلب إليك معلمك ذلك.
- لا تأخذ أي مادة كيميائية إلى خارج المختبر.
- ابق بعيداً عن مناطق التخزين إلا إذا طلب إليك معلمك ذلك وتحت إشرافه.

تنظيف المختبر

- أطفئ المصابيح المشتعلة، وأغلق صنبور الماء والغاز، وافصل جميع مصادر الكهرباء.
- نظف القطع والأدوات جميعها، وأعد المواد إلى مكانها المناسب.
- نخلص من المواد الكيميائية والمواد التي تم استخدامها في التجربة وفق إرشادات معلمك، وضع قطع الزجاج المتكسرة والمواد الصلبة في وعاء النفايات المخصص لذلك، ولا ترم شيئاً منها في المغسلة.
- نظف منطقة عملك.

رموز السلامة في المختبر

الرمز	المخاطر	الأمثلة	الاحتياطات	العلاج
	مخلفات التجربة قد تكون ضارة بالإنسان.	بعض المواد الكيميائية، والمخلفات حية.	لا تتخلص من هذه المواد في القسلة أو في سلة المهملات.	تخلص من المخلفات وفق تعليمات المعلم.
	مخلفات ومواد حية قد تسبب ضرراً للإنسان.	البكتيريا، الفطريات، الدم، الأنسجة غير المحفوظة، المواد النباتية.	تجنب ملامسة الجلد لهذه المواد، وارتد كمامة وقفازيين.	أبلغ معلمك في حالة حدوث ملامسة للجسم، وغسل يديك جيداً.
	الأشياء التي قد تحرق الجلد بسبب حرارتها أو يرودها الشديدين.	غليان السوائل، المسخانات الكهربائية، الجليد الجاف، النيتروجين السائل.	استعمال قفازات واقية.	اذهب إلى معلمك طلباً للإسعاف الأولي.
	استعمال الأدوات والزجاجات التي تخرج الجلد بسهولة.	المقصات، الشفرات، السكاكين، الأدوات المعدنية، أدوات التشريح، الزجاج المكسور.	تعامل بحكمة مع الأدوات، واتبع إرشادات استعمالها.	اذهب إلى معلمك طلباً للإسعاف الأولي.
	خطر محتمل على الجهاز التنفسي من الأبخرة.	الأمونيا، الأستون، الكبريت الساخن، كرات العث (الفتالين).	تأكد من وجود تهوية جيدة، ولا تشم الأبخرة مباشرة، وارتد كمامة.	اترك المنطقة، وأخبر معلمك فوراً.
	خطر محتمل من الصعقة الكهربائية أو الحريق.	تأريش غير صحيح، سوازل منسكية، تماس كهربائي، أسلاك معزاة.	تأكد من التوصيلات الكهربائية للأجهزة بالتعاون مع معلمك.	لا تحاول إصلاح الأعطال الكهربائية، واستعن بمعلمك فوراً.
	مواد قد تهيج الجلد أو الغشاء المخاطي للثدي التنفسية.	حبوب الفلاح، كرات العث، سلك تنظيف الأواني، ألياف الزجاج، برمنجنات البوتاسيوم.	ضع واقياً للعيان وارتد قفازين وتعامل مع المواد بحرص شديد.	اذهب إلى معلمك طلباً للإسعاف الأولي.
	المواد الكيميائية التي قد تتفاعل مع الأنسجة والمواد الأخرى وتلحقها.	البيضات مثل فوق أكسيد الهيدروجين والأحماض كحمض الكبريتيك، قواعد كالأمونيا وهيدروكسيد الصوديوم.	ارتد نظارة واقية، وقفازيين، وليس معطف المختبر.	اغسل المنطقة المصابة بالماء، وأخبر معلمك بذلك.
	مواد تسبب التسمم إذا ابتلعت أو استنشقت أو لمست.	الزئبق، العديد من المركبات الفلزية، البود، النباتات السامة.	اتبع تعليمات معلمك.	اغسل يديك جيداً بعد الانتهاء من العمل، وذهب إلى معلمك طلباً للإسعاف الأولي.
	بعض الكيماويات التي يسهل اشتعالها بواسطة اللهب، أو الشرر، أو عند تعرضها لحرارة.	الكحول، الكيروسين، الأستون، برمنجنات البوتاسيوم، اللايس، الشعر.	تجنب مناطق اللهب عند استخدام هذه الكيماويات.	أبلغ معلمك طلباً للإسعاف الأولي واستخدم مطفأ الحريق إن وجدت.
	ترك اللهب مفتوحاً يسبب الحريق.	أربط الشعر إلى الخلف، الملابس، ولا تلبس اللايس الفضفاضة، واتبع تعليمات المعلم عند إشعال اللهب أو مطفأته.	اربط الشعر إلى الخلف، الملابس، ولا تلبس اللايس الفضفاضة، واتبع تعليمات المعلم عند إشعال اللهب أو مطفأته.	أبلغ معلمك طلباً للإسعاف الأولي واستخدم مطفأ الحريق إن وجدت.

-  غسل اليدين بعد غسل يديك بعد كل تجربة بالماء والصابون قبل نزح النظارة الواقية.
-  سلامة العين يجب دائماً ارتداء نظارة واقية عند العمل في المختبر.
-  وقاية الملابس يظهر هذا الرمز عندما تسبب المواد بقعاً أو حرقاناً للملابس.
-  سلامة الحيوانات يشير هذا الرمز للتأكيد على سلامة المخلفات الحيوانية.
-  نشاط إشعاعي يظهر هذا الرمز عند استعمال مواد مشعة.



العروض الصفية باستخدام الحاسوب Computer Presentations

هناك العديد من برامج الحاسوب التفاعلية المختلفة التي تستطيع استعمالها لدعم عرضك الصفي. وكثير من الحواسيب فيها محركات أقراص تستطيع تشغيل الأقراص المدمجة (CD) وأقراص الأفلام الرقمية (DVD). وهناك طريقة أخرى تستخدم فيها الحاسوب لمساعدتك في عرضك الصفي، وهي عمل عرض الشرائح باستخدام برامج معينة تسمح بحركات مميزة تضاف لما تقدمه.

تعلم المهارة Learn the skill

بالإضافة إلى عمل العروض الصفية التقديمية باستعمال الحاسوب فإنك تحتاج إلى عدة أدوات، منها أدوات الصور التقليدية وبرامج الرسوم، وكذلك برامج تصميم الحركات الفنية، وأيضًا برامج التأليف والكتابة التي يجمع بعضها مع بعض لعمل متكامل. ومن المهم أن تعرف كيف تعمل هذه الأدوات، وطرائق استعمالها.

- في الغالب، يكون نقل الألوان والصور أفضل من نقل الكلمات وحدها. لذلك استعمل الطريقة المثلى لنقل تصميمك.
- كرر العرض الصفي أكثر من مرة.
- كرر العرض الصفي باستعمال الأدوات المتاحة لك.
- انتبه إلى الحضور، واستمر في انتباهك؛ لأن الهدف من استعمال الحاسوب ليس مجرد تقديم العرض، وإنما لتساعد الحضور على فهم النقاط والأفكار التي يتضمنها عرضك الصفي.

مهارات العروض الصفية Presentation skills

تطوير العروض الصفية المتعددة الوسائط

Develop Multimedia Presentations

معظم العروض الصفية تكون متحركة إذا احتوت على أشكال وصور وأفلام أو تسجيلات صوتية. تشمل العروض الصفية المتعددة الوسائط استعمال الصوتيات، وأجهزة العرض فوق الرأسية، والثلفاز، والحواسيب، وغيرها.

تعلم المهارة Learn the skill

- حدد النقاط الرئيسة في عرضك التقديمي الصفي، وأنواع الوسائط التي تفضل استعمالها لتوضيح هذه النقاط.
- تأكد من معرفتك باستعمال الأدوات التي ستعمل عليها.
- حضر العرض التقديمي الصفي باستعمال الأدوات والأجهزة عدة مرات.
- استفد من مساعدة مشرف المختبر لتشغيل أو توصيل الإضاءة لك، وكن حريصًا على عمل عرضك التقديمي بمشاركته.
- إذا كان ممكنًا فافحص الأجهزة حتى تتأكد من عملها بشكل جيد.



البلازما: جزء سائل من الدم يشكل أكثر من نصف حجم الدم، ويتكون معظمه من الماء.

البلعوم: أنبوب يمر خلاله الطعام والسوائل والهواء.

التبخّر: عملية يتحول فيها السائل إلى غاز.

التجمد: تغير حالة المادة من الحالة السائلة إلى الحالة الصلبة.

التركيز: كمية المذاب بالنسبة إلى كمية المذيب في المحلول.

التسامي: عملية تتحول فيها المادة الصلبة إلى غاز مباشرة.

التسخين: انتقال الطاقة الحرارية من جسم درجة حرارته أعلى إلى جسم درجة حرارته أقل.

التعادل: تفاعل حمض وقاعدة، وينتج عنه ملح وماء.

التغير الفيزيائي: تغير يحدث لشكل مادة دون تغير تركيبها.

التقنية: استعمال المعارف العلمية المكتسبة من خلال التفكير العلمي وحل المشكلات لتصنيع منتجات جديدة أو أدوات.

التكثف: عملية يتحول فيها الغاز إلى سائل.

التوتر السطحي: قوى غير متوازنة تؤثر في جزيئات سطح السائل.

الاتزان: يتحقق عندما يكون العدد النسبي للجزيئات في منطقة مساوياً لذلك العدد في منطقة أخرى.

الأجسام المضادة: بروتينات تصنع استجابة لمولد ضد محدد نتيجة الخلايا اللمفية المعروفة بالخلايا البائية.

الأحماض الأمينية: الوحدات البنائية للبروتينات.

الاستنتاج: النتيجة المستخلصة من الملاحظة.

الأمراض غير المعدية: أمراض لا تنتقل من شخص إلى آخر، ومنها السكري والسرطان.

الأمراض المعدية: أمراض ناتجة عن الفيروسات أو البكتيريا أو الأوليات أو الفطريات، وتنتشر من المخلوق المصاب أو من البيئة إلى مخلوق حي آخر.

الأملاح المعدنية: مواد غير عضوية تنظم العديد من التفاعلات الكيميائية.

الإنزيم: نوع من البروتينات يسرع معدل التفاعلات الكيميائية في الجسم.

الانصهار: تغير حالة المادة من الحالة الصلبة إلى الحالة السائلة.

أيون الهيدرونيوم: أيون تشكّل من اتحاد أيون هيدروجين وجزيء ماء.

البسترة: عملية تسخين السائل إلى درجة حرارة معينة، بحيث تقتل معظم البكتيريا فيه.

الغضلات: انشاءات إصبعية الشكل توجد في الأمعاء الدقيقة تزيد مساحة سطح الامتصاص في الأمعاء الدقيقة.

درجة الحرارة: متوسط الطاقة الحركية لجزيئات المادة.

الذائبية: كمية المادة التي يمكن إذابتها في ١٠٠ جرام من المذيب عند درجة حرارة معينة.

الراسب: مادة صلبة تخرج من المحلول بسبب تفاعل كيميائي.

الرقم الهيدروجيني: مقياس لحمضية أو قاعدية المحلول، وتدرج قيمه من صفر إلى ١٤، بحيث تكون المحاليل ذات الرقم الهيدروجيني ٧ متعادلة والأقل من ٧ حمضية والأكثر من ٧ قاعدية.

السائل: مادة حجمها ثابت لكن شكلها غير ثابت، تأخذ شكل الإناء الذي توضع فيه، ويمكن أن تتدفق من مكان إلى آخر.

الشريان: الأوعية الدموية التي تحمل الدم بعيداً عن القلب وتمتاز بجدرانها السميكة المرنة.

الشعيرات الدموية: أوعية دموية دقيقة تربط بين الشرايين والأوردة.

الصفائح الدموية: أجزاء خلوية غير منتظمة الشكل تساعد على تخثر الدم ويوجد في الملمتر المكعب الواحد ٤٠٠,٠٠٠ صفيحة دموية تقريبا.

التوربين: مجموعة من الشفرات التي يدورها البخار لتدير المولد في محطة طاقة.

الثابت: عامل يبقى على حاله دون تغيير خلال جميع مراحل التجربة.

الجسم المضاد: بروتين يصنع استجابة لمولد ضد محدد نتيجة الخلايا اللمفية المعروفة بالخلايا البائية.

العالب: أنبوب يصل بين الكلية والمثانة.

الحركة الدودية: حركة العضلات الملساء في جدار المريء، وهي تساعد على نقل الطعام في اتجاه المعدة.

حرارة: الطاقة الحرارية التي تنتقل من مادة درجة حرارتها أعلى إلى مادة درجة حرارتها أقل.

الحساسية: تفاعل جهاز المناعة بشدة ضد المواد الغريبة.

الحمض: مادة تطلق أيونات الهيدروجين H^+ ، وتنتج أيونات الهيدرونيوم عند ذوبانها في الماء.

الحويصلات الهوائية: مجاميع من الأكياس ذات جدران رقيقة تشبه عناقيد العنب توجد في نهاية الشعيبات الهوائية.

الخاصية الفيزيائية: خاصية للمادة يمكن ملاحظتها بحواسنا، دون تغيير أو محاولة تغيير تركيب المادة.

الغليظة الكهروضوئية: أداة تحول طاقة الإشعاع مباشرة إلى طاقة كهربائية.

العضلات اللاإرادية: عضلات تتحرك تلقائيًا ولا نستطيع التحكم في حركتها.

العلم: أسلوب دقيق لفهم العالم من حولنا.

الغاز: مادة ليس لها شكل أو حجم محددان؛ وتتحرك جزيئاتها بسرعة عالية في جميع الاتجاهات.

الفرضية: تخمين علمي عن كيفية ارتباط المتغيرات بعضها مع بعض.

الفيتامينات: مواد غذائية عضوية يحتاج إليها الجسم بكميات قليلة للنمو، وتنظيم وظائفه، والوقاية من بعض الأمراض.

القاعدة: مواد تستقبل أيونات الهيدروجين H^+ ، وتكوّن أيونات الهيدروكسيد عند ذوبانها في الماء.

قانون حفظ الطاقة: ينص على أن الطاقة يمكن أن يتغير شكلها، لكنها لا تفنى ولا تستحدث إلا بقدره الله تعالى.

قانون حفظ الكتلة: ينص على أن المادة لا تفنى ولا تستحدث إلا بقدره الله تعالى. ونتيجة لذلك فإن كتلة المواد قبل حدوث تغير فيزيائي أو كيميائي تكون مساوية لكتل المواد الناتجة بعد التغير.

القصبة الهوائية: ممر هوائي يصل بين الحنجرة والرئتين يتكون من حلقات غضروفية غير مكتملة.

القُصَبِيَّات الهوائية: أنبويان قصيران يوجدان في الجزء السفلي من القصبة الهوائية يدخل أحدهما إلى إحدى الرئتين، والآخر إلى الأخرى.

الضابط: معيار يستعمل في التجربة من أجل المقارنة.

الضغط: القوة المؤثرة في سطح ما مقسومة على مساحة هذا السطح.

الطاقة: المقدرة على إنجاز شغل أو إحداث تغيير.

طاقة الإشعاع: الطاقة التي يحملها الضوء.

الطاقة الحرارية: مجموع طاقة الوضع والطاقة الحركية لجميع جسيمات الجسم.

الطاقة الحركية: طاقة جسم بسبب حركته.

الطاقة الكهربائية: طاقة يحملها التيار الكهربائي.

الطاقة الكيميائية: طاقة مخزنة في الروابط الكيميائية.

الطاقة المتجددة: طاقة يتم التعويض عنها باستمرار.

الطاقة النووية: طاقة أنوية الذرات. وهي طاقة ناتجة عن انقسام بلايين أنوية ذرات اليورانيوم بتفاعلات الانشطار النووي.

طاقة الوضع: طاقة مخزنة في جسم نتيجة موضعه.

الطرائق العلمية: الإجراءات التدريجية والخطوات المنظمة لحل مشكلة علمية.

العضلات الإرادية: عضلات يمكن التحكم في حركتها.

مبدأ أرخميدس: قوة الدفع المؤثرة في الجسم تساوي وزن المائع المزاح من قبله.

مبدأ باسكال: ينص على أنه عند التأثير بقوة في مائع محصور، تنتقل الزيادة في الضغط إلى أجزاء المائع كلها بالتساوي.

المتغير التابع: المتغير أو الناتج الذي يُقاس في التجربة.

المتغير المستقل: العامل الوحيد الذي يغيّره المجرّب في التجربة.

المثانة: عضو عضلي مرن يخزن البول إلى حين إخراجهِ من الجسم.

المخلوط المتجانس (المحلول): مخلوط يحوي على مادتين أو أكثر خلطت بانتظام على المستوى الجزيئي دون أن يرتبط بعضها ببعض.

المحلول المائي: المحلول الذي يكون فيه الماء مذيبًا.

المحلول المشبع: المحلول الذي يحوي الكمية الكلية من المذاب التي يمكنه إذابتها في ظروف معينة.

المخلوط غير المتجانس: المخلوط الذي لا تمتزج فيه المواد بشكل منتظم.

المخلوط المتجانس: المخلوط الذي تمتزج فيه المواد تمامًا.

قوة الطفو: قوة تؤثر إلى أعلى في الجسم الموجود في مائع.

القوة الكهرومائية: استخدام الماء مصدرًا للطاقة؛ من أجل توليد الكهرباء.

الكاشف: مركب يتغير لونه باختلاف قيم الرقم الهيدروجيني pH عندما يتفاعل مع محاليل حمضية أو قاعدية.

الكثافة: كتلة الجسم مقسومة على حجمه.

الكربوهيدرات: مادة غذائية، وهي المصدر الرئيس للطاقة في الجسم.

الكيموس: سائل كثيف القوام يتج عن هضم الطعام في المعدة.

النزوجة: مانعة المائع للجريان.

اللمف: السائل النسيجي عندما ينتقل إلى الأوعية اللمفية، ويحتوي على الخلايا اللمفية بالإضافة إلى الماء والمواد المذابة.

المادة: كل شيء يشغل حيزًا من الفراغ وله كتلة.

المادة الصلبة: مادة لها شكل وحجم محددان، والروابط بين جزيئاتها كبيرة، وتتحرك جزيئاتها بالاهتزاز.

المادة النقية: المادة التي لها نفس الخصائص والتركيب، ولا يمكن تجزئتها إلى مواد أبسط بواسطة العمليات الفيزيائية.

الهيموجلوبين: جزيء يحمل الأكسجين لينقله من الرئتين إلى خلايا الجسم، ويوجد داخل كريات الدم الحمراء.

الوحدات الأنبوبية الكلوية (النفرونات): أنابيب ملتوية تشكل الوحدات البنائية والوظيفية للكلية وتتكون من تركيب كأسى الشكل وتركيب أنبوبي يُسمى القناة.

الوريد: الأوعية الدموية التي تحمل الدم في اتجاه القلب.

الوقود الأحفوري: مصدر من مصادر الطاقة تشكّل في القشرة الأرضية منذ ملايين السنين، ويشمل الفحم الحجري والنفط والغاز الطبيعي.

المذاب: المادة التي تذوب في مادة أخرى، وتبدو كأنها اختفت.

المذيب: المادة التي تذيب المذاب.

المصادر غير المتجددة: مصادر طبيعية، تنفذ أسرع من تجديدها، ومنها البترول والمعادن والفلزات.

المصادر المتجددة: أي مورد طبيعي يعاد تدويره أو يتجدد باستمرار.

الملاحظة: معلومات يتم الحصول عليها باستعمال الحواس.

المناعة الاصطناعية: المناعة التي يكتسبها الجسم عندما يحقن بالأجسام المضادة التي أنتجتها حيوانات أخرى.

المناعة الطبيعية: المناعة التي يكتسبها الجسم عندما يصنع أجساماً مضادة استجابة لولد الضد.

المواد الغذائية: مواد توجد في الطعام وتزود الجسم بالطاقة والمواد الضرورية اللازمة لنمو الخلايا وتعويض التالف منها.

مولد الضد: جزيئات معقدة لا تنتمي إلى الجسم.

المولد الكهربائي: الأداة التي تحول الطاقة الحركية إلى طاقة كهربائية.

النفط: مورد طبيعي غير متجدد، تكوّن من بقايا مخلوقات بحرية حية دقيقة طمرت منذ ملايين السنين في قشرة الأرض.

رؤية
VISION
2030
المملكة العربية السعودية
KINGDOM OF SAUDI ARABIA

