


أوراق عمل



مادة العلوم

الصف الثاني الابتدائي

الفصل الدراسي الأول



أ

و

ر

أوراق عمل



استعيني بالله أولاً - ابدئي بالبسملة - لا تنسعي في الإجابة - تأكدي أنك أجبت على كل الأسئلة

الصف : الصف الثاني الابتدائي المادة : العلوم اسم التلميذة :

الفصل الأول

أجيب عن الأسئلة الآتية :-

١- صلي بين العبارة الصحيحة والصورة المناسبة

١- الزهرة



٢- البادرة



٣- حبوب اللقاح



٤- البذرة



١	أتقن المعيار ١٠٠% ()	٢	أتقن المعيار من ٩٠% إلى أقل من ١٠٠% ()
٣	أتقن المعيار من ٨٠% - أقل من ٩٠% ()	٤	لم يتقن أقل من ٨٠% ()



استعيني بالله أولاً - ابدئي بالسلمة - لا تنسعي في الإجابة - تأكدي أنك أجبت على كل الأسئلة

الصف : الصف الثاني الابتدائي المادة : العلوم اسم التلميذة :


ضعي علامة (✓) امام العبارة الصحيحة وعلامة (x) اما العبارة الخاطئة:

- ١- البذرة هي جزء من النبات الذي يكون البذور والثمار. ()
- ٢- الزهرة هي نبتة صغيرة في بداية نموها ()
- ٣- حبوب اللقاح مسحوق يتكون داخل الزهرة يساعد على إنتاج البذور.
- ٤- الأكسجين هو الغاز الذي يتنفسه الإنسان والحيوان ليعيشا ()

٢- أكمل ما يأتي بكلمة مناسبة:

- أ..... جزء من النبات الذي يكون البذور والثمار.
ب..... نبتة صغيرة في بداية نموها.

٣- رتبي بالتسلسل الصور التالية بحيث تظهر دورة حياة نبات الفاصولياء باستخدام الارقام من ١ - ٤



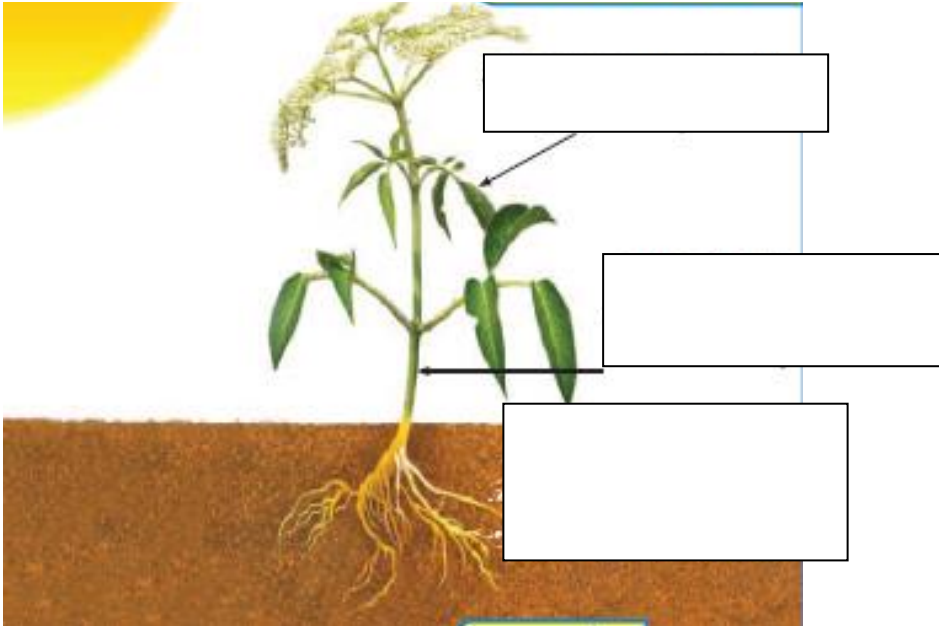
١	أتقن المعيار ١٠٠% ()	٢	أتقن المعيار من ٩٠% إلى أقل من ١٠٠% ()
٣	أتقن المعيار من ٨٠% - أقل من ٩٠% ()	٤	لم يتقن أقل من ٨٠% ()



استعيني بالله أولاً - ابدئي بالبسملة - لا تنسعي في الإجابة - تأكدي أنك أجبت على كل الأسئلة

الصف : الصف الثاني الابتدائي المادة : العلوم اسم التلميذة :

١- أكمل البيانات الناقصة



أكمل ما يلي

- ١- تبدأ دورة حياة النبات ب-----
- ٢- جميع البذور لها ----- تحميها من الجفاف
- ٣- تنتج الأزهار مسحوق يسمى-----

١	أتقن المعيار ١٠٠% ()	٢	أتقن المعيار من ٩٠% إلى أقل من ١٠٠% ()
٣	أتقن المعيار من ٨٠% - أقل من ٩٠% ()	٤	لم يتقن أقل من ٨٠% ()



استعيني بالله أولاً - ابدئي بالسلمة - لا تنسعي في الإجابة - فأكدي أنك أجبت على كل الأسئلة

الصف : الصف الثاني الابتدائي

المادة : العلوم

اسم التلميذة :

المفردات

الزَّهْرَة

دَوْرَة الْحَيَاة

حُبُوبُ اللَّقَاحِ

البُّدْرَة

بَادِرَة

الْأَكْسَجِين

أَمَلِ الْفَرَاغَ فِي كُلِّ مَنَ الْجُمَلِ التَّالِيَةِ بِالْكَلِمَةِ الْمُنَاسِبَةِ:

١- تُبَيِّنُ..... كَيْفَ يَنْمُو الْمَخْلُوقُ الْحَيُّ وَيَعِيشُ،
وَيُنْتِجُ الْمَزِيدَ مِنْ نَوْعِهِ، ثُمَّ يَمُوتُ.

٢- جُزْءُ النَّبَاتِ الَّذِي يُنْتِجُ الْبُدْرَةَ يُسَمَّى

٣- يُنْتِجُ النَّبَاتُ غَازَ..... عِنْدَمَا يَصْنَعُ غِذَاءَهُ.



٤- سَتَمُو هَذِهِ..... وَتَصِيرُ نَبَاتًا جَدِيدًا.



٥- الْمَسْحُوقُ الَّذِي تَحْتَاجُ إِلَيْهِ الْأَزْهَارُ لِإِنْتِاجِ
الْبُدُورِ يُسَمَّى

٦- تَمُو الْبُدْرَةُ وَتَصِيرُ نَبْتَةً صَغِيرَةً تُسَمَّى

١	أتقن المعيار ١٠٠% ()	٢	أتقن المعيار من ٩٠% إلى أقل من ١٠٠% ()
٣	أتقن المعيار من ٨٠% - أقل من ٩٠% ()	٤	لم يتقن أقل من ٨٠% ()



استعيني بالله أولا - ابدئي بالبسملة - لا تنسعي في الإجابة - تأكدي أنك أجبت على كل الأسئلة

الصف : الصف الثاني الابتدائي المادة : العلوم اسم التلميذة :

الفصل الثاني

أجيب عن الأسئلة الآتية:-

١- صل بين العبارة الصحيحة والصورة المناسبة



١- طائر



٢- حشرة



٣- ثديي



٤- يرقة

١	أتقن المعيار ١٠٠% ()	٢	أتقن المعيار من ٩٠% إلى أقل من ١٠٠% ()
٣	أتقن المعيار من ٨٠% - أقل من ٩٠% ()	٤	لم يتقن أقل من ٨٠% ()



استعيني بالله أولاً - ابدئي بالبسملة - لا تنسعي في الإجابة - تأكدي أنك أجبت على كل الأسئلة

الصف : الصف الثاني الابتدائي المادة : العلوم اسم التلميذة :

٢- صلي ما بين الصورة والكلمة التي تعرفها

الصورة	الكلمة		
	الأسماك	أ	١
	الطيور	ب	٢
	الزواحف	ت	٣
	البرمائيات	ث	٤-
	الثدييات	ج	٥-

١	أتقن المعيار ١٠٠% ()	٢	أتقن المعيار من ٩٠% إلى أقل من ١٠٠% ()
٣	أتقن المعيار من ٨٠% - أقل من ٩٠% ()	٤	لم يتقن أقل من ٨٠% ()



٣- : أكمل الفراغات بكلمات مناسبة:

- ١-.....-..... حيوان يغطي جسمه الشعر أو الفرو ويرضعي صغاره الحليب.
- ٢-..... حيوان يغطي جسمه الشعر أو الفرو ويرضعي صغاره الحليب.
- ٣-..... حيوان له ست أرجل وقرنان للاستشعار وغطاء خارجي صلب.

٤ : ضعي علامة (✓) امام العبارة الصحيحة وعلامة (x) اما العبارة الخاطئة:

- ١ -- البرمائيات فقاريات تغطي جسمها قشور وتعيش في الماء ()
- ٢ - الحشرة فقاريات تغطي جسمها قشور وتعيش في الماء ()

٥ - - صنفى هذين الحيوانين:



١	أتقن المعيار ١٠٠ % ()	٢	أتقن المعيار من ٩٠ % إلى أقل من ١٠٠ % ()
٣	أتقن المعيار من ٨٠ % - أقل من ٩٠ % ()	٤	لم يتقن أقل من ٨٠ % ()



استعيني بالله أولاً - ابدئي بالبسملة - لا تنسعي في الإجابة - تأكدي أنك أجبت على كل الأسئلة

الصف : الصف الثاني الابتدائي المادة : العلوم اسم التلميذة :

٦- رتبي ما يلي ليكون دورة حياة حيوان الماعز



٧- رتبي ما يلي ليكون دورة حياة الفراشة



١	أتقن المعيار ١٠٠% ()	٢	أتقن المعيار من ٩٠% إلى أقل من ١٠٠% ()
٣	أتقن المعيار من ٨٠% - أقل من ٩٠% ()	٤	لم يتقن أقل من ٨٠% ()



مراجعة الفصل الثاني

المفردات

أكمل كلاً من الجمل التالية بالكلمة المناسبة:

١ - الحيوانات التي تبدأ حياتها في الماء، وتمضي ببقية حياتها على اليابسة تُسمى حيوانات

٢ - الحيوان الذي يرضع صغاره الحليب، يُسمى

٣ - تُبين كيف ينمو الحيوان ويتغير.

٤ - الحيوان الذي له ستة أرجل وقرنا استشعار

وعطاء خارجي صلب يُسمى

٥ - الحيوانات التي تغطي أجسامها الحرشف، تُسمى

٦ - يُسمى صغير الفراشة

الحشرة

يرقة

برمائية

دورة الحياة

الثديي

الزواحف



٣ اتقن المعيار من ٨٠% - أقل من ٩٠% () ٤ لم يتقن أقل من ٨٠% ()



استعيني بالله أولاً - ابدئي بالبسملة - لا تنسعي في الإجابة - تأكدي أنك أجبت على كل الأسئلة

الصف : الصف الثاني الابتدائي المادة : العلوم اسم التلميذة :

الفصل الثاني

أجبي عن الأسئلة الآتية :-

١- صلي بين العبارة الصحيحة والصورة المناسبة



١ - السلسلة الغذائية



٢ - الفريسة



٣ - المفترس



٤ - الموطن

١	أتقن المعيار ١٠٠% ()	٢	أتقن المعيار من ٩٠% إلى أقل من ١٠٠% ()
٣	أتقن المعيار من ٨٠% - أقل من ٩٠% ()	٤	لم يتقن أقل من ٨٠% ()



استعيني بالله أولاً - ابدئي بالبسملة - لا تنسعي في الإجابة - تأكدي أنك أجبت على كل الأسئلة

الصف : الصف الثاني الابتدائي المادة : العلوم اسم التلميذة :

اكتب اسم الموطن من الكلمات الموجودة
(حار وجاف - عشبي ودافئ - عشبي ورطب - بارد وفيه ثلوج)



١	أتقن المعيار ١٠٠% ()	٢	أتقن المعيار من ٩٠% إلى أقل من ١٠٠% ()
٣	أتقن المعيار من ٨٠% - أقل من ٩٠% ()	٤	لم يتقن أقل من ٨٠% ()



استعيني بالله أولاً - ابدئي بالبسملة - لا تنسعي في الإجابة - تأكدي أنك أجبت على كل الأسئلة

الصف : الصف الثاني الابتدائي المادة : العلوم اسم التلميذة :

رتبي السلسلة الغذائية الآتية



١	أتقن المعيار ١٠٠% ()	٢	أتقن المعيار من ٩٠% إلى أقل من ١٠٠% ()
٣	أتقن المعيار من ٨٠% - أقل من ٩٠% ()	٤	لم يتقن أقل من ٨٠% ()



استعيني بالله أولاً - ابدئي بالسلمة - لا تنسعي في الإجابة - تأكدي أنك أجبت على كل الأسئلة

الصف : الصف الثاني الابتدائي المادة : العلوم اسم التلميذة :

المفردات

سلسلة غذائية

الفريسة

الموطن

المفترس

أكمل كلاً من الجمل التالية باستخدام الكلمة المناسبة:

- ١ - المكان الذي تعيش فيه المخلوقات الحية معاً يسمى
- ٢ - الحشرة في الصورة المقابلة هي
- ٣ - الطائر في الصورة المقابلة هو
- ٤ - الصورة التالية توضح جزءاً من



١	أتقن المعيار ١٠٠% ()	٢	أتقن المعيار من ٩٠% إلى أقل من ١٠٠% ()
٣	أتقن المعيار من ٨٠% - أقل من ٩٠% ()	٤	لم يتقن أقل من ٨٠% ()



الفصل الرابع

أجيب عن الأسئلة الآتية :-

١- صلي بين العبارة الصحيحة والصورة المناسبة



١- المنطقة القطبية



٢- الغابة



٣- الصحراء الحارة



٤- الغابة المطيرة

١	أتقن المعيار ١٠٠% ()	٢	أتقن المعيار من ٩٠% إلى أقل من ١٠٠% ()
٣	أتقن المعيار من ٨٠% - أقل من ٩٠% ()	٤	لم يتقن أقل من ٨٠% ()



مراجعة الفصل الرابع

المفردات

الغابة

الغابة المطرية

الصحراء

أكمل كلاً من الجمل التالية باستخدام الكلمة المناسبة:



١ - هذا الموطن الحار والجاف يُسمى



٢ - هذا الموطن يُسمى



٣ - هذا الموطن الكثير الأمطار هو

٣	أتقن المعيار من ٨٠% - أقل من ٩٠% ()	٤	لم يتقن أقل من ٨٠% ()
---	--------------------------------------	---	------------------------



استعيني بالله أولا - ابدئي بالبسملة - لا تنسعي في الإجابة - تأكدي أنك أجبت على كل الأسئلة

الصف : الصف الثاني الابتدائي المادة : العلوم اسم التلميذة :

٣- انسب كلا مما يأتي إلي بيئته

(صحراء حارة - صحراء باردة - غابة مطيرة - غابة)



١- أكمل الفراغات بكلمات مناسبة:

١-..... موطن تنمو فيه الأشجار جيدا بسبب نزول الأمطار وتوافر ضوء الشمس.

٢-..... موطن تسقط فيه الأمطار كل يوم تقريبا.

٣-..... موطن جاف أمطاره قليلة جدا.

٤-..... موطن حار جاف أمطاره قليلة جدا.

١	أتقن المعيار ١٠٠% ()	٢	أتقن المعيار من ٩٠% إلى أقل من ١٠٠% ()
٣	أتقن المعيار من ٨٠%- أقل من ٩٠% ()	٤	لم يتقن أقل من ٨٠% ()



استعيني بالله أولاً - ابدئي بالبسملة - لا تنسعي في الإجابة - تأكدي أنك أجبت على كل الأسئلة

الصف : الصف الثاني الابتدائي

المادة : العلوم

اسم التلميذة :

الفصل الخامس

اجب عن الاسئلة الاتية:-

١- صلي بين العبارة الصحيحة والصورة المناسبة



١- المحيط



٢- الماء العذب



٣- أشكال اليابسة

١	أتقن المعيار ١٠٠% ()	٢	أتقن المعيار من ٩٠% إلى أقل من ١٠٠% ()
٣	أتقن المعيار من ٨٠% - أقل من ٩٠% ()	٤	لم يتقن أقل من ٨٠% ()



استعيني بالله أولاً - ابدئي بالسلمة - لا تنسعي في الإجابة - تأكدي أنك أجبت على كل الأسئلة

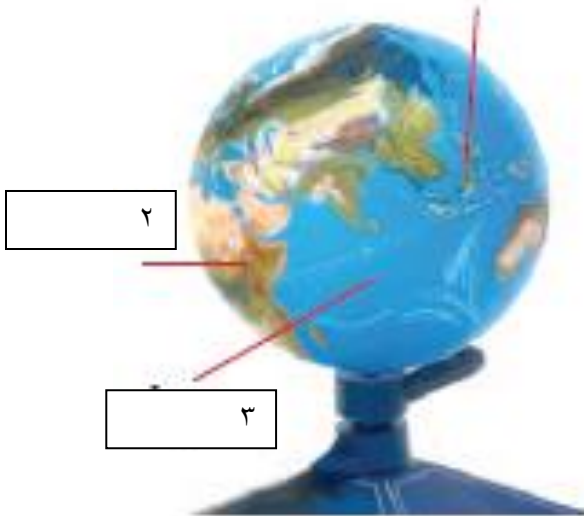
الصف : الصف الثاني الابتدائي المادة : العلوم اسم التلميذة :

صنفي كلا مما يأتي مستعينا بالكلمات بين القوسين
(سهل - جبل - تلال مرتفعة)



١ - أكمل ما يأتي من

1



١

٢

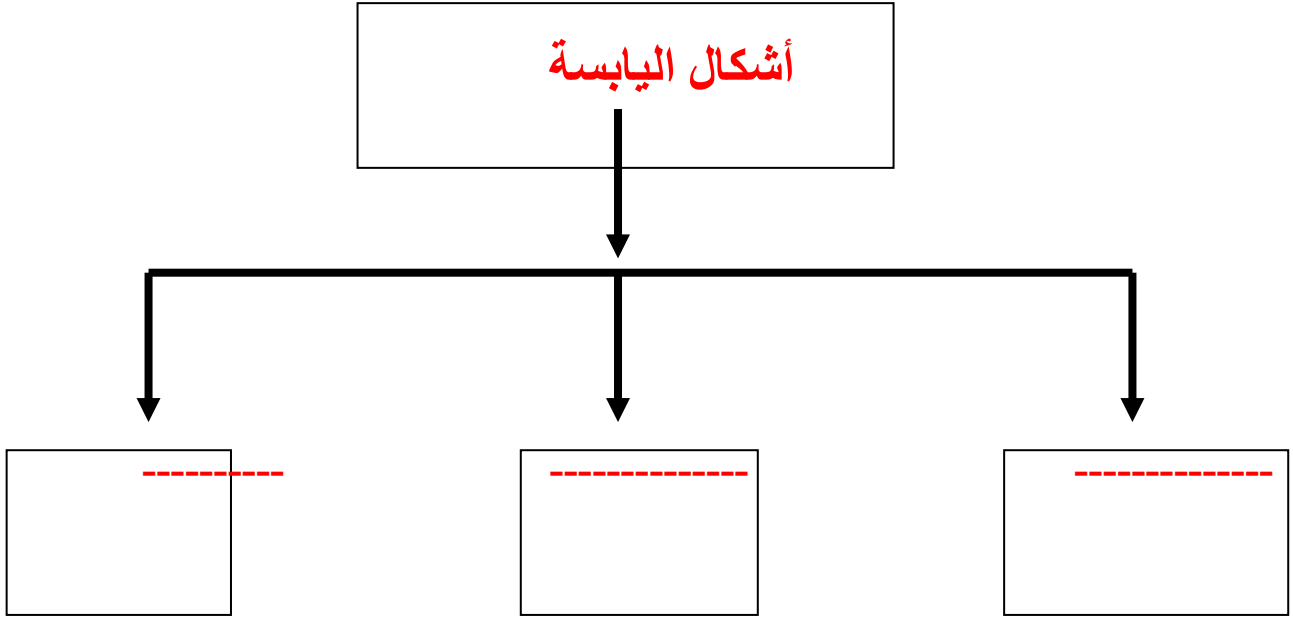
٣

١	أتقن المعيار ١٠٠% ()	٢	أتقن المعيار من ٩٠% إلى أقل من ١٠٠% ()
٣	أتقن المعيار من ٨٠% - أقل من ٩٠% ()	٤	لم يتقن أقل من ٨٠% ()



أكملي الشكل الاتي

أشكال اليابسة



المفردات

الجبال

الماء

المحيط

الثلال

أكملي كلاً من الجمل التالية باستخدام الكلمة المناسبة:

- ١ - التجمُّع الكبير والعميق من الماء المالح يُسمَّى
- ٢ - الجبال أعلى من
- ٣ - اللون البني في الخريطة يُبيِّن
- ٤ - المساحات الزرقاء على الخرائط تدلُّ على

١	أتقن المعيار ١٠٠% ()	٢	أتقن المعيار من ٩٠% إلى أقل من ١٠٠% ()
٣	أتقن المعيار من ٨٠% - أقل من ٩٠% ()	٤	لم يتقن أقل من ٨٠% ()



استعيني بالله أولاً - ابدئي بالبسملة - لا تنسعي في الإجابة - تأكدي أنك أجبت على كل الأسئلة

الصف : الصف الثاني الابتدائي المادة : العلوم اسم التلميذة :

الفصل السادس

أجيب عن الأسئلة الآتية :-

١- صلي بين العبارة الصحيحة والصورة المناسبة



١- الصخور



٢- التربة



٣- المعادن



٤- الموارد الطبيعية

١	أتقن المعيار ١٠٠% ()	٢	أتقن المعيار من ٩٠% إلى أقل من ١٠٠% ()
٣	أتقن المعيار من ٨٠% - أقل من ٩٠% ()	٤	لم يتقن أقل من ٨٠% ()



استعيني بالله أولاً - ابدئي بالبسملة - لا تنسعي في الإجابة - تأكدي أنك أجبت على كل الأسئلة

الصف : الصف الثاني الابتدائي المادة : العلوم

اسم التلميذة :

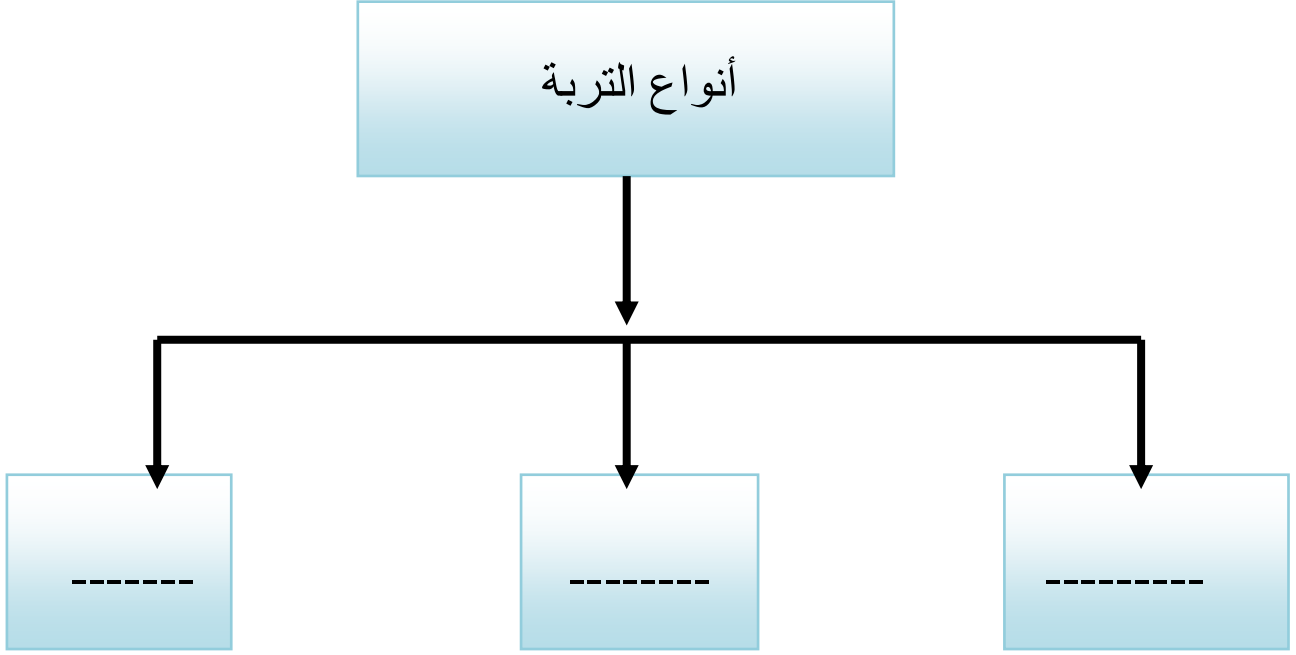
صلي ما بين اسم المعدن واستعماله



١	أتقن المعيار ١٠٠% ()	٢	أتقن المعيار من ٩٠% إلى أقل من ١٠٠% ()
٣	أتقن المعيار من ٨٠% - أقل من ٩٠% ()	٤	لم يتقن أقل من ٨٠% ()



أكملي الشكل الآتي



أكملي

١- تربة تحوي الكثير من بقايا النباتات والحيوانات المتحللة

٢- الطبقة العليا من التربة تسمى-----

١	أتقن المعيار ١٠٠% ()	٢	أتقن المعيار من ٩٠% إلى أقل من ١٠٠% ()
٣	أتقن المعيار من ٨٠% - أقل من ٩٠% ()	٤	لم يتقن أقل من ٨٠% ()



استعيني بالله أولاً - ابدئي بالسلمة - لا تنسعي في الإجابة - تأكدي أنك أجبت على كل الأسئلة

الصف : الصف الثاني الابتدائي المادة : العلوم اسم التلميذة :

١- ضعي علامة (✓) امام العبارة الصحيحة وعلامة (x) امام العبارة الخاطئة:

١- الموارد الطبيعية مواد من الأرض يستعملها الناس في حياتهم اليومية ()

٢- الصخور الأجزاء الصلبة غير الحية من الأرض ()

٣- المعادن خليط من فئات الصخور وبقايا النباتات والحيوانات الميتة ()

١	أتقن المعيار ١٠٠% ()	٢	أتقن المعيار من ٩٠% إلى أقل من ١٠٠% ()
٣	أتقن المعيار من ٨٠% - أقل من ٩٠% ()	٤	لم يتقن أقل من ٨٠% ()